

基隆市立武崙國民中學 104 學年度第一學期九年級歷史科段考試題

9 年 班 姓名：

一、選擇題 (1—35 題，每題 2 分；36—45 題，每題 3 分)

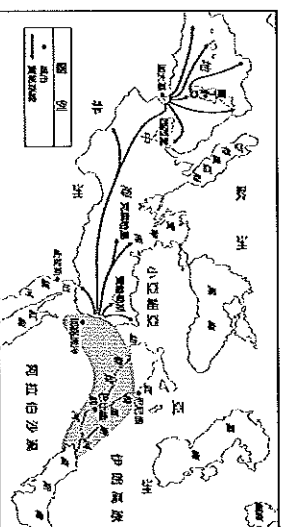
1. ( ) 西亞古文明中，蘇美人的城邦被巴比倫人所滅，而之後在此地又先後出現亞述民族和加爾底亞民族，顯示出外族入侵，政權更迭的頻繁性，請問：這種現象和何者最有關連？ (A) 地形平坦 (B) 氣候涼爽 (C) 四周環海 (D) 經濟衰敗。
2. ( ) 兩河流域地區因商業興盛，人民非常重视契約的簽訂，以保障自己本身的利益，古西亞地區著名且最完整的成文法典是漢摩拉比法典，這部法典是用哪一種文字記載？ (A) 象形文字 (B) 楔形文字 (C) 甲骨文 (D) 表音文字。
3. ( ) 我們通常將一個月分成四週，每週七天，這種一星期七天的制度從古西亞一直沿用至今。請問：哪一民族發展出一週七天的制度？ (A) 蘇美人 (B) 巴比倫人 (C) 加爾底亞人 (D) 亞述人。
4. ( ) 猶太人創立的猶太教，在宗教經典中記載猶太人是上帝的選民，並賜給他們一塊流著奶與蜜的土地。請問：猶太人口中流著奶與蜜的土地是指何處？ (A) 小亞細亞 (B) 巴基斯坦 (C) 巴勒斯坦 (D) 兩河流域。
5. ( ) 他帶領軍隊遠征高盧 (即今天法國)、不列顛 (今天英國)，並遠至埃及，為帝國帶來輝煌的成就，但最後卻慘遭暗殺。請問：描述的這位英雄是何者？ (A) 凱撒 (B) 君士坦丁 (C) 屋大維 (D) 狄奧多西。
6. ( ) 秦始皇建造兵馬俑，守護他的地下陵寢，而埃及的法老王也留下了金字塔，都顯現帝國的強盛富裕。請問：金字塔是哪一個時期最具代表性的文物？ (A) 古王國時期 (B) 新王國時期 (C) 帝國時期 (D) 中王國時期。
7. ( ) 古埃及與古老的中國非常相似，在文字方面最初都是使用象形文字。埃及後來發展出表音符號，經由哪一支民族改良後，傳至歐洲成為西方拼音文字的基礎？ (A) 巴比倫人 (B) 亞述人 (C) 腓尼基人 (D) 加爾底亞人。
8. ( ) 請問：古埃及人將屍體製成木乃伊與他們信仰的哪一個神祇有關？ (A) 太陽神 (B) 尼羅河神 (C) 阿努比斯神 (D) 濕婆神。
9. ( ) 印度的經濟快速崛起，被喻為金磚四國之一，但印度境內人們普遍仍有階級觀念，這主要是受阿利安人建立哪一宗教的影響？ (A) 婆羅門教 (B) 印度教 (C) 伊斯蘭教 (D) 佛教。
10. ( ) 印度境內信仰人口最多的宗教是印度教，請問：下列何者並「沒有」影響到印度教的創立？ (A) 婆羅門教 (B) 伊斯蘭教 (C) 印度民間信仰 (D) 佛教。
11. ( ) 波斯人建立歷史上第一個橫跨歐、亞、非三洲的大帝國，以下對波斯帝國的說明何者正確？ (A) 波斯人信奉一神信仰祇教，又叫拜火教 (B) 波斯人在波希戰爭中擊敗希臘城邦 (C) 波斯帝國發源自伊朗高原 (D) 波斯帝國後來被羅馬帝國消滅。
12. ( ) 希臘史學家希羅多德曾說：「埃及是尼羅河的贈禮」。而尼羅河不僅帶來肥沃的土地，也孕育了埃及科技上輝煌的成就。請問何項成就和上列敘述「無關」？ (A) 哲學 (B) 曆法 (C) 幾何學 (D) 測量。
13. ( ) 古印度的殘暴君主，在目睹一場殺戮的戰役之後，成為虔誠的佛教徒，在境內廣建佛塔，派高僧到四處弘揚佛法，請問這位高僧為何人？ (A) 玄奘 (B) 阿育王 (C) 古夫王 (D) 圖坦塔門。
14. ( ) 希臘在哪一個城邦的帶領下，擊敗外族保持了各城邦的獨立，被稱為「全希臘的學校」？ (A) 雅典 (B) 斯巴達 (C) 特洛伊 (D) 奧林匹亞。
15. ( ) 奇奇在圖書館借到一本希臘的文學作品，作品中描述特洛伊戰爭的英雄奧德賽，在戰爭結束後帶著他的部下們返回希臘城邦，卻因為得罪海神波賽頓而歷經 10 年才回到家鄉。請問：這部作品的作者是何人？ (A) 柏拉圖 (B) 希羅多德 (C) 阿基米德 (D) 荷馬。
16. ( ) 《歷史》一書主要在描述波希戰爭，作者寫作《歷史》的嚴謹態度，實事求是的精神，使《歷史》成為西方史學的經典之作，作者也因此被後世尊稱為「歷史之父」。請問：這位眼光遠大，胸襟恢宏的歷史學家是下列何人？ (A) 阿基米德 (B) 希羅多德 (C) 亞里斯多德 (D) 蘇格拉底。
17. ( ) 希臘城邦雖然能在外患入侵時，團結一致共同抗敵，但在擊敗外患後，城邦間的征戰不斷，鷸蚌相爭的結果，最後由哪一支民族趁機統一希臘城邦坐享漁翁之利？ (A) 羅馬人 (B) 波斯人 (C) 阿利安人 (D) 馬其頓人。
18. ( ) 奇奇到歐洲旅遊，導遊介紹了一座建造於西元前五世紀的建築，供奉著守護神雅典娜，並充滿和諧的美感，請問：這座後來成為希臘式建築藝術代表的是何者？ (A) 帕德嫩神廟 (B) 聖索菲亞大教堂 (C) 羅馬競技場 (D) 比薩大教堂。
19. ( ) 羅馬在歷史上曾有過一段光榮的時期，在他們國勢最強盛的時候，建立了一個地跨歐、亞、非三洲的大帝國。請問：在羅馬的哪一個時期就已將他們的疆域擴展至歐、亞、非三洲，羅馬人曾自豪的說「地中海是我們的海」？ (A) 王政時期 (B) 共和時期 (C) 帝國時期 (D) 新王國時期。
20. ( ) 希臘的哲學思想家著重在探討倫理道德與人生意義，最著名的有「希臘三哲人」他們的學說成為後世西方哲學的主要範疇。請問：下列何人「非」希臘三哲人？ (A) 希羅多德 (B) 亞里斯多德 (C) 柏拉圖 (D) 蘇格拉底。

21. ( ) 2016 年的奧林匹亞運動會將在巴西里約熱內盧舉辦，巴西總統親上火線，他告訴國際奧委會委員，過去奧運從未在南美洲舉辦，奧運應該是屬於所有人、各大洲及全人類的活動，成為獲勝關鍵。請問：奧林匹亞運動會最早起源於何地？ (A) 希臘 (B) 羅馬 (C) 西亞 (D) 埃及。
22. ( ) 最早被元老院獻上「奧古斯都」的尊號，使羅馬從此進入帝國時期的是哪一位君主？ (A) 凱撒 (B) 君士坦丁 (C) 屋大維 (D) 狄奧多西。
23. ( ) 在西方人們普遍信仰基督教，今日我們常見的長老教會、耶穌會等都是由基督教分裂出來的，下列有關基督教創立的經過，何者正確？ (A) 改革西亞地區的多神信仰而來 (B) 創立於西亞的巴基斯坦地區 (C) 西元一世紀耶和華創立基督教 (D) 聖經包括舊約和新約兩部分。
24. ( ) 亞歷山大在東征的過程中，在各地建立希臘式的城邦，鼓勵部屬與當地女子通婚，有助於不同民族間的文化融合，他的作法使他統治下的地區日後發展出不同於希臘文化的希臘化文化。請問：希臘化文化是融合哪些地區的文化而成？甲、希臘；乙、羅馬；丙、西亞；丁、印度；戊、埃及 (A) 甲乙丙 (B) 甲丙丁 (C) 甲丙戊 (D) 甲丁戊。
25. ( ) 羅馬帝國在西元三、四世紀國勢衰微，帝國在四世紀末正式分裂。分裂後的西羅馬帝國最後被哪一支民族所滅？ (A) 阿拉伯人 (B) 日耳曼人 (C) 土耳其人 (D) 匈奴人。
26. ( ) 關於《漢摩拉比法典》與《十二表法》的比較，下列敘述何者正確？ (A) 前者在埃及地區，後者在希臘半島 (B) 前者依罪犯身分不同而處罰有差別，後者已有保障公民權利的概念 (C) 前者為亞述人所創，後者為希臘人所創 (D) 兩者同為日後歐洲各國法律的淵源。
27. ( ) 民主政治是現代社會發展的主流，然在西元前五世紀左右，在希臘地區雅典城邦已有民主政治的出現，其民主精神仍為後世所取法。請問：以下哪一項並非「非」雅典民主的特色？ (A) 只有成年男性公民才有選舉權與參政權 (B) 用抽籤來選出參政者 (C) 選舉有嚴格的財產限制 (D) 發明陶片放逐法驅逐惡國獨裁者。
28. ( ) 羅馬人使用的文字，隨著帝國的擴張而傳至全國各地，在羅馬帝國滅亡，仍為西羅馬帝國所沿用，甚至成為整個中古歐洲的通用文字。請問：羅馬人使用什麼文字來書寫？ (A) 楔形文字 (B) 拉丁文 (C) 希臘文 (D) 象形文字。
29. ( ) 奇奇是位國三的學生，老師在複習社會科時常常強調，要能夠融合歷史、地理、公民三科目的整合。於是在段考中，老師出了一個題目：「這一個文明位在南歐的巴爾幹半島，瀕臨愛琴海，曾經是歐洲文明的起源，並且出現很多城邦，而其中有些城邦實施民主制度，有些實施軍國主義，城邦之間常常衝突不斷。」請問：這題的正確答案是何者？ (A) 羅馬 (B) 希臘 (C) 西亞 (D) 埃及。
30. ( ) 亞歷山大的東征，建立龐大的帝國，雖然這個帝國在他死後，立刻分裂但此後的三百年間發展出希臘化文化。下列有關希臘化文化的敘述，何者正確？ (A) 以哲學成就為突出 (B) 有助於東西方文化的交流 (C) 幾何原本曾在馬可波羅東來時傳達中國 (D) 歐幾里得發現浮體力學的原理。
31. ( ) 「羅馬不是一天造成的」、「條條道路通羅馬」，這些耳熟能詳的俗諺，驗證了羅馬城的建造與成就。請問：當羅馬帝國稱霸於西方時，東方正值中國哪個朝代？ (A) 周朝 (B) 秦朝 (C) 漢朝 (D) 唐朝。
32. ( ) 西方有句諺語說：「羅馬不是一天造成的。」羅馬人不僅發明了混凝土，並大量興建引水道、道路等公共設施，使當時羅馬成為一個結構宏偉而功能齊全的城市。這些建設成就最主要反映出羅馬文化具有下列哪一種特性？ (A) 重視人神關係 (B) 重視實用技術 (C) 重視哲學思辯 (D) 重視生態平衡。
33. ( ) 亞歷山大在征服的帝國中，以通婚來促進民族融合，而中國哪一位君主，也曾經提倡漢化政策，鼓勵通婚，有相同的貢獻？ (A) 漢武帝 (B) 唐太宗 (C) 武則天 (D) 北魏孝文帝。
34. ( ) 基督教、伊斯蘭教、佛教，並稱世界三大宗教。而這三大宗教都起源於哪一洲？ (A) 歐洲 (B) 亞洲 (C) 美洲 (D) 非洲。
35. ( ) 今天我們日常生活中使用的阿拉伯數字，因書寫方便逐漸取代其他的記數方法，為世界各地人們普遍使用，而阿拉伯數字實際上是印度人所發明的。而歷史上，歐洲人一度從阿拉伯人手中學到造紙術，而出現了「阿拉伯紙」的稱號，其實，卻是阿拉伯人在戰爭中從中國哪一朝代手中學習到的技術？ (A) 秦朝 (B) 漢朝 (C) 唐朝 (D) 宋朝。
36. ( ) 佛教是中國人普遍信仰的宗教，佛教的主張深深影響到中國人的日常生活及思想，下列有關佛教的敘述，何者正確？ (A) 佛教主張眾生平等 (B) 笈多王朝是佛教最盛行的黃金時代 (C) 佛教最早在唐朝就傳到中國 (D) 佛教現在是印度的國教。
37. ( ) 今日中東地區是世界動亂的根源之一，但我們若追究中東地區歷史的發展，可以發現中東在歷史上曾出現輝煌的西亞古文明。對照古今歷史發展請問，何者「錯誤」？ (A) 古西亞文明的精華區大都位在今天的伊拉克境內 (B) 小亞細亞的位置就是今天的土耳其 (C) 現在的以色列是由希伯來人所建立的國家 (D) 最近敘利亞造成嚴重的難民問題，而敘利亞有可能是古西亞人所居住的兩河流域。
38. ( ) 奇奇到埃及旅遊，除了參觀著名的金字塔及獅身人面像之外，也看到具有古希臘風格的神殿遺跡，這種風格的神殿建築會出現在埃及，與下列何者的關係最為密切？ (A) 蒙古西征 (B) 亞歷山大東征 (C) 地理大發現 (D) 羅馬帝國滅亡。
39. ( ) 中國元朝的種族政策、印度的種姓制度均將人民分為四個階級，各級的權利、身分、地位不同，社會大眾彼此有高低之分。請問：下列敘述何者錯誤？ (A) 兩者最低階的民眾在社會中備受歧視 (B) 種姓制度是阿利安人為維持血統純正而創

(C)元朝的種族政策將蒙古人的地位提升至最高  
(D)元朝因種族政策而加速國家滅亡，印度種姓制度則被民眾唾棄而今不再採用。

40. ( ) 奇奇在筆記本上寫到：「當時的學生用切斷的蘆葦桿，在柔軟的泥板上刻字，並用六十進位法進行計算，等泥板晒乾後，作業就完成了。」她應是描述上古時代哪一地區學生的上課情形？ (A)尼羅河流域 (B)兩河流域 (C)印度河流域 (D)黃河流域。

41. ( ) 附圖是早期西亞某個民族的航海貿易路線。根據圖中的內容判斷，這個民族應是下列何者？ (A)腓尼基人 (B)蘇美人 (C)加爾底亞人 (D)亞述人。



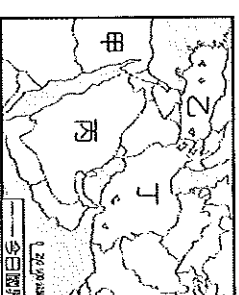
42. ( ) 老師在地圖上標示出世界四大古文明的位置，如圖，並要同學說出這些古文明的共同點。下列何人的說法正確？

- (A)阿昆：「古文明都位於亞洲。」
- (B)艾兒：「這些地區都曾使用陰曆。」
- (C)威威：「當時人們都具有一神的信仰。」
- (D)玉琪：「古文明都發源於大河流域。」

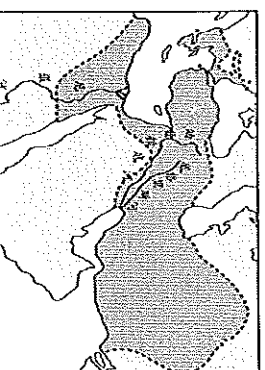


43. ( ) 右圖是世界上第一個橫跨歐亞非的大帝國，請問他起源於

圖中的哪一個區域？(A)甲區 (B)乙區 (C)丙區 (D)丁區。



44. ( ) 附圖是某一個帝國的疆域圖。在圖中可發現帝國的版圖橫跨數洲。請問：這是哪一帝國的版圖？ (A)波斯 (B)亞歷山大 (C)羅馬 (D)蒙古。



45. ( ) 關於西方文明大致的發源與擴張過程，下列哪一幅圖的表示內容較為正確？

