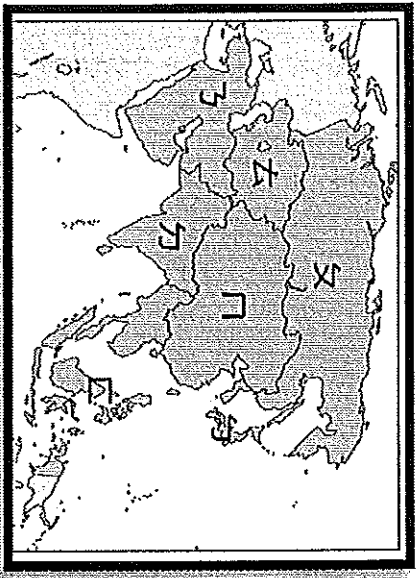


第一大題：選擇題，1~6 題，每題三分，其餘每題兩分

1. 中南半島的地形為中國何地的延伸？  
(A)橫斷山脈 (B)青藏高原 (C)天山山脈 (D)喜馬拉雅山。
2. 那一個海域，位於非洲、亞洲、歐洲三洲之間？  
(A)北海 (B)印度洋 (C)地中海 (D)大西洋。
3. 距離非洲最近的半島是哪一個？  
(A)義大利半島 (B)巴爾幹半島 (C)印度半島 (D)伊比利半島
4. 「位居歐、亞、非三洲的接觸地帶，自古即是駱駝隊商往來的必經之地，因交通、戰略地位重要，常受戰火波及，局勢十分不安。」以上敘述指的是附圖的哪一地區？  
(A)ㄇ (B)ㄎ (C)ㄉ (D)ㄊ。



5. 亞洲與歐洲是一相連的大陸，兩洲之間以下列何座山脈為分界？(甲)阿爾卑斯山 (乙)烏拉山 (丙)高加索山 (丁)庇里牛斯山  
(A)甲乙 (B)乙丙 (C)甲丙 (D)丙丁。
6. 耶路撒冷是三種宗教聖地，它目前在哪一個半島上？(A)印度半島 (B)義大利半島 (C)巴爾幹半島 (D)阿拉伯半島。
7. 印度半島的地形分布，由北到南依序是：  
(A)高山→高原→平原 (B)高原→高山→平原 (C)高山→平原→高原 (D)高原→平原→高山
8. 西亞的地形以高原為主體，其中哪個高原與非洲相連，後因紅海斷層陷落而分離，呈現半島型式？(A)伊朗高原 (B)阿拉伯高原 (C)阿富汗高原 (D)安納托利亞高原。

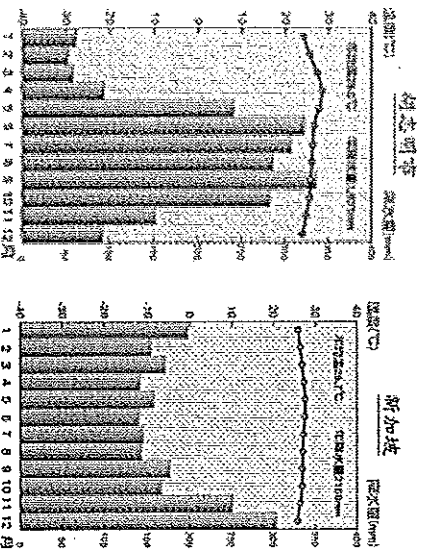
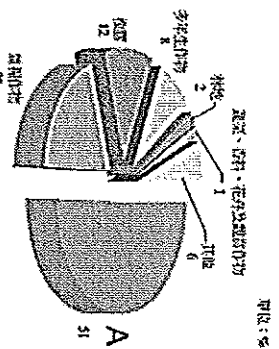
9. 東南亞地區冬夏的風向變化分別是？  
(A)冬↙，夏↗ (B)冬↗，夏↙ (C)冬↘，夏↖ (D)冬↖，夏↘。

10. 印度半島位於亞洲，它有「亞洲次大陸」之稱。這個稱呼是因為印度半島在下列哪一方面自成範圍？(A)水系 (B)氣候 (C)地形 (D)宗教。
11. 麥當勞目前於伊拉克設立全球第 30,000 家分店，但販售過程中「甲」套餐一直乏人問津。「甲」最有可能是下列哪種套餐？  
(A)麥香魚套餐 (B)勁辣雞腿堡套餐 (C)麥克雞塊套餐 (D)豬肉滿福堡套餐。
12. 美索不達米亞平原的土壤肥沃、水源充足，為古老的巴比倫文明孕育之地，素有肥沃月灣的稱呼，該平原主要分布於現在哪一國的疆域內？  
(A)阿富汗 (B)伊朗 (C)伊拉克 (D)土耳其。
13. 右圖為東南亞部分地區簡圖。請問：如日本擬在克拉地峽開鑿運河，往來於印度洋與南海的船隻約可縮短一千多公里的航程。若此一計畫實現，哪一個城市將大幅降低其重要性？  
(A)仰光 (B)曼谷 (C)新加坡 (D)胡志明市。

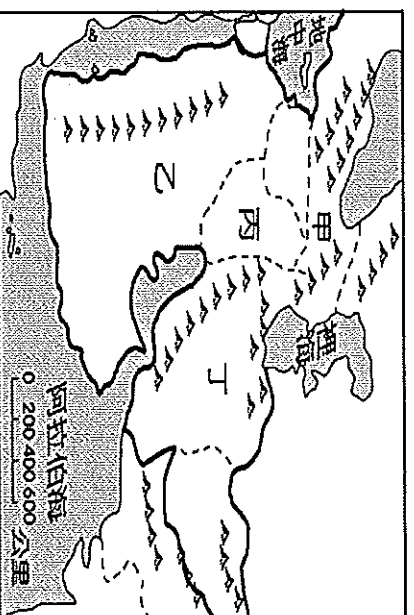


14. 近年來臺灣出現許多外籍配偶，若以文化習俗而言，哪一國的外籍配偶最受歡迎？  
(A)泰國 (B)越南 (C)印尼 (D)菲律賓。
15. 許多伊斯蘭教國家把穆罕默德的生日訂為國家定假日，全國均放假一天。而下列哪一個國家在當天仍須正常上班？ (A)緬甸 (B)印尼 (C)阿富汗 (D)馬來西亞。

16. 下列哪一個國家兼跨中南半島和南洋群島？  
 (A) 印尼 (B) 泰國 (C) 柬埔寨 (D) 馬來西亞。
17. 『印度半島族群眾多，各方對政治、經濟等看法本就不易統合。長久以來，半島上甲、乙兩國更為了水源分配、宗教差異、領土主權等問題，不惜武力相向，使南亞一直處於紛擾不安的狀態』。前文中的甲、乙兩國是指？  
 (A) 印度、孟加拉 (B) 斯里蘭卡、馬爾地夫  
 (C) 孟加拉、巴基斯坦 (D) 巴基斯坦、印度。
18. 西亞、中亞石油產國多，唯有哪一個國家的油管，直接到中國西部的阿拉山口？  
 (A) 科威特 (B) 哈薩克 (C) 敘利亞 (D) 伊拉克。
19. 下列有關南亞氣候特徵的敘述，何者正確？  
 (A) 11月至次年2月盛行東北風，氣候乾燥涼爽 (B) 3月至5月，氣候最為涼爽 (C) 6月至10月為一年之中最佳的季節 (D) 雨季盛行東北季風，洪澇災害頻繁。
20. 右圖是泰國農作物栽種面積圓餅圖，請問A作物為下列何者？  
 (A) 小麥 (B) 水稻  
 (C) 咖啡 (D) 黃麻。
21. 中亞乾燥氣候的形成原因，和下列哪一區比較類似？(A) 中國西北部 (B) 阿拉伯半島 (C) 印度西北部 (D) 非洲北部。
22. 下圖為東南亞胡志明市與新加坡當地的氣候圖。可發現兩地終年高溫，但新加坡的降雨較平均，造成此現象的原因為何？  
 (A) 緯度 (B) 經度 (C) 地形平坦 (D) 距海遠近。



23. 西亞自古紛爭不斷，請問下列何種紛爭原因是「錯誤」的？(A) 位置：歐、亞、非三洲的接觸帶 (B) 水源：以阿爭奪約旦河水源 (C) 宗教信仰：猶太教、基督教、伊斯蘭教三大宗教的發源地 (D) 資源爭奪：以阿爭奪石油利益。
24. 對於歐洲各區地形概述，下列何者正確？  
 (A) 南歐地形較為平坦 (B) 北歐火山地形發達  
 (C) 南歐多峽灣可以發展航運 (D) 平原多分布於西歐及東歐。
25. 東南亞呈現多元文化特徵的原因有 (甲) 地理位置 (乙) 歷史背景 (丙) 氣候溼熱 (丁) 島嶼眾多，以上「正確」的是？  
 (A) 甲乙 (B) 乙丙 (C) 丙丁 (D) 甲丁。
26. 右圖是西亞各區的簡圖，各區自然環境不同，因此形成不同的農業活動類型。有關西亞各區農業灌溉方式的敘述，何者最為正確？  
 (A) 甲—海水灌溉 (B) 乙—河水灌溉  
 (C) 丙—地下水井灌溉 (D) 丁—坎井灌溉。



27. 東南亞地區經歷長期的殖民統治，這種背景為東南亞帶來的影響可能有：(甲) 熱帶栽培業盛行 (乙) 人口集中於三角洲上 (丙) 都市建設重視港埠機能 (丁) 經濟發展著重島嶼觀光業。前述甲~丁選項中正確者為？  
 (A) 甲乙 (B) 乙丙 (C) 甲丙 (D) 乙丁。

**第二大題：題組題，每題兩分**

(一)關於下面這則新聞報導與地圖，請問：

美軍幫庫德族軍隊 奪回摩蘇爾水壩  
 伊拉克北部「庫德族」戰士在美軍戰機的支援下，力抗激進武裝組織「伊斯蘭國」的攻勢，並且奪回重要的基礎建設「摩蘇爾水壩」。一名庫德族

將領表示，水壩沒有受到破壞，運作正常。

奪佔伊拉克北部大片土地的武裝團體「伊斯蘭國」近日遭到庫德族戰士激烈抵抗，庫德族在美軍戰機轟炸的協助下，大幅減弱了「伊斯蘭國」的攻勢，並且奪回了這個月稍早被「伊斯蘭國」攻下的重要建設「摩蘇爾水壩」。

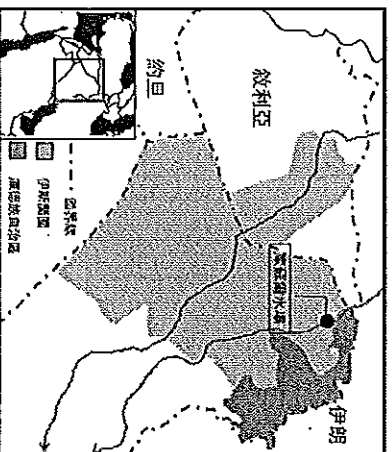
摩蘇爾水壩是伊拉克最大水壩，蓄水及發電量能供應全國大部分地區，庫德族部隊成功重奪水壩控制權，是對付伊斯蘭國武裝分子的重大勝利

美國記者 佛里報導 2014.8.17

28. 美國戰地記者佛里為傳達戰爭中民眾的聲音與境遇，身單力薄深入伊斯蘭國，在那裏他感到空氣極度乾燥，為此還常流鼻血。請問此氣候特徵的原因為何？(A)距海遙遠 (B)高壓壟罩 (C)地形封閉 (D)背西風。

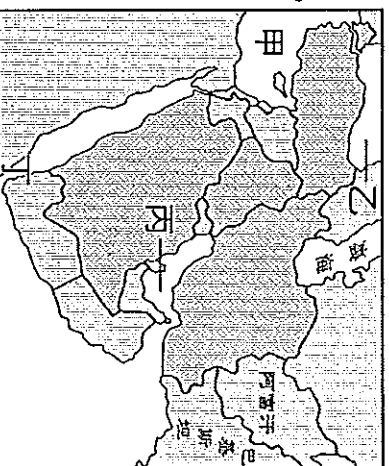
29. 美國戰地記者佛里在報導當地民眾的過程中發現，當地多數的房屋多為厚牆、窗小的特徵，請問：這種現象和下列哪一地理因素最有關係？(A)利於防禦敵人 (B)伊斯蘭教戒律 (C)隔熱阻絕風沙 (D)地震頻繁，穩定地基。

30. 根據下圖，若摩蘇爾水庫落入伊斯蘭國手中，亦即伊斯蘭國掌握哪一條河川？(A)底格里斯河 (B)約旦河 (C)幼發拉底河 (D)阿母河。




(二)巴斯卡受邀前往阿拉伯聯合大公國擔任觀光大使，並安排在當地的杜拜帆船飯店度假。請問：

31. 號稱全世界最豪華的七星級飯店，位在波斯灣的人工島嶼上，不論安全、設施、景觀、裝潢，甚至服務均讓人嘆為觀止。請問：此飯店應「接近」於附圖中的何處？(A)甲 (B)乙 (C)丙 (D)丁。

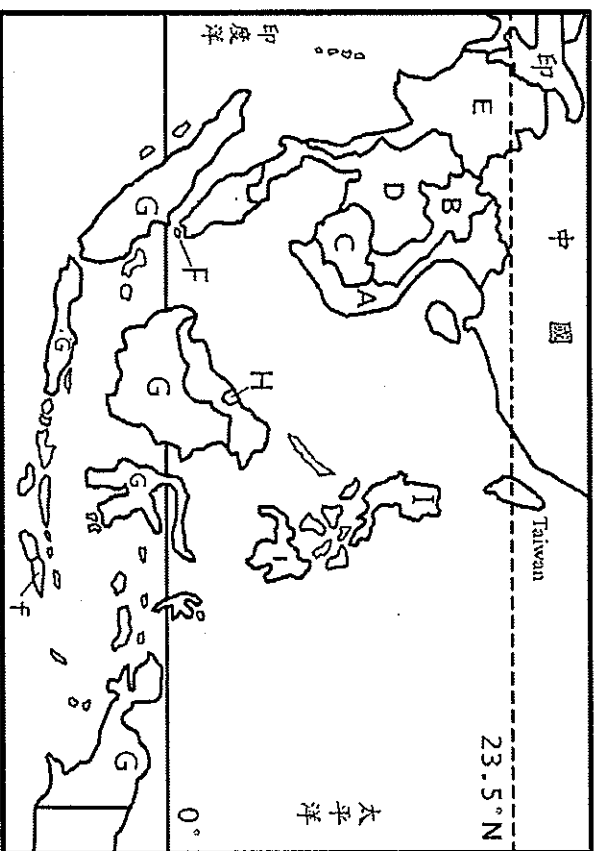


32. 若要到杜拜探訪當地風俗民情，巴斯卡衣著上最好參考下列哪一張圖，好適應當地的天候型態，也較能入境隨俗？



33. 杜拜從一個小漁村躍升為國際知名的度假勝地，每年吸引超過五百萬人次以上的遊客。請問：杜拜的經濟成長早期是依賴哪一項產業的發展？(A)國際貿易 (B)科技產業 (C)礦產出口 (D)農業資源。

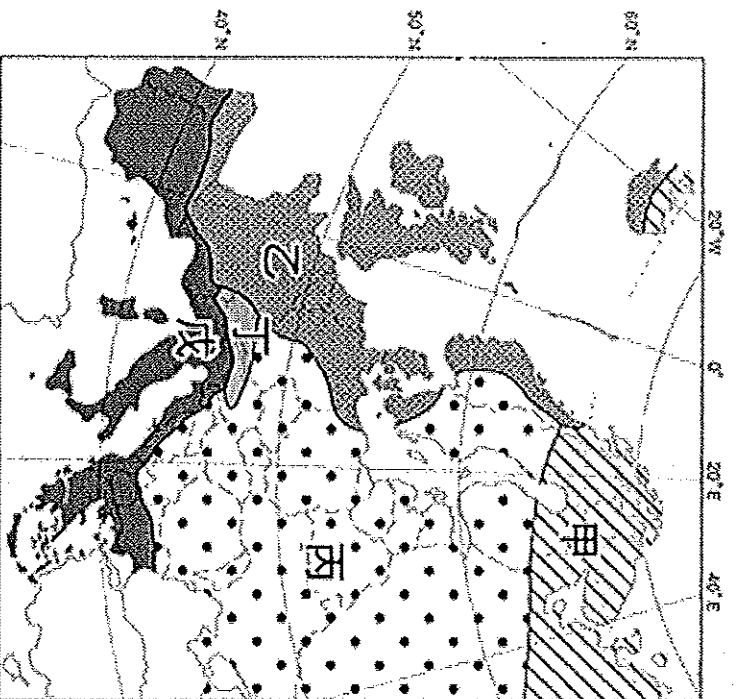
(五) 下圖東南亞國家分布圖，請回答下列各題。



34. 吳哥窟是中南半島某國的重要觀光文化遺產，內部精緻的石雕令人讚嘆，吳哥古跡被列為世界七大奇跡之一，這個千年古跡見證了當時燦爛的吳哥文化及高棉族最輝煌的時期，現在也為該國帶來許多觀光效益。請問為圖中的哪個國家？(A)A (B)B (C)C (D)D。

35. 飄飄是東南亞的華人，祖籍在福建，祖先因家鄉饑荒而移民海外，並被迫取了西班牙姓名；其後適逢政治變遷，學習了新統治者使用的英文，同時也學會了當地原住民的語言；他們因為注重傳統根本，所以幾代以來還會說華語，並保留中文姓氏。請問：飄飄應來自何處？(A)F (B)G (C)H (D)I。

(三)下圖為歐洲的氣候類型分布圖，請問：



36. 請問戊區最常見哪種農業景觀？  
(A)大規模種植橡膠、咖啡的大農場 (B)利用水車引河水灌溉農田 (C)利用坎井引水灌溉農地 (D)大片葡萄園、橄欖園。

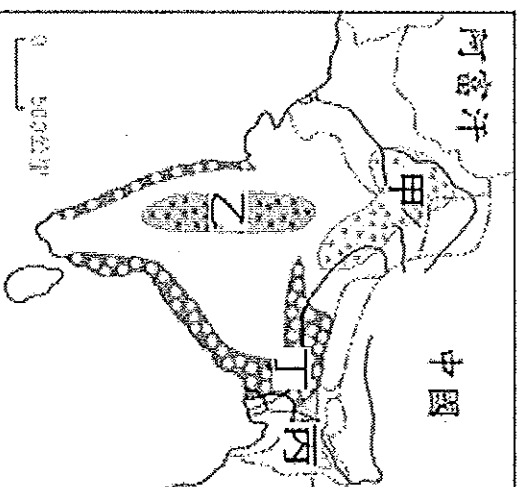
37. 請問歐洲『沒有』下列哪一種氣候類型？  
(A)寒帶氣候 (B)乾燥氣候 (C)海洋性氣候 (D)大陸性氣候。

38. 承上題，歐洲『沒有』此氣候類型的主要原因有：(甲)山脈東西走向 (乙)多半島、海灣 (丙)高壓壟罩 (丁)對流旺盛 (戊)西風吹拂。上述原因正確的是(A)甲乙丙 (B)乙丙丁 (C)丙丁戊 (D)甲乙戊。

(四)日本作家妹尾河童由南到北造訪印度十八個城市後，寫了「窺看印度」這本書，將遼闊的印度大陸所獨有的宗教、建築、文化、藝術、風土民情，奢華與赤貧同時並存的社會現象，一一呈現在讀者面前。而印度的面貌是什麼？你問一百個人會得到一百種說法。但就算把它們都加起來，也不能說那就是印度的全貌。這就是印度有意思的地方，隨著每個人感受方式不同，明明是同一事物看起來卻天差地別，印度也會隨對象而呈現或隱藏它的各種面貌，而且造訪者和印度氣味不相投也有關係……，到底會看到什麼，還真是因人而異呢。請問：

39. 妹尾河童在當地發現人民有著非常虔誠的宗教信仰，是印度地區信仰人口最多的宗教，請問：當地人民信仰的宗教為何呢？(A)婆羅門教 (B)佛教 (C)印度教 (D)伊斯蘭教。

40. 妹尾河童看到街上有許多迷你茶攤，茶攤內只有很簡單的茶罐、爐子和兩只小鍋，全是煮甜甜英式奶茶，請問印度盛產茶葉的原因除了過去英國殖民影響之外，還有怎樣的自然環境配合？(A)土壤、地形 (B)地形、西南季風 (C)位置、東北季風(D)洋流、地形。



41. 被尊稱為「印度之父」的甘地一生都為解放不可觸賤民而奔走，向世人提倡所有人都必須平等對待的思想，甘地二十七年來都是穿著和農民同樣的棉布衣，食物也跟貧民一樣，請問甘地棉布衣的原料產地位於上圖中何處？  
(A)甲 (B)乙 (C)丙 (D)丁。

42. 妹尾河童來到了德干高原上的邦加羅爾，聽房東說這裡可是印度高科技產業的重心，有一千多家高科技公司在邦加羅爾營業，包括IBM、惠普，印度軟體巨擘 Infosys 和 Wipro 也設在當地，經濟成長快速，下列何者為印度近年來軟體工業發展的主要優勢條件？  
(A)勞工質優價廉、英語溝通無礙 (B)原料充足，礦產資源豐富 (C)政府扶植大型企業，走向全世界 (D)人口眾多，消費市場廣大。

還有非選題喔，請繼續作答，加油！！

基隆市立武崙國民中學 104 學年度第一學期九年級第一次段考地理科考題目卷

班級	姓名	座號



非選	選擇	總分

第三大題：非選題，第一題每格一分，第二題每子題兩分

(一) 我們常常運用英文簡稱及簡單的符號來代表世界性的組織或物品標誌。附圖中的標誌代表什麼？

(中文及英文簡稱都要寫出)

題目	(1) 全世界某礦物的蘊藏量近 80% 都在該組織的會員國，例如沙烏地阿拉伯、伊朗、伊拉克。成立的宗旨在維護成員國的利益，控制產量與價格。	(2) 亞洲某區域的主要國家都加入此國家聯盟，成立目的主要是促進該地的經濟、社會、文化合作，會員成員有泰國，馬來西亞、印尼等十個國家。
英文簡稱	(一分)	(一分)
中文	(一分)	(一分)



(二) 鹹海曾名列世界上第四大湖，水源主要依賴阿母河跟錫爾河補給，但是 1960 年代蘇聯政府開始『○○計劃』讓鹹海的自然環境大幅改變。下圖是 1960 至 2001 年鹹海環境變遷的示意圖。請問：

1. 『○○計劃』中的『○○』為該地主要栽種的經濟作物，請問為何？  
\_\_\_\_\_ (兩分)

2. 由圖可看出這期間鹹海面積大幅縮小，造成這種現象的原因為何？  
\_\_\_\_\_ (兩分)

3. 到今日，該區除了湖泊面積縮小外，還有可能面臨哪些環境問題？請舉出一例  
\_\_\_\_\_ (兩分)

