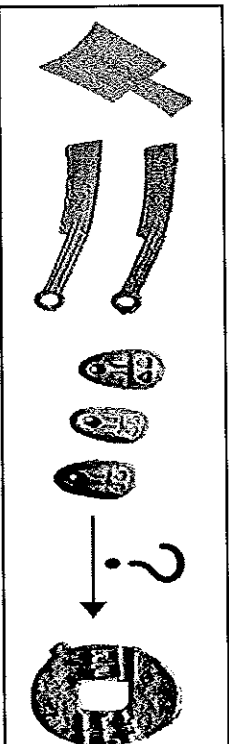


基隆市立武崙國中 104 學年度第一學期 第一次段考 八年級社會試卷—歷史科

電腦讀卡，請使用 2B 鉛筆，並依據題號在答案卡上作答，答案卡無法判斷身分者，扣總分 10 分

範圍：第三冊 L.1~L.2 本試卷共 40 題：第 1~20 題，每題 3 分；第 21~40 題，每題 2 分。總分 100 分

班級：_____ 座號：_____ 姓名：_____

1. 有關「燧人氏」、「伏羲氏」和「神農氏」等相關資料，我們可以把它歸類於下列何項的報告主題中呢？
(A)中國的遠古傳說 (B)敲敲打打的舊石器時代 (C)三代的發展與建立 (D)歷史上五帝的事蹟
2. 有關甲骨文的背景因素，下列敘述何者正確？ (A)因為商業發達，需要記帳 (B)因為敬畏鬼神，需要神問卜 (C)因為農業進步，需要登記土地所有權 (D)因為經常釀酒，需要記錄時間
3. 西周建國後大封諸侯，以鞏固統治基礎。請問：此種政治型態屬於下列何者？
(A)封建制度 (B)中央集權 (C)禪讓制度 (D)部落聯盟
4. 有關「西周的社會階級」相關敘述，下列何者正確？ (A)當時社會階級由上而下為貴族、平民、奴隸三個階級 (B)大夫為貴族階級中的最低階級 (C)農工商等人民屬於奴隸階級 (D)全國人民都適用禮樂制度
5. 世緯是一位西周時代的平民，他可能會有何種遭遇？ (A)從父親那裡得到一塊封地 (B)須為貴族耕種公田 (C)因禪讓制度，長大後成為諸侯 (D)靠經商致富，獲得貴族的頭銜
6. 考古學家在北京周口店發現了北京人的化石，震驚全世界，也證明中國乃是世界上人類發源地之一。在進行考古研究後，可以得知下列何者是北京人的生活方式？ (A)已懂得埋葬死者 (B)生活在距今兩萬年前左右 (C)使用磨製的石器 (D)住在天然洞穴中
7. 章丞說道：「在中國眾多的歷史人物中，我最欣賞堯、舜等人的事蹟，因為他們本身德行高節，並且為中國政治立下了良好的典範，值得後人仿效。」上文提及的典範為何？ (A)教導農民種植穀物 (B)開創世襲制度 (C)傳賢不傳子的政治型態 (D)發明指南車、文字等技術
8. 「中國地域廣大，各地的語言有所差異，所幸中國的文字是統一的，透過文字可以讓各地的溝通沒有障礙。」請問，中國的文字統一是下列何人的貢獻？ (A)商鞅 (B)劉邦 (C)嬴政 (D)王莽
9. 中共國家文物局歷經近 5 年的調查，認定中國歷代長城總長度為 21196.18 公里。這是中國首次科學、系統的測量歷代長城的總長度。請問：長城在中國史上具有何種主要功能？ (A)政治疆域的界線 (B)防止北方游牧民族的南侵 (C)中原各諸侯國的國界 (D)對外貿易的中心
10. 是中國貨幣演進示意圖。請問：圖中的「？」可用下列哪段文字資料來解釋？ (A)漢武帝推行專賣制度 (B)漢初時重新經營西域 (C)秦始皇鞏固統治的措施 (D)王莽主導進行改革運動
11. 自古以來，文字資料不是刻在龜甲上，就是記載於笨重的竹簡上，攜帶不易；而布帛雖輕柔，但是價錢太高。這些書寫方面的問題，在哪個朝代後，因造紙術的改良而得以解決？ (A)商代 (B)東周 (C)秦代 (D)東漢
12. 春秋戰國時期，諸子百家所提出的思想，以下配對何者正確？
(A)國君必須抱持著民貴君輕的態度，治國應以仁為本---道家
(B)國君應以連坐法組織民眾，並鼓勵大家努力於農耕及爭取戰功---法家
(C)國君不應隨便引起戰端，否則無辜的老弱婦孺都將成為犧牲者---儒家
(D)國君如果與百姓一起回歸到自然與純樸，天下也就沒有紛爭了---墨家

13. 一份資料中提到：「張角眼見各地疾疫流行，於是利用法術、咒語到處為人醫病，許多人喝下他的符水後，居然不藥而癒，他因此被奉為活神仙，各地信徒不斷增加。而後，他號召信徒推翻腐敗政府。」這份資料的主題為何？

(A)管蔡之亂始末 (B)楚漢相爭的過程與發展 (C)漢末的黃巾之亂 (D)犬戎之禍的影響

14. 漢武帝在位時推動多項政策，西漢國勢達於鼎盛。請問：下列何者並非漢武帝的政策？

(A)實施鹽、鐵、酒專賣 (B)獨尊儒家學術 (C)積極對外經營 (D)採取無為而治的政策

15. 一位史學評論家提到：「王莽在西漢末年篡位自立，但其理想性太高，許多政策無法落實，故新莽的政權可說是暴起暴落。」下列何者是導致其政權暴落的原因？ (A)推動土地國有政策，不符人民期待 (B)黃巾之亂爆發，無法控制社會秩序 (C)地方群雄割據，中央權力式微 (D)施行嚴刑峻法，不得民心

16. **右圖**是一幅中國某時期政治發展的示意圖，由圖中的內容可知，此圖的主題最可能為下列何者？ (A)秦末的政治發展 (B)東漢衰亡的原因 (C)新莽的建立與衰亡 (D)西漢初年的政治型態

17. 秦朝建立之後，在政治體制上推動「廢封建，行郡縣」的主要目的為何？

(A)建立地方分權的制度 (B)建立中央集權的體系 (C)奠定地方自治的基礎 (D)推動井田制度的實施

18. 「廢除肉刑」、「節儉自持」、「與匈奴和親」，以上都是漢初政治的特色，由此可判斷此時的統治政策是依循哪一家的思想觀念？ (A)道家 (B)儒家 (C)墨家 (D)法家

19. **右圖**是漢朝的疆域，當時漢朝會將疆擴展至甲區，主要是下列哪個因素的關係？

(A)平定黃巾之亂 (B)張騫出西域 (C)加強與各國的貿易 (D)擴張國家的領土

20. 「臺灣是一個地震頻繁的地區，地震常造成人們無辜喪生，使許多的家庭破碎。如果能預先測知地震發生的方位，也許可以減輕此種天災造成的傷害。」中國在何時便已經發明測知地震方位的儀器？ (A)西周 (B)東周 (C)西漢 (D)東漢

21. 下列有關夏朝的敘述，何者正確？ (A)已開始使用青銅器 (B)王位繼承採禪讓制度 (C)崇尚鬼神，利用龜甲進行卜筮 (D)最後一任君王是紂

22. 黃帝被尊稱為「中華民族的共同始祖」，留下許多膾炙人口的傳說。下列有關黃帝的傳說，何者是錯誤的？

(A)建立中國第一個朝代 (B)與蚩尤作戰時遭逢大霧，因而發明指南車來辨別方向 (C)受到各部落推舉，成為共主 (D)相傳在黃帝時期發明了文字、衣裳等

23. 809 班正在討論有關三皇五帝的相關事蹟，何者所言屬實？

(A)子堯：「神農氏教人鑽木取火，伏羲氏教人種植穀物。」

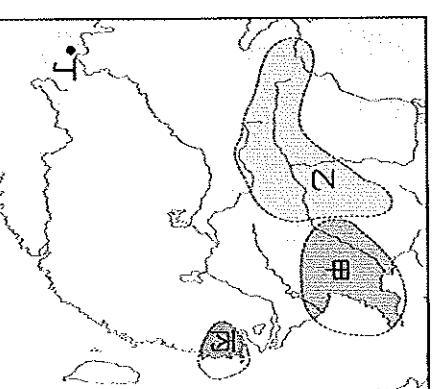
(B)仲婷：「五帝依序是顓頊、黃帝、堯、舜、禹。」

(C)志豪：「此時期的傳位方式尚屬於世襲的家天下局面。」

(D)孟儒：「此時期尚屬遠古傳說的年代，相關事蹟可信度不高。」

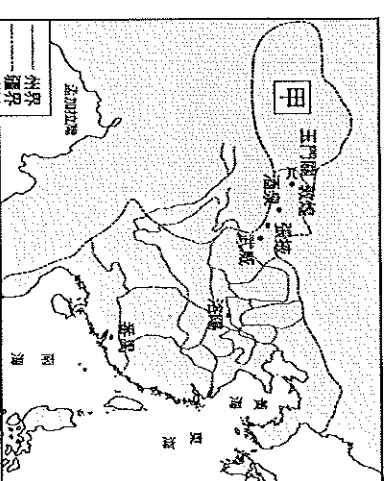
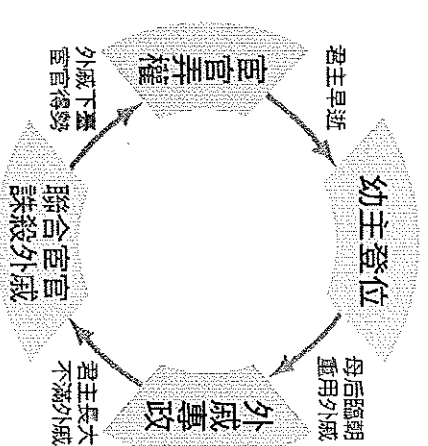
24. 依**右圖**所示，下列哪一選項所代表的文化位於長江流域下游，有干欄式建築與稻穀遺跡，顯示當時的農業有一定程度的發展，並推測當時人們已有定居的生活型態。

(A)甲 (B)乙 (C)丙 (D)丁

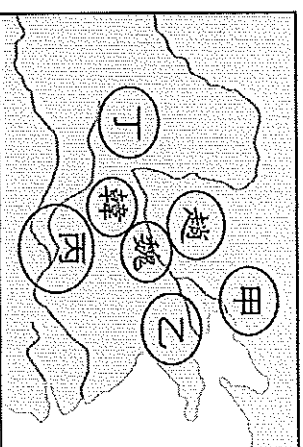


25. **承上題**，從圖中史前文明分布的情況來看，可以得到什麼的結論？ (A)史前文化時期已有國家體制的建立

(B)長江流域的史前文化僅限於舊石器時代 (C)中國的史前文明採多元並立的發展 (D)中國是世界文明的唯一起源



26. 有關商朝文化的特徵，下列哪一項說明錯誤？ (A)他們祭拜天神、地祇與人鬼 (B)商朝的君王凡事都要占卜 (C)商人祭祀祖先的習俗，後來成為中華文化的特色之一 (D)二里頭文化的出土，證實商朝文化的存在
27. 關於夏商周三代各自走向滅亡的原因，下列哪個敘述是正確的？ (A)夏朝末年，由於君王啟暴虐無道，而被商湯所擊滅 (B)商朝末年，紂王昏淫無道，使國力衰竭，周武王起而滅商 (C)西周末年，外族攻陷鎬京，殺周武王，西周滅亡 (D)西周滅亡後，周平王將首都遷往殷，是為東周
28. 子翔到故宮博物院參觀，他看到一個商朝前期的方形銅鼎，上面刻有威嚴的饗饗(傳說中一種貪食的凶獸)紋，作工細緻。他回去請教老師銅鼎所代表的意義，老師的答案可能有下列哪個？ (甲)作為宗教祭祀之用 (乙)作為權力的象徵 (丙)可用來區別身分地位 (丁)代表商朝高超的工藝技術 (A)甲乙丙 (B)甲丙丁 (C)乙丙丁 (D)甲乙丙丁
29. 秦朝最受後世批評的政策就是「焚書坑儒」。請問：秦朝所焚的「書」與所坑的「儒」，各是指下列何者？ (A)書：各國史書與詩書百家語。儒：儒生與方士 (B)書：各國史書與詩書百家語。儒：識字的人 (C)書：批評秦朝的書籍。儒：儒家學者 (D)書：醫藥、占卜與種樹之書。儒：方士
30. 漢朝是中國歷史上最為強盛的朝代之一，現今中華民族仍以「漢人」自稱。請問：關於西漢與東漢相關內容的比較，下列敘述何者正確？ (A)西漢的建國者是高祖劉秀，東漢的建國者是光武帝劉邦 (B)西漢的首都為長安，東漢的首都是洛陽 (C)西漢時班超打通絲綢之路，東漢時北匈奴被迫西遷 (D)西漢的張機著有《傷寒雜病論》，東漢的華佗被尊為「醫聖」
31. 漢朝在史學上的成就十分突出，其中《史記》與《漢書》更是傳誦千古的傑作。請問：關於《史記》與《漢書》的敘述，下列何者正確？ (A)《史記》由班固所著 (B)《漢書》是中國第一部紀傳體斷代史 (C)《史記》記載黃帝至東漢之間的歷史 (D)《漢書》首創紀傳體的體例
32. 關於西周與東周的建國與亡國之比較，下列敘述何者正確？ (A)東周最後是被齊國統一天下 (B)東周的建國者是周幽王 (C)西周的最後一位天子是因犬戎入侵而被殺 (D)周平王是西周的開創者
33. 「西周初年的統治秩序並不穩固，直到此事結束之後，才確立了周天子的統治權力，並使西周的勢力範圍得以擴張到黃河下游地區。」請問：此事指的是下列何者？ (A)強調周人凡事都以占卜為考量 (B)周公制禮作樂鞏固統治基礎 (C)周公東征平定亂事 (D)推動嫡長子繼承制
34. 中國有一句成語「朝秦暮楚」，意思是說韓、趙、魏等國處於秦、楚兩強之間，常見風轉舵，時而事秦，時而事楚。這句成語的背景應該是在哪一個朝代？ (A)夏朝 (B)商朝 (C)西周 (D)東周
35. 皓新正在編寫一齣歷史劇，其中有這樣的劇情：「井田制度崩解後，農夫們終於可以拿著農具辛勤耕種自己的土地，再藉由便利的交通，將農作物運到天子所在的國都進行交易；在城中還可見到不少商人販賣自己製造的各式物品。」請問，以歷史事實的角度觀察，皓新編寫的歷史劇內容，最可能是下列哪個時代？ (A)夏朝 (B)商朝 (C)西周 (D)戰國時代
36. 承上題，當時的農夫最可能使用哪一種最新材質的農具耕種？ (A)鐵器 (B)陶土 (C)青銅器 (D)石頭
37. 右圖是戰國時期形勢圖，關於圖中丁國的情形，下列敘述何者正確？ (A)官員提出合縱政策 (B)主張尊王攘夷 (C)齊桓公是此國重要領袖 (D)最後滅了其他六國




38. 以下各成語中的主角人物，哪一位的生活年代比嬴政晚呢？

- (A) 楚莊王「問鼎中原」的目的就是想取代天子統治天下的資格
- (B) 紂王生活驕奢淫逸，由「酒池肉林」一事便可得知
- (C) 項羽身處在「四面楚歌」中，漸漸地失去決一死戰的信心
- (D) 幽王因為經常「烽火戲諸侯」，使諸侯們不再相信他，最後導致外族入侵


39. (甲)劉秀復興漢室，是為光武帝 (乙)張角利用太平道發起黃巾之亂 (丙)王莽以外戚身分篡奪政權 (丁)明帝為恢復對西域的經營，派遣班超降服西域各國。請將上列史實敘述，依時間早晚選出最正確的排列：

- (A) 甲丙乙丁 (B) 乙甲丙丁 (C) 丙甲丁乙 (D) 丁丙甲乙


40. 以下四張圖片所表示的人物及時代特色，請依照時間順序排列出來：



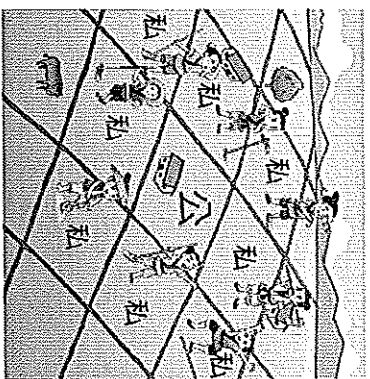
(甲)



(乙)



(丙)



(丁)

- (A) 甲丙乙丁 (B) 丙甲丁乙 (C) 乙甲丙丁 (D) 丁乙甲丙