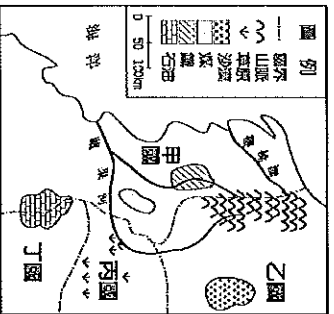


基隆市立武崙國民中學一〇四學年度第一學期第一次段考八年級地理科試題卷

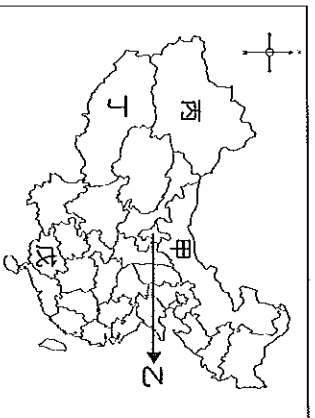
班級：八年\_\_班 / 座號：\_\_ / 姓名：\_\_

◆單選題，共 50 題，共 4 頁，每題 2 分，滿分 100 分

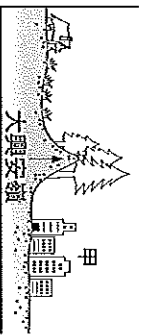
- ( ) 1. 為了行政管理上的需要，中國將國土畫分為若干個行政區，請問：中國共有幾個省級行政區？  
 (A) 4 個 (B) 5 個 (C) 22 個 (D) 33 個。
- ( ) 2. 承上題，下列何者的行政層級不屬於省級行政區？  
 (A) 西藏自治區 (B) 香港特別行政區  
 (C) 福建省 (D) 廣州市。
- ( ) 3. 中國自治區的設置，主要是考量何種因素？  
 (A) 面積大小 (B) 民族特性 (C) 地勢高低  
 (D) 人口多寡。
- ( ) 4. 附圖為四個國家的國界及資源分布圖。下列哪兩個國家最可能產生礦產資源上的衝突？  
 (A) 甲和乙 (B) 甲和丙 (C) 甲和丁 (D) 丙和丁。



- ( ) 5. 中國地勢西高東低，面向海洋的特色，對中國的西自然及人文環境有什麼影響？  
 (A) 主要大河向西流 (B) 利於暖溼氣流吹入內陸 (C) 人口集中西部 (D) 運河主要為東—西走向。
- ( ) 6. 史書記載新疆是在清代乾隆皇帝時，被收為中國版圖，這是一個有著少數民族居住，且生活習慣、風土民情與中國其他省份都不同的「新之疆域」，目前中國在當地設置自治區。上述地區應是附圖中哪一個行政區？  
 (A) 甲 (B) 乙 (C) 丙 (D) 丁。

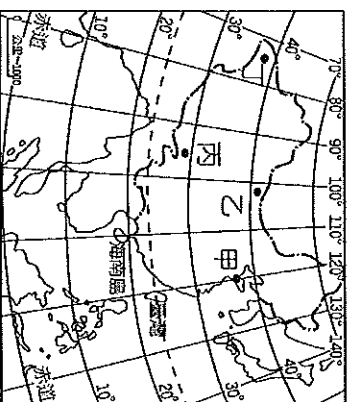


- ( ) 7. 附圖為大興安嶺及其兩側地形的剖面示意圖。圖中的甲地是中國緯度最高，面積最大的平原，由此推測，應是哪個平原？  
 (A) 東北平原 (B) 華北平原 (C) 長江中下游平原 (D) 珠江三角洲

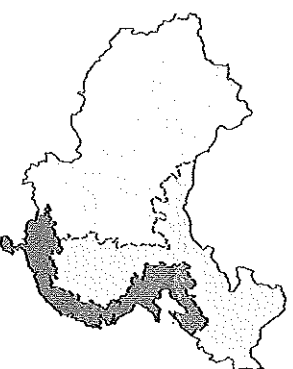


- ( ) 8. 小崙計畫暑假出國旅遊，他希望旅途中一方面能看到中國式的廟宇建築，一方面也能參觀葡萄牙留下的巴洛克風格教堂。若要滿足這些期望，他最好去下列哪一個地方？  
 (A) 香港 (B) 澳門  
 (C) 新疆 (D) 北京。

- ( ) 9. 中國領土遼闊，人們作息時間也不同，若依世界時區來畫分，當附圖中甲地的居民於早上 7 點鐘用餐時，丁地的居民應該正在進行下列哪項活動？  
 (A) 開始上班、上學 (B) 正享用午餐 (C) 結束工作下班回家 (D) 還在睡夢中。

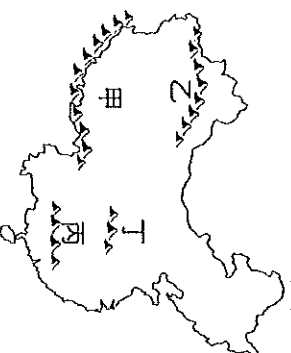


- ( ) 10. 在中國的直轄市中，何者不屬於「港口」都市？  
 (A) 北京市 (B) 天津市 (C) 重慶市 (D) 上海市。
- ( ) 11. 阿武在地理課中學到了中國的地理區劃，在課堂後他畫了一張簡圖，但不小心忘記了這張圖的劃分依據為何。請問：附圖的劃分依據應是下列何者？  
 (A) 地勢高低 (B) 人口分布 (C) 經濟發展  
 (D) 行政區面積大小。



- ( ) 12. 中國西半部的山脈，地勢高且地形崎嶇，多呈現東—西走向，如天山、崑崙山、喜馬拉雅山等。造成上述現象的原因為下列何者？  
 (A) 印澳板塊推擠歐亞板塊 (B) 太平洋板塊推擠歐亞板塊 (C) 中國地形呈現西高東低的趨勢 (D) 中國主要河川大多由西向東流

- ( ) 13. 第二十九屆奧運於西元 2008 年 8 月 8 日至 24 日在北京舉行。若北京奧運的開幕時間，初步訂於 8 月 8 日早上 8 時準時舉行。家住上海的小仲應於當日幾點收看精彩的電視現場直播？  
 (A) 早上 6 點 (B) 早上 8 點 (C) 早上 10 點 (D) 中午 12 點
- ( ) 14. 「秦嶺—淮河」是中國南、北方地理上的重要界線，秦嶺也是長江流域與黃河流域的分水嶺，附圖是中國境內重要山脈位置示意圖。圖中哪座山脈是指秦嶺？  
 (A) 甲 (B) 乙 (C) 丙 (D) 丁。



- ( ) 15. 「巴西是南美洲面積最大國家，也是距離中國最遠的國家之一，因巴西位於中國通過地球球心的對面。」依據上述及中國地理位置推測，巴西的位置在下列哪個地區？(A)東半球、南半球 (B)東半球、北半球 (C)西半球、南半球 (D)西半球、北半球。

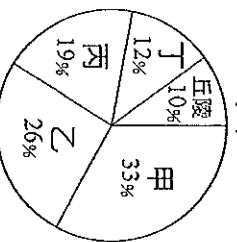
- ( ) 16. 位於大洋邊緣，前臨大洋、後為大陸的海域，我們稱之為何？(A)地中海 (B)大陸海 (C)海峽 (D)緣海。

- ( ) 17. 阿國參加「遼東半島六日遊」的行程，其中參觀大連這座現代化的港市，大連位於長白山的南端，背依中國東北腹地，素有「北方明珠」之稱。參觀行程結束後，導遊安排他們到臨海的海鮮餐廳用餐。樂天最有可能在大連當地看到下列哪種海岸景觀？



- ( ) 18. 河川會對地表進行侵蝕、搬運、堆積等作用。華北平原的出現是經由下列哪條河川，將黃土高原的泥沙搬運至下游地區堆積而形成的？

- (A)黃河 (B)淮河 (C)長江 (D)珠江。  
( ) 19. 附圖為中國五大地形面積比例圖，請問：圖中甲乙分指何種地形？(A)山地、高原 (B)平原、盆地 (C)高原、台地 (D)山地、盆地。



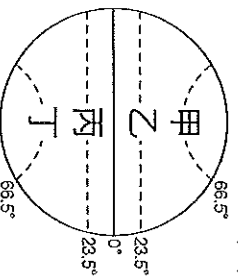
- ( ) 20. 阿國想在地圖上標示中國主要山脈，當他繪製位於東半部的長白山時，其山脈走向應為下列何者？



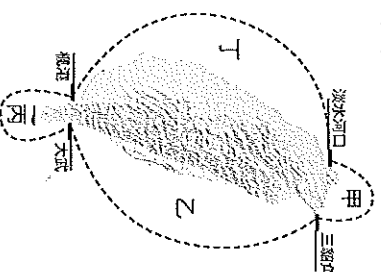
- ( ) 21. 下列中國地形，哪些位於「第一級階梯」？

甲、青藏高原；乙、柴達木盆地；丙、華北平原；丁、東南丘陵；戊、喜馬拉雅山；己、天山

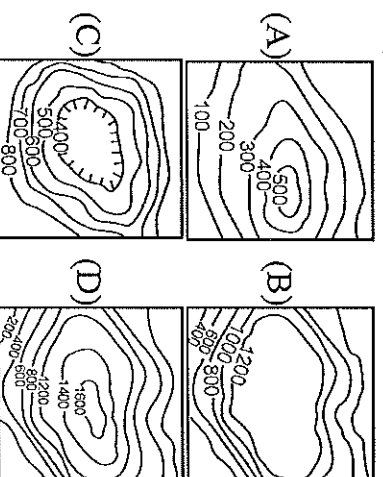
- (A)甲乙戊 (B)乙丙丁 (C)甲戊己 (D)丙丁己  
( ) 22. 附圖中哪條緯線經過中國領土，成為氣候分類的重要指標？(A)甲 (B)乙 (C)丙 (D)丁



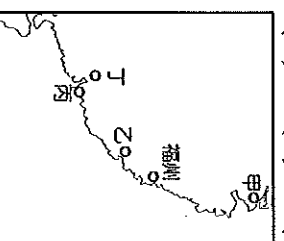
- ( ) 23. 「來自上海的中國觀光客到臺灣環島遊覽，他們發現臺灣部分海岸類型和長江中下游平原的海岸極為相似。」上文上海觀光客所描述的海岸最可能是右圖中的哪個區域？(A)甲 (B)乙 (C)丙 (D)丁。



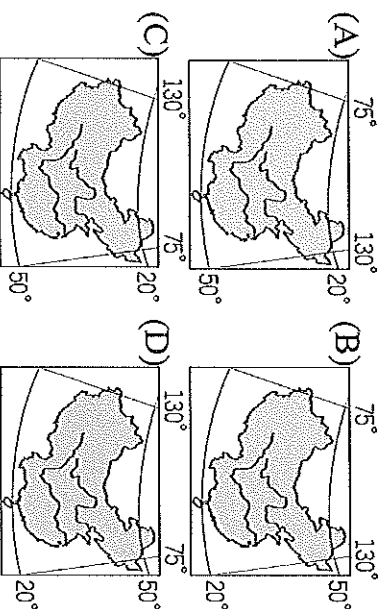
- ( ) 24. 中國地勢依高度的差異可以分為三級階梯。下列哪張等高線地形圖最可能位於第三級階梯？



- ( ) 25. 附圖是「臺灣和中國東南沿海的地理位置圖」。香港位於珠江口，港口條件優良，腹地廣大，為著名的轉口港。請問：香港位於圖中的何處？(A)甲 (B)乙 (C)丙 (D)丁



- ( ) 26. 阿武畫了一張中國疆域圖，並標示其經緯度。請問：下列哪一張地圖的位置最為正確？

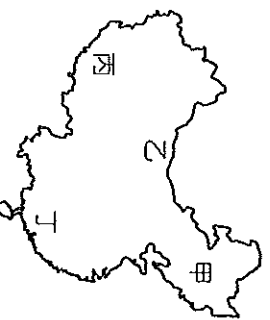


- ( ) 27. 中國流行的順口溜：「北京人說他風沙大，甲就笑了，甲說他面積大，新疆人就笑了，新疆人說他民族多，雲南人就笑了，雲南人說他地勢高，乙就笑了，乙說他古蹟文物多，陝西人就笑了……。」上述的甲、乙分別應是下列哪兩個行政區？(A)青海、香港 (B)廣西、寧夏 (C)重慶、澳門 (D)內蒙古、西藏。

- ( ) 28. 在北京工作的阿偉回憶起家鄉時表示，當地因為受到地形影響，居民大多開闢梯田來耕作，目的在於防止水土流失，當地農民經營的茶園，茶葉品質優良，深受外國人士所喜愛。阿偉最可能來自下列哪個地理區？(A)內蒙古高原 (B)東北平原 (C)東南丘陵 (D)塔里木盆地。

- ( ) 29. 若以中國和俄羅斯的疆域來互相比較，下列哪一項是中國比較不如俄羅斯的？  
(A)面積 (B)形狀 (C)緯度 (D)海陸位置。

- ( ) 30. 中國神舟一號太空火箭在空中飛行 21 小時後，打算找一個遼闊平坦、荒蕪人煙的地點降落，請問：太空船選擇降落的地點最可能是附圖何處？(A)甲 (B)乙 (C)丙 (D)丁。



- ( ) 31. 西元 2008 年 8 月 8 日奧運主場館舉辦地點位於北京市「鳥巢運動館」，請問：該運動館在附圖中何處？(A)甲 (B)乙 (C)丙 (D)丁。



- ( ) 32. 中國國界綿長，鄰國眾多，請問：下列何者是中國陸上的鄰國？甲、俄羅斯；乙、阿富汗；丙、日本；丁、巴基斯坦 (A)甲乙丙 (B)乙丙丁 (C)甲丙丁 (D)甲乙丁。

- ( ) 33. 中國地大物博，請問：位於歐亞大陸中心，並且是中國面積最大的省級行政區是下列何地？(A)西藏自治區 (B)四川省 (C)新疆維吾爾自治區 (D)內蒙古自治區。

- ( ) 34. 中國最大的沙漠「塔克拉玛干沙漠」，位於哪一個盆地之中？(A)塔里木盆地 (B)準噶爾盆地 (C)柴達木盆地 (D)四川盆地。

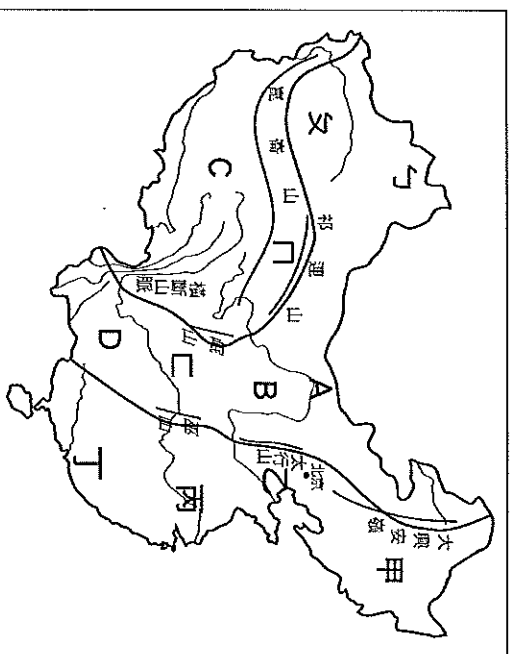
- ( ) 35. 中國的氣候多樣化，涵蓋熱帶、副熱帶、溫帶三個氣候帶，這和什麼現象的關聯最大？(A)國土東西很寬 (B)國土南北很長 (C)國土近似圓形 (D)陸上鄰國眾多。

- ( ) 36. 中國的四大平原，主要是由什麼作用力造成？(A)風力侵蝕 (B)河川侵蝕 (C)河川沖積 (D)風力堆積。

- ( ) 37. 赤壁之戰後，決定了魏、蜀、吳三分天下的局面，若以地理區域畫分，當時蜀（蜀漢）的根據地位於今日何處？(A)華北平原 (B)三江平原 (C)四川盆地 (D)長江三角洲。

- ( ) 38. 下列自治區與境內主要少數民族的配對，何者有誤？(A)西藏—藏族 (B)寧夏—回族 (C)廣西—苗族 (D)新疆—維吾爾族。

※附圖為中國地形分布圖，圖中甲~丁為平原，A~D 為高原，ㄅ~ㄿ為盆地。請回答下列問題：

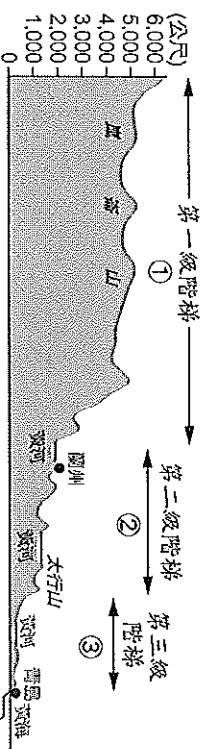


- ( ) 39. 「平原是由珠江沖積而成，其中廣州為該平原的水運樞紐，工商業發達。」請問上述的平原是指圖中何處？  
(A)甲 (B)乙 (C)丙 (D)丁。

- ( ) 40. 哪一高原有「豐富的石灰岩地形」，其特殊景觀利於發展觀光事業？(A)A (B)B (C)C (D)D。

- ( ) 41. 下列哪一個盆地，昔日交通不便，有「蜀道難，難於上青天」之嘆？(A)ㄅ (B)ㄾ (C)ㄿ (D)ㄽ。

※附圖為中國地形剖面圖。請問：



- ( ) 42. 附圖中的①、②、③應是中國哪三個地形區？

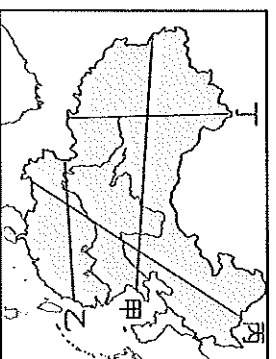
(A) 青藏高原、雲貴高原、珠江三角洲

(B) 青藏高原、黃土高原、華北平原

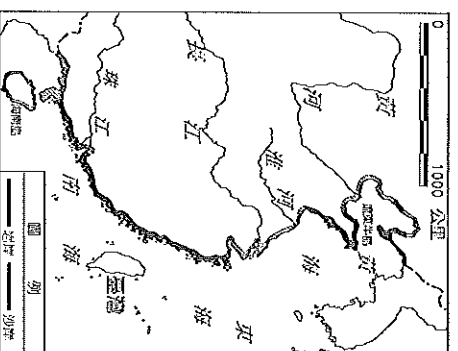
(C) 內蒙古高原、黃土高原、東北平原

(D) 內蒙古高原、雲貴高原、長江中下游平原

- ( ) 43. 附圖地形剖面圖最有可能是沿著圖(四)中的哪一條線繪製而成？(A)甲 (B)乙 (C)丙 (D)丁。



※附圖為中國沙岸和岩岸分布圖。請回答下列問題：

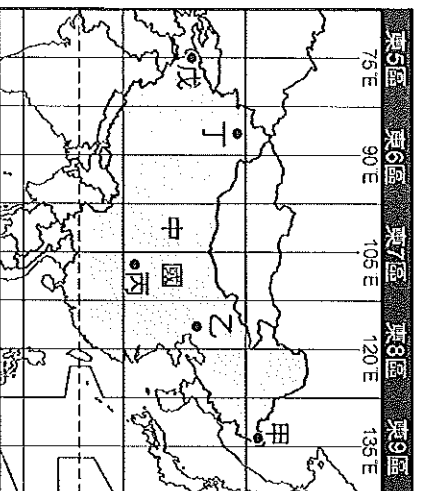


- ( ) 44. 從圖中可知中國海岸線類型，以哪裡為界？(A) 淮河出海口 (B) 山東半島 (C) 渤海灣 (D) 杭州灣。
- ( ) 45. 下列各項產業活動中，何者比較適合岩岸地形？(甲)捕撈漁業(乙)鹽業(丙)航運(丁)養殖漁業  
(A)甲乙 (B)乙丙 (C)丙丁 (D)甲丙。

※中國地勢的特徵是西高東低，可以分成三級階梯，每級階梯之間都有陡直的急降坡做分隔。請問：

- ( ) 46. 在第二級階梯中，下列哪一個地形區的農業活動最發達？(A)內蒙古高原 (B)黃土高原 (C)四川盆地 (D)雲貴高原。
- ( ) 47. 冰河地形最發達的是哪一級階梯？  
(A)第一級階梯 (B)第二級階梯 (C)第三級階梯。
- ( ) 48. 下列哪一項建設工程與中國地勢西高東低最相關？(A)長城 (B)三峽大壩 (C)跨海大橋 (D)京杭大運河。

※附圖為中國時區劃分圖。請問：



- ( ) 49. 根據全球時區的劃分，中國涵蓋圖中 5 個時區，主要是哪種因素造成？(A)緯度高低 (B)地勢起伏 (C)距海遠近 (D)經度差異。
- ( ) 50. 中國為了管理方便，統一以圖中何地所在的時區為標準時間？(A)甲 (B)乙 (C)丙 (D)丁。