

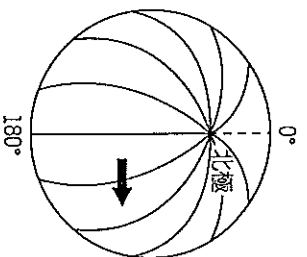
基隆市立武崙國民中學 104 學年度第一學期七年級地理科第一次段考

《本試題卷共 40 題，合計 4 頁》

班級：_____ 姓名：_____ 座號：_____

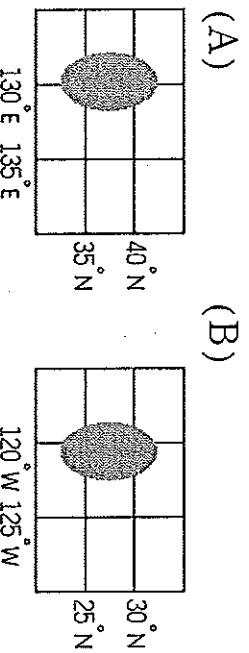
一、基礎選擇題，共 30 題，每題 3 分，共 90 分

- () 1. 無人偵察機正往圖中箭頭方向飛行，請問此機器正前往哪一半球？



- (A) 北半球 (B) 東半球
(C) 南半球 (D) 西半球

- () 2. 請問下列哪座島嶼的所在位置與台灣最為接近？



(C)

(D)

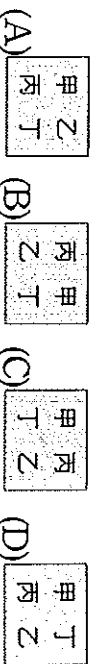
- () 3. 下列有關緯線的敘述，哪一項正確？

- (A) 最長的緯線是 0 度
(B) 0 度緯線又稱本初子午線
(C) 所有的緯線均交會於南北極
(D) 北緯、南緯最大度數為 180 度。

- () 4. 當你面對夕陽，雙手向左右平伸，左手所指的方向為何？

- (A) 東方 (B) 西方 (C) 南方 (D) 北方。

- () 5. 「甲坐在乙的西北方，丙坐在乙的西方，丁坐在乙的北方」。請解出「甲乙丙丁」的正確位置圖？



- () 6. 請問透過下列哪種地圖可以真實且即時的掌握風災前後地表景觀變化的狀況？

- (A) 衛星影像圖 (B) 地形剖面圖
(C) 分層設色圖 (D) 等高線地形圖

- () 7. 請問下列關於武崙國中位置的敘述是屬於『絕對位置』的概念？

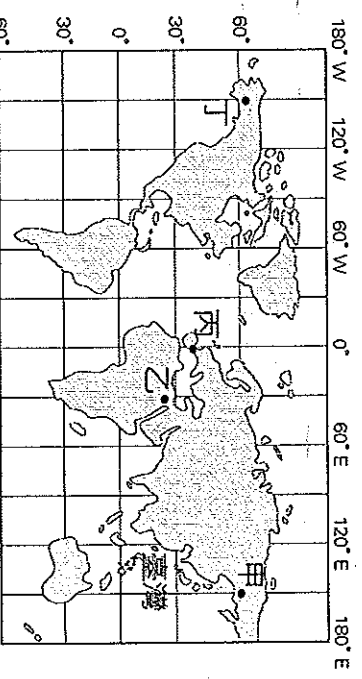
- (A) 武崙國小的上方
(B) 大武崙山坡地上
(C) 武嶺隧道的右側山上
(D) 基隆市武崙街 205 號

- () 8. 臺灣六個直轄市分別為

- (甲) 臺中市 (乙) 桃園市 (丙) 高雄市
(丁) 臺南市 (戊) 台北市 (己) 新北市。若由台灣西部自南搭火車北上將依序經過：

- (A) 丙丁乙甲戊己 (B) 丙甲丁戊乙己
(C) 丙丁甲乙己戊 (D) 丁甲丙戊己乙

- () 9. 住台灣的玉婷計劃寒假要到一個溫暖的都市旅遊，請問下圖四個都市，哪一個最適宜他前往？



- (A) 甲 (B) 乙 (C) 丙 (D) 丁

- () 10. 承第 9 題，玉婷暑假時前往丁地參與野生動物保育計劃，她搭乘台灣時間 10 月 15 日晚上 9 點的飛機，飛行時間為 16 小時，請問到達丁地時的當地時間為何？

- (A) 10 月 15 日早上 3 點
(B) 10 月 15 日晚上 7 點
(C) 10 月 15 日晚上 9 點
(D) 10 月 16 日早上 7 點

- () 11. 豐盛國地形分層設色圖主要以綠色為主，請問由此可以推斷出此國哪項地理特色？

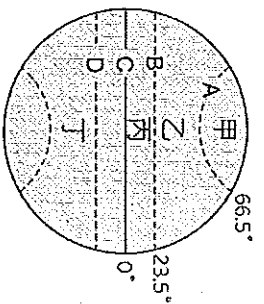
- (A) 物產豐富 (B) 人口眾多
(C) 森林廣大 (D) 地勢低平

() 12. 請問下列哪項主要因素會導致不同氣候帶有不同的氣溫特徵？

- (A) 海陸位置分布 (B) 距離太陽遠近
(C) 地表性質不同 (D) 太陽照射角度

() 13. 台灣因為有右圖哪

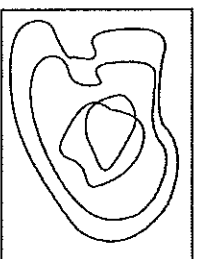
- 一條緯線通過，導致
南北分屬不同氣候帶？
(A) C，赤道
(B) B，北回歸線
(C) B，南回歸線
(D) D，本初子午線



() 14. 如果將一地的地形起伏，以一條曲線表示，垂直軸表示高度，水平軸表示距離，我們稱這種圖為？

- (A) 分層設色圖 (B) 衛星影像圖
(C) 地形剖面圖 (D) 等高線地形圖

() 15. 附圖是麗傑繪製的丘陵等高線地形圖，你認為圖中哪一點是錯誤的？

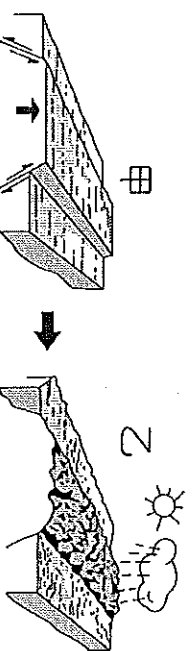


- (A) 等高線相交錯
(B) 等高線數量太少
(C) 等高線間距太小 (D) 等高線沒有閉合

() 16. 臺灣河川常見的河流地形有：
(甲) 沖積扇 (乙) 三角洲 (丙) 瀑布。
依出現比例較高判斷，由上游至出海口依序出現的順序為何？

- (A) 甲乙丙 (B) 丙甲乙
(C) 乙甲丙 (D) 丙乙甲

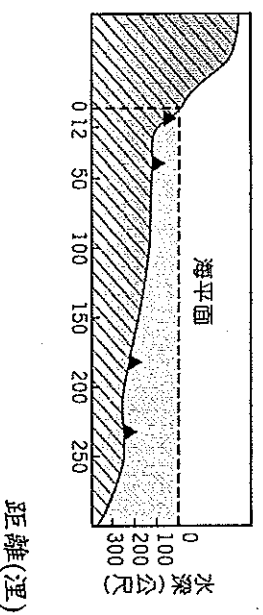
() 17. 附圖中，甲圖地形形成後，經由風和水媒介漸變為乙地形。請問：影響甲、乙地形面貌的主要營力分別為何？



- (A) 內營力、內營力 (B) 外營力、外營力
(C) 內營力、外營力 (D) 外營力、內營力

() 18. 附圖為某一國家沿海地形剖面示意圖，
▲記號為能源礦物分佈的位置。若依「領海及經濟海域」的劃分方式判斷，這個國家在本圖中擁有幾個礦區的開採權？

- (A) 1 (B) 2 (C) 3 (D) 4。



() 19. 台灣因位於哪兩個板塊的擠壓帶所以多火山及地震？

- (甲) 太平洋海板塊 (乙) 歐亞大陸板塊
(丙) 菲律賓海板塊 (丁) 印澳大陸板塊
(A) 甲乙 (B) 乙丙 (C) 丙丁 (D) 甲丁

() 20. 請將右圖的等高線圖，與其所代表的地形剖面圖配對？



- (C) (D)



() 21. 若要欣賞台灣的火山地形，可以前往下列哪個地點？

- (A) 清境農場 (B) 陽明山國家公園
(C) 阿里山風景區 (D) 拉拉山森林遊樂區

() 22. 小哲由宜蘭開車前往花蓮，沿途高山與深海相鄰，景色十分壯闊，請問此處的『高山』與『深海』分別為何？

- (A) 海岸山脈、臺灣海峽
(B) 海岸山脈、太平洋
(C) 中央山脈、臺灣海峽
(D) 中央山脈、太平洋

() 23. 請問下列哪項因素是台灣山脈呈現南北縱走的主要原因？

- (A) 多火山和地震 (B) 河川南北向流
(C) 板塊東西擠壓 (D) 位在海陸交界處

() 24. 請問甲、乙、丙三幅不同比例尺的基隆市地圖，在相同的圖面中，所涵蓋的範圍由小到大的依序為何？

- (甲) 1:10000 (乙) 1:5000 (丙) 1:2500
(A) 甲→乙→丙 (B) 丙→乙→甲
(C) 甲→丙→乙 (D) 乙→丙→甲

() 25. 關於台灣相對位置的敘述，下列何者正確？

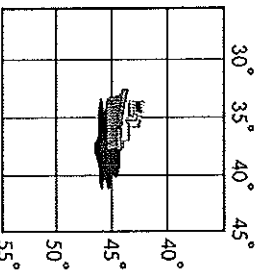
- (A) 日本的東南方 (B) 太平洋西方
(C) 菲律賓的南方 (D) 馬祖的東北方

() 26. 從臺南沿著高速公路北上到臺北，沿途會依序經過下列哪些地方？

- (甲) 桃園臺地 (乙) 宜蘭平原
(丙) 屏東平原 (丁) 苗栗丘陵
(戊) 大肚臺地 (己) 彰化平原。

正確的有哪些？ (A) 戊己丁甲 (B) 己戊丁甲 (C) 己戊丁甲乙 (D) 丙己丁戊乙

() 27. 如右圖所示，遠征號油輪發生嚴重漏油事件，若欲前往救援，請問該至下列哪一個位置？



- (A) 東經 35 度，南緯 45 度
(B) 東經 45 度，北緯 35 度
(C) 西經 35 度，北緯 45 度
(D) 北經 45 度，西緯 35 度

() 28. 在華納威秀影城看完電影的敏儀要前往中華電信申請手機門號，請問他該往哪個方向前進？

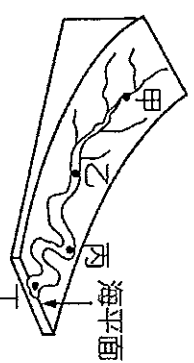


- (A) 東北方 (B) 西北方
(C) 東南方 (D) 西南方

() 29. 阿水壩參加了救國團太魯閣之旅，沿途充滿深峻峽谷、崖壁陡峭的壯麗奇觀。請問：形成此峽谷景觀的河川作用力為何？

- (A) 侵蝕作用 (B) 凍融作用
(C) 搬運作用 (D) 堆積作用。

() 30. 請問附圖中哪一個地區的堆積物顆粒最小、最圓滑？

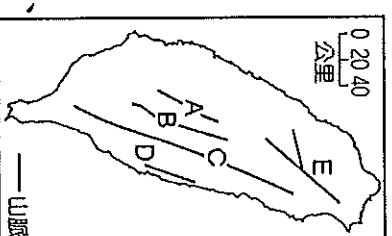


- (A) 甲 (B) 乙 (C) 丙 (D) 丁。

二、進階選擇題，共 10 題，每題 1 分，共 10 分

() 31. 附圖為臺灣五大山脈簡圖：(甲) 中央山脈

- (乙) 玉山山脈
(丙) 雪山山脈
(丁) 海岸山脈
(戊) 阿里山山脈，請依照 A、



B、C、D、E 的順序列出山脈名稱？

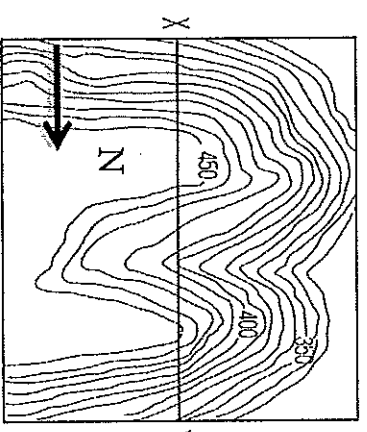
- (A) 戊⇒乙⇒甲⇒丁⇒丙
(B) 乙⇒戊⇒甲⇒丁⇒丙
(C) 戊⇒丙⇒丁⇒甲⇒乙
(D) 乙⇒丁⇒戊⇒甲⇒丙

() 32. 請問台灣河川的特色包含下列哪些？

- (甲) 短小流急 (乙) 南北流向
(丙) 下切旺盛 (丁) 富含水力
(戊) 有利於航運

- (A) 甲乙丙 (B) 甲丙丁
(C) 乙丙丁 (D) 丙丁戊

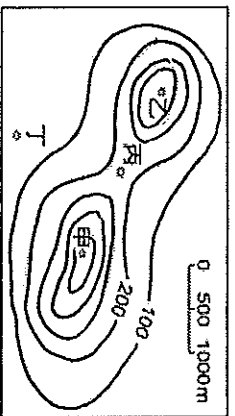
() 33. 附圖是某地區的等高線地形圖，請問：圖中的河流流向應為何種流向？



- (A) 東向西流
(B) 西向東流
(C) 北向南流
(D) 南向北流。

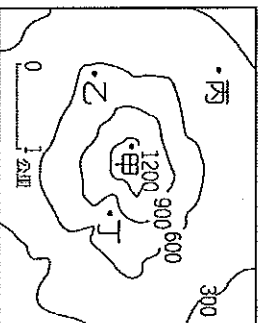
- () 34. 茜茜和立銘被指派分別駕駛飛機沿著地球東西向飛行一圈的任務，茜茜需沿著赤道飛行，立銘需沿著北回歸線飛行，若兩人同時完成任務，請問哪一位的飛行時速較快？(A)茜茜 (B)立銘 (C)時速相同 (D)無法繞行一圈。

- () 35. 右側等高線地形圖中，甲地的高度最有可能有多少公尺？



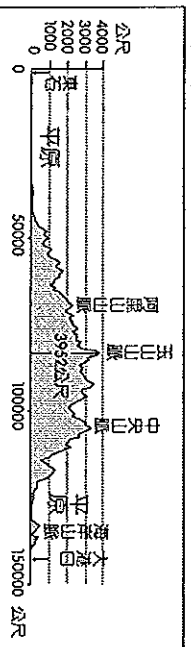
- (A)450 (B)500 (C)550 (D)600

- () 36. 請問下列四戶民宅哪一户因靠近溪谷，最容易於颱風來臨時受到土石流威脅？



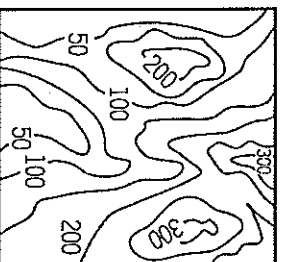
- (A)甲 (B)乙 (C)丙 (D)丁。

- () 37. 附圖為沿著經過臺灣的北回歸線所繪製的地形剖面圖，圖中的東、西兩側的平原分別為下列何者？



- (A)宜蘭平原、彰化平原
(B)嘉南平原、宜蘭平原
(C)花東縱谷平原、嘉南平原
(D)屏東平原、花東縱谷平原。

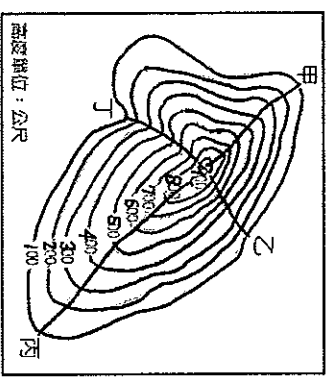
- () 38. 政府機關發布豪雨警報，疏散附圖中北方地勢最低窪地區的民眾往較高的南方地區避難，以免洪水來時危及生命。根據附圖等高線的分布狀況判斷，其方向標示應該為下列何者？



- (A) 北  (B) 北 

- (C) 北  (D) 北 

- () 39. 救國團辦理銀髮族踐行活動，願及老年人的耐力與體力，選擇坡度較為平緩的路線，請問右圖哪一條路線最為合適？



- (A)甲 (B)乙 (C)丙 (D)丁

- () 40. 請問下列哪一種等高線所示地形為台灣缺乏的？(A)甲 (B)乙 (C)丙 (D)丁

