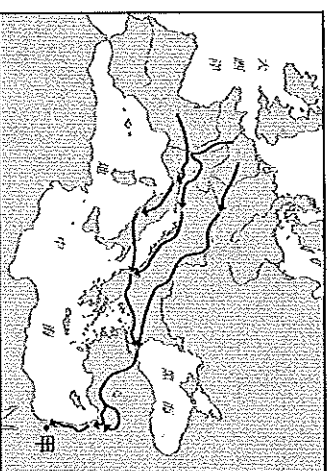


基隆市立武崙國民中學 104 學年度第一學期第二次段考九年級歷史科試卷

9 年 班 號 姓名：

※第一部分， 1—32 題，每題 2 分

- ( ) 西元八世紀末，某位君主征服各地，建立龐大的帝國，並信奉基督教，推廣拉丁文。這位君主是誰？  
(A) 查士丁尼 (B) 君士坦丁 (C) 查理曼 (D) 屋大維。
- ( ) 中世紀時，西歐實行封建制度，以下對這個制度的說明何者「有誤」？  
(A) 制度發源於日耳曼人有分封土地的習俗 (B) 制度建立在契約關係，領主必須保護附庸 (C) 此制度的衰敗和火藥傳入有關 (D) 此制度造成國王中央集權。
- ( ) 下列為曾橫跨歐亞非的大帝國，請依照建國時間順序加以排列？ (甲) 拜占庭帝國 (乙) 鄂圖曼土耳其帝國 (丙) 阿拉伯帝國 (丁) 羅馬帝國  
(A) 甲乙丙丁 (B) 乙甲丙丁 (C) 丁甲乙丙 (D) 丁甲丙乙。
- ( ) 歐洲在 11 到 13 世紀爆發十字軍東征，對歐洲歷史造成重大影響，以下對此戰爭的敘述何者是正確的？ (A) 發起者是拜占庭皇帝 (B) 目的是為了奪回聖城參加 (C) 攻擊對象是鄂圖曼土耳其人 (D) 是一場基督徒與伊斯蘭教徒的戰爭。
- ( ) 西元八世紀時，世上同時出現數個大帝國，而此時的中國唐朝口中的大食帝國，是指哪一帝國？ (A) 羅馬帝國 (B) 阿拉伯帝國 (C) 法蘭克王國 (D) 拜占庭帝國。
- ( ) 下列有關伊斯蘭教的敘述，何者為非？ (A) 伊斯蘭教崇尚偶像崇拜 (B) 伊斯蘭教發源於阿拉伯半島 (C) 穆罕默德以先知身分，宣揚阿拉為唯一真主 (D) 伊斯蘭教以《古蘭經》為經典。
- ( ) 日耳曼民族的遷徙導致西羅馬帝國滅亡，開啟了歐洲史上的中世紀時期。這段歷史和中國歷史上哪一外族的西遷有關？ (A) 匈奴 (B) 突厥 (C) 蒙古 (D) 契丹。
- ( ) 西元四世紀末羅馬帝國分裂為東西部，西元 476 年西羅馬帝國滅亡後，拜占庭帝國仍維持一千多年，政經情勢穩定，法律、藝術等方面均有傑出成就。關於中世紀西歐與拜占庭帝國的比較，下列何者正確？ (A) 經濟：西歐商業發達；拜占庭帝國以自給自足的莊園經濟為主 (B) 政治：西歐為諸國並立的狀態；拜占庭帝國為統一的政權 (C) 文化：西歐因土耳其民族入侵而使傳統文化飽受破壞；拜占庭帝國保存豐富的歐洲古典文化 (D) 宗教：西歐政教合一；拜占庭帝國政教分離。
- ( ) 中世紀時期，日耳曼人紛紛南遷並建立國家，下列關於其配對何者正確？ (A) 北非→東哥德王國 (B) 義大利半島→西哥德王國 (C) 法國北部→法蘭克王國 (D) 伊比利半島→汪達爾王國。
- ( ) 威廉要為學校「歷史之夜」的活動籌辦一齣戲劇，她想要以中世紀歐洲作為時代背景，因此上網找了一些資料如下。請問：威廉所找的资料中，何者正確？ (A) 甲乙丙丁 (B) 乙丙丁 (C) 甲乙丁 (D) 甲丙丁。  
(甲) 教士在修道院裡抄寫古經典  
(乙) 塞凡提斯用西班牙文撰寫描述騎士生活的文學作品  
(丙) 農民在莊園裡辛勤地耕種，卻沒有遷徙的自由  
(丁) 黑死病造成人口銳減
- ( ) 八世紀時阿拉伯人建立跨歐、亞、非三洲的帝國，在各方面都有優異的成就，以下哪一項是「有誤」的？ (A) 擅長經商航海，唐朝大港口廣州經常有阿拉伯人的足跡 (B) 發明了支票和阿拉伯數字 (C) 可以透過天方夜譚一書瞭解阿拉伯文化 (D) 將中國的造紙術西傳。
- ( ) 附圖為十二世紀左右，某場軍事行動的進攻路線圖，圖中的「甲」則為進攻的目的地。這場軍事行動最可能造成的影響是下列何者？ (A) 東西文化交流 (B) 成功奪回甲地 (C) 建立宗教寬容 (D) 封建制度瓦解。
- ( ) 中古西歐歷史上，查理曼和鄂圖一世都曾被教宗加冕，稱為「羅馬人的皇帝」，這有何意義？ (A) 這是日耳曼人的建國傳統 (B) 代表教會權力大於世俗君主 (C) 顯示政權分裂無法統一 (D) 代表教會必須為君主服務。
- ( ) 遊客到聖索菲亞大教堂參觀，發現教堂內的文物主要以希臘正教與伊斯蘭教為主。請問：這是因為土耳其經歷哪兩個政權的統治，才出現這種特色？ (A) 羅馬帝國、阿拉伯帝國 (B) 西羅馬帝國、拜占



- 庭帝國 (C)拜占庭帝國、鄂圖曼土耳其帝國 (D)阿拉伯帝國、鄂圖曼土耳其帝國。
15. ( ) 中世紀時的歐洲陷入混亂的局面，各國為爭私利導致烽火連天，如查理曼與查士丁尼大帝般有為的君主誠屬難能可貴，在內政、外交上均有建樹。關於兩人的比較，下列敘述何者正確？ (A)查理曼編有法典，成為後世歐洲各國法律的基础 (B)查士丁尼任內致力於基督教的推廣、拉丁文的使用 (C)兩人去世後帝國均面臨分裂的局面 (D)兩人在位時期均為該國疆域最廣的時期。
16. ( ) 十三世紀末的三次蒙古西征令歐洲人聞風喪膽，蒙古大軍所向披靡、燒殺甚劇，歐人以「黃禍」稱之。然而蒙古西征對後世的影響卻是多層面的，不能單以一軍事行動視之。請問下列何者正確？ (A)壟斷東西方貿易，造成地理大發現的興起 (B)三次西征，建立橫跨歐亞非三洲的大帝國 (C)將中國的造紙術、羅盤等技術傳入歐洲 (D)可能造成鼠疫黑死病的傳播。
17. ( ) 中世紀時，歐洲的行會經常設立學校，聘請教師教授語文與文學，「大學」就是在此時出現的。請問：大學的出現與中世紀後期的哪項歷史發展關係最密切？ (A)莊園生活 (B)商業發達 (C)農業進步 (D)封建崩解。
18. ( ) 歐洲史上曾出現名為「羅馬」的帝國，雖然不一定和最早的羅馬帝國有密切的關聯性，但仍在歷史上占有一席之地。請問回答下列問題：(甲)羅馬帝國；(乙)西羅馬帝國；(丙)東羅馬帝國；(丁)神聖羅馬帝國的相關問題。上列哪一個帝國的創建者屬日耳曼民族？ (A)甲 (B)乙 (C)丙 (D)丁。
19. ( ) 耶路撒冷引起各方兵馬的爭奪，是由於哪些宗教的創教歷程與此地有關？ (甲)基督教 (乙)佛教 (丙)伊斯蘭教 (丁)猶太教 (戊)印度教 (A)甲乙丙 (B)甲丙丁 (C)乙丙戊 (D)乙丁戊。
20. ( ) 十五世紀末，伊比利半島上的亞拉岡斐迪南王子與卡斯提爾伊莎貝拉公主聯姻，建立西班牙，目的是為了驅逐南方的伊蘭教勢力。請問：伊比利半島出現伊斯蘭教勢力和何者有關？ (A)阿拉伯帝國 (B)拜占庭帝國 (C)鄂圖曼土耳其帝國 (D)查理曼帝國。
21. ( ) 道格拉斯是十四世紀的商人，生活富裕的他，忙碌之餘喜歡閱讀希臘古典文獻，或是到各地旅遊，追求精緻的生活，因而影響到歐洲文藝復興的興起。請問：道格拉斯最有可能居住在何處？ (A)巴黎 (B)倫敦 (C)佛羅羅斯 (D)伊斯坦堡。
22. ( ) 關於文藝復興運動興起背景的描述，下列何者錯誤？ (A)與東羅馬帝國學者帶來古希臘羅馬典籍有關 (B)強調為宗教服務，以神為中心的特質 (C)中國印刷術的傳入有助於文化的傳播 (D)義大利的市民階級為推動文藝復興的主力。
23. ( ) 文藝復興時期，文學創作的發展，也出現明顯的變化，使用各國方言創作為主要趨勢，下列作品何者「不是」義大利的方言文學？ (A)薄伽丘十日談 (B)但丁——神曲 (C)佩脫拉克——十四行詩 (D)莎士比亞——劇本。
24. ( ) 哪一位學者的著有君王論一書，強調統治者的權謀與手段，影響後世深遠？ (A)莎士比亞 (B)薄伽丘 (C)馬基維利 (D)但丁。
25. ( ) 英法百年戰爭是英國與法國王權提高的分水嶺，對英、法兩國日後的發展是有利的，請問：英法百年戰爭爆發的原因為何？ (A)為了爭奪宗教領導權 (B)為了爭奪海上霸權 (C)為了爭奪法國王位繼承權 (D)為了爭奪商業據點
26. ( ) 百年戰爭中，法國最後在誰的帶領之下，激起愛國心與士氣，因而重創英軍，並且將英國勢力趕出法國本土？ (A)諾曼第公爵 (B)法王路易十四 (C)農村少女貞德 (D)亨利八世。
27. ( ) 宗教改革期間，在舊教的改革聲浪中，哪個團體應運而生，要求修士須接受嚴格的養成訓練，為天主教改革的象徵？ (A)行會 (B)十字軍 (C)耶穌會 (D)元老院。
28. ( ) 西元 1517 年馬丁路德在威丁堡大學的教堂張貼了《九十五條論綱》，引起人們的熱烈討論，不久後便掀起宗教改革的風潮。請問：下列何者不是馬丁路德的論點？ (A)譴責教會出售贖罪券 (B)否定教宗的至上權威 (C)人須靠教會的祈禱並參加聖禮才能得救 (D)宣稱《聖經》是信徒的最後依歸
29. ( ) 近代歐洲王權提高之後，民族國家成為各國仿效的趨勢。而成為民族國家必須具備某些特質，以下何者「不正確」？(A)血統 (B)風俗習慣(C)經濟型態 (D)語言。
30. ( ) 宗教改革後哪一教派主張「預選說」，強調簡樸的教儀式，只要努力工作就可以榮耀上帝，因而促使西歐國家致力發展商業，導致資本主義的崛起。這是指哪一教派？ (A)天主教派 (B)路德教派 (C)喀爾文教派 (D)英國國教派。
31. ( ) 地理大發現的起源與東西之間的貿易有很大的關係。下列何者不是促成地理大發現的原因？ (A)王室支持 (B)歐洲對東方貨品需求增加 (C)貿易路線被蒙古人阻斷 (D)航海知識與技術進步。
32. ( ) 地理大發現的探尋航道冒險，不再如以往，而是轉向更廣大的未知海域進行。大航海時代的海上活動主要以哪一個海域為主？ (A)大西洋 (B)地中海 (C)太平洋 (D)黑海。

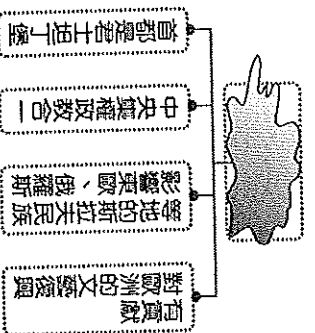
※第二部分，33—42題，每題3分

33. ( )地理大發現後，歐洲國家從事海外拓殖活動，後來在西元17世紀時，哪兩個歐洲國家曾經占領過臺灣？(A)英國、法國 (B)荷蘭、西班牙 (C)荷蘭、葡萄牙 (D)西班牙、葡萄牙。

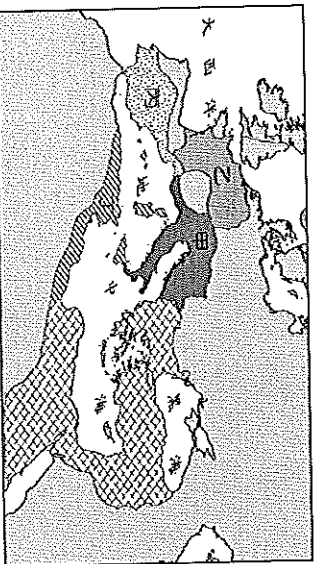
34. ( )附表是依某一概念所整理出的表格，應該訂為下列何者主題最適宜？(A)海外拓殖 (B)城市興起 (C)王權提高 (D)文藝復興。

關係	
1	西班牙—菲律賓
2	荷蘭—印尼
3	葡萄牙—澳門

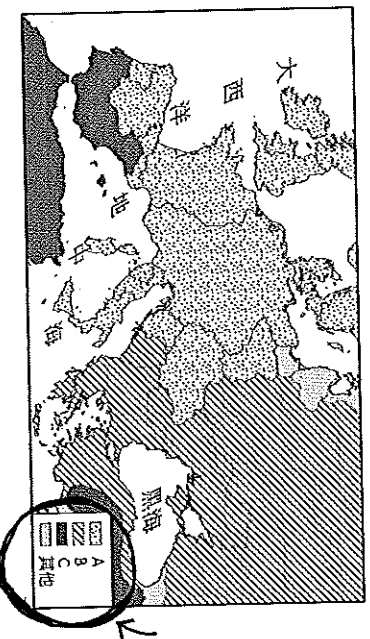
35. ( )附圖是上完歷史課後做的組織圖，卻不小心打翻水把主題弄髒了。請問：根據圖中的內容提示，此主題應該為下列何者？(A)拜占庭帝國 (B)法蘭克王國 (C)鄂圖曼土耳其帝國 (D)阿拉伯帝國。



36. ( )日耳曼人南遷後，在建立的許多國家中，實力最強、成就最大的是位於附圖中哪一區？(A)甲 (B)乙 (C)丙 (D)丁。



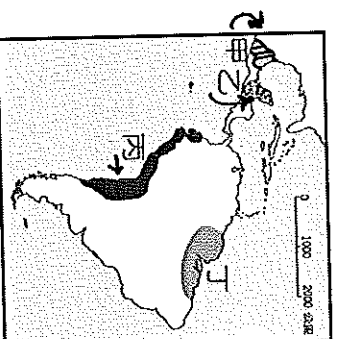
37. ( )基督教創立後，由於對教義、儀式的見解分歧，曾經歷兩次的分裂，第一次的分裂發生在十一世紀，第二次的分裂發生在十六世紀。請問第二次的宗教分裂，是圖中哪一區域的分裂？(A) A 區 (B) B 區 (C) C 區 (D) 其他區



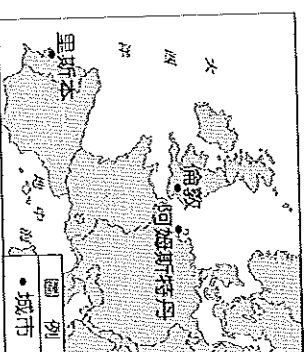
38. ( )猶太教、基督教的發源地，是位在下圖中的哪一區？(A)甲 (B)丁 (C)戊 (D)己。



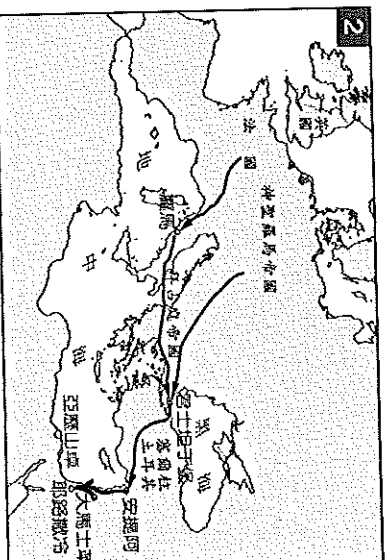
39. ( )美洲印第安人在西元前就已經逐步發展出文明，其中哪兩個文明在西班牙人入侵後逐漸衰微？(A)甲乙 (B)乙丙 (C)丙丁 (D)甲丙。



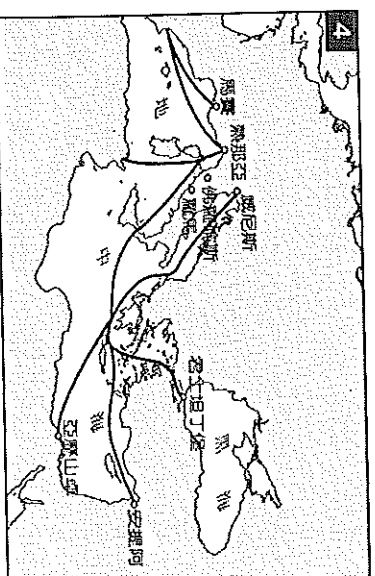
40. ( )附圖為十八世紀歐洲興起的城市，這些城市的興起與下列何事的關係最為密切？(A)宗教改革 (B)海外探險與拓殖 (C)十字軍東征 (D)文藝復興。



41. 請判斷下圖 2，應該是和哪一項事件有關？(A)亞歷山大東征 (B)十字軍東征 (C)蒙古西征 (D)百年戰爭。



42. 請判斷下圖 4，應該是和哪一項事件有關？(A)黑死病的傳播 (B)十字軍東征 (C)商業復興與發展的 (D)地理大發現。



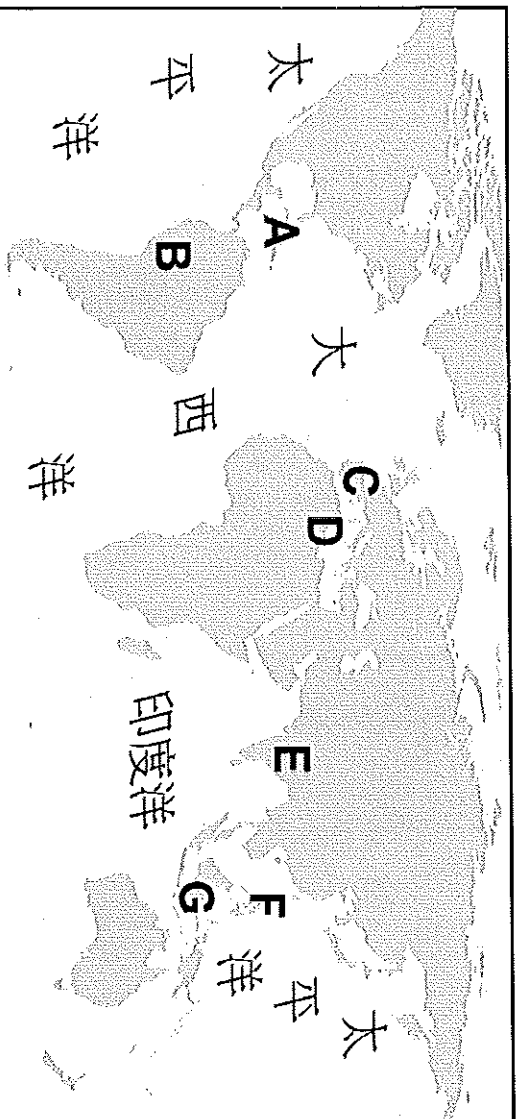
基隆市立武崙國民中學 104 學年度第一學期第二次段考九年級歷史科試卷

9 年 班 姓名：

選擇題	非選擇題	總分

※非選擇題，共 6 分，請用原子筆書寫，勿用鉛筆，否則不給分。

◎附圖為世界地圖，請用代號回答下列問題：



(1) 地理大發現時代，首先展開尋找新航路的國家，位於何處？(1分)？(請填代號)

答案：

(2) 地理大發現後，歐洲各國在圖中哪一些區域佔領殖民地或建立貿易據點？

(1分)？(複選題，請填代號，全對才給分)

答案：

(3) 請直接在上圖中，畫出哥倫布(請用黑筆)和麥哲倫(請用藍筆)的航海路線圖(共2分，各1分)

(4) 地理大發現，改變了世界的歷史，請寫出兩項地理大發現的影響？(共2分，各1分)

答案：