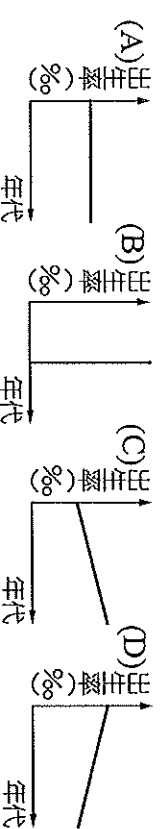
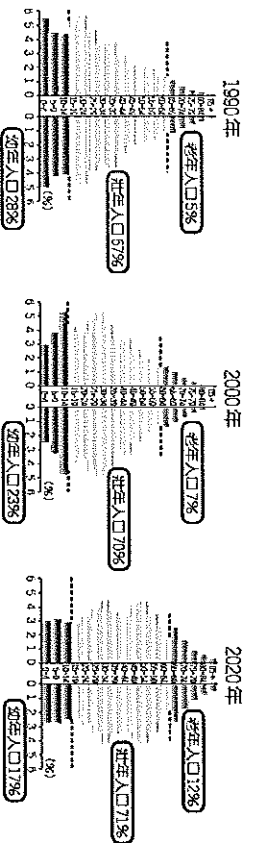


基隆市立武崙國民中學一〇四學年度第一學期第二次段考八年級地理科試題卷

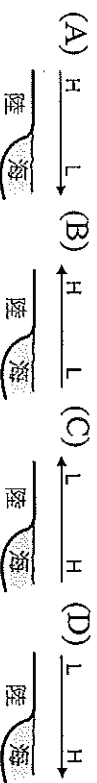
班級：八年____班/座號：____/姓名：_____

◆單選題，共 46 題，每題 2 分

- () 1. 附圖為中國 1990~2020 的人口金字塔變化趨勢。請問：圖中所呈現的特性為下列何者？



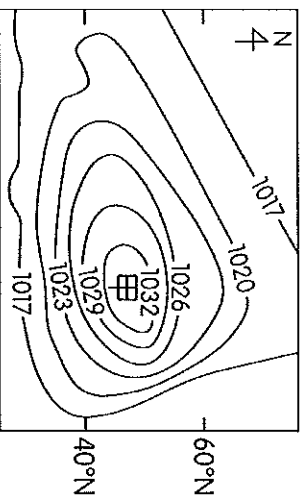
- () 2. 小郭想到中國投資，開採當地的鹽礦以發展相關產業。則小郭應到下列哪一個地區投資最為適合？
 (A) 西湖 (B) 洞庭湖 (C) 鄱陽湖 (D) 青海湖。
- () 3. 下圖為氣壓風向示意圖，請問：何者是東亞地區夏季的氣壓風向圖？



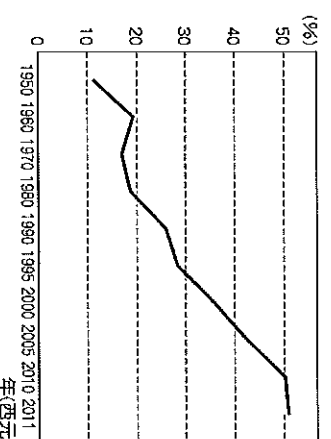
- () 4. 中國以溫帶氣候類型所占的面積最為廣大，這種氣候現象的分布和下列何者關連性最大？(A) 面積廣大 (B) 位居中緯 (C) 地形平坦 (D) 季風吹拂。
- () 5. 下表為秦嶺、淮河一線在中國地理上的重要性資料，其中哪項正確？(A) 甲 (B) 乙 (C) 丙 (D) 丁。

項目	(甲) 地形	(乙) 氣候	(丙) 氣溫	(丁) 雨量
第二級階梯與第三級階梯的分界	副熱帶季風氣候與溫帶季風氣候的分界	大致與七月均溫 0°C 等溫線位置相符	大致與年降水量 500mm 等雨量線位置相符	

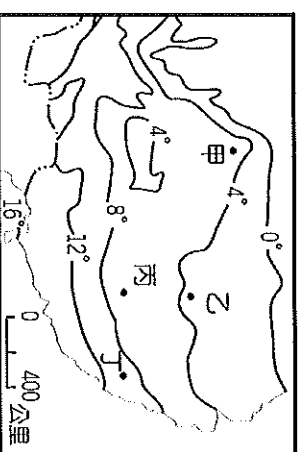
- () 6. 小楊：「物價一直上漲，薪水卻沒漲，東西買不下手，這樣下去恐怕要喝西北風囉！」請問：「喝西北風」這句話最可能源自於中國哪個地區？(A) 華北地區 (B) 華中地區 (C) 華南地區 (D) 西藏地區。
- () 7. 若將中國百萬人口以上的大都市以紅點標示在中國地圖上，則下列哪個地區內的紅點數會最少？(A) 東北平原 (B) 四川盆地 (C) 珠江三角洲 (D) 青藏高原。
- () 8. 附圖為中國某地區的氣壓分布圖，若由圖中資料加以判斷，則甲地應該位於下列哪一個地形區？(A) 青藏高原 (B) 新疆盆地 (C) 內蒙古高原 (D) 四川盆地。



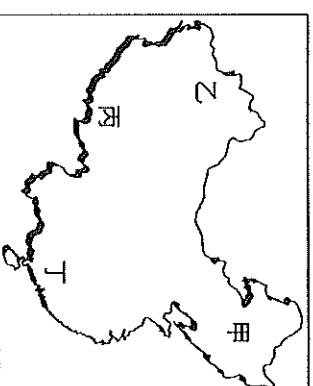
- () 9. 附圖是中國都市化程度變化圖，下者何者的說明最正確？(A) 莫愁：獎勵生育，都市地區出生率較高 (B) 程英：經濟改革，都市人口不斷增加 (C) 無雙：學校林立，都市教育資源較多 (D) 綠萼：人口龐大，都市人口大量外移。



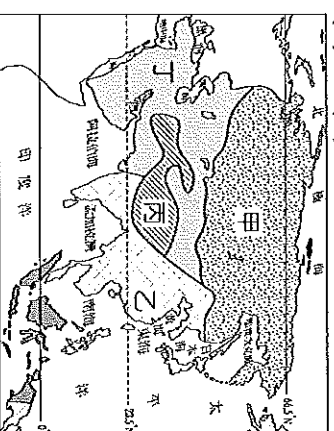
- () 10. 附圖是中國某地區的一月等溫線圖，根據圖中資料判斷，圖中哪一地點的氣溫最低？(A) 甲 (B) 乙 (C) 丙 (D) 丁。



- () 11. 中國在盛夏季節時，附圖中的哪一個地區因氣候寒冷，當地居民少從事農業活動，而多以畜牧牲畜的肉、乳為主食？(A) 甲 (B) 乙 (C) 丙 (D) 丁。



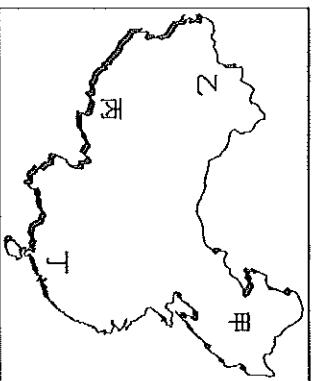
- () 12. 亞洲各地區的氣候類型不同，形成區域發展的特色。請問：乾燥氣候應分布於附圖中何處？(A) 甲 (B) 乙 (C) 丙 (D) 丁。



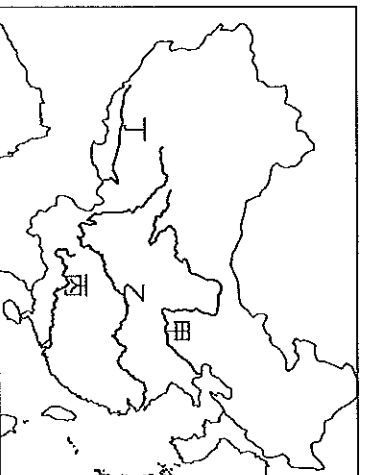
- () 13. 中國地區的夏季普遍高溫，其中以「盆地」尤甚，像是四川盆地、兩湖盆地等都在夏季時異常炎熱。造成上述現象的主要因素為何？(A) 地形封閉 (B) 距海較遠 (C) 地勢崎嶇 (D) 降雨量較多。

- () 14. 根據調查，某年中國 0~4 歲的幼年人口性別比例為 117.5。此資料可顯示下列哪項事實？(A) 男性幼年人口較多 (B) 女性幼年人口較多 (C) 男性平均壽命較長 (D) 女性平均壽命較長。

- () 15. 河運的發展與當地的環境關係密切。附圖中「甲」區的河運受到下列哪個因素的限制最顯著？(A) 河流短小流急 (B) 河流結冰期長 (C) 河流流向不佳 (D) 河流沿岸人口稀少。



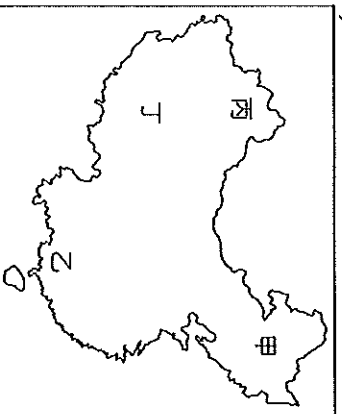
- () 16. 附圖為中國主要河川分布圖。請問：圖中哪條河川的流域經過高地、乾燥及季風三種類型的氣候區？(A) 甲 (B) 乙 (C) 丙 (D) 丁。



- () 17. 下列哪些原因造成中國人口分布集中於東半部？

(甲) 地形平坦 (乙) 氣候乾燥 (丙) 交通便利 (丁) 經濟發達 (A) 甲乙丙 (B) 甲乙丁 (C) 甲丙丁 (D) 乙丙丁。

- () 18. 中國各地的溫差受到距海遠近和緯度的影響。附圖中哪一個地方的年溫差及日溫差最小？(A) 甲 (B) 乙 (C) 丙 (D) 丁。



- () 19. 新疆盆地及青藏高原同位於中國西部地區，然而氣候類型卻不盡相同。請問：附表中的敘述，何者最為正確？(A) 甲 (B) 乙 (C) 丙 (D) 丁。

選項	甲	乙	丙	丁
青藏高原	日溫差小	日溫差大	年溫差小	年溫差大
新疆盆地	日溫差小	日溫差大	年溫差小	年溫差大

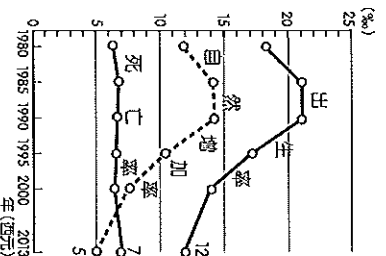
- () 20. 中國某地區的 1 月均溫約為 5.4℃，夏季有三個月的月均溫在 22℃ 以上；年降水量在 800 mm 左右，6~9 月是主要雨季。」由上文判斷，該地區應為何種氣候？(A) 溫帶季風氣候 (B) 溫帶草原氣候 (C) 熱帶季風氣候 (D) 副熱帶季風氣候。

- () 21. 附表為中國 2 個重要城市的氣候資料，下列有關這兩個城市的敘述，何者正確？(A) 哈爾濱的緯度位置較低 (B) 上海的年溫差較大 (C) 哈爾濱位於溫帶氣候區 (D) 上海為熱帶季風氣候。

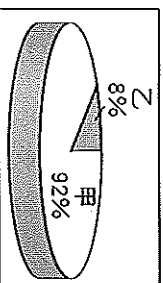
城市	哈爾濱		上海	
	月均溫	雨量	月均溫	雨量
氣候資料				
1月	-19.2	3.1	3.1	39.4
2月	-15.6	5.0	4.4	59.0
3月	-4.2	10.6	8.5	81.9
4月	6.2	22.0	14.2	102.4
5月	14.6	38.0	19.2	106.3
6月	20.0	74.5	23.4	152.2
7月	22.7	155.5	27.8	127.9
8月	20.8	94.4	27.7	133.1
9月	14.3	55.9	23.6	155.5
10月	5.3	26.6	18.3	63.3
11月	-5.7	6.5	12.3	53.7
12月	-15.8	5.2	6.1	35.1
年均溫 (°C)		3.6		15.8
年雨量 (毫米)		497.8		1,109.8

- () 22. 以下為黃藥師四位弟子針對「氣候與生活」所提出的見解。請問：哪位的說法有誤？(A) 曲靈風：中國北方居民為了擋冷風，房屋有坐北朝南的習慣 (B) 陳玄風：臺灣因為雨日多，所以房屋多騎樓設計 (C) 梅超風：中國西部潮溼多雨，所以多平頂式建築 (D) 陸乘風：藏袍的寬袍大袖，是為了因應日夜溫差大的特色。

- () 23. 附圖為中國近年來的人口出生率、死亡率、自然增加率統計圖，由圖中資料判斷，下列相關敘述中，何者正確？(A) 出生率下降、人口數減少 (B) 死亡率下降、人口數增加 (C) 出生率下降、人口數增加 (D) 死亡率上升、人口數減少。

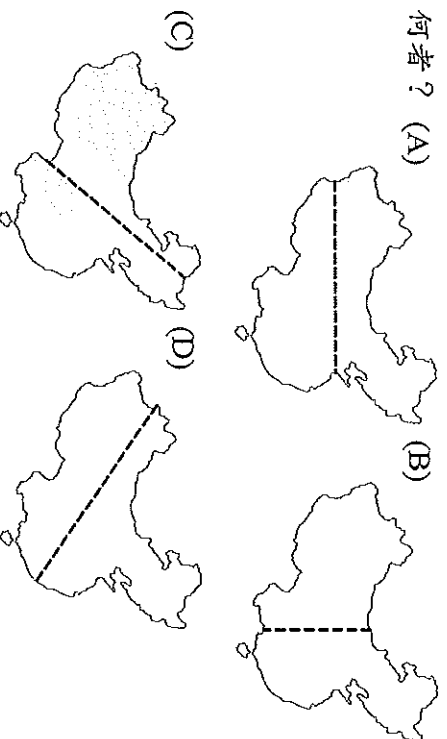


- () 24. 附圖為中國人口的民族組成比例。其中「甲」族群主要集中於東南半壁的季風氣候區，自古多從事農業活動。請問：該族群最可能是下列哪一個？(A) 壯族 (B) 滿族 (C) 漢族 (D) 蒙古族。



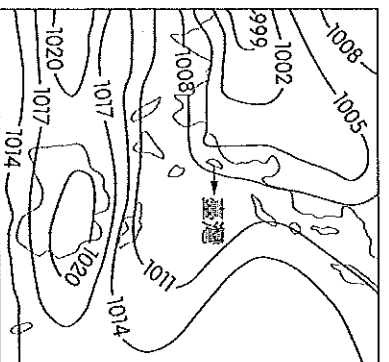
- () 25. 「高齡化社會」通常出現在經濟發展程度高的國家，如日本、瑞典。但中國卻在 2000 年達到高齡化社會的標準，其成因可能與下列何者最有關係？(A) 國民所得的金額逐年增加 (B) 勞動力大量流入鄰近國家 (C) 社會資源多偏向老人福利 (D) 實行嚴厲的計畫生育政策。

() 26. 中國人口分布受到環境負載力的影響，各地分布不均。請問：畫分稠密區及稀疏區的分界線大約為下列何者？(A)

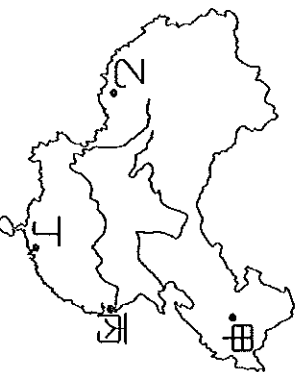


() 27. 一九五〇年代，中國為了便於管理及均衡人口分布，曾實施了下列哪一項計畫與措施？(A)一胎化政策 (B)普及義務教育計畫 (C)老人福利措施 (D)人口城鄉分隔政策。

() 28. 中國的氣候受到海陸性質的影響，形成季節性的差異。附圖為某時間的地面天氣圖。請問：此時北京盛行的風向及性質為何？(A)西北風；乾燥氣流 (B)東南風；乾燥氣流 (C)西南風；溼潤氣流 (D)東南風；溼潤氣流。



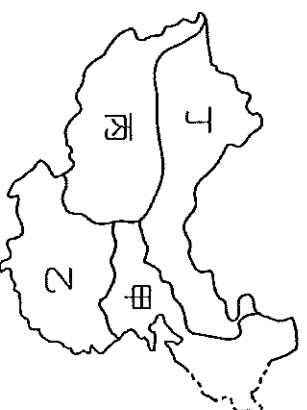
() 29. 附圖中哪一個城市受到地理位置的影響，四季氣溫變化的情況最為明顯？(A)甲 (B)乙 (C)丙 (D)丁。



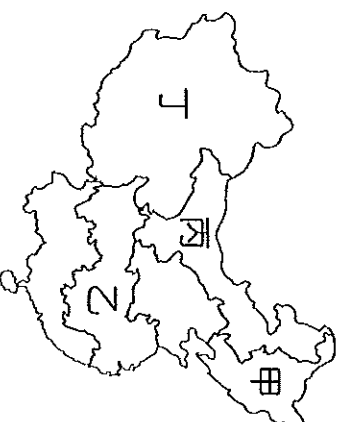
() 30. 空心菜是家庭常食用的蔬菜，原產於中國，性喜溫暖溼潤，可耐澇、耐熱，但不耐寒，最適合的生長溫度為 15°C 至 40°C。從氣候條件分析，附圖中哪一區域最適合栽種空心菜？(A)甲 (B)乙 (C)丙 (D)丁。



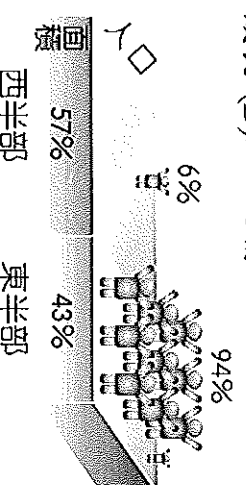
() 31. 附圖中哪一個地區因為氣候乾燥，年、日溫差均大，人口多集中於綠洲附近，造成人口分布不均，影響聚落及產業的發展甚鉅？(A)甲 (B)乙 (C)丙 (D)丁。



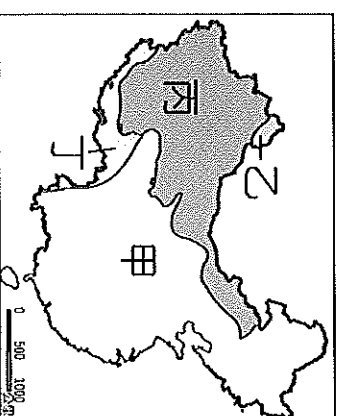
() 32. 附圖為中國六大區域的畫分圖。請問：其中何者的環境負載力較大？(A)甲 (B)乙 (C)丙 (D)丁。



() 33. 附圖為中國的人口分布示意圖。請問：其主要敘述內容為下列何者？(A)人口數量 (B)人口密度 (C)人口成長 (D)人口結構。



() 34. 中國湖泊依其含鹽度的高低可分為淡水湖及鹹水湖兩大類，其中鹽鹼質豐富的鹹水湖主要分布於附圖中的哪一區？(A)甲 (B)乙 (C)丙 (D)丁。



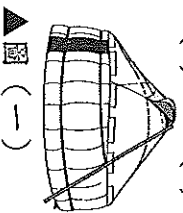
() 35. 附表是小龍蒐集部分國家 2010 年的人口資料。觀察表中最下方一系列的數據，甲國明顯大於其他國家，推論其原因，下列何者最合理？(A)醫療條件較為優越 (B)移入率大於移出率 (C)施行獎勵生育政策 (D)人口總數較為龐大。

國家	項目	甲	乙	丙	丁
	出生率 (%)	12.2	13.8	17.3	29.4
	死亡率 (%)	6.9	8.4	6	4.9
	人口成長率 (%)	5	8	11	24
	增加人口數 (千人)	6,650	2,474	985	712

- () 36. 郭家為世居襄陽的大家族，形成四代同堂的大家庭。輩分最小的郭襄發現她的曾祖父母共有十個兄妹，父母那一代也有四個兄弟姊妹，而郭襄卻是這一代唯一的小孩。上述現象將形成下列何種人口問題？(A) 扶養比提高、負擔漸重 (B) 幼年人口增加、勞力不足 (C) 人口素質降低、結構不佳 (D) 性別比不均、重男輕女。

※中國的民族種類相當眾多，形成各不相同的聚落特色。請問：

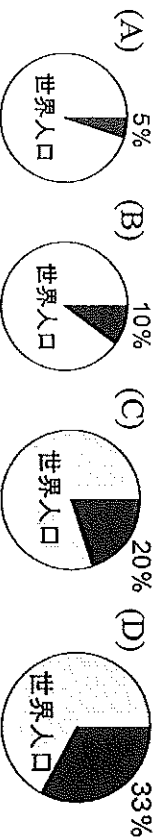
- () 37. 中國由於少數民族的特性不同，而設立不同的行政區。目前因少數民族聚居而設立的行政區為下列何者？(A) 特別行政區 (B) 省 (C) 直轄市 (D) 自治區。
- () 38. 雲貴高原與橫斷山脈一帶，為中國少數民族分布最多的地區，主要是由於下列何項因素？(A) 地形崎嶇 (B) 地處邊疆 (C) 鄰國眾多 (D) 氣候複雜。
- () 39. 承上題，除了雲南地區，中國何處少數民族亦多元且複雜？(A) 新疆 (B) 西藏 (C) 黑龍江 (D) 寧夏。
- () 40. 「中國五十餘個少數民族中，某族主要分布在南部地區，多住在防潮的干欄式建築，從事梯田農作，總人數居全國第一位。」請問：這是對於哪個少數民族的描述？(A) 藏族 (B) 回族 (C) 壯族 (D) 漢族。
- () 41. 中國的少數民族因生活環境的不同，而有不同的生活方式。圖(一)的這種居住型態為哪一個民族的住屋特色？(A) 蒙古族 (B) 壯族 (C) 滿族 (D) 回族。



▲圖(一)

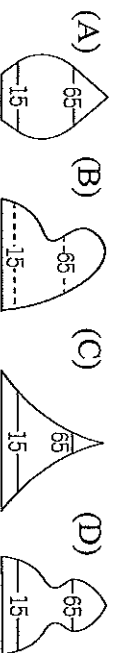
※中國總人口在西元2010年已經超過13億，是全世界人口最多的國家。請問：

- () 42. 若以黑色部分標示中國人口所占的比例，則下列哪一張圖最接近現實狀況？



- () 43. 中國有全世界最龐大的人口數量，此種人文特性為中國經濟發展提供哪些優越的條件？(A) 原料、市場 (B) 資金、勞工 (C) 原料、動力 (D) 勞工、市場。

- () 44. 為解決人口問題，中國實施計畫生育。請問：在實施計畫生育前，中國的人口金字塔結構應較接近下列何者？



- () 45. 關於一胎化政策所造成的影響，下列敘述何者錯誤？(A) 導致性別比小於100 (B) 早期溺殺女嬰事件層出不窮 (C) 出生率已大幅降低，人口成長率下降 (D) 幼年人口大幅減少。

- () 46. 中國人口問題，除了人口數量過多外，還有下列哪些問題？(甲) 性別比失衡 (乙) 高齡化 (丙) 人口素質偏低 (丁) 都市化程度過高 (A) 甲乙丙 (B) 甲乙丁 (C) 甲丙丁 (D) 甲乙丙丁。

基隆市立武崙國民中學一〇四學年度第一學期第二次段考八年級地理科答案卷

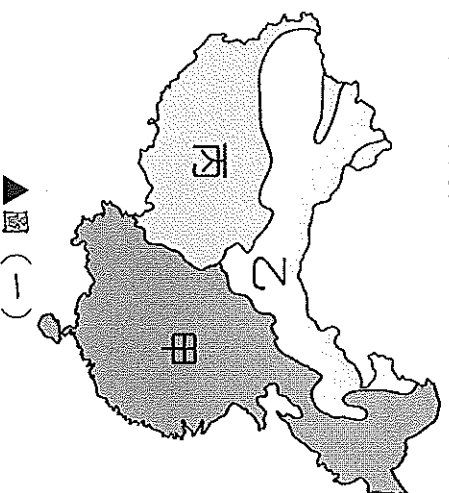
範圍：第三冊第3課、第4課

選擇題分數	非選擇題分數	總分

班級：八年_____班 座號：_____ 姓名：_____

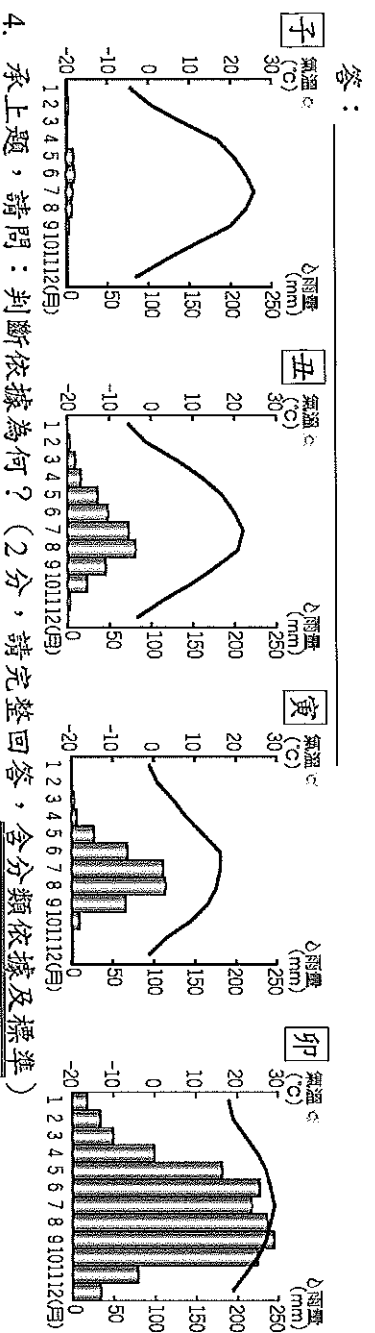
◆非選擇題，共5題，合計8分
 注意事項：請以黑色或藍色原子筆書寫，其餘顏色，該格不予計分。

※中國幅員廣大，各地氣候特徵互異。圖(一)為中國三大氣候類型的空間分布，請問：



1. 請問：圖(一)中「乙」區屬於何種氣候類型？(1分)
 答：_____
2. 請問：區分圖(一)「甲」、「乙」兩區的主要氣候要素為何？(2分，請完整回答，含分類依據及標準)
 答：_____

3. 子、丑、寅、卯為某四地的氣候圖，請問：哪一張氣候圖最可能分布在圖(一)中「丙」區？(1分)



4. 承上題，請問：判斷依據為何？(2分，請完整回答，含分類依據及標準)
 答：_____
5. 中國居民為了適應各種氣候類型，發展出不同的生活方式。請問：因應氣候差異，造成「甲」區南北的交通方式及飲食內容有何不同？(2分，交通及飲食各1分)

答：(1)交通方式差異：_____

(2)飲食內容差異：_____