

# 基隆市立武崙國中 104 學年度第一學期七年級地理科第二次段考試題

選擇題請用 2B 鉛筆依題號在電腦卡上作答，電腦讀卡時無法判斷身分者，扣總分 10 分。

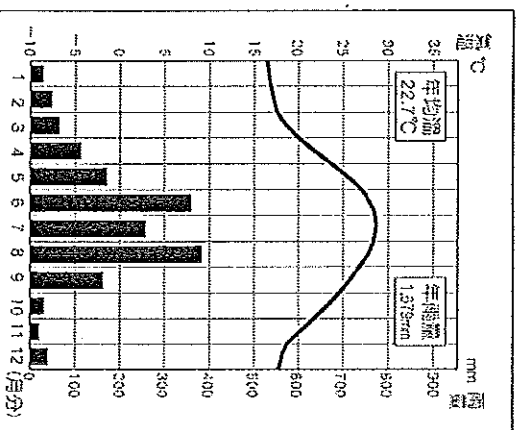
## 繳交時請繳交答案卡和非選答案卷

### 一、單選題：每題 3 分，共 78 分

1. 海岸主要可以劃分成「岩岸」與「沙岸」請問此種海岸分類的主要依據是下列何者？  
(A)沿岸土地利用 (B)海洋水溫高低 (C)海岸構成物質 (D)海岸曲直形態
2. 下列敘述何者是在說明「天氣」狀況？  
(A)新竹風，基隆雨 (B)澎湖風大雨量少 (C)台中下午有雷陣雨 (D)屏東四季溫暖。
3. 下列哪一種降雨的狀況所造成的雨量，在一天內所累積的雨量可能最大？(A)梅雨 (B)鋒面雨 (C)對流雨 (D)颱風雨。
4. 每年農曆三月是珊瑚產卵的季節，若想要欣賞珊瑚豐富的海底生態及珊瑚礁海岸的美，要前往哪一個國家公園？(A)墾丁國家公園 (B)太魯閣國家公園 (C)陽明山國家公園 (D)金門國家公園
5. 附表中有關沙岸、岩岸的比較，下列何者『錯誤』？(A)甲 (B)乙 (C)丙 (D)丁

	甲、 海岸線	乙、 水深	丙、 沿岸平原	丁、 主要地形
沙岸	平直	較淺	較小	沙洲、瀉湖
岩岸	曲折	較深	較大	岬灣、島嶼

6. 假如你是銷售「除濕機」的經理，若只考量氣候狀況，預期何處的銷售量最佳？(A)高雄 (B)基隆 (C)台中 (D)花蓮
7. 右圖為某地觀測站的氣候圖，而圖中七月的雨量為多少毫米？  
(A)390mm  
(B)380mm  
(C)200mm  
(D)260mm



班級： 姓名： 座號：

8. 下列四張地面天氣圖常見的符號何者『錯誤』？  
(A) 為高壓 (B) 為暖鋒  
(C) 為低壓 (D) 為滯留鋒
9. 如果你想了解某地明天的天氣。請問：你可用下列哪些資料去判斷該地明天的天氣？  
(A)甲乙 (B)甲丁 (C)乙丙 (D)乙丁。

甲：地面天氣圖 	乙：年雨量圖 
丙：月均溫圖 	丁：衛星雲圖 

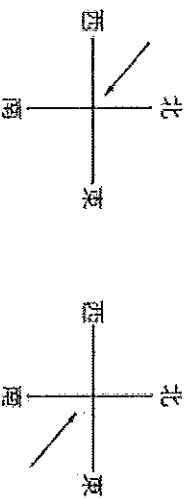
10. 因冷暖氣團相遇所產生的降水類型稱為？  
(A)對流雨 (B)鋒面雨 (C)地形雨 (D)熱雷雨
11. 大氣中旺盛的對流作用，常造成雨勢急大的雷陣雨。此現象多發生在哪個季節？  
(A)春 (B)夏 (C)秋 (D)冬。
12. 下列四種氣象指標的單位何者『錯誤』？  
(A)氣壓——hPa (B)氣溫——°C  
(C)風速——m/sec (D)雨量——cm
13. 下列對於珊瑚礁島的敘述何者正確？  
(A)面積廣大 (B)火山噴發隆起 (C)地勢低平 (D)釣魚臺列嶼屬於此類型島嶼
14. 某日，武崙新聞台報導指出：『農委會建議果農，耐寒力較差的作物，可實施套袋，避免凍傷...。呼籲民眾使用熱水器時，請注意室內通風，小心一氧化碳中毒！』請問是指台灣哪一種氣候災害的發生？  
(A)颱風 (B)梅雨 (C)旱災 (D)寒害。
15. 澎湖群島雖為四面環海的島嶼，但卻是台灣年雨量最少的地區，造成此現象的原因為何下列何者？(A)地勢低平 (B)缺乏季風調節 (C)緯度位置低 (D)面積太小。

16. 下列關於颱風的敘述，哪一個說法是『錯誤』的呢？(A)颱風屬於熱帶性高氣壓 (B)颱風可以為水庫帶來豐沛的水量 (C)颱風常造成土石流及山區道路坍方 (D)颱風最常發生的季節是夏秋之際。

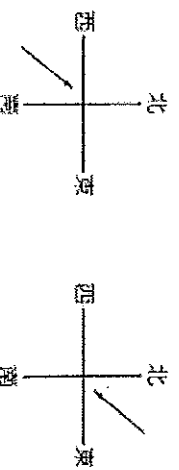
17. 何者「非」珊瑚礁海岸的特色？(A)陽光充足淺海 (B)熱帶地區 (C)沙岸地形 (D)清澈海域

18. 臺灣新竹地區有「風城」之稱。請問：每年冬季時，該地區的強風主要為下列何者？

(A) (B)

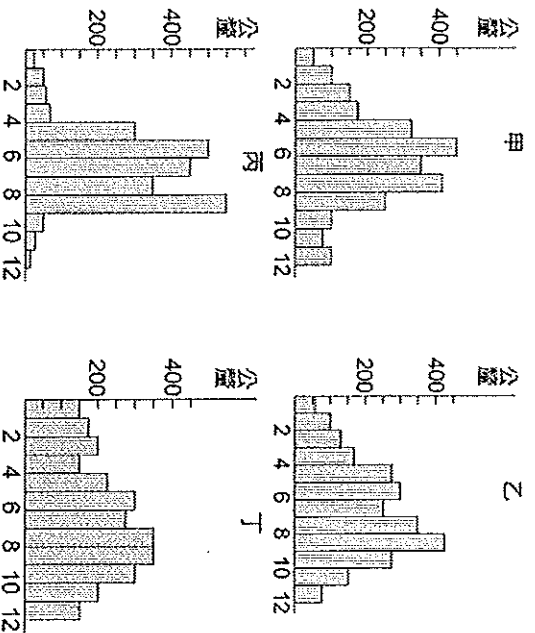


(C) (D)

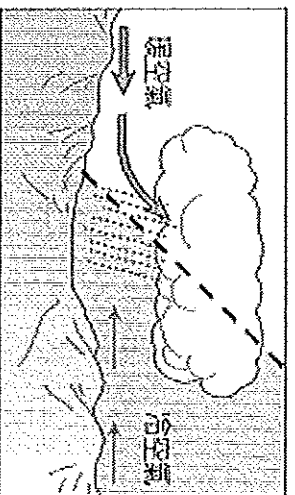


19. 此為臺灣四大區域的年雨量分布圖。請問何者最可能是南部地區？

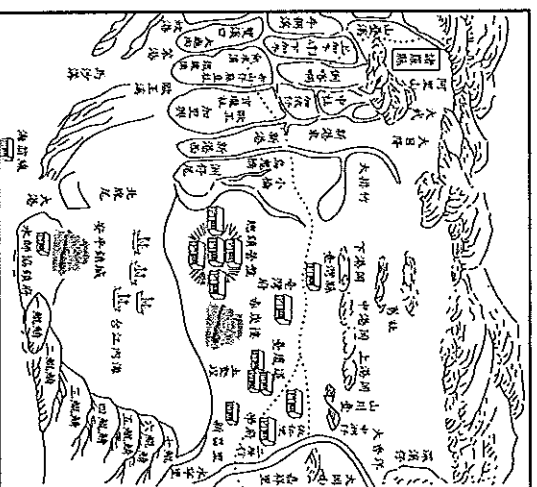
(A) 甲 (B) 乙 (C) 丙 (D) 丁



20. 下圖為某種降雨類型，其降雨特徵包括下列哪些？(甲)雨區小(乙)雨區大(丙)雨時短(丁)雨時長(A)乙丁 (B)甲丙 (C)丙丁 (D)甲丁。

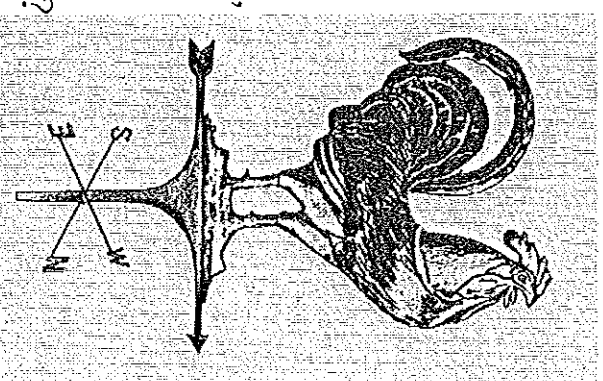


21. 飄飄在看歷史故事書時，特別注意了這張清朝康熙時臺灣府的古地圖，此圖所繪製的『台江內海』，最有可能是地理課教過的哪種地形？(A)湖泊 (B)沙洲 (C)瀉湖 (D)海峽。

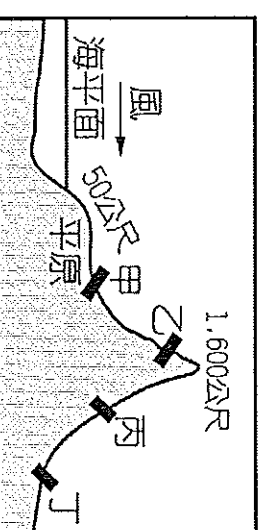


22. 巴斯卡計畫暑假時去阿里山森林遊樂區遊玩，一方面吸取新鮮空氣，另一方面也可以爬山強健體魄，最重要的是可以避免夏天炎熱的氣溫。阿里山森林遊樂區比較涼爽的主要原因為何？(A)緯度較高 (B)風向影響 (C)植物較多 (D)地勢較高

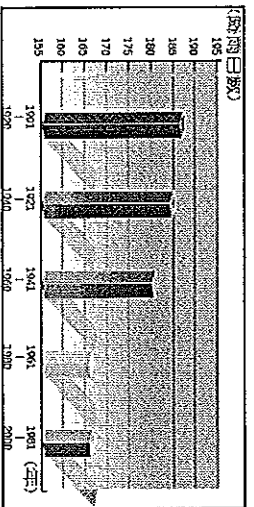
23. 若是有機會去歐洲遊玩，會發現在教會、農家頂端有右邊圖片的物品，正式名稱叫「風向標、風標」，但是大家常叫它『風雞』，它會告訴我們現在吹甚麼風。請根據右圖，指出目前的風向為何？(A)東北風 (B)西北風 (C)西南風 (D)東南風



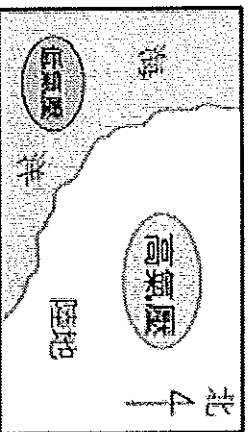
24. 下圖是描述飽含水氣的風，因為沿著地形抬升，最後凝結降雨的地形雨簡圖，請問圖中四個點何處較容易下雨？(A)甲 (B)乙 (C)丙 (D)丁



25. 下圖為近百年來的平均降雨日數變化圖，年雨量不變，但降雨日數卻逐漸減少。請問：這種變化最容易造成下列何種氣候災害？  
 (A) 寒潮期長 (B) 乾旱期長 (C) 氣溫降低 (D) 冰山溶化




26. 地球上某日的海陸氣壓分布如右圖所示。請問：當時的氣候特色最主要為下列何者？  
 (A) 吹溼潤的東北風 (B) 吹乾燥的東北風  
 (C) 吹乾燥的西南風 (D) 吹溼潤的西南風。



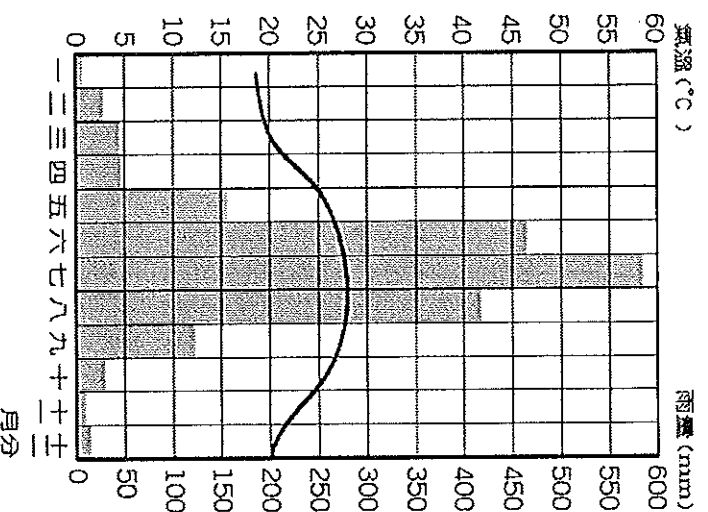
二、題組題，每題2分，共12分

(一) 下圖是阿雯和朋友在環島旅行時，根據當地海岸景觀所畫下的素描。請問：



27. 由上圖判斷，這應是在臺灣的哪一側海岸？  
 (A) 東部海岸 (B) 西部海岸 (C) 南部海岸 (D) 北部海岸。
28. 阿雯他們目前的行進方向為何？ (A) 由西向東走 (B) 由東向西走 (C) 由北向南走 (D) 由南向北走。
29. 圖中所看到的山脈應是下列何者？ (A) 雪山山脈 (B) 中央山脈 (C) 玉山山脈 (D) 阿里山山脈。

(二) 請參考右方高雄市的氣候圖，回答下列各題：



30. 高雄市的年溫差約為 (A) 10°C (B) 18°C (C) 28°C (D) 38°C。
31. 高雄市應為何種氣候類型？  
 (A) 熱帶季風氣候 (B) 溫帶季風氣候  
 (C) 副熱帶季風氣候 (D) 熱帶沙漠氣候
32. 高雄市的乾季出現在 (A) 春、夏 (C) 夏、秋 (C) 秋、冬 (D) 冬、春。

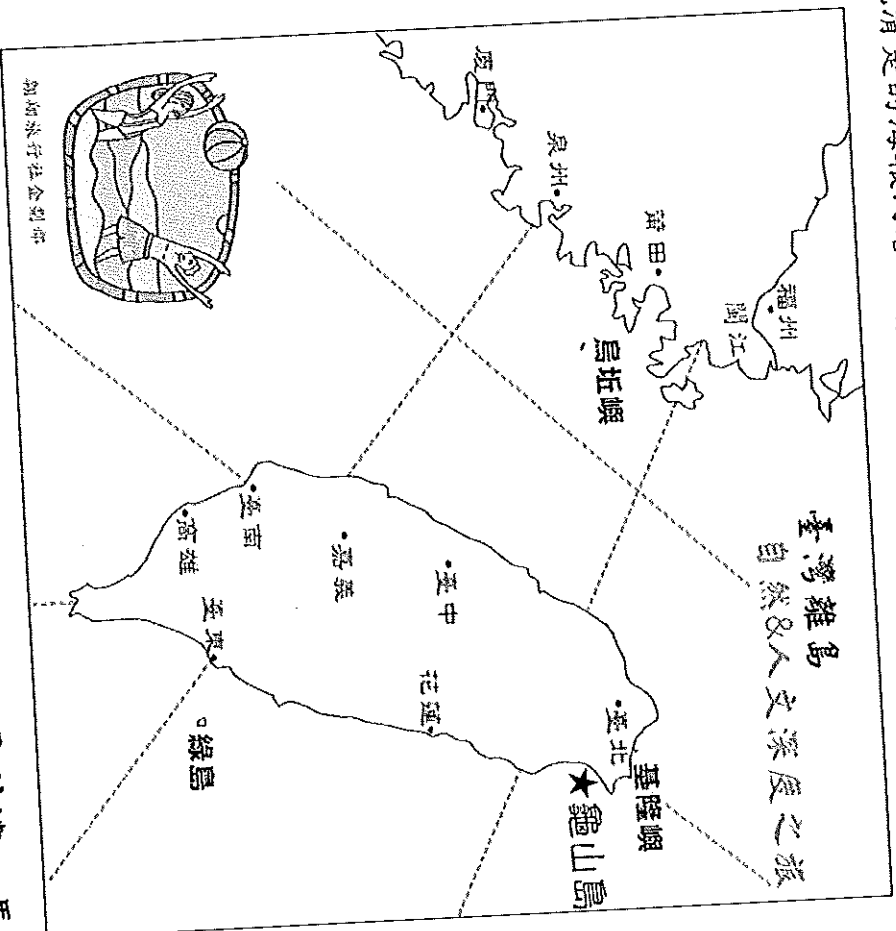
恭喜你，選擇題寫完了，請再次檢查畫卡是否畫記正確，另記得還有非選題要寫喔！！

基隆市立武崙國民中學 104 學年度第一學期七年級地理科第二次段考試題

班級：\_\_\_\_\_ 姓名：\_\_\_\_\_ 座號：\_\_\_\_\_

選擇得分	非選得分	總得分

第三大題：非選題，每格 1 分，共 10 分(請使用藍黑筆作答，違者不予記分)  
武崙旅行社今年企劃一系列「臺灣離島自然&人文深度之旅」，若要能吸引顧客就必須呈現清楚的海報內容，請你協助規劃及釐清下列問題：



- 旅行社離島之旅的行程共包含：澎湖群島、金門列嶼、馬祖列嶼、蘭嶼及琉球嶼，以上圖中的龜山島為例，請您將上述島嶼的位置以★字號標記於上面的海報並寫上島嶼名稱(請寫上全名)。(每個島嶼正確標記位置並寫上名稱得 1 分，共 5 分) ❖注意：圖上的網格為方便位置的判斷，請勿將島嶼標記在格線上。
- 請將第一題題目中的島嶼依據形成的原因(島嶼類型)加以分類，並寫上島嶼全名。(每格 1 分，共 5 分)

