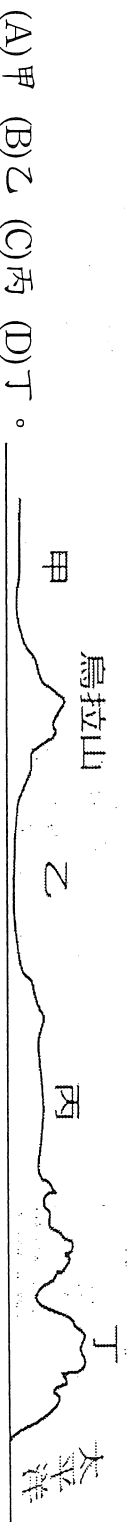


基隆市立武崙國民中學 104 學年度第一學期九年級第三次段考地理科考題日卷

一、單選題 (每題 2 分, 共 74 分)


班級: _____ 座號: _____ 姓名: _____

1. 附圖為俄羅斯地形剖面圖, 請問俄羅斯的農業及人口多分布於圖中哪個區域?



(A) 甲 (B) 乙 (C) 丙 (D) 丁。

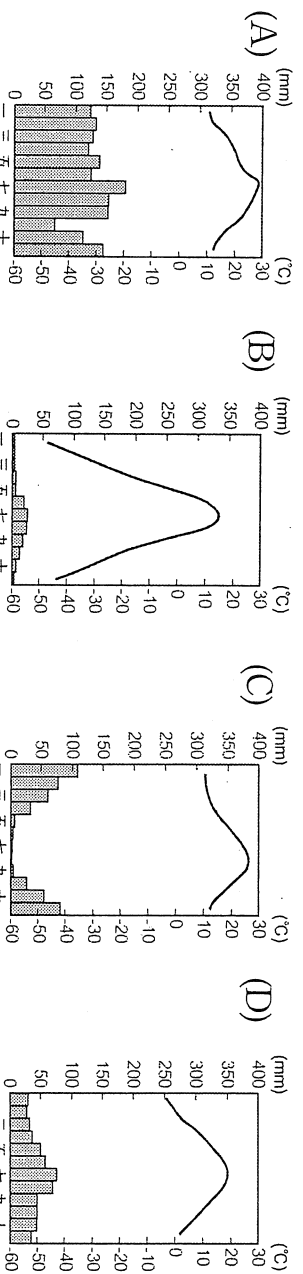
2. 「你們必須教導你們的子孫, 在他們腳下的土地, 是我們先民的遺跡。」這是在 1850 年代某個族群的領導人所發表給美國政府的公開信。請問: 這個聲明稿最可能來自於哪個族群? (A) 印第安人 (B) 英國人 (C) 法國人 (D) 西班牙人
3. 多瑙河是歐洲第二大河, 也是東歐最重要的河川, 但其航運價值始終不及萊茵河, 最主要的原因為何? (A) 河川結冰期太長 (B) 流經國家經濟發展落後 (C) 河川水位變化太大 (D) 出海口位置不佳
4. 聖羅倫斯河為北美洲航運價值最大的河川, 美國和加拿大的原料及產品大都是利用這條河流運輸。下列何者是形成這種現象的主要原因? (A) 海輪可沿此河直駛五大湖區 (B) 流域面積和流量居北美洲之冠 (C) 流貫北美大平原農、礦業帶 (D) 與密士失必河之間有運河相連。
5. 加拿大幾乎每年都有嚴重的天然災害影響該國, 常造成交通往來的困難, 工商業停擺。下列哪項災害是加拿大最常見的? (A) 龍捲風 (B) 颶風 (C) 暴風雪 (D) 地震。
6. 美國文化相當強勢, 透過各種商業化的包裝, 影響到全世界。下列何者不為美國文化的產物? (A) 麥當勞餐廳 (B) 美國大聯盟 (C) 星巴克咖啡連鎖店 (D) 寶萊塢電影
7. 烏拉山是俄羅斯境內重要的山脈。請問: 下列有關該烏拉山的敘述中, 何者最為正確? (A) 是歐俄平原到西伯利亞的交通障礙 (B) 俄羅斯橫跨歐亞大陸的地形分界 (C) 造成俄羅斯經濟發展上南北的差異 (D) 阻擋西風水氣形成氣候嚴寒乾燥
8. 右圖為旅遊東歐國家及俄羅斯必定參觀的景點, 請根據這樣的建築特色加以判斷, 該建築物應該為哪一個宗教的教堂? (A) 伊斯蘭教 (B) 基督教 (C) 天主教 (D) 東正教



9. 東歐的地形以喀爾巴阡山為界, 南、北的地形特徵分別為何? (A) 南部多平原; 北部多山地 (B) 南部多山地、丘陵; 北部多高原、臺地 (C) 南部多山地、丘陵; 北部多平原 (D) 南部多冰河地形; 北部多石灰岩地形
10. 下列關於西伯利亞及歐俄的氣候特徵敘述, 何者正確? (甲) 大陸性顯著 (乙) 年溫差小 (丙) 冬長而酷寒 (丁) 受季風影響較大 (A) 甲乙 (B) 甲丙 (C) 乙丁 (D) 丙丁
11. 著名的卡通《湯姆歷險記》故事發生在廣闊的平原地區, 順著旁邊南向的河流, 可以一路直達墨西哥灣。上述河流是指那一條河? (A) 聖羅倫斯河 (B) 亞馬孫河 (C) 科羅拉多河 (D) 密士失必河
12. 東歐旅遊中若想要欣賞大自然鬼斧神工的岩洞奇景, 鐘乳石、石筍等喀斯特地形, 你的行程中將安排到何處才可參觀得到? (A) 烏拉山 (B) 本寧山 (C) 巴爾幹半島 (D) 多瑙河沿岸。
13. 俄羅斯近年來經濟發展相當快速, 被譽為是「金磚四國」之一, 請問該國近年來經濟發展快速與下列何者關係密切? (A) 陸運便利 (B) 礦產豐富 (C) 農產豐富 (D) 土地面積廣大。
14. 俄羅斯規劃長達數千公里的「遠東油管」是為了方便將石油輸出到哪一個國家? (A) 美國 (B) 印度 (C) 烏克蘭 (D) 中國。
15. 祥太前往華沙參觀鋼琴大師蕭邦的紀念碑, 因為當地為這位愛國音樂家的出生地。請問: 祥太所要前往的國家為何? (A) 捷克 (B) 奧地利 (C) 波蘭 (D) 法國
16. 前蘇聯解體後, 原先的加盟共和國紛紛獨立, 其中哪個國家繼承前蘇聯的國際地位, 現正積極發展經濟? (A) 俄羅斯 (B) 馬其頓 (C) 匈牙利 (D) 烏克蘭

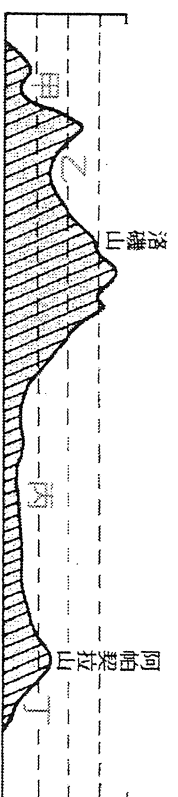
17. 北美的第一大城及第一大港，在 2001 年 9 月 11 日，該城的兩棟地標建築，世貿雙子星大樓被恐怖分子所挾持的民航客機撞毀，引起世界震驚。上述中所指的是下列哪個都市？
 (A) 華盛頓 (B) 紐約 (C) 多倫多 (D) 舊金山

18. 馬哥正在繪製西伯利亞維科揚斯克的氣候圖。若根據當地的氣候特性，下列哪張氣候圖是他繪製的正確結果？



19. 美國 NBA 的籃球隊常以所在都市的特色命名，如西雅圖「超音速」隊，即是指西雅圖的何種工業特色？ (A) 航空工業 (B) 汽車工業 (C) 火箭工業 (D) 石化工業

20. 右下圖為北美洲的地形剖面圖，某日晚間，美國加州發生芮氏規模 6.5 的強震，造成大城洛杉磯兩萬多戶停電，幸好沒有人員受傷，請問：這起新聞事件發生在哪個位置？



21. 承上題，請問：如果巴斯卡住在丙區，那哪句話應該是他會說的？
 (A) 今年受到乾旱影響，橄欖收成不佳。
 (B) 我終於收到矽谷 google 公司給我的錄取信，明天我就可以開車去矽谷 google 公司總部上班了！
 (C) 在這裡耕種真辛苦，一年到頭都為了養家餬口種東西。
 (D) 快逃！龍捲風要來了！再不走我們就沒命了！
22. 紐約時報報導「今年全球小麥價格暴跌，使得美、加農民遭到鉅額的損失。」此一現象的發生與北美洲的哪項農業經營特色最相關？ (A) 高度機械化 (B) 大規模經營 (C) 作物單一化 (D) 專業化經營。

23. 重工業是俄羅斯的主要工業，集中於四大工業區，其中哪一個工業區的水電最為便利？ (A) 莫斯科工業區 (B) 貝加爾湖工業區 (C) 庫斯內次工業區 (D) 烏拉山工業區。

24. 颶風是一股巨大而強勁的風暴，旋轉的風速可達每小時 120 公里。常被氣象學家稱為熱帶風暴的颶風。北美洲的颶風時有所聞，下列何處較易受到颶風的侵襲？ (A) 東北部的多倫多 (B) 西北部的溫哥華 (C) 西南部的洛杉磯 (D) 東南部的紐奧良。

25. 東歐的氣候有明顯的過渡性特色，是因為介於以下；(甲) 溫帶海洋性氣候 (乙) 溫帶沙漠氣候 (丙) 溫帶季風氣候 (丁) 溫帶大陸氣候 (戊) 溫帶草原氣候 (己) 溫帶地中海型氣候，哪幾者之間的過渡？ (A) 甲、乙、丙 (B) 丁、戊、己 (C) 甲、丁、己 (D) 丙、丁、戊。

26. 魁北克是加拿大第一大省，在 20 世紀後半期許多魁北克人為爭取更大自主統治權，曾舉辦三次公投爭取獨立但未成功。請問魁北克省爭取獨立的主要原因為？ (A) 多為英裔的移民 (B) 80% 居民使用法語 (C) 爭奪資源和礦產 (D) 宗教、種族對立。

27. 重工業是俄羅斯的主要工業，集中於四大工業區，其中哪一個工業區是昔日蘇俄的首要工業區？ (A) 莫斯科工業區 (B) 烏拉山工業區 (C) 庫斯內次工業區 (D) 貝加爾湖工業區。

28. 烏克蘭有廣大的平原是由河川堆積而成，因此形成肥沃的沖積土壤，有利於當地農業活動的發展。請問：流經該國的主要河川為何？ (A) 多瑙河 (B) 聶伯河 (C) 窩瓦河 (D) 萊因河。

29. 巴爾幹半島長期處於不穩定的情勢，素有「歐洲火藥庫」之稱，此現象與下列哪一因素「無關」？ (A) 族群與邊界紛爭 (B) 宗教與文化差異 (C) 石油資源的爭奪 (D) 國際強權介入。

30. 被評選為最值得進戲院一看的好萊塢大片--3D 科幻電影小藍人《阿凡達》，是第一部結合 3D 科技和真人拍攝的影片，被喻為改變現代電影史的重要作品，也是現代電影史上的重大里程碑。請問，若想參觀此拍攝片場建議前往哪一個城市？(A)洛杉磯 (B)西雅圖 (C)舊金山 (D)溫哥華。
31. 東歐願意加入歐盟，看準的是自身的廉價勞力可以吸引西歐及非歐盟國到東歐國家投資，提高本國的經濟成長。這種想法，與北美自由貿易區的那個國家非常類似？(A)美國 (B)加拿大 (C)墨西哥 (D)捷克。

32. 附表是北美洲某 4 個城市近 40 年來的年平均降雨量。

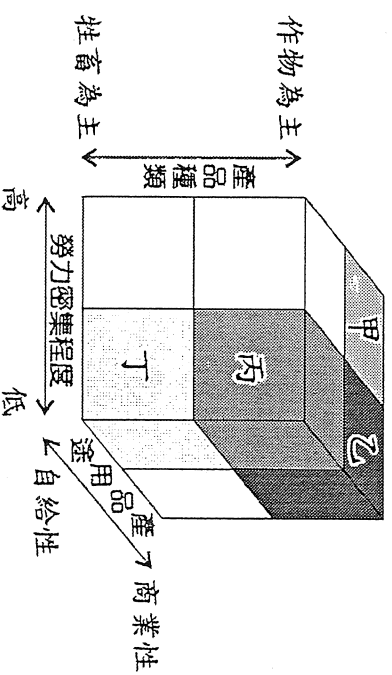
城市	甲	乙	丙	丁
降雨季節	夏季	全年	冬季	夏季
平均數 (mm)	1400.9	1103.2	501.8	144.3

33. 歐洲第一長河窩瓦河，全程 3,690 公里，注入裏海；

第二長河多瑙河，全程 2,850 公里，注入黑海。兩條河流皆因流向不佳，航運價值不及萊茵河。為了能和其他水系或海域溝通，提高航運價值，在 1950 年代左右開通了何種交通方式，形成完善的水運網？(A)鐵路 (B)橋梁 (C)水庫 (D)運河

34. 俞芳觀察北美洲地形圖時，發現包括洛磯山脈、海岸山脈等多呈現南北走向，她想起老師上課時曾經說過，此處的地形最主要的是板塊運動所造成。請問：該山脈是受到哪兩個板塊擠壓而抬升？(A)北美大陸板塊、太平洋板塊 (B)北美大陸板塊、菲律賓海板塊 (C)歐亞大陸板塊、非洲板塊 (D)非洲板塊、印澳板塊

35. 美國某一農作帶以生產小麥為主，由於耕地面積廣大，農民利用機械耕作、收割，小麥收成後除供國內製成麵粉外，也大量運銷國外。依右圖中的三種指標加以分類，上述農作帶最可能屬於圖中甲、乙、丙、丁哪一種農業類型？(A)甲 (B)乙 (C)丙 (D)丁



36. 美國為世界重要的工業國家，該國境內的工業依東部、南部、西部等地區分布而言，依序為何種類型？

(A)傳統重工業、石化工業、資訊工業 (B)石化公業、資訊工業、傳統重工業
(C)石化工業、傳統重工業、資訊工業 (D)資訊工業、石化工業、傳統重工業

37. 北美洲農業一向有『商業化農業』之稱，與季風亞洲『傳統稻作農業』顯然不同。研究生吳小潔針對兩大農業型態做一整理表格，請您幫她檢核正確的有哪幾項？(A)甲乙丙丁 (B)甲丙丁戊 (C)甲丁戊己 (D)丙丁戊己。

地區	(甲)農場規模	(乙)總產量	(丙)單位面積產量	(丁)耕作方式	(戊)生產趨勢	(己)風險
北美洲	大	小	大	耕作機械化	市場導向	生產過剩
季風亞洲	小	大	小	勞力密集化	自給自足	供不應求

二、題組題 (每題 2 分，共 26 分)

(一)世界最長的鐵路--西伯利亞大鐵路，橫跨七個時區，請試著回答下列問題：

38. 西伯利亞鐵路以烏拉山為界，分為西段與東段，造成西段鐵路分布較密集的原因何者為『非』？

(A)地形平坦 (B)遠離航線 (C)人口集中 (D)經濟發達

39. 搭乘西伯利亞鐵路從海參崴到莫斯科，沿途所見以下列哪種景色最多？(A)苔原 (B)草原 (C)闊葉林 (D)針葉林

40. 鐵路沿線地形變化由西向東依次為？(A)山地、高原、平原 (B)丘陵、平原、山地 (C)平原、高原、山地 (D)平原、山地、高原

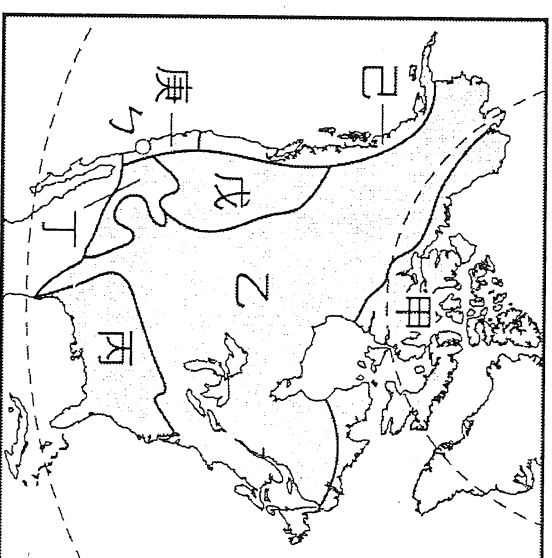
(二) 北美洲氣候受緯度、地形、洋流及氣團的影響，呈現多樣化特性。右圖是美洲氣候分區圖，請回答下列問題：

41. 北美洲「夏雨冬乾、年溫差大」的氣候區位於右圖中何處？
(A) 甲 (B) 乙 (C) 丙 (D) 丁

42. 由圖可看出北美洲氣候多樣複雜。下列敘述，何項是正確的？

- (A) 甲區七月氣溫已在 0°C 以下，呈現森林景觀
(B) 戊區受涼流影響，水氣凝結量少而乾燥
(C) 丙區因緯度較低，受西風吹拂，氣候暖濕
(D) 己區則有洋流及盛行風影響，年溫差小，沒有乾季

43. 拉斯維加斯是著名的賭城，位居「丁」氣候區的小綠洲上，西接加州的死亡谷，南接亞利桑那的大沙漠，東接大峽谷，處於各大沙漠的中央，氣候炎熱乾燥，居民賴服務業維生。」



- 請問：上述中的沙漠，其形成的主要原因為何？ (A) 位居背風坡 (B) 加州涼流經過 (C) 距海遙遠 (D) 副熱帶高氣壓籠罩

- (二) 從 2002 年開始，臺灣電子大廠鴻海率先在捷克設廠，目前包括華碩、廣達、大同、英業達、大眾等臺灣科技大廠都已經先後在捷克設廠，請問：

44. 受蘇聯控制期間，阻礙捷克經濟發展的主要原因為何？ (A) 老年人口比例高，勞動力不足 (B) 缺乏重工業發展所需的煤鐵礦 (C) 受共產政權統治，生產效率差 (D) 工業區老化，設備老舊。

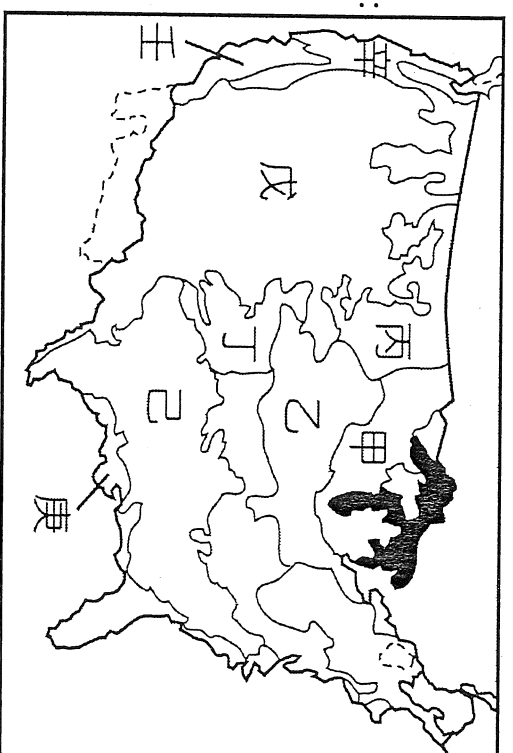
45. (甲) 便宜的勞力成本 (乙) 語言溝通方便 (丙) 原料資源豐富 (丁) 歐洲市場廣大，請問臺商大舉進軍捷克的主要原因為何？ (A) 甲乙 (B) 乙丙 (C) 丙丁 (D) 甲丁。

46. 若郭台銘欲在冬天親自前往捷克(15°E)進行短期視察，可能會發生下列何種情形？(甲)於捷克早上八點打電話回臺灣平安，臺灣為同一日下午七點 (乙)氣候較臺灣寒冷乾燥，冬季需注意保暖 (丙)返臺之前至首都布拉格參觀具中世紀風味的歷史廣場、教堂 (丁)晚上十點可能會因窗外陽光太亮而睡不着。 (A) 甲乙 (B) 乙丙 (C) 丙丁 (D) 甲丁。

(三) 以下是美國農牧帶分布圖，請依據圖中代號回答下列問題：

47. 電影《亂世佳人》是以美國地主蓄養黑奴來種植棉花而引發南北戰爭為背景。影片中的莊園應位於右圖的何處？ (A) 甲 (B) 乙 (C) 丁 (D) 己

48. 美國牛肉行銷世界各國，臺灣也是其重要貿易夥伴，然而美國牛肉曾因爆發狂牛症而禁止進口台灣。請問：美國主要的畜牧業活動地區位於附圖中何處？
(A) 丙 (B) 戊 (C) 庚 (D) 壬。



49. 美洲地區發展出成本較低的商業性農業，將小麥大量銷往歐洲，造成丹麥的傳統產業改變為酪農業。請問北美地區的小麥主要種植在右圖中哪一地帶？
(A) 甲、乙 (B) 丙、丁 (C) 戊、己 (D) 辛、壬。

50. 飄飄於元旦假期前往天母地區品嚐『Frozen Custard 軟香乳凍』霜淇淋，至今仍意猶未盡。這特殊滋味的技術主要來自於北美『甲』區的酪農帶，請問分布於此的主因為何？ (A) 移民最早，開發歷史悠久 (B) 氣候優良，適合養牧牛羊 (C) 水源充足，牧草適合生長 (D) 鄰近市場、都市人口聚集。

『試題到此結束，請再次檢查你的畫卡是否有正確畫上班級、座號，祝大家新年快樂、寒假愉快！』