

基隆市武崙國中 104 學年度第一學期九年級公民科第三次段考試卷

一、 選擇題：共 40 題，每題 2.5 分 (共 100 分)

1. 藝人當中向來被稱讚有投資頭腦的黃曉明，2008 年以每股 3 元購入 180 萬股華誼兄弟股份。2009 年華誼兄弟上市後，他股份暴增，跨入億萬富翁行列。據報導，章子怡投資萬達商業地，持股 900 萬股，身價超過 16 億。孫儷以 202 萬獲得海潤影視 2.6% 股份，借申科股份轉投資後，身價也超過 2 億。請問：以上藝人們的投資理財工具為何？(A) 基金 (B) 股票 (C) 房地產 (D) 公司債。

	2009	2010	2011	2012
進口額 (千萬元)	579	546	602	598
出口額 (千萬元)	1456	1667	1784	1905

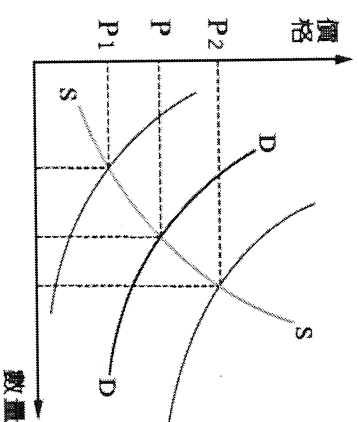
2. 附表是希望國近年來的貿易現況，根據附表，哪一項敘述正確？(A) 希望國為貿易出超國 (B) 當希望國貨幣貶值時，對其進口商品有利 (C) 希望國整體經濟減弱，產品競爭力下滑 (D) 希望國物資貧乏，無法外銷商品。
3. 在經濟高度發展的今日，「綠色消費」逐漸受到社會大眾的重視。下列何種消費行為符合綠色消費的觀念？(A) 汽車使用高級汽油 (B) 外食使用免洗餐具(C)室內溫度維持 20 度(D)購買當地當季的蔬果。
4. 日月光高雄 K7 廠、彰化電鍍廠涉嫌偷排廢水，立委質疑現行法規難嚇阻不法行為。環保署長表示，支持提案將埋設暗管、惡意繞流等列入「水污染防治措施及檢測申報管理辦法」母法，增訂刑罰，並將罰鍰上限從 50 萬提高至 500 萬。企業應尊重自然，降低對環境的汙染，對地球上的任何區域，都要遵從保護原則。請問：上述內容強調企業應該重視哪一個主題？(A) 企業發展要重視生態 (B) 企業以賺取利潤為唯一目的(C)企業降低企業生產成本(D)可改善勞資關係。
5. 外匯存底是指中央銀行所保有的外匯數量。為了從事國際間交易，各個國家都會保留一定數額的外匯存底，以方便緊急時穩定、控制匯率，並因應平時國內人民的外匯需求。請問：造成臺灣外匯存底增加，與下列何者最具關聯性？(A) 中央銀行大量印製新臺幣 (B) 臺灣的出口總值 > 進口總值(C)臺灣通貨膨脹居高不下(D)臺灣的出口總值 < 進口總值。
6. 立法院將每年 6 月 5 日訂為環境日，明訂環境保護為國民事業及各級政府的共同責任。請問：上述是在求取哪兩者之間的平衡發展？(A) 環境保育與經濟發展 (B) 經濟發展與能源開發(C) 替代能源與經濟發展(D)環境保護與弱勢族群。
7. 在外匯市場中，新台幣升值不定，若新臺幣兌換美元的匯率由三十三比一變成三十比一，其影響如何？(甲)台幣升值有利進口(乙)台幣貶值有利出口(丙)美金貶值有利進口(丁)美金升值有利出口 (A) 甲丁 (B) 甲丙(C)乙丁(D)乙丙。
8. 臺灣在 2002 年加入世界貿易組織 WTO，對我國部分產業造成衝擊，為求生存，有毛巾業者將毛巾製作成蛋糕、點心模樣，色彩繽紛的毛巾商品，締造了銷售佳績，業者更因此轉型為觀光工廠，開創毛巾產業的第二春。根據上述，業者採取了何種方式面對危機？(A) 提升銷售技巧 (B) 結合政府力量 (C) 調整產業結構 (D) 拓展海外市场
9. 梅長蘇是企業領導人，下列何者是他必須為員工所付的責任？(甲) 提供教育訓練及員工福利 (乙) 保障員工有組織工會的權利 (丙) 提供安全健康平等的工作環境 (丁) 確保員工薪資隨著通貨膨脹而調整 (A) 甲乙丙 (B) 乙丙丁(C)甲丙丁(D)甲乙丁。
10. 金元寶想對「失業給付」多一些了解，分別從法律層面和請領程序去了解，查到下列訊息內容，請由選項內訊息判斷，何者正確？(A) 所有失業的人都可以領取失業給付 (B) 因為有失業給付，失業

者至少六個月皆不必找工作 (C) 失業給付可使失業者在求職期間有基本生活保障 (D) 失業給付是依據《勞動基準法》辦理。

11. 新聞報導：「日本首相安倍晉三為了振興國內經濟採貨幣寬鬆政策，造成日幣對新臺幣不斷贬值，導致最近一年來日幣贬值超過 21%，創下七年來的新低，匯率只有 0.2709……。」根據以上內容判斷，下列敘述何者正確？ (A) 臺商為了反映進口成本，日系家電及保養品紛紛漲價 (B) 日幣贬值，有利於日本進口外國商品 (C) 新臺幣升值，有利臺灣人到日本旅遊 (D) 臺灣企業購買日本工具機、零組件的成本增加了。

12. 當中央銀行以大量買入美元方式干預外匯市場。此時美元價格(如右圖)會出現什麼變化?(A)移往 P1 方向(B)移往 P2 方向(C)維持在 P(D)無法預測。

13. 中央銀行曾公布：「臺灣在 2009 年 4 月底的外匯存底為 3,046.59 億美元，較上月增加 45.37 億美元，最快在本季就能超前俄羅斯，奪下世界第三的寶座。」請問：外匯存底的累積與下列哪一項的關係最密切？(A) 勞動參與 (B) 國民儲蓄 (C) 國際貿易 (D) 薪資所得。



14. 阿翔進入職場已經十年，累積了一些工作經驗後，想自己開一間公司，從經濟考量，阿翔開公司的目的為下列何者？(A) 服務人群 (B) 慈善公益 (C) 賺取利潤 (D) 公平正義。

15. 對於有工作意願也具備工作能力，且有找工作的行動，卻找不到工作的人，就稱為失業者。下列哪一位目前處於失業的狀態？(A) 正在國外留學的阿琳 (B) 從學校退休的張老師 (C) 自願當家庭煮夫的陳先生 (D) 公司倒閉後待業中的王小姐。

16. 對於家庭經濟規畫的敘述，下列何者正確？(A) 男性為一家之主，必須承擔較多責任 (B) 女性應自動放棄財產的使用權利 (C) 國中階段的子女，可用分擔家務方式幫忙 (D) 在繼承權上，兒子享有優先權。

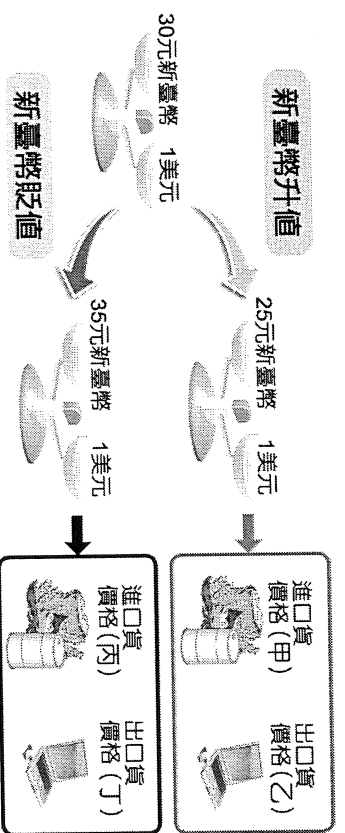
17. 郭子想到超商打工賺生活費，但店長告訴他，他還沒達到法定條件，希望他以學業為重。依上述敘述可知，郭子的身分最有可能是下列何者？(A) 高中剛畢業 (B) 高二生 (C) 國中剛畢業 (D) 國二生。

18. 「對環境的承諾——減少廢料，積極回收再造;對社區的承諾——致力為社區內睦鄰有所貢獻;對產地的承諾——幫助農民面對經濟環境問題」 以上內容是某咖啡企業年度報告的一部分，請問此內容與下列哪一種概念最有關聯？(A) 永續發展 (B) 企業倫理 (C) 外部成本 (D) 負擔能力原則。

雖然很多人都說科技公司的工程師收入很高，我前一陣子因為配合公司連續熬夜加班兩個月，雖然賺到不少的加班費。然而，健康檢查時，醫生卻說我肝功能指數異常，所以我決定過年前辭職，到鄉下種田當「開心農夫」...

19. 右列是某科技公司工程師的真情留言。請問：這段留言在說明何意義？(A) 每個人應該選擇一份高薪的職業，才能從中獲得榮耀感 (B) 工作並非只為了金錢滿足，也要兼顧身體的健康 (C) 對社會沒有貢獻的工作是沒有成就感的(D)除了努力工作，也要注意國內產業發展的狀況。

20. 匯率的變動對國際貿易的影響很大，附圖為匯率變動示意圖。請問：(甲)、(乙)、(丙)、(丁)依序應填入什麼？(A) 上漲、下跌、上漲、下跌 (B) 上漲、下跌、下跌、上漲 (C) 下跌、下跌、上漲、上漲 (D) 下跌、上漲、上漲、下跌。



21. 下列何者的消費行為是以「想要」為購買目的？(A) 強強看到同學的玩具 BB 槍而跟媽媽要求買一個 (B) 阿花因為弄丟手機而決定買一支新手機 (C) 壯壯打破水壺而決定再買一個新的 (D) 小華的橡皮擦用完打算去再買新的。

22. 小麗預計到美國遊學，她訂下 1 萬美元的遊學行程，現在 1 美元兌換新臺幣 30.6 元，請問：她要準備多少新臺幣付款？(A) 10,000 元 (B) 36,000 元 (C) 306,000 (D) 36,000 元。

	風力發電廠	太陽能發電廠
甲區 (1 小時)	80 萬瓦	70 萬瓦
乙區 (1 小時)	60 萬瓦	40 萬瓦

23. 雨不停國預計在甲區和乙區各設置一座發電廠，使用太陽能發電以及風力發電供應全國。經過專家測試後，預估兩地區在 1 小時內使用風力或太陽能的發電量如附表。請問：兩地區應如何設置電廠，才能讓發電數達到最大產量？(A) 在甲區設置風力發電廠，在乙區設置太陽能發電廠，在乙區設置風力發電廠 (C) 在甲區設置風力發電廠，乙區不設置發電廠 (D) 在乙區設置太陽能發電廠，甲區不設置發電廠。

24. 臺灣在 1980 年代發展成為新興工業化國家，自 1990 年起，亦將某些失去比較利益的產業，外移至東南亞或中國等地。請問：臺灣產業外移至這些地區，是由於當地具備哪一項優勢？(A) 資本雄厚且人力資源水準高 (B) 人力充沛且薪資低廉 (C) 資訊、電子等高科技產業發達 (D) 地大物博且擁有先進技術。

理財工具	獲利金額	投資金額
甲商品	100 元	1000 元
乙商品	5000 元	100000 元
丙商品	20 元	400 元
丁商品	700 元	14000 元

25. 菲特使用右表四種理財工具進行投資，哪一種商品的投資報酬率最高？(A) 甲商品 (B) 乙商品 (C) 丙商品 (D) 丁商品。

26. 就業是指受僱於人與自行創業，而受僱於人稱為「受僱者」。下列何人屬於「受僱者」？(A) 阿玉是工廠的作業員 (B) 阿德是一名國三生 (C) 老陳退休後擺了一個麵攤 (D) 阿宜自己開了一間咖啡店。

27. 右表是工廠內四位員工每小時可縫製錢包或手機袋的數量。若以機會成本的觀念來比較每位員工縫製錢包或手機袋的數量，在不考慮其他條件的情形下，哪一位員工生產「手機袋」的機會成本最低？(A) 小龍 (B) 小鳳 (C) 小虎 (D) 小馬。

人名	小龍	小鳳	小虎	小馬
成品				
錢包 (個)	10	6	6	12
手機袋 (個)	5	13	6	5

28. 住在美國的阿鳳經常出國旅遊，她蒐集了 4 個國家貨幣兌換美元的匯率變化，如附表所示。請問：若現在以同樣數量的美元去兌換這 4 個國家的貨幣，哪一個國家所換到的貨幣將比去年多？

年度	去年	今年
甲國貨幣：美元	242 : 1	262 : 1
乙國貨幣：美元	30 : 1	29 : 1
丙國貨幣：美元	9 : 1	7 : 1
丁國貨幣：美元	130 : 1	99 : 1

(A) 甲國貨幣 (B) 乙國貨幣 (C) 丙國貨幣 (D) 丁國貨幣。

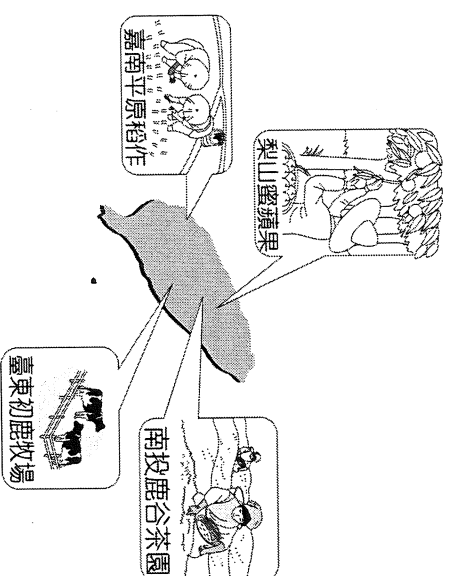
二、題組

(1) 王真心對於理財有她自己一套的方法：

- 甲、每天睡覺前，一定把一天的花費寫下來，製作成圓餅圖。
- 乙、雖薪資優渥月入五萬，但每個月總花費估計約 1 萬多元，只有「餐飲費」和「油資費」，沒有額外消費。
- 丙、將儲蓄的 2/3(約 50 萬)進行投資：10 萬元購買共同基金、20 萬元購買定期存款、30 萬元購買股票。
- 丁、預計投資獲利達到 100 萬時，100 萬來投資珍珠奶茶飲料店，兼差事業。
- 戊、把不要用的二手物品拿到 FB 二手拍賣社團去賣

29. 王真心的理財方法『甲』，其主要的目的為何？(A)檢視自己的收支狀況(B)分散投資風險(C)增加收入來源(D)設定投資目標。
30. 王真心的理財方法中，哪些行為是屬於『開源』？(A)甲乙丙(B)乙丙丁(C)丙丁戊(D)乙丁戊。
31. 王真心的理財方法中，哪一點是屬於『節流』？(A)乙(B)丙(C)丁(D)戊
32. 下面敘述是王真心投資的金額及其出售金額，請問：哪一項投資的報酬率最「高」？投資金額獲利(A)定期存款 20 萬、獲利 2 萬(B)股票 30 萬、獲利 20 萬(C)共同基金 10 萬、獲利 9 萬(D)珍珠奶茶飲料店 100 萬、獲利 80 萬

(2) 附圖是臺灣加入 WTO (世界貿易組織) 之後，四個地區農牧業經營特色簡圖。請問：



33. 附圖中臺灣四個地區各經營其特有的農牧業，其主要是以什麼原理為考量？(甲)外部成本(乙)分散風險(丙)比較利益(丁)機會成本 (A)甲乙 (B)丙丁 (C)乙丙 (D)甲丁。
34. 同樣是位於高山地帶的梨山地區與南投鹿谷，分別生產蜜蘋果與茶，其主要的原因為何？(A)梨山生產蜜蘋果的機會成本較高(B)鹿谷生產茶葉有絕對利益 (C)鹿谷生產蜜蘋果的機會成本較低 (D)梨山生產蜜蘋果有比較利益。
35. 為了因應加入 WTO (世界貿易組織) 所造成的衝擊，臺灣農牧業者為了提高競爭力，應朝以下哪一方向努力？(A)政府提高進口農產品之關稅 (B)重新調整產業結構 (C)強制人民愛用國貨 (D)削價競爭、薄利多銷。
36. 下列關於「臺灣對外貿易」的敘述，何者正確？
 (A)臺灣自然資源極多，不需進口 (B)對外貿易無助於臺灣的經濟發展 (C)透過國際貿易可以使生產活動不受自然資源的限制 (D)對外貿易就是鼓勵消費者消費本土資源所生產的產品。
37. 從國外買入貨品的總額，若大於把貨品賣到國外的總額，此時將形成何種貿易現象？
 (A)順差 (B)交易 (C)出超 (D)入超。

(3) 小朱與阿玄都是做衣服的師傅，他們每天固定工作 8 小時，附表是他們兩人一年之中製作衣服與褲子的時間與數量。請問：

38. 在每月生產褲子的產量上，小朱與阿玄誰比較具有優勢？(A)小朱 (B)阿玄 (C)兩者相同 (D)無法判斷。

39. 如果小朱與阿玄要合作生產衣服與褲子，依據比較利益法則，誰比較適合生產衣服？(A)小朱 (B)阿玄 (C)小朱生產一半，阿玄生產一半 (D)無法判斷。

40. 小朱與阿玄依比較利益分工合作之後，衣服與褲子的年產量將變為多少？(A)衣服 36 件，褲子 36 件 (B)衣服 24 件，褲子 24 件 (C)衣服 36 件，褲子 24 件 (D)衣服 24 件，褲子 36 件。

項目	小朱		阿玄		總計
	月	數量	月	數量	
衣服	6	18 件	8	16 件	34 件
褲子	6	12 件	4	12 件	24 件