

基隆市立武崙國中 104 學年度第一學期 第三次段考 八年級社會試卷——地理科

單選題：總共 50 題，每題 2 分。請用 2B 鉛筆依題號在電腦卡上作答，電腦讀卡時無法判斷身分者，扣總分 10 分。

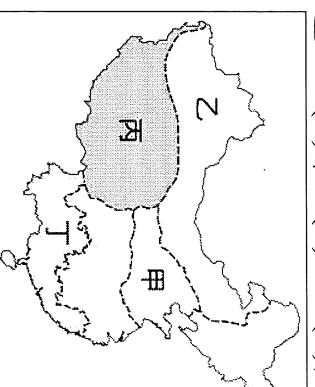
範圍：第三冊 L.5~L.6

年 班 座號： 姓名：

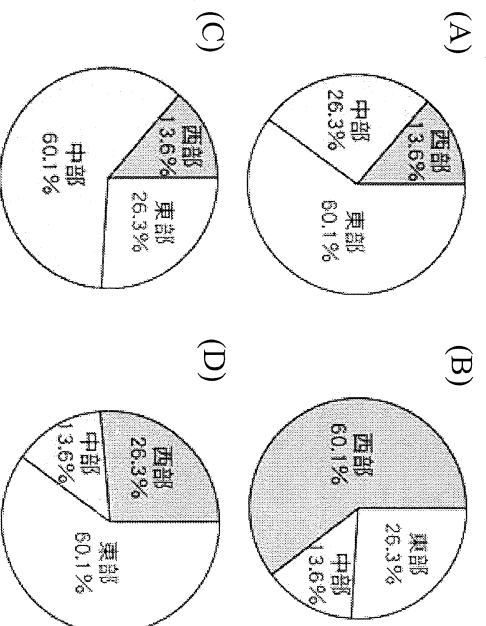
一、單選題

- () 中國近年來正在實施「三北防護林工程」，此生態工程主要是用來防止下列哪個環境問題的惡化？
(A) 土地沙漠化 (B) 圍湖造田 (C) 土壤鹽鹼化 (D) 土石流。
- () 王老閩欲前往中國投資，下列有關各項產業區位的評估中，何者正確？
(A) 南部礦產豐富，利於興建大鋼鐵廠 (B) 沿海地區交通便捷，適合開設商業銀行 (C) 西部內陸工資低廉，有利加工生產出口 (D) 北部僑資眾多，資金募集較為有利。
- () 哈瑪是新疆天山地區的牧民，每年固定趕著細毛羊，過著山牧季移移的生活。哈瑪在哪個季節要開始趕羊群上山吃草？
(A) 春季 (B) 夏季 (C) 秋季 (D) 冬季。
- () 中國第一級階梯因受限於自然環境，土地生產力較低，居民主要的經濟活動為何？
(A) 農業 (B) 林業 (C) 漁業 (D) 畜牧。
- () 中國近年來實施「南水北調」水利工程，主要是為了因應下列哪個地區的缺水問題？
(A) 華南 (B) 華中 (C) 東北 (D) 華北。
- () 世界每人平均分配到的水資源為 6,624 立方公尺，而中國的每人平均水資源量卻只有 2,132 立方公尺，主要原因為下列何者？
(A) 年降水量太少 (B) 缺乏河流與湖泊 (C) 總人口數太多 (D) 蒸發量過大。
- () 中國以何處作為水田農業區與旱地農業區的分界線？
(A) 黑河至騰衝 (B) 南嶺 (C) 長城 (D) 秦嶺、淮河。
- () 吐魯番窪地的艾丁湖目前已面臨乾涸的命運。請問：下列何者是造成艾丁湖乾涸的主要原因？
(A) 土地沙漠化 (B) 過度引河水灌溉 (C) 長江上游汙染嚴重 (D) 居民圍湖造田。
- () 中國在北部地區除對農牧採取限制措施之外，還啟動「三北防護林」工程。請問：三北地區不包括下列哪個行政區？
(A) 內蒙古自治區 (B) 寧夏回族自治區 (C) 廣西壯族自治區 (D) 新疆維吾爾自治區。
- () 下列哪個地區因黃河流經，水土流失嚴重，故有「黃河水，一碗水，半碗泥」的諺語？
(A) 四川盆地 (B) 黃土高原 (C) 東北平原 (D) 華北平原。
- () 中國農民為因應耕地不足的問題，在湖邊「圍湖造田」與水爭地，雖然增加了糧產，但也帶來嚴重的環境問題。請問：上述「圍湖造田」的做法，造成下列哪個湖泊面積大幅縮減？
(A) 青海湖 (B) 納木錯 (C) 艾丁湖 (D) 洞庭湖。
- () 根據國際能源總署的最新報告指出，中國是目前全世界最必須實施節能減碳的國家。請問：這與中國的哪項環境因素最相關？
(A) 沙塵暴持續擴大，危及他國 (B) 石油礦產產量高居世界首位 (C) 因發展工業，排放出大量二氧化碳 (D) 人口眾多，環境負載力降低。
- () 中國在經濟改革開放前，偏重發展何種性質的工業？
(A) 出口導向工業 (B) 國防重工業 (C) 民生輕工業 (D) 轉口貿易工業。

- () 下圖是中國六大地區示意圖。臺灣、日本及南韓在每年春季，常遭受由中國發生的沙塵暴所帶來的空氣汙染。請問：中國沙塵暴主要發源於圖中哪個地區？
(A) 甲 (B) 乙 (C) 丙 (D) 丁。



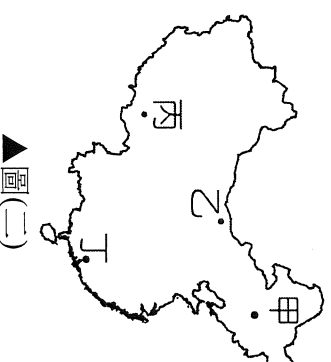
- () 若要利用圖示來呈現中國三大經濟帶的產值比例，則下列哪張圓餅圖的數值最正確？



- () 中國為針對國內日趨嚴重的環境問題召開論壇，商討解決方案，其廣告海報如圖(一)所示。請問：該論壇若欲在該環境問題最嚴重的地方召開，則地點在圖(二)中的何處最為適合？
(A) 甲 (B) 乙 (C) 丙 (D) 丁。



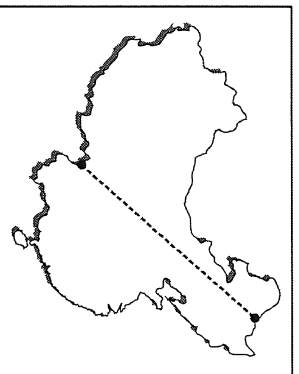
▲圖(一)



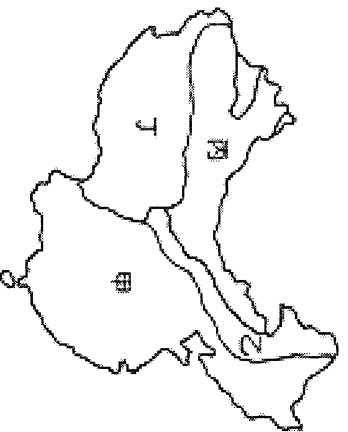
▲圖(二)

- () 中國改革開放後，受市場需求影響，下列哪種類型的作物栽種面積縮減最為顯著？
(A) 蔬菜作物 (B) 果樹作物 (C) 糧食作物 (D) 紡織作物。
- () 新疆準噶爾盆地、塔里木盆地等地區，發展農業主要依賴何種水源？
(A) 雨水 (B) 黃河河水 (C) 高山融化的雪水 (D) 內陸湖水。

19. () 下圖是中國某地理現象的分布特色。請問：圖中界線最可能為何者的分界？ (A)水田、旱田 (B)農業與牧業活動 (C)二穫區、三穫區 (D)游牧與放牧活動。



20. () 近年來中國農、牧業已從傳統的自給自足轉變為以商業性為主，為使專業化生產的農、牧產品，能更有效率的輸送至各地，並降低成本，下列哪個配套措施更顯得重要？ (A)改善交通系統 (B)改良農業技術 (C)更新宣傳方法 (D)改進灌溉設施。
21. () 「新疆是亞洲面積最大的乾旱區域，但近二十年來因農業技術改良，而使得昔日荒涼之地，現今成為一畝畝良田，其主要的農作物年產量占全國 40%，為全國之首。」下列何者為上述的主要農作物？ (A)茶樹 (B)小麥 (C)稻米 (D)棉花。
22. () 中國的產業人口比例中，農業就業人口比例愈來愈少，主要受下列哪項因素的影響？ (A)觀光農業的興起 (B)交通建設的進步 (C)經濟結構的轉變 (D)農業經營的集約。
23. () 儘管中國對沙漠化投入許多心力去管理與防治，但沙漠化土地面積仍持續在擴大中。請問：下列何者不是導致土地沙漠化的原因？ (A)不當農墾 (B)過度放牧 (C)圍湖造田 (D)過度砍伐。
24. () 「生態專家曾警告，過度引取河水灌溉，將會導致該河川下游的湖泊面積日漸萎縮，甚至乾涸。」上述的情形若要提出實例作為佐證，則下列哪個湖泊最為適合？ (A)洞庭湖 (B)青海湖 (C)鄱陽湖 (D)艾丁湖。
25. () 下圖為中國牧業分區圖。圖中丙區的傳統產業活動為下列何者？ (A)欄牧 (B)放牧 (C)游牧 (D)山牧季移。



26. () 下表是某個農家的收穫簡表。由收穫的季節及作物種類來看，這個農家最可能位在中國哪個地理區？ (A)四川盆地 (B)華北平原 (C)青藏高原 (D)珠江三角洲。

時節	收成作物
春末夏初	小麥
秋初	玉米、高粱、小米

27. () 中國的西北區域以畜牧活動為主，境內少數地區的農業活動，主要依賴何種工程才能發展？ (A)施肥工程 (B)排水工程 (C)交通工程 (D)灌溉工程。

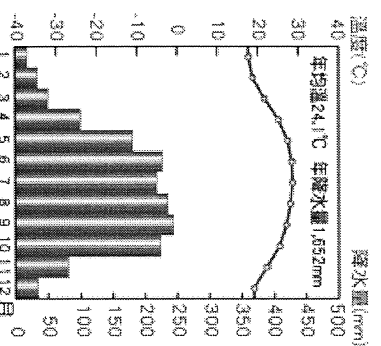
28. () 中國東部經濟帶擁有許多工商業密集的地區，其中哪個工業地帶包含了兩個直轄市？ (A)環渤海工業地帶 (B)長江三角洲工業地帶 (C)珠江三角洲工業地帶 (D)遼東工業地帶。

29. () 凍土是指土壤中的水，在氣溫 0°C 以下結凍的現象，包括季節性凍土及多年性凍土。請問：在季節性凍土區的夏季時，下層多年性凍土仍結凍，地表上會呈現下列何種景觀？ (A)農田 (B)疏林 (C)沼澤 (D)草原。

30. () 青藏高原南部的雅魯藏布江谷地，因受西南季風影響，氣候較為暖溼，可發展農業。請問：該地區西南季風的水氣主要來自何處？ (A)印度洋 (B)太平洋 (C)大西洋 (D)北極海。


31. () 中國於西元 2010 年設立的第六個經濟特區——喀什，位於下列哪個地區？ (A)內蒙古 (B)新疆 (C)青藏 (D)雲南。

32. () 下圖為中國某地區氣候圖。請問：該地區的糧食作物最有可能為何？ (A)小麥 (B)高粱 (C)水稻 (D)小米。

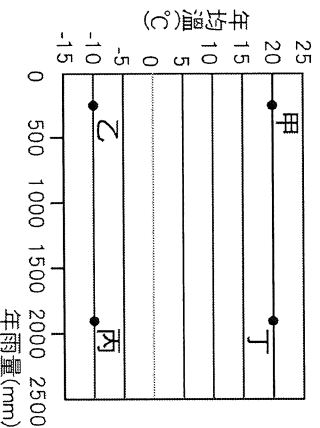


33. () 中國水患發生的可能因素有：(甲)上游砍伐天然林 (乙)過度放牧 (丙)開闢梯田 (丁)中下游大舉圍湖造田。近年來，常在新聞報導中看到中國長江流域的居民，雨季時遭受水患之苦。造成長江流域水災加劇的主要原因為下列何者？ (A)甲乙 (B)甲丙 (C)甲丁 (D)丙丁。

34. () 下圖中呈現「草格固沙」景觀，是中國某地區為了治理當地環境問題所採取的措施，此地區最可能位於下列何地？ (A)湖北 (B)福建 (C)江蘇 (D)內蒙古。



35. () 人類在乾燥的土地上發展農耕，容易因過度灌溉而使土壤產生鹽鹼化。請問：下圖中哪個地區最容易發生土壤鹽鹼化現象？ (A)甲 (B)乙 (C)丙 (D)丁。

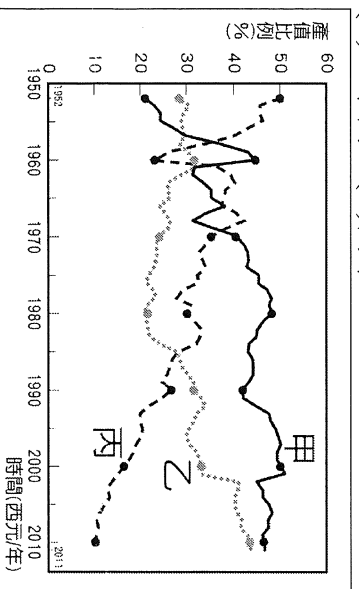


36. () 報導指出：「中國針對男性因肺癌死亡的人數進行統計，發現肺癌的高死亡率地區集中在中國的東北及華北，華中、華南較低，西部地區最低，而追究罹癌的原因，最可能與空氣中的有毒汙染物濃度有關。」請問：根據這種空間分布的差異，可判斷文中所敘述的與華北、東北的哪項共同特徵關係最密切？ (A)第一級產業人口多 (B)重工業較發達 (C)冬季氣溫偏低 (D)森林資源偏少。

37. () 下列為中國各種農作物的主要分布圖。請問：其中何者最能代表稻米的主要分布狀況？

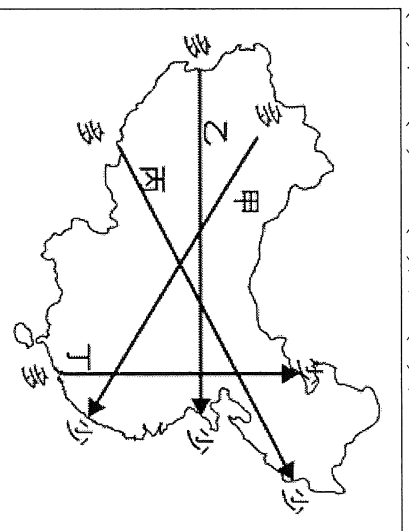


38. () 下圖為中國三級產業產值占 GDP 的比重變化圖。請由圖判斷，第一級、第二級、第三級產業的 GDP 分別為圖上的哪條曲線？ (A)甲乙丙 (B)甲丙乙 (C)乙甲丙 (D)丙甲乙。



39. () 青藏高原是中國及中南半島多條大河的源頭，但下列哪條河川並非發源於此地區？
(A)長江 (B)黃河 (C)黑龍江 (D)雅魯藏布江。
40. () 「上游飽經亂砍濫伐和耕地化，使山的保水能力下降，水土流失面積已達到 35%。專家警告說：『它可能成為第二條黃河。』」這樣的狀況最有可能出現在哪條河川？ (A)長江 (B)黑龍江 (C)塔里木河 (D)雅魯藏布江。

41. () 地理老師請同學上臺利用箭頭畫出中國的農業收穫次數多寡，依據中國的實際狀況判斷，下圖中哪個箭頭所呈現的情形最為正確？
(A)甲 (B)乙 (C)丙 (D)丁。



42. () 中國湖南地區推行「圍湖造田」、「向湖要糧」的改革，結果使得糧米產量增加，卻也造成環境問題，其中以下列何者最為嚴重？ (A)土壤鹽鹼化 (B)灌溉減少 (C)水患頻繁 (D)航運降低。

43. () 近年來由於蒙新地區土地沙漠化嚴重，加上每年冬季季風吹拂，使得華北地區經常遭受到沙塵暴侵襲而導致視線不良、意外頻傳。請問：上述冬季季風的風向應該為何？
(A) ↓ (B) ↘ (C) ↙ (D) ↖。

44. () 中國實施經濟改革開放後，陸續在東南沿海設立經濟特區，因具備哪些優勢，能吸引外商投資，成功帶動經濟發展？(甲)廉價勞工 (乙)便利交通 (丙)管理經驗 (丁)優惠政策 (戊)豐富礦產
(A)甲乙丙 (B)甲乙丁 (C)乙丙丁 (D)丙丁戊。

45. () 長江三峽大壩是具有綜合功能的大型水壩，對重慶市而言，在大壩完工後獲得最大的益處是下列何者？ (A)防止洪患發生 (B)電力供應充足 (C)航運價值提高 (D)可耕地增加。

46. () 三北防護林、風沙源治理、三峽大壩、以及南水北調，是中國近年實施的四大環境工程，若全部工程順利完工後，受益最大的應是下列哪個城市？
(A)北京 (B)上海 (C)重慶 (D)廣州。

47. () 「20 多年前，這裡也曾經是草木叢生，水源豐厚。現在犧牲畜相當困難，牧民必須從大老遠挑水回來，分成幾個小盆讓牲口喝，強勁的風沙早把草原給覆蓋殆盡……。」這種現象最有可能出現在下列何地？ (A)東北平原 (B)青藏高原 (C)長江三角洲 (D)內蒙古高原。

48. () 中國計畫在橫斷山脈興建大型水利設施，以便蓄水供應雲南地區的發展，但這項建設將可能引發與鄰近國家的衝突。請問：上述的鄰國大多位於下列哪個地區？ (A)阿拉伯半島 (B)印度半島 (C)中南半島 (D)朝鮮半島。

49. () 中國季風氣候區的水資源極為豐富，但因降雨集中夏季及年雨量變化大等特性，造成缺水現象。若將季風氣候再細分，則下列哪個氣候區的缺水問題最為嚴重？ (A)熱帶季風氣候區 (B)副熱帶季風氣候區 (C)溫帶季風氣候區 (D)寒帶季風氣候區。
50. () 「全球暖化使得此地區冰河後退，短期內可能會使發源於此區的河流氾濫，造成水災，但長期而言，這些河流的水位將會下降，引發乾旱，威脅下游鄰國，影響印度、緬甸等國的人民生活。」上文所述的地區位於下圖中何處？
(A)甲 (B)乙 (C)丙 (D)丁。

