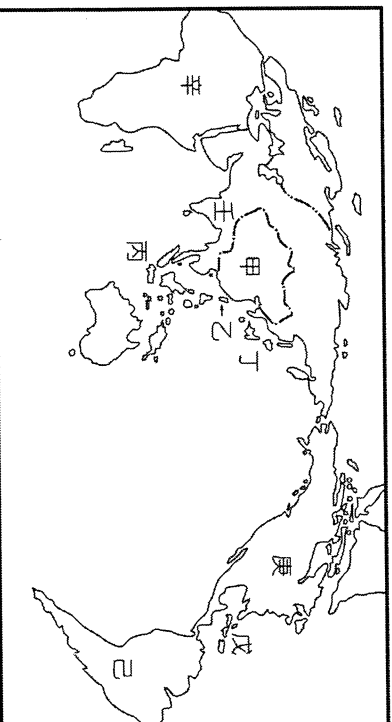


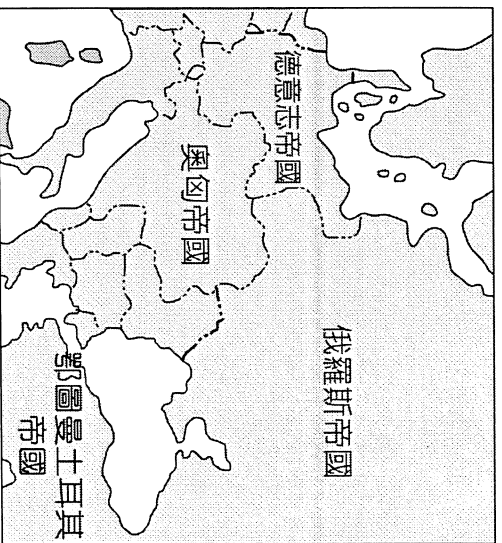
一、單一選擇題 (每題2分)

- () 1. 19 世紀巴爾幹半島的國家第一次世界大戰之前陸續獨立，請問在獨立之前，此地區是由下列哪一個國家統治？
 (A) 塞爾柱土耳其帝國 (B) 鄂圖曼土耳其帝國 (C) 奧匈帝國 (D) 德意志帝國。
- () 2. 巴爾幹半島素來糾紛不斷直至今日，已經獨立的塞爾維亞、克羅埃西亞等國仍常有衝突摩擦的狀況發生。造成這種情形的最主要原因是什麼？
 (A) 經濟恐慌危機 (B) 種族宗教複雜 (C) 戰略位置重要 (D) 專制獨裁統治。
- () 3. 雖然第一次世界大戰為人類文明帶來了巨大的破壞，但也帶來了哪一方面的正面影響？(甲) 設置聯合國，維護世界和平(乙) 婦女地位的提升，獲得參政權(丙) 文學藝術的反思，創作層出不窮(丁) 新帝國主義興起，釀起第二次世界大戰
 (A) 甲乙 (B) 丙丁 (C) 甲丁 (D) 乙丙。
- () 4. 「德國所注意的不是普魯士的自由主義，而是權力……當代的重大問題不是通過演說與多數人的決議所能解決的……而是要用鐵和血。」請問：發表這篇演說的人是誰？
 (A) 俾斯麥 (B) 加富爾 (C) 加里波底 (D) 馬志尼。
- () 5. 有位十九世紀的詩人曾說，在義大利統一過程中，有三位當代人物對國家統一作出重要的貢獻：加富爾相當於義大利的腦袋，主導外交策略；加里波底象徵義大利的利劍，達成軍事任務；下列何人則象徵義大利的靈魂，激發民族意識？(A) 俾斯麥 (B) 馬志尼 (C) 拿破崙 (D) 玻利瓦。
- () 6. 武崙藝術中心計畫展覽 19 世紀注重光與影表現的印象畫派藝術，想以某位藝術家的作品作為本次展覽的代表，下列何人是最適當的選擇？
 (A) 梵谷 (B) 達文西 (C) 畢卡索 (D) 米開朗基羅。
- () 7. 為處理第一次世界大戰戰後的國際事務而召開的巴黎和會，是以何人所提出的「十四點原則」作為指導綱領？
 (A) 美國總統羅斯福 (B) 美國總統威爾遜 (C) 法國總理克里蒙梭 (D) 英國首相勞合喬治。
- () 8. 小九子複習西元 19 世紀歐洲歷史時，發現俾斯麥和加富爾在歷史中扮演重要的關鍵角色，他們兩人共同成就為何？
 (A) 推翻拿破崙統治 (B) 鼓吹自由民主革命 (C) 提倡婦女擁有參政權 (D) 促進國家完成統一。
- () 10. 日耳曼的統一歷經以下的歷史事件：(甲) 普奧戰爭(乙) 關稅同盟(丙) 普法戰爭(丁) 威廉一世在凡爾賽宮即位，上述事件依時間先後排列，其正確順序為何？
 (A) 甲乙丙丁 (B) 乙甲丙丁 (C) 乙丙甲丁 (D) 丙乙甲丁。
- () 11. 1860 年代以後，日本的有識之士大力呼籲改革，以突破內憂外患的困境；下列哪一項最可能是當時維新人士所提出的共同主張？
 (A) 實施君主專制，重君權以消除國內反對勢力
 (B) 效忠幕府將軍，團結一致以抵抗外國的侵略
 (C) 振興武士道精神，重建階級嚴明的社會體制
 (D) 提倡文明開化，積極學習西方的科技與制度。
- () 12. 拉丁美洲各國因有美國門羅宣言在背後支持，紛紛獨立成功，探討催化其獨立的外在影響因素，不包括下列何者？
 (A) 啟蒙運動思想 (B) 美國獨立 (C) 工業革命 (D) 法國大革命。
- () 13. 老師在黑板上寫了(甲)協定關稅(乙)鉅額賠款(丙)領事裁判權(丁)割讓領土(戊)剷除軍備。請問：第一次世界大戰後，對德國簽訂的凡爾賽條約，內容包括哪些？
 (A) 甲乙丙 (B) 甲乙戊 (C) 乙丁戊 (D) 甲乙丁。
- () 14. 雷馬克的《西線無戰事》最能表現出下列哪一特色？
 (A) 對戰爭的厭惡 (B) 為德國戰敗發出不平之鳴 (C) 核子時代的來臨 (D) 對工業革命的批判。
- () 15. 19 世紀前期，文學、音樂家強調人的情感和個性的解放，思想界興起浪漫主義，此思潮的出現是反思哪一思想太注重理性的影響？(A) 寫實主義 (B) 啟蒙思想 (C) 民族主義 (D) 自由主義。
- () 16. 老師請同學用精簡的話語介紹佛洛伊德的學術貢獻，下列哪一句話最適切？
 (A) 探索人的意識狀態，建構系統的心理學說
 (B) 發現萬有引力定律，奠定近代科學的基礎
 (C) 重新解釋物質運動，改變傳統的時空觀念
 (D) 研究人類群體行為，提出重要的社會理論
- () 17. 愛因斯坦在物理學上最大的成就是什麼？
 (A) 提出「進化論」 (B) 研究放射線 (C) 提出潛意識 (D) 提出「相對論」。
- () 18. 新帝國主義國家認為自己的民族、文化、宗教都是最優秀的，因而負有教化殖民地地區的使命感，這是因為受到何種主義的影響？(A) 資本主義 (B) 共產主義 (C) 浪漫主義 (D) 社會達爾文主義。
- () 19. 日本在列強侵逼之下，簽定不平等條約，喪權辱國，有識之士因而提出「尊王攘夷」。請問中國歷史上於何時也曾提出此政策？(A) 西周 (B) 東周 (C) 秦 (D) 漢。
- () 20. 原屬「三國同盟」中的成員，後來卻背棄盟約轉而投效「三國協約」的敵營，因而被稱為是「出牆的紅杏」。指的是哪一個國家？(A) 奧國 (B) 義大利 (C) 德國 (D) 俄國。

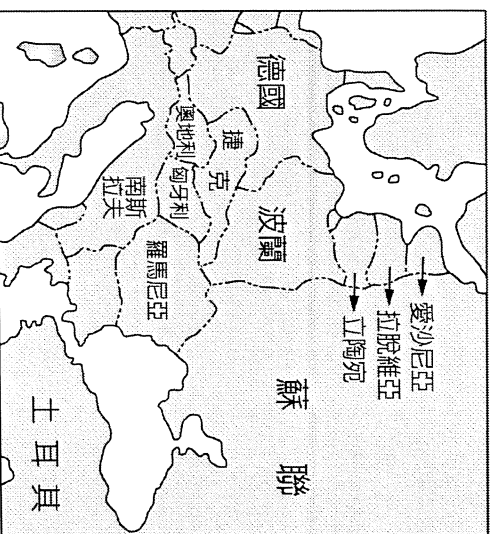
- () 21. 地理大發現促成舊帝國主義國家興起，舊帝國主義國家中，有哪兩國曾經侵略「臺灣」？
 (A)英國、法國 (B)西班牙、葡萄牙 (C)西班牙、荷蘭 (D)英國、荷蘭。
- () 22. 小丸子一個人到歐洲遊玩，發現這個地方的人群信仰不一，種族也很複雜，原來這裡在西元 19 世紀曾有「歐洲火藥庫」之稱；請問：依照上文描述，小丸子最有可能去歐洲哪個地方？
 (A)巴爾幹半島 (B)義大利半島 (C)伊比利半島 (D)斯堪地那維亞半島。
- () 23. 寫實主義是 19 世紀文藝發展主要派別之一，其興起背景為何？
 (A)科學革命 (B)工業革命 (C)美國獨立 (D)啓蒙運動。
- () 24. 第一次世界大戰結束後，有四大帝國紛紛瓦解，其中哪一帝國不是因為大戰失敗而宣告瓦解？
 (A)德意志帝國 (B)鄂圖曼土耳其帝國 (C)奧匈帝國 (D)俄羅斯帝國。
- () 25. 第一次世界大戰美國中途加入戰場的敘述，哪些項目是不正確的？
 (A)因為德國採用無限制潛艇政策 (B)因為德國煽動墨西哥反美 (C)因為珍珠港事變爆發 (D)因為美國國會通過而宣戰。
- () 26. 西元 1914 年發生於歐洲的「塞拉耶佛事件」，原為兩國之間的區域衝突，結果卻演變為第一次世界大戰的導火線，造成這種情況的原因為何？
 (A)不同國家結盟對立 (B)國際自由主義高漲 (C)美國實行孤立主義 (D)民族自決原則興盛。
- () 27. 德國的「第二帝國」即指德意志帝國，請問：此帝國的建立與滅亡各在哪一次戰爭後？
 (A)第一次世界大戰、第二次世界大戰 (B)普法戰爭、第一次世界大戰 (C)普奧戰爭、第一次世界大戰 (D)普法戰爭、第二次世界大戰。
- () 28. 以下何者不會出現在第一次世界大戰？(A)原子彈 (B)坦克 (C)潛艇 (D)毒氣。
- (一) 19 世紀後期，歐洲各國重新開始其殖民帝國的擴張。請參看附圖，回答下列問題：



- () (29) 新帝國主義國家對世界各地的掠奪中，圖中哪一區域幾乎被瓜分殆盡，只剩下兩個獨立的國家？
 (A)甲 (B)辛 (C)壬 (D)己。
- () (30) 新帝國主義擴張中，哪一區域是英國在亞洲的主要根據地？
 (A)甲 (B)乙 (C)丙 (D)壬。
- () (31) 圖中戊、己兩區在新帝國主義擴張中，受到哪一國家的侵略與干涉？
 (A)西班牙 (B)葡萄牙 (C)美國 (D)英國
- (二) 德國與義大利的統一是一 19 世紀歐洲重要的歷史事件，兩國的統一過程各具特色。請問：
- () (32) 兩國統一過程非常類似，統一之前都小邦林立，一直到受到什麼影響，兩地區興起民族意識？
 (A)希特勒侵略周邊國家 (B)拿破崙宣揚民族思想 (C)加富爾鼓吹富國強兵 (D)建立關稅同盟。
- () (33) 德國、義大利統一的領導核心王國分別是？
 (A)普魯士王國、薩丁尼亞王國 (B)薩丁尼亞王國、德意志帝國 (C)神聖羅馬帝國、普魯士王國 (D)東哥德王國、神聖羅馬帝國
- () (34) 下列何者是 19 世紀時，義大利與德意志統一共同障礙？
 (A)英國、美國 (B)奧國、法國 (C)奧國、俄國 (D)俄國、法國。
- () (35) 義大利統一過程中建立紅衫軍，並把佔領的土地獻給後來統一王國的是何者？
 (A)馬志尼 (B)加里波底 (C)加富爾 (D)俾斯麥。
- () (36) 義大利與德意志都因為哪一場戰爭而完成統一？
 (A)英法聯軍 (B)普奧戰爭 (C)日俄戰爭 (D)普法戰爭。
- (三) 第一次世界大戰結束後，勝利各國在巴黎召開和會，解決戰後的各種問題。請問：
- () (37) 巴黎和會後建立國際聯盟，以維護世界和平為宗旨，但成效卻不彰，主因是哪一國家並未加入有關？
 (A)德國 (B)英國 (C)美國 (D)中國
- () (38) 巴黎和會的「三巨頭」分別是哪三個國家的代表？
 (A)英、法、俄 (B)英、美、法 (C)英、美、俄 (D)美、俄、中。
- () (39) 巴黎和會因對中國的「山東問題」處決不公，導致中國引發哪一事件？
 (A)五九國恥 (B)九一八事件 (C)自強運動 (D)五四運動。
- (四) 圖(一)及圖(二)分別是歐洲兩個不同時代的疆域圖。請問：

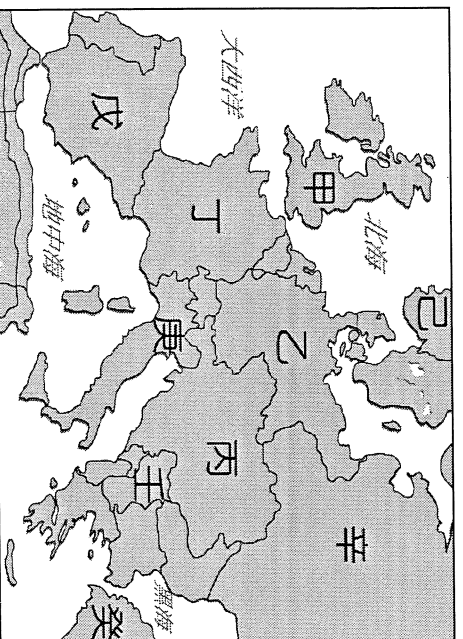


▲圖(一)

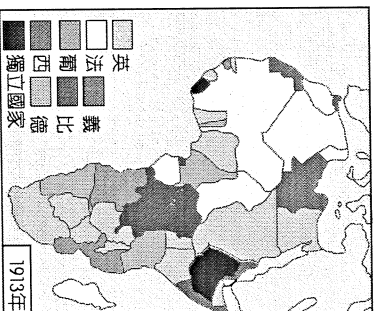
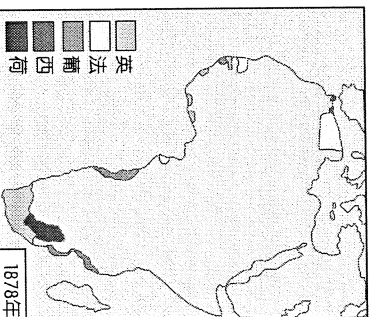


圖(二)

- () (40) 由圖(一)演變至圖(二)的主要因素是什麼?
 (A) 拿破崙戰爭 (B) 普法戰爭 (C) 第一次世界大戰 (D) 第二次世界大戰。
- () (41) 由圖(一)演變至圖(二), 反映了下列哪一種重要的時代思潮?
 (A) 民族自決 (B) 帝國主義 (C) 浪漫主義 (D) 自由主義。
- (五) .如圖是第一次世界大戰前夕歐洲形勢圖。請問：



- () (42) 下列哪一組國家稱為「三國同盟」? (A) 甲乙丁 (B) 甲丁辛 (C) 乙丙庚 (D) 丙庚壬。
- () (43) 大戰的導火線爆發於哪一組國家的衝突? (A) 乙壬 (B) 乙丙 (C) 丙壬 (D) 乙丁。
- () (44) 大戰期間, 哪一國發生革命而退出戰場? (A) 己 (B) 庚 (C) 辛 (D) 壬。
- () (45) 交戰雙方在西線的戰場形成壕溝戰, 協約國在西線的主力國家為何?
 (A) 甲丁 (B) 乙丁 (C) 乙庚 (D) 丁戊
- (六) .小丸子來到西元 18 世紀的日本長崎, 請問：
- () (46) 小丸子看到長崎出現許多講著外國話的西方人。請問：這些西方人最有可能是下列哪個國家的人?
 (A) 荷蘭 (B) 法國 (C) 美國 (D) 德國。
- () (47) 承上題, 請問：小丸子所看到的時代, 應該是日本歷史上哪個時代?
 (A) 鎌倉幕府時代 (B) 室町幕府時代 (C) 江戶幕府時代 (D) 明治天皇時代。
- () (48) 小丸子覺得日本的歷史很有趣, 便認真閱讀日本歷史, 發現日本在近代史的發展上和中國非常類似, 以下對於中日兩國的情況何者說明「錯誤」?
 (A) 兩國都因西方宗教衝突而宣布驅離外國人 (B) 兩國都因外國武力入侵而被迫開港通商 (C) 脅迫日本開放鎖國通商的列強是英國人 (D) 兩國都在戰後進行仿效西化的改革。
- () (49) 圖(一)、圖(二)是小丸子在書上看到的插圖, 這二幅圖的變化最能說明下列何者在非洲的發展? (A) 鎖國政策 (B) 區域統合 (C) 民族自決 (D) 帝國主義。



- () (50) 有一個調查團曾發表如下的報告：「我們不認為日本所採取的行動, 是一種合法的自衛手段。……當地統治者名義上是滿洲人, 實權卻操之於日本官吏及顧問手中, 在當地華人心目中, 統治者純粹是日人的工具而已……。」這個調查團應隸屬於下列哪一組織? (A) 聯合國 (B) 歐洲聯盟 (C) 亞太經濟合作會議 (D) 國際聯盟