

基隆市立武崙國民中學 104 學年度第二學期第一次段考九年級地理科試題卷

九年 班 號 姓名

請用答案卡作答

一、題組題：每題 4 分，共 20 分

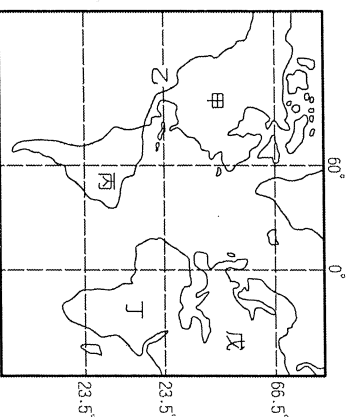
* 右圖為世界主要陸地圖。請回答下列問題：

(1). 目前世界上人口的問題正日趨嚴重，包括了人口過多及分布不均的情況。圖中的哪一個地區人口為世界第二，僅次於亞洲？

- (A) 甲 (B) 丙 (C) 丁 (D) 戊

(2). 根據圖中經緯線判斷，丙地區的絕對位置應有哪一條經緯線通過？

- (A) 赤道 (B) 國際換日線 (C) 北回歸線 (D) 南極圈

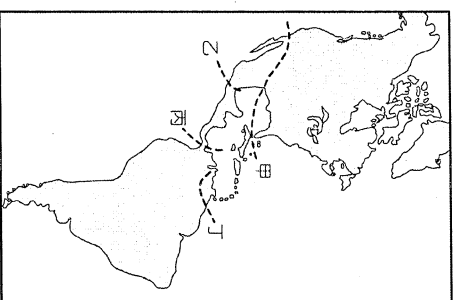


* 美洲地區的面積廣大，位置橫跨南北半球地區，形成各地區的發展特色。下列為美洲地區的疆域簡圖，其中線段分別為各主要地區特色分界線。請根據圖資料回答下列問題：

(3). 美洲地區的主要分界線如右圖所示，請問：北美洲和拉丁美洲的分界線主要為何者？ (A) 甲 (B) 乙 (C) 丙 (D) 丁

(4). 世界上唯一的聯洋運河位於美洲地區。請問這條運河的位置主要位於何處？ (A) 甲 (B) 乙 (C) 丙 (D) 丁

(5). 承上題，請問該運河聯結下列哪兩個海域間的水運交通？(A) 太平洋、印度洋 (B) 太平洋、大西洋 (C) 大西洋、印度洋 (D) 大西洋、地中海。



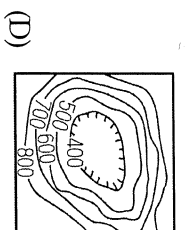
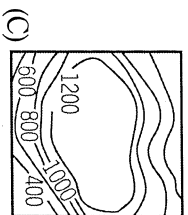
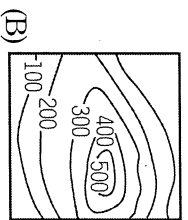
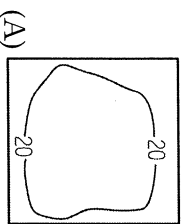
二、單選題：每題 2 分，共 80 分

(6). 西元 2016 年奧運將在巴西聖約舉辦，來自於中南美洲的巴西已申奧成功。請問：有關中南美洲海陸位置的敘述，何者正確？

- (A) 位於美國以北 (B) 位於東半球 (C) 位於太平洋東側 (D) 位於大西洋東側

(7). 「集約農業」是指在單位面積的土地上，投入大量的勞力、資金，以提高單位面積產量的經營方式。請依此定義斷，下列何者最不可能是集約農業？(A) 游耕農業 (B) 稻作農業 (C) 綠洲農業 (D) 熱帶栽培業

(8). 全世界流域面積最為廣大的亞馬孫河，因為受到哪一種地形的影響，因此有利於水源的集中，河川流量相當穩定而豐富？

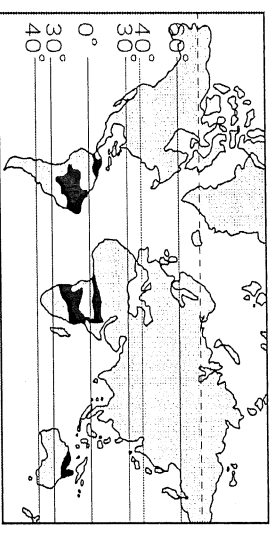


(單位：公尺)

(9). 由於那一地形區的阻隔，使得非洲在族群及宗教文化有極大的差異？ (A) 撒哈拉沙漠 (B) 東非高原 (C) 剛果盆地 (D) 喀拉哈里盆地

(10). 巴塔哥尼亞高原為南美洲唯一的溫帶沙漠氣候區，其形成的因素為何？(甲)位於盛行西風背風處 (乙) 背東南信風 (丙) 暖流流經 (丁) 寒流流經 (A) 甲乙 (B) 丙丁 (C) 乙丙 (D) 甲丁

(11). 上地理課時，同學們針對有關中南美洲人種、文化、宗教方面作討論，哪一個人敘述是正確的？ (A) 小麥：「人種複雜，但混血比例不高」 (B) 喬喬：「多數人信奉伊斯蘭教」 (C) 朵拉：「歐洲人進入中南美洲，為當地人帶來進步和幸福，並未造成困境」 (D) 卡比：「文化及族群上呈現多元面貌」



() 12. 右下圖是世界某種氣候類型的分布圖。請問：何者是該種氣候類型的特徵？

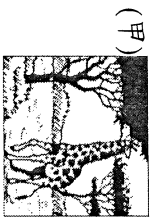
- (A) 全年有雨 (B) 全年少雨 (C) 夏乾冬雨 (D) 夏雨冬乾
 () 13. 亞馬孫盆地的保育問題已成為全球性的議題，請問若以保育的觀點出發，該地區對於自然環境的主要功用中，『未』包括何者？ (A) 吸收二氧化碳 (B) 提供生物氧氣 (C) 針葉林保護區 (D) 物種生存空間

() 14. 有關非洲四處低地的配對，何者正確？

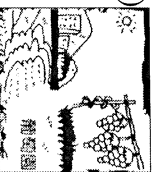
- (A) 北—剛果盆地 (B) 中—喀拉哈里盆地 (C) 南—撒哈拉盆地 (D) 東—東非大裂谷

() 15. 壯壯到非洲旅遊，他從右圖中的A地向南出發，一路玩到B地，沿途看到的景觀依序是何者？


- (A) 甲乙丙丁 (B) 乙丙甲丁 (C) 丙乙甲丁 (D) 丁甲丙乙



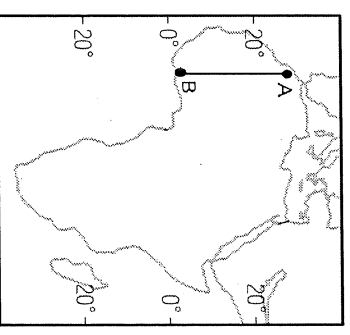
(乙)



(丙)



(丁)



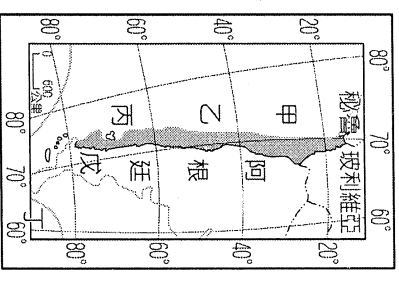
() 16. 吉田想要開一家玩具加工廠，外銷至美國。若考量經濟體及勞力區位，他應該把工廠開在那個國家最有利？ (A) 巴西 (B) 加拿大 (C) 巴拿馬 (D) 墨西哥

() 17. 地理大發現後，許多曾被殖民的國家或新移民區，常會受到外在影響而通用各種語言，根據右表推論，「？」中所代表的國家應該是那一國？ (A) 委內瑞拉 (B) 智利 (C) 阿根廷 (D) 巴西

() 18. 位於非洲北端的埃及，搭船越過哪一個海域將會進入到南歐地區，形成兩地互動頻繁的文化交流？ (A) 北海 (B) 紅海 (C) 地中海 (D) 白令海

國家	通用語言
中美洲多國	西班牙語
加拿大魁北克省	法語
美國	英語
南美洲？國	葡萄牙語

() 19. 南美洲許多國家的疆域面積狹長，因此形成許多不同的氣候類型。請問右圖中該國因國土南北狹長，氣候分成甲乙丙三種的氣候類型，應該是指哪一個國家？ (A) 巴西 (B) 烏拉圭 (C) 厄瓜多 (D) 智利



() 20. 承上題，右圖中的該國因國土狹長，形成多種氣候，有關各區的氣候特徵，下列何者正確？ (A) 甲區因背西風，乾燥少雨 (B) 乙區夏乾冬雨，七月是當地的雨季 (C) 丙區冬冷夏熱，年溫差大 (D) 甲區沿海有巴西涼流流經，不易下雨


() 21. 巴斯卡酋長是沙烏地阿拉伯的石油大亨，該公司的石油主要外銷到歐洲。請問：哪一條運河對他的事業幫助最大？ (A) 巴拿馬運河 (B) 京杭大運河 (C) 蘇伊士運河 (D) 興安運河

() 22. 非洲氣候大致呈現南北對稱的分布，此種特色和哪一因素關係最密切？ (A) 全洲地形以高原為主體 (B) 赤道橫貫非洲中部 (C) 海岸平直，沿海島嶼不多 (D) 陸地廣大，介於兩大洋之間

() 23. 上地理課時祥太正在整理有關「亞斯文水壩的興建對尼羅河沿岸的環境產生的影響」筆記：(甲)使原本的定期氾濫不再(乙)下游農田肥料支出增加(丙)河口三角洲面積不斷擴大(丁)造成歷史文物古蹟的淹沒。祥太哪一項筆記內容抄『錯』了？ (A) 甲 (B) 乙 (C) 丙 (D) 丁

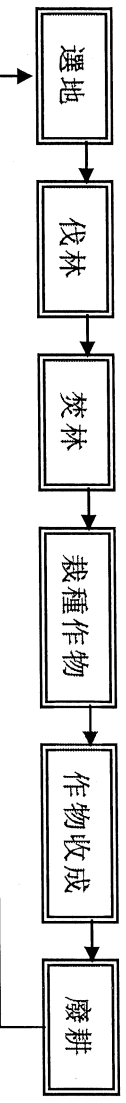
() 24. 非洲、南美洲有許多國家或熱帶栽培業興盛或礦產豐富，甚至兩者兼備；但這些國家經濟情況卻不穩定。造成這種現象的主要原因為何？ (甲)經濟依賴一、兩種物產 (乙)產量會忽多忽少 (丙)產品品質不穩定 (丁)國際市場價格波動 (A) 甲乙 (B) 甲丁 (C) 乙丙 (D) 丙丁

- () 25. 中南美洲的重要都市如墨西哥市、波哥大、拉巴斯等首都皆分布高山或高原上，造成此種現象的主因為何？ (A)氣候較為涼爽 (B)具有易守難攻的特性 (C)礦產資源豐富 (D)農業條件較佳
- () 26. 中美洲國家的經濟活動主要受到西班牙等歐洲國家影響，多以豐富的自然資源為主，種植單一的經濟作物以對外銷售。這種經濟活動的方式稱為何者？ (A)區域組織經濟 (B)資本主義經濟 (C)傳統集約經濟 (D)殖民地式經濟
- () 27. 二千多年前的古人發現：「夏至當天中午，當太陽直射埃及的亞斯文時，同時在北邊的亞力山卓，太陽卻偏離頭頂七點五度，利用此角度差異可以算出地球的大小。」請問：這個方法的應用是因為埃及具有下列哪一項特性？ (A)沙漠氣候 (B)鄰近西亞 (C)回歸線經過 (D)河流定期氾濫
- () 28. 非洲某國的國旗，其設計概念如右圖所示：「上層為紅色，是革命和國民的犧牲；中層為白色，是光明的未來；下層為黑色，是受壓抑的長久歲月；中央的國徽是一隻鷹，也是伊斯蘭教始祖穆罕默德的家族象徵」此國內以白種人為主，文化先後受到希臘、羅馬與伊斯蘭文明影響，今日成為伊斯蘭教國家。請問：上述所描述的最可能是哪一個國家？ (A)中非的剛果 (B)北非的埃及 (C)東非的衣索比亞 (D)南非的南非共和國



- () 29. 撒哈拉沙漠是全世界面積最大的沙漠，曾有連續多年滴雨不降的紀錄，強烈的沙暴、白天令人窒息的高溫是其特徵。請問：它形成的原因足？ (A)有暖流經過 (B)距海遙遠 (C)位於副熱帶高氣壓下方 (D)位於西風背風坡
- () 30. 武崙亂報：「2016 國際萬金石馬拉松於 3/20 上午 6 時 30 分展開，來自肯亞的跑者 William Chebon CHEBOR 以 2 小時 13 分 5 秒的成績奪得全場冠軍，並打破萬金石賽事紀錄，而賽前曾誓言要奪下冠軍的日本市民跑者川內優輝，則拿下亞軍。」來自東非的國家，如肯亞、坦尚尼亞、衣索比亞等國有很多的優秀的馬拉松選手，這是由於他們長期在哪一種地形上生活，心肺功能較發達，故適合長跑？ (A)盆地 (B)平原 (C)高原 (D)丘陵

- () 31. 下表是游耕的特色，當中「耕作二三年後就要廢棄耕地，再另闢新地耕種」，主要的原因是：
- (A)民族特性，喜新厭舊 (B)雨水淋溶，地力易枯竭 (C)地表崎嶇，整地不易 (D)政府鼓勵，開墾新地



- () 32. 點點參加台灣農耕探險隊的活動，並對當地農業景觀描述如下：「土地利用呈垂直變化，在 2000 公尺以下的坡地和河谷平原栽培咖啡、可可，2000—4000 公尺地帶種植玉米、馬鈴薯，更高的草原則用以飼養駱馬。」請問點點文中所述的景觀位於何處？
- (A)亞特拉斯山 (B)安地斯山脈 (C)彭巴草原 (D)巴西高原
- () 33. 青青在父親的攝影本中發現一張餐廳特價看板的照片。請問：若由該餐廳的餐點特色判斷，它最有可能是何地區的風味料理？
- (A)西亞 (B)中南美洲 (C)北非 (D)西歐

本日特餐 (\$180)	
* 前菜.....	生肉魚沙拉
* 湯.....	阿茲提克蕃茄湯
* 主菜.....	塔可玉米脆卷餅
* 甜點.....	炸香蕉

- () 34. 基於原料因素的考量，哪些企業前往非洲各國投資時，可獲得較大利潤？ (A)中國石油公司—奈及利亞 (B)葡萄酒釀製廠—剛果民主共和國 (C)遠東紡織廠—南非 (D)黃金收購公司—埃及
- () 35. 飄飄出國旅遊，穿了一張很美的加勒比海明信片給朋友，請問：她最有可能到何處度假？
- (A)阿拉斯加 (B)印尼群島 (C)西印度群島 (D)馬達加斯加島

() 36. 飢餓三十、愛心麵包都是在台灣發起的關懷非洲的活動。請問：何者『不是』造成非洲近年來常見飢荒、貧困問題的原因？ (A)政局不穩多內戰 (B)氣候經常嚴重乾旱 (C)出生率過高，經濟負擔沉重 (D)受到海水倒灌的影響

() 37. 巴西—里約、聖保羅，阿根廷—布宜諾艾斯艾利斯到處可見擁擠的人潮及貧民窟，和世界其他大都市欣欣向榮的景象不同。同樣都市化程度高，景象卻不同，其原因為何？

(A)都市計劃不夠周全 (B)中南美洲的鄉村經濟蕭條，以至於人口大量向都市謀生 (C)工商業發展快速 (D)中南美洲的鄉村曾發生多次傳染病，百姓湧入都市

() 38. 右表中哪兩項是南美第一大河—亞馬孫河的特徵？

河川	特	性
甲	世界最長河川	
乙	世界流域面積最廣河川	
丙	世界水力資源最多河川	
丁	世界流量最大河川	

(A)甲乙 (B)甲丙 (C)乙丁 (D)丙丁

() 39. 埃及尼羅河下游地帶在興建亞斯文高壩之前，每年定期的氾濫帶來充足的水源和肥沃的淤泥，有利於沿河地區從事農業活動。

請問尼羅河的定期氾濫與其上流流經哪一種氣候區的關係最為密切？ (A)熱帶莽原 (B)熱帶沙漠 (C)熱帶雨林 (D)溫帶大陸

() 40. 西亞的兩河流域、埃及的尼羅河沿岸和中國的西套地區，都以何種農業活動著稱？

(A)熱帶栽培業 (B)商品化農業 (C)粗放農業 (D)灌溉農業

() 41. Travel旅遊雜誌2月份的封面是「嘉年華」狂歡節街景，並附贈「森巴舞」基本舞步教學光碟一片，請問這一期的主題是介紹哪一國家？ (A)巴西 (B)古巴 (C)墨西哥 (D)阿根廷

() 42. 土耳其政府為了區域發展平衡將首都從伊斯坦堡遷至內陸的安卡拉，請問中南美洲哪一個國家也是如此？ (A)厄瓜多 (B)阿根廷 (C)墨西哥 (D)巴西

() 43. 世界新七大奇蹟的票選活動結束後，古印加帝國的馬丘比丘文化被列舉為七大奇蹟之一，讓這個古文明又重新成為大家注意的焦點。請問：神秘的印加古文化位於哪一個國家境內？

(A)智利 (B)秘魯 (C)墨西哥 (D)美國

() 44. 右圖是南美洲某地的氣候圖，該地應位於哪一地形區？

(A)亞馬孫盆地 (B)智利北部 (C)巴西高原 (D)智利中部

() 45. 非洲大多數國家雖然經濟發展程度不佳，飢荒連連，疾病叢生，甚至國家內戰，烽火連天。但在國際政治上仍有不可小看的影響力，尤其兩岸皆積極爭取非洲友邦，外交戰場廝殺慘烈。請問非洲對於國際的影響力甚大，其主要原因是和何者最為相關？

(A)國家數多 (B)人口眾多 (C)交通發達 (D)面積廣大

