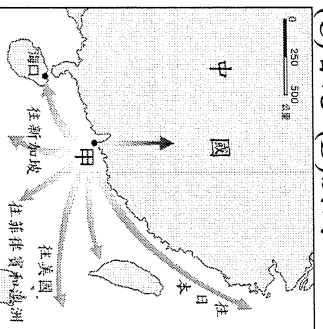


基隆市立武崙國民中學一〇四學年度第二學期第一次段考八年級地理科試題卷

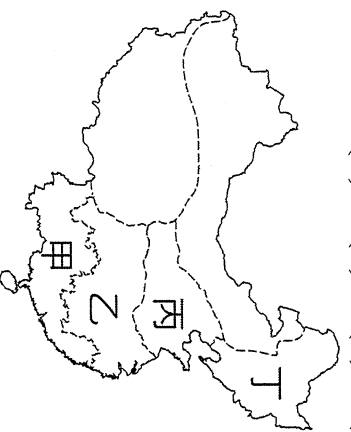
班級：八年____班 / 座號：____ / 姓名：_____

◆單選題，共 50 題，每題 2 分

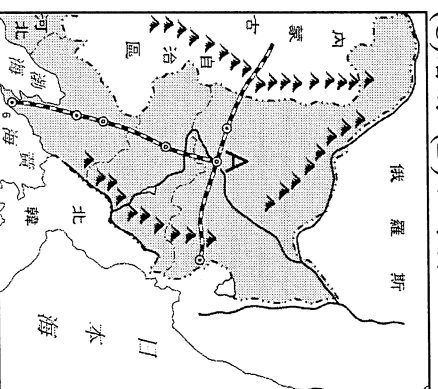
1. () 附圖的甲地為華南某港口都市，是國際金融中心，其轉口港的機能十分發達，也是該城市發展的最主要條件。由其地理位置及運輸線判斷，甲地最可能是下列哪個都市？(A)廈門 (B)廣州 (C)香港 (D)澳門。



2. () 中國華南地區水稻一年兩穫，華中地區水稻年僅一種，但是為什麼華南地區糧食總是不足，以致早期人口外移嚴重，最主要的原因是？(A)水旱災頻繁 (B)山多平原少 (C)水利設施不足 (D)病虫害嚴重。
3. () 長江水運發達，流域繁榮富庶，被譽為中國的黃金水道。下列有關長江流域的敘述，何者正確？(A)上游四川盆地物產豐饒，被譽為「聚寶盆」(B)中游成都平原盛產糧食，有俗諺：「湖廣熟，天下足」(C)長江三角洲河渠遍布，有「水鄉澤國」之稱 (D)長江中下游平原農漁產豐富，有「天府之國」的美譽。
4. () 下列何者是華南地區副熱帶季風氣候與熱帶季風氣候的分界線？(A)赤道 (B)北回歸線 (C)南回歸線 (D)極圈。
5. () 中國東部海岸像是一張弓，長江流域是一支箭。下列哪個都市剛好位於這副弓和箭的「T」字支點上？(A)廣州 (B)上海 (C)武漢 (D)天津。
6. () 「這個城市北倚燕山、西有太行山屏障，南控華北平原為其腹地，亦為北方的政治、經濟和軍事中心。現為中華人民共和國的首都。」上文所描述的最可能是下列哪一個城市？(A)北京 (B)西安 (C)天津 (D)太原。
7. () 華南的河川大部分屬於哪一個水系的流域範圍？(A)黃河 (B)淮河 (C)珠江 (D)長江。
8. () 「這裡夏短冬長，土壤的色澤黑潤，具有良好的保水、保肥性，人稱『土中之王』。根據專家的說法，這裡的腐植質是河水從鄰區搬運過來累積的。」文中所描述的地方，最可能位於附圖哪一個地區？(A)甲 (B)乙 (C)丙 (D)丁。

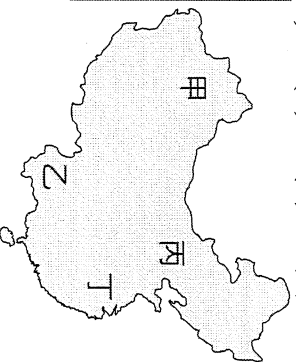



9. () 鐵路是中國東北最完善、便捷的交通系統，經過百年來陸續的興修，使其成為以「T」字形路線為骨幹的網狀系統，這個「T」字形路線的交會點 A 是指下列哪一個城市？(A)大連 (B)長春 (C)瀋陽 (D)哈爾濱。

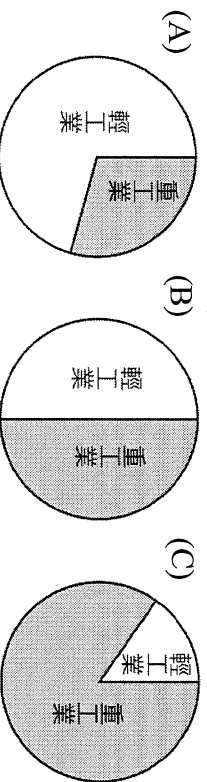


10. () 北部區域早期是中國主要重工業地帶，隨著工業區老化，目前朝何種產業轉型中？(A)輕工業 (B)高科技工業 (C)加工出口業 (D)石化工業。
11. () 下列何者是造成黃土高原表面溝谷散布、崎嶇不平的主要作用力？(A)流水侵蝕 (B)風力侵蝕 (C)斷層作用 (D)溶蝕作用。
12. () 「山環水繞」是形容中國東北地形被山、水環繞，下列哪條不是環繞東北地區周邊的河川？(A)松花江 (B)鴨綠江 (C)黑龍江 (D)烏蘇里江。
13. () 「綠色長城」是中國華北、東北、西北的重要防護林，其目的是防止沙漠化蔓延及沙塵暴的襲擊。請問：若依當地季風風向判斷，其樹林的栽種方向應為下列何者？
- (A) (B) (C) (D)
14. () 阿信今年順利考取師範大學生命科學系研究所，他為了撰寫論文，計畫明年到中國黑龍江流域研究當地的水族生態。請問：阿信應該向哪兩國政府申請許可？(A)中國、北韓 (B)中國、俄羅斯 (C)北韓、日本 (D)中國、南韓。
15. () 光良搭乘遊輪進行長江之旅，請問：由上游向下游，沿途所經過的盆地依序為何？(A)四川盆地 → 兩湖盆地 → 鄱陽盆地 (B)四川盆地 → 鄱陽盆地 → 兩湖盆地 (C)兩湖盆地 → 鄱陽盆地 → 四川盆地 (D)鄱陽盆地 → 兩湖盆地 → 四川盆地。
16. () 福建沿海多島嶼，其主要成因為何？(A)山脈沉海，山頭露出水面而成 (B)珊瑚礁堆積而成 (C)火山噴發而成 (D)沙洲堆積而成。
17. () 雲貴高原是中國少數民族系最多的區域，造成此一區域少數民族文化差異明顯的關鍵因素為何？(A)地勢崎嶇，交通不易 (B)氣候溼熱，繁衍不易 (C)出海容易，各自發展 (D)治安不佳，自我保護。

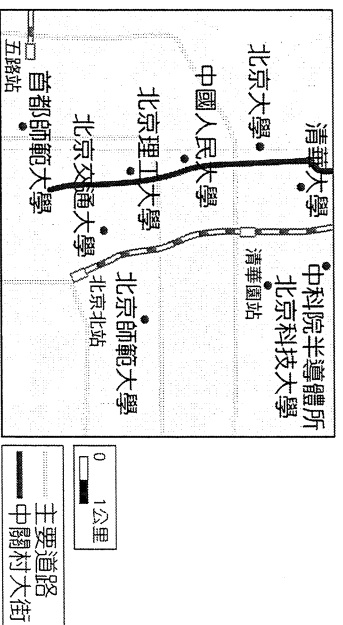
18. () 阿德到中國旅行拍回一張精采的相片(左圖)，相片中特殊的交通工具，最可能出現在附圖(右)中的哪一個地區？(A)甲 (B)乙 (C)丙 (D)丁。



19. () 下列哪一張圖最能代表中國東北地區早期輕、重工業的發展概況？



20. () 一九八〇年代後，北京西北郊的中關村發展為高科技園區(如附圖中的中關村大街)，有「中國矽谷」之稱。中關村逐漸發展成中國高科技中之可能原因，不包括下列何者？(A)人才眾多 (B)礦產豐富 (C)政府政策 (D)交通便利。



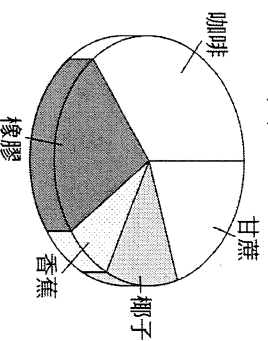
21. () 凱琪到雲貴高原旅遊，聽到導遊介紹當地的「壩子」。關於導遊所介紹的內容，下列何者正確？(A)為抵禦盜賊，發展的建築 (B)黃土廣布，千溝萬壑 (C)地勢陡峭，乾燥少雨 (D)為山間盆地，灌溉便利。

22. () 附圖為中國煤、鐵、石油的分布狀況。下列中國的地理現象中，何者與此空間分布的關係最密切？(A)長江流域開發較早、人口密集 (B)北部交通運輸以陸運為主 (C)北部的重工業較南部發達 (D)經濟特區皆設於北部沿海地區。

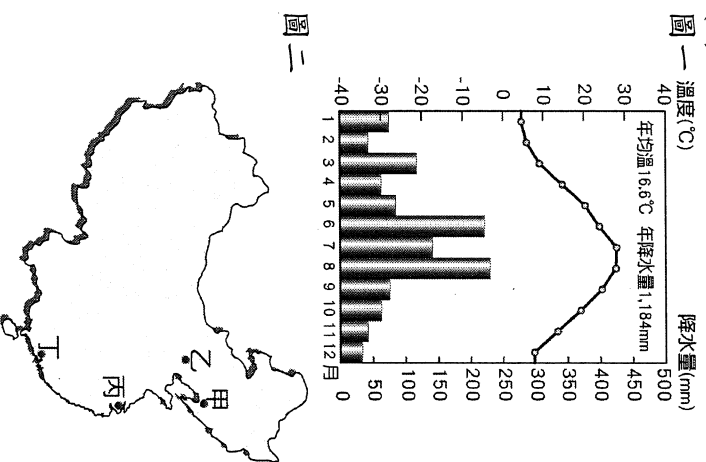


23. () 洋山港位於杭州灣口，為上海的外港。請問：此港的建設主要是為了解決上海哪項問題？(A)海岸線平直 (B)泥沙淤積 (C)腹地面積小 (D)長江改道。

24. () 附圖為中國某地的農產種植面積比例圖。該地區最有可能位於下列何處？(A)四川盆地 (B)雲貴高原 (C)嶺南丘陵 (D)海南島。



25. () 附圖一為中國某地區的氣候圖。請問：該地區最可能位於附圖二中何處？(A)甲 (B)乙 (C)丙 (D)丁。

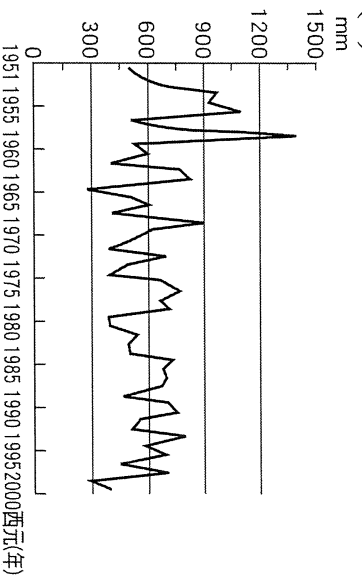


26. () 近年中國華北地區由於人口大幅成長，民生等各項用水增加，目前中國政府採行何種方式來解決華北用水不足的難題？(A)圍湖造田 (B)植草造林 (C)開鑿坎井 (D)南水北調。

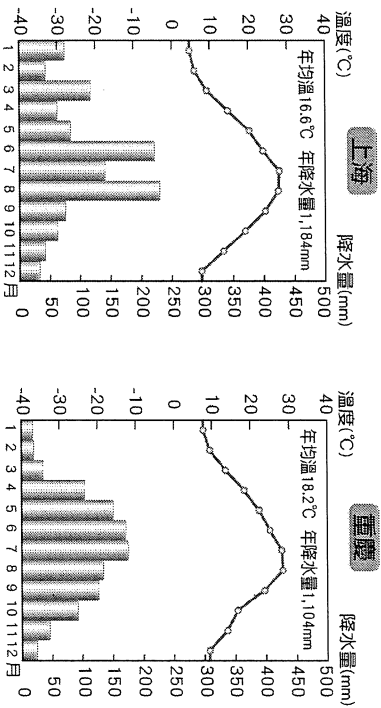
27. () 下列俗諺中，何者最適合描述橫斷山脈的地理景觀？(A)朝穿皮襖午穿紗 (B)蕉風椰雨，碧海藍天 (C)一山有四季，十里不同天 (D)蜀道難，難於上青天。

28. () 小克要利用風帆及槳沿著中國的海岸線南下，在離開南部區域沿岸後，便進入下列哪個相鄰的地理區？(A)朝鮮半島 (B)中南半島 (C)印度半島 (D)阿拉伯半島。

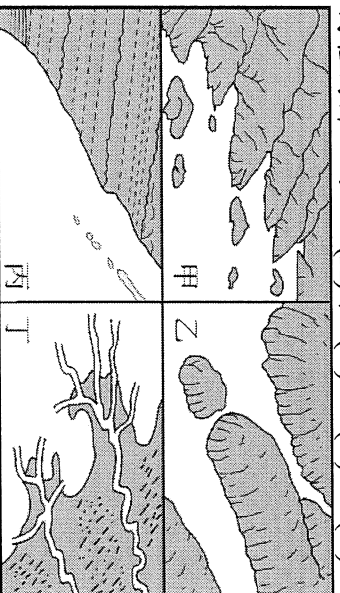
29. () 附圖是華北某地的降水量變化曲線圖。從圖中資料可以發現，該地具有哪一種氣候特徵？(A)降水量豐富 (B)雨季遲早不一 (C)年雨量變率大 (D)降雨集中夏季。



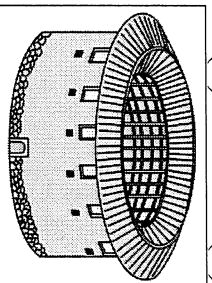
30. () 附圖為上海及重慶的氣候圖。依中國氣候分類標準判斷，兩地均屬於下列哪一種氣候類型？
 (A) 溫帶乾燥 (B) 溫帶季風 (C) 熱帶季風 (D) 副熱帶季風 氣候。



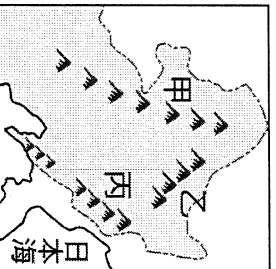
31. () 中國南部的五大經濟特區，主要以發展加工出口產品為主，藉由低廉工資、便利海運、優惠政策，以吸引外資與技術。請問：便利的海運是指下列何種海岸地形？(A) 甲 (B) 乙 (C) 丙 (D) 丁。



32. () 上海的浦東新區目前已成為中國資訊科技產業重鎮，也是新興的金融服務業聚集地區。在西元1990年前浦東的發展與現今的狀況差異甚大，在規畫開發後這一地區主要憑藉區域內的優勢，使得外資與技術大量流入上海並帶動鄰近地區的發展。請問：下列各項當中哪一項並非浦東新區所具有的發展優勢？(A) 市場廣大 (B) 人才眾多 (C) 交通便利 (D) 礦產豐富。



33. () 附圖是福建省內陸地區的土樓。此種傳統建築的特色是只設一個大門，底層不開窗，高層才開窗，將對外開口減到最小。請問：形成此種建築特色的主要原因為何？(A) 治安不佳 (B) 人口過剩 (C) 氣候溼熱 (D) 地勢崎嶇。
34. () 附圖為東北地形簡圖。其山脈名稱依甲、乙、丙的順序排列，正確者為何？(A) 大興安嶺、小興安嶺、長白山地 (B) 長白山地、大興安嶺、小興安嶺 (C) 小興安嶺、大興安嶺、長白山地 (D) 大興安嶺、長白山地、小興安嶺。

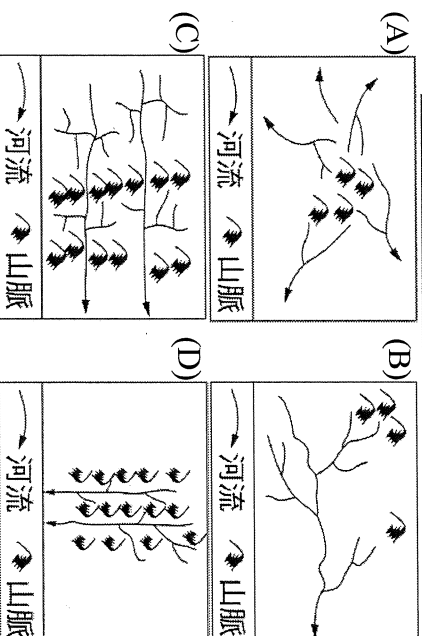



35. () 附表為長江沿岸三個主要都市的一月均溫資料。從表中可以發現重慶市的氣溫比其他二個都市高，造成此現象的主要因素為何？(A) 北方高山阻擋冷風南下 (B) 位於熱帶地區 (C) 距海遙遠，缺乏海洋調節 (D) 冬季盛行東南季風。

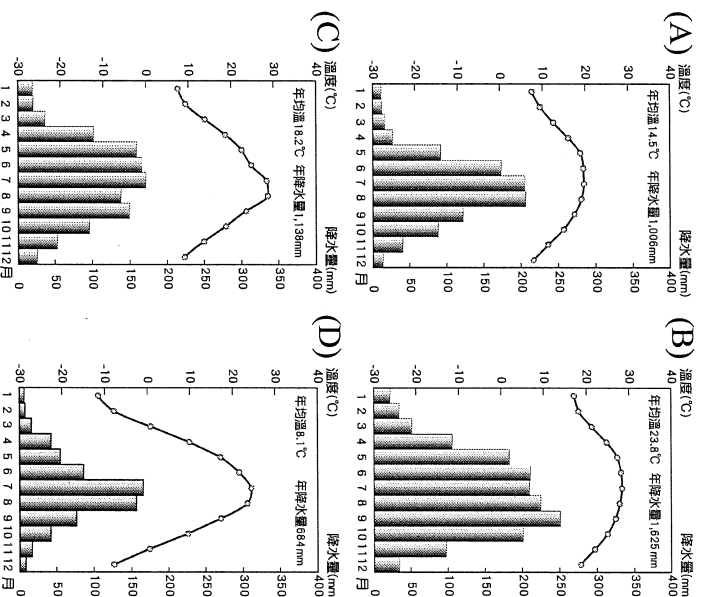
都市	重慶	武漢	上海
一月均溫(°C)	7.6	3.8	3.7

36. () 四川人愛吃辣全中國皆知，據稱主要是為了防止在溼熱的環境下產生的風溼及熱病。請問：四川氣候溼熱，與下列哪一項因素的關係最大？
 (A) 盆地地形 (B) 紫紅土壤 (C) 季風風向 (D) 距海較遠。

37. () 小丁在電視上看到某地區的傳統交通工具如附圖所示。請問：此地區的水系類型最可能為下列何者？



38. () 曉明在整理氣候圖時，不小心把東北的氣候圖和其他地區的氣候圖混雜在一起。請根據中國氣候分類標準，幫曉明找出下列哪一最可能是屬於東北地區的氣候圖？



39. () 農作物收穫次數的多寡和該地區緯度的分布有關。依此判斷，下列哪一個中國地理區的作物收穫次數可能最多？(A) 華北平原 (B) 東北平原 (C) 珠江三角洲 (D) 長江三角洲。

40. () 中國的農業種植方式多採用集約式耕種，而東北地區卻是以機械式耕種。這種現象與哪項因素最相關？(A) 夏溫最低 (B) 人口密度較其他地區低 (C) 年降水量不多 (D) 重工業最發達。

41. () 有四位國中同窗好友，長大後各奔東西，透過臉書終於在今年7月初再度聯繫上，請依據他們的聊天內容判斷，哪位同學現在住在華中地區？

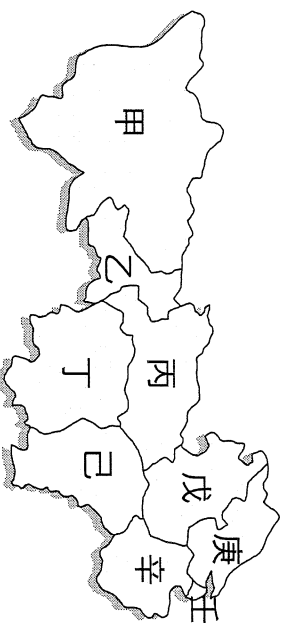
(A) 芷宇：最近颱風來襲，不方便出遠門和大家見面

(B) 喻絮：我這裡因為鋒面滯留，一連下了好幾天的雨。

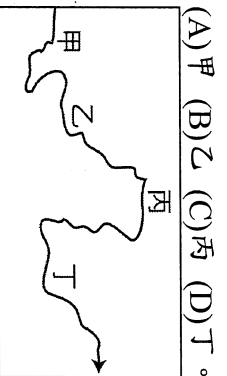
(C) 佳妮：我家四季如夏，只是有時午後會下雷陣雨。

(D) 宛鉉：我很喜歡夏天，因為這裡冬天總是冰天雪地。

42. () 可晨於暑假時前往中國旅遊，途中經過華中幾個著名景點，例如：上海東方明珠塔、杭州灣錢塘潮、世界級的三峽大壩、人間天堂的四川九寨溝。請問：以上景點依序位於附圖中的哪些地區？(A) 壬辛乙 (B) 庚辛戊丙 (C) 壬辛丙甲 (D) 庚辛乙甲。



43. () 李白的「將進酒」寫著：「君不見，黃河之水天上來，奔流到海不復回！」黃河不只具有奔流到海不復回的壯闊，更有「河床高於兩岸」的奇景。請問：若想見到此種景觀應到附圖中的何地？

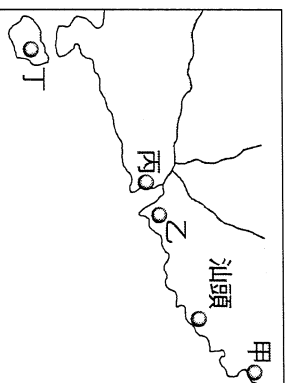


44. () 北宋文學家范仲淹曾在〈岳陽樓記〉中描寫洞庭湖：「……銜遠山，吞長江，浩浩湯湯，橫無際涯……」可知當時的洞庭湖湖面之廣，令人讚嘆；然而今日的洞庭湖面積大幅縮小，已不見往昔面貌。請問：造成洞庭湖面積大減的主要原因，除了自然的泥沙淤積之外，還與下列哪一項人為活動關係最密切？(A) 採礦挖石 (B) 焚林闢地 (C) 圍湖造田 (D) 過度放牧。

45. () 附表為關於東北四個重要都市的比較，何者正確？(A) 甲 (B) 乙 (C) 丙 (D) 丁。

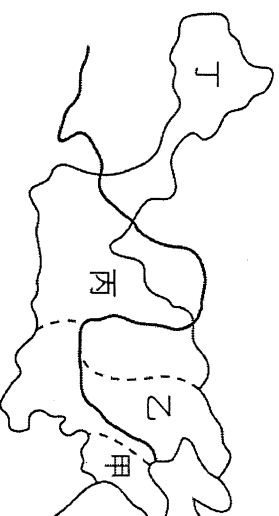
都市	特徵
(甲) 哈爾濱	東北最大的都市，曾為滿人入關前的首都
(乙) 長春	冬不結冰，是東北第一大港
(丙) 瀋陽	聯繫華北及東北的交通樞紐
(丁) 大連	多俄式建築，有「東方莫斯科」之稱

※一九八〇年代起，中國在華南沿海設立五個經濟特區，使華南成為中國經濟改革的先驅。請問：



46. () 中國首先在華南沿海設立經濟特區的原因，和下列哪一因素最不相關？(A) 工資低廉 (B) 動力充足 (C) 海運便利 (D) 僑鄉背景。

47. () 附圖中，哪一個經濟特區距離香港最近，經濟快速成長，西元2012年GDP排名僅次於上海、北京、廣州，為中國第四大經濟城市？(A) 甲 (B) 乙 (C) 丙 (D) 丁。



※附圖為中國黃河流域簡圖。中國黃土的分布主要集中在華北，因為形成營力的不同，又可分為風成黃土與沖積黃土。請問：

48. () 來自北方的細沙土，在冬季季風長期的侵蝕下吹往黃土高原。運送黃土的主要風向為何？(A) ↘ (B) ↙ (C) ↗ (D) ↖。

49. () 下列哪一個地區為風成黃土的主要來源地？(A) 黃土高原 (B) 華北平原 (C) 青藏高原 (D) 蒙古高原。

50. () 華北的風成黃土，主要堆積在哪一區？(A) 甲 (B) 乙 (C) 丙 (D) 丁。