



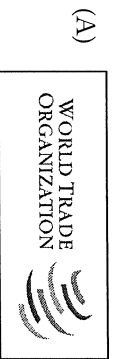
九年 ___ 班 座號：___ 姓名：___

一、配合題(共 8 分/每題 1 分)

(一) 請選出下列經濟組織的標識

1. NAFTA	2. IMF
3. WTO	4. EU

選項：



(二) 請選出下列國家的別稱

5. 巴西	6. 土耳其
7. 芬蘭	8. 澳洲

選項：

- (A)千島國 (B)千湖國 (C)楓葉國 (D)歐亞陸橋
 (AB)低地國 (AC)石油王國 (AD)足球王國
 (BC)騎在羊背上的國家 (BD)冰火王國

二、單一選擇題(共 92 分/每題 2 分)

9. 臺灣夏季時受到季風的影響而帶來降雨，請問：
臺灣夏季季風風向是下列哪一種？
 (A)↗ (B)↙ (C)↘ (D)↖
10. 中國境內的長江流域為重要的精華區，其流向呈現由西向東流入太平洋，這和下列何者關係最大？
 (A)西邊地勢較高 (B)西邊雨量較多
 (C)西邊土壤鬆軟 (D)西邊人口密集
11. 王教授觀察美國農業的經營方式，發現和臺灣大不相同。請問：該地區的農作特色主要為下列何者？

	單一作物	多樣作物
集約生產	(A)	(B)
粗放生產	(C)	(D)

12. 下列哪一組諺語與地區的配對完全正確？

- (A)蜀犬吠日—四川盆地 (B)中國夏威夷—珠江三角洲 (C)一山有四季，十里不同天—東南丘陵 (D)湖廣熟，天下足—長江下游平原

13. 西亞的農業活動受到灌溉方式的影響而不同，該地區主要的灌溉類型不包括下列何者？

- (A)坎井灌溉 (B)渠道灌溉 (C)地下水井灌溉 (D)圍湖造田灌溉

14. 巴斯卡搭乘空軍一號飛越美國境內，他所見到的地形景觀依序為高山、平原、高原，此時飛機飛行的方向應該為何？
 (A)由東向西飛行 (B)由西向東飛行 (C)由南向北飛行 (D)由北向南飛行





15. 國內的博物館曾經展出世界著名的義大利龐貝城相關遺跡，不禁令人震驚大自然的威力。請問：這個位於義大利半島的古城，主要受到該地區哪一項因素的影響而毀滅？
 (A)冰河侵蝕 (B)海嘯活動 (C)颶風侵襲 (D)火山活動

16. 荷蘭和臺灣皆為地狹人稠的地區，附表有關兩者的比較，何者最為正確？

	鄰近海域	土地面積	主要地形	主要河川
臺灣	臺灣海峽	土地較大	山脈為主	淡水河
荷蘭	波羅的海	土地較小	平原低地	多瑙河

- (A)鄰近海域 (B)土地面積 (C)主要地形 (D)主要河川

17. 櫻桃小丸子一家人到歐洲旅行，搭乘了著名的歐洲之星，體驗獨特的跨國旅行經驗。請問：其車票上的起訖地點標示應該為下列何者？

 歐洲之星 起點 終點 London → Madrid 票價 5 星 6 A 車次 1234 服務專線 002 2561 2562 YUENHSUN CHINESE SCHOOL	 歐洲之星 起點 終點 Berlin → Rome 票價 5 星 6 A 車次 1234 服務專線 002 2561 2562 YUENHSUN CHINESE SCHOOL	 歐洲之星 起點 終點 Paris → London 票價 5 星 6 A 車次 1234 服務專線 002 2561 2562 YUENHSUN CHINESE SCHOOL	 歐洲之星 起點 終點 Paris → Frankfurt 票價 5 星 6 A 車次 1234 服務專線 002 2561 2562 YUENHSUN CHINESE SCHOOL
--	--	---	--

(A) (B) (C) (D)

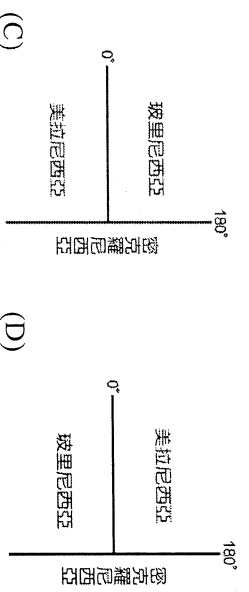
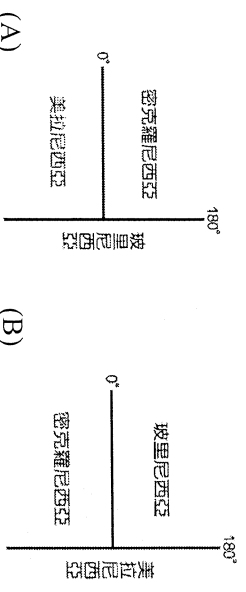
18. 位於西伯利亞地區的河川，冬季多為冰天雪地，交通相當不易。請問：在夏季溶雪時，這些河川多流入哪一個海域？(A)太平洋 (B)大西洋 (C)北極海 (D)印度洋
19. 吉田家住在桃園市，他去寄包裹的時候發現快遞公司會將貨物依照同一行政層級而分類，請問下列何者的行政區層級與桃園市相同？
(A)基隆市 (B)花蓮市 (C)臺南市 (D)連江縣
20. 臺灣的陽明山有著名的火山地形，各地溫泉分布相當廣泛。請問：這種現象和臺灣哪一項地理條件的關係最大？(A)位於海陸交會地帶 (B)位於板塊活動接觸帶上 (C)位於低緯度北回歸線上 (D)太陽直射氣候炎熱
21. 該區有多數地面覆蓋在千餘公尺的厚冰下，就連夏季也僅有百分之五的地區沒有被冰雪覆蓋，有「白色沙漠」之稱。請問：上述地區所指的是哪裡？(A)南極洲 (B)加拿大 (C)冰島 (D)紐西蘭南島。
22. 歐洲的阿爾卑斯山為當地重要的地形脊梁，位於該山區的國家不包括下列何者？(A)盧森堡 (B)法國 (C)瑞士 (D)奧地利
23. 中國的疆域若依地形區來加以畫分，可以分成三級階梯。下列有關中國地勢三級階梯的敘述，何者正確？(A)整體地勢東高西低 (B)第一級階梯地勢最低 (C)第三級階梯地勢起伏最小 (D)第二級階梯與印度半島相鄰
24. 澳洲正積極和亞洲國家進行密切交流合作，並加入該地的經濟組織。請問：澳洲與亞洲國家合作的有利條件為何？(A)殖民背景 (B)語言相同 (C)距離接近 (D)宗教信仰
25. 秦嶺、淮河為中國自然環境的重要分界線，形成南北截然不同的區域特性。附表為兩地間的比較，其中何者正確？

	(A)地形	(B)氣溫	(C)雨量	(D)水文
秦淮以北	平原、盆地	最冷月均溫 $>0^{\circ}\text{C}$	年雨量大於750毫米	河水冬季易結冰
秦淮以南	平原、丘陵	最冷月均溫 $<0^{\circ}\text{C}$	年雨量少於750毫米	河水終年不結冰

26. 中國境內某地區「形勢封閉，終年溼氣重；河川匯流，灌溉充足，加以氣候溫和，因此農產種類繁多、產量豐富。由於中醫認為麻辣有驅風除溼之效，當地因而發展出善用麻辣、菜色豐富的飲食文化。」上文所述為何地？
(A)青藏高原 (B)嶺南丘陵 (C)四川盆地 (D)東北平原
27. 馬來西亞及印尼為橡膠、咖啡等熱帶栽培業的主要生產地區。請問：該地區發展熱帶栽培業的有利區位條件不包括下列何者？
(A)市場 (B)勞工 (C)交通 (D)氣候
28. 熱帶與寒帶氣候類型特色不同，下列有關這兩者的特色，何者正確？
(A)甲 (B)乙 (C)丙 (D)丁。

	熱帶氣候	寒帶氣候
(甲)太陽照射角度	角度較小	角度較大
(乙)緯度位置	緯度較高	緯度較低
(丙)年溫差大小	年溫差小	年溫差大
(丁)年均溫	年均溫較低	年均溫較高

29. 扎達爾日記寫著：「一路往山上走，翻過了這座世界最高的山頭後，就將到達中國。於是在兩國中間的邊界上，拍下了一張照片，作為這趟旅行的紀念。」請問：扎達爾最可能由哪一個地區進入中國？(A)北韓 (B)日本 (C)越南 (D)尼泊爾。
30. 大洋洲散布於廣大的海洋，以赤道和經度180°劃分為三大島群。請問：下列哪一張位置示意圖是正確的？

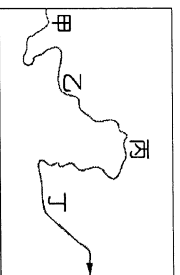


31. 在等高線地形圖上，若看等高線的數字排列是內圈低外圈高，則我們可推測這是何種地形？
(A)丘陵 (B)平原 (C)山地 (D)盆地。

32. 俄羅斯因「先天不良，後天失調」，糧食不足自給。請問：先天、後天因素分別為何？

(A)永凍土遍布、曾實施市場經濟 (B)地形崎嶇、曾實施計畫經濟 (C)氣候乾冷、曾實施計畫經濟 (D)土壤貧瘠、曾實施市場經濟

33. 長江自上游攜帶泥沙至中、下游，最後沉積在出海口附近。而三峡大壩完成後，在下列哪一城市附近，最有可能因為泥沙供應減少而發生海岸後退的現象？(A)天津 (B)上海 (C)廈門 (D)廣州。



34. 附圖是黃河主流流路的示意圖。其中哪一河段由於泥沙大量淤積，使河床高於兩岸平原，形成「地上河」？
(A)甲 (B)乙 (C)丙 (D)丁。

35. 東南亞國家的海上交通對其經濟發展的影響相當重要，例如馬來半島即位於哪個海洋之間的交通必經之地？

(A)太平洋、印度洋 (B)印度洋、地中海
(C)太平洋、大西洋 (D)太平洋、日本海

36. 穿越北冰洋、連接大西洋與太平洋的亞歐水路「西北航道」，過去只是海洋航線捷徑的夢想。但如今已經完全暢通，也為勘探北極海床的豐富石油與礦物資源開啟方便之門。請問：西北航道的暢通與下列何者的關係最密切？

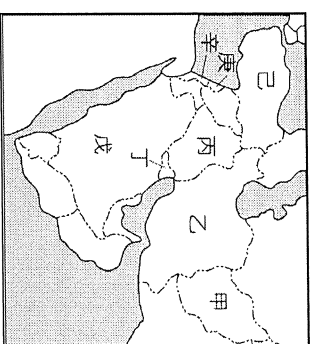
(A)洋流性質改變 (B)溫室效應使全球增溫
(C)海洋污染使海水融解 (D)船隻設備的改進

37. 南歐的氣候受到下列哪些因素的影響，形成夏乾冬雨的氣候特色？

(A)高氣壓、西風 (B)高氣壓、東北信風
(C)低氣壓、季風 (D)低氣壓、西風

38. 北歐的地形受到當地自然環境影響相當明顯，該地區以哪一座山脈作為骨幹，冰河地形相當發達？(A)阿爾卑斯山 (B)庇里牛斯山 (C)喀爾巴阡山 (D)斯堪地那維亞山脈。

39. 日本為一個島國，其島嶼的分布順序由南而北依序為何？(A)九州、四國、北海道、本州 (B)九州、四國、本州、北海道 (C)四國、北海道、本州、九州 (D)九州、北海道、四國、本州



40. 某國境內有重要的河流流經孕育人類重要古文明之一，近期受到極端組織伊斯蘭國武裝份子佔領部分領土，炸毀該國北部的千年古蹟亞述古城，揚言移除偶像崇拜的象徵物品，引起世界各國的關注。請問該國位於右圖何處？(A)甲 (B)丙 (C)戊 (D)辛

41. 青青住在 $150^{\circ} W$ 的地方，壯壯住在 $60^{\circ} W$ 的地方。請問：當青青的時間為早上 8 時，壯壯的時間是幾時？(A)2 時 (B)6 時 (C)9 時 (D)14 時

42. 右表為住在臺北的小光為家族旅遊安排中部之行的內容，她計畫一路由北往南移動。請問：其行程安排順序以下列何者最為適合？

甲、苗栗南庄客家老街
乙、彰化鹿港天后宮
丙、臺中后里馬場
丁、雲林古坑綠色隧道

- (A)甲乙丙丁 (B)乙丙丁甲
(C)甲丙丁乙 (D)甲丙乙丁

43. 中國疆域幅員廣大，地勢高低起伏大，地形種類複雜。下列有關中國地形特色的敘述，何者正確？(A)地勢東高西低 (B)山脈多南北走向 (C)河川東流入海 (D)平原占地最廣

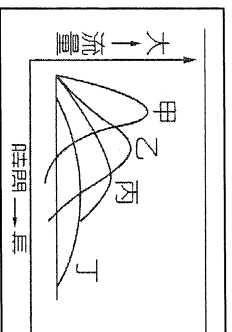
44. 近幾年來紐西蘭、日本、緬甸、智利均發生過規模不小的地震，請問以上何者「沒有」瀕臨太平洋？(A)緬甸 (B)日本 (C)紐西蘭 (D)智利

45. 承上題，以下關於這四個國家的敘述何者「錯誤」？(A)發生地震的基督城位於紐西蘭火山地形較多的北島 (B)日本 311 大地震受創最重的是四大島中的本州 (C)緬甸乃位於中南半島西側的佛教國 (D)智利位於世界最長山脈安第斯山的西側。

46. 智利國土形狀呈現長條形的特色，形成不同的地理景觀。下列該國各重要景觀，由南而北出現的順序為何？甲-終年盛行的西風、乙-遍野的葡萄、橄欖樹叢、丙-荒涼單調的沙漠
(A)甲乙丙 (B)甲丙乙 (C)乙甲丙 (D)丙甲乙

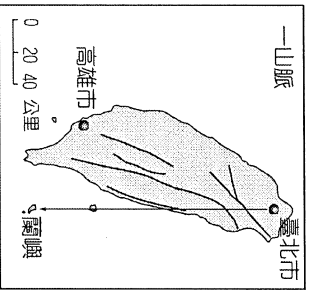
47. 波多斯基為波蘭人，在歐盟成立後每天通車前往德國上班。請問：這種現象和該組織何項措施關係最大？(A)通行歐元 (B)開放國界 (C)會員國間減免關稅 (D)工業產品規格統一

48. 森林除了可以提供人類休閒遊憩外，還有保護土壤、涵養水源、棲息動物等功能，若隨意砍伐森林，則將造成嚴重的環境問題。若想了解更多一地的森林保育情形，可以從河川的流量變化來判斷。請問：根據前文的說法，右圖中那一個地區的森林保育做的最「差」？
(A)甲 (B)乙 (C)丙 (D)丁



49. 臺灣島上的主要山脈大致呈南北走向，此一現象與下列哪一項地理事實有密切的關係？
(A)河川侵蝕 (B)火山活動 (C)板塊擠壓 (D)風力堆積

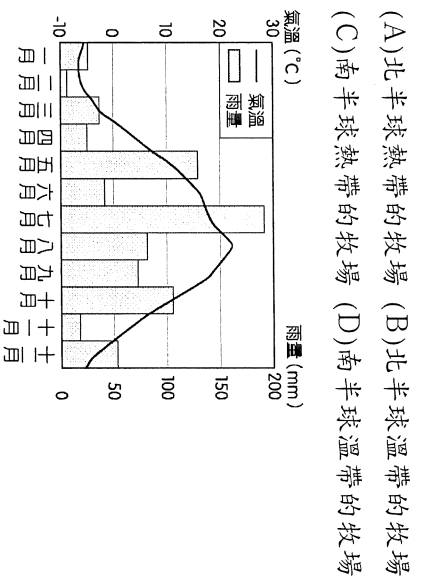
50. 如附圖，飄飄打算從臺北市乘熱氣球到蘭嶼，若往南方直線飛行，沿途將會飛越下列這些地區的上空：
(甲)中央山脈 (乙)雪山山脈 (丙)海岸山脈 (丁)花東縱谷平原，若依飛越的先後順序排列，何者正確？(A)甲乙丁丙 (B)乙甲丁丙 (C)乙丁甲丙 (D)甲丁乙丙



51. 紐西蘭的南島及北島為該國面積最大的島嶼，下列有關這兩地的敘述中，何者最為正確？

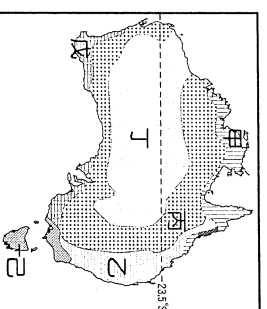
	(A)地形	(B)緯度	(C)氣候	(D)風向
北島	冰河	較高	溫帶	西風
南島	火山	較低	熱帶	西風

52. 李老師上課時，帶來一包牛奶糖請大家吃，並介紹這牛奶糖可大有來頭：它是源自一個世界重要的乳酪產地，並展示當地的氣候圖，如附圖所示。請依附圖中氣候特色加以判斷，該牛奶糖的產地最有可能是下列何處？



53. 當英國加入(甲)組織後，必須遵守其規定，對非會員國課徵共同關稅，維持配額的限制，而澳洲及紐西蘭儘管是大英國協的成員國但彼此貿易往來並沒有特別優惠，所以澳洲在1989年1月倡議成立(乙)經濟合作論壇。文中的(甲)、(乙)依序應分別填入下列那個組織？
(A)甲—UN；乙—OPEC (B)甲—NAFTA；乙—EU (C)甲—APEC；乙—WTO (D)甲—EU；乙—APEC

54. 右圖為澳洲氣候分布圖，其中丙區地廣人稀，氣候偏乾燥，需要足夠水源來推展產業活動，請問造成該區氣候乾燥的原因、利用的水源類型以及發展出來的產業，最適合以下哪一個選項的配對？
(A)背西風，地下水，畜牧業
(B)背西風，河水，混合農業
(C)背信風，地下水，畜牧業
(D)背信風，河水，混合農業。



『段考試題到此結束，請再檢查一遍畫卡是否正確，小心不要被扣十分啦！』
『恭喜你完成國中三年最後一次地理段考，祝你會考順利！！』