

基隆市立武崙國中 104 學年度第二學期 第二次段考 八年級社會試卷——地理科

第一、二大題：單選題、題組題(92%)：請用 2B 鉛筆依題號在電腦卡上作答，電腦讀卡時無法判斷身分者，扣總分 10 分。  
 第三大題：非選題(8%)：請使用藍、黑色原子筆作答，未依規定作答者，該題答案不計分，最多扣滿 8 分。

範圍：第四冊 L.3~L.4

班級：\_\_\_\_\_ 座號：\_\_\_\_\_ 姓名：\_\_\_\_\_

一、單選題

1. ( ) 下表是老師在黑板上整理的各種半球的海洋及陸地面積比例，其中哪一項資料整理錯誤？


	海洋	陸地
北半球	61%	39%
南半球	81%	19%
陸半球	45%	55%
水半球	89%	11%

(A)北半球 (B)南半球 (C)陸半球 (D)水半球。

2. ( ) 下列哪一種牲畜是內蒙古的主要交通工具，有「沙漠之舟」的美稱？ (A)天馬 (B)犛牛 (C)駱駝 (D)山羊。

3. ( ) 下列哪一洲沒有赤道通過？ (A)亞洲 (B)美洲 (C)非洲 (D)歐洲。

4. ( ) 下圖為西藏地區的僧侶服飾，不但能抵擋嚴寒，夜晚解下腰帶還可當被褥。當白天陽光充足時，人們可袒出右臂。這樣特殊的設計，是為了因應當地的哪項自然特徵？ (A)日溫差大 (B)紫外線強 (C)風勢強勁 (D)年溫差大。



5. ( ) 中國西部偏遠地帶經濟發展最具優勢的條件為何？ (A)資源 (B)人力 (C)交通 (D)技術。

6. ( ) 環太平洋火山地震帶是全世界火山及地震活動最頻繁的地區，哪座山脈的形成是因太平洋板塊與其他板塊的碰撞擠壓有關？ (A)落磯山脈 (B)阿爾卑斯山 (C)喜馬拉雅山 (D)天山。

7. ( ) 下列何者是水半球的中心？ (A)澳洲 (B)智利 (C)南極洲 (D)紐西蘭。

8. ( ) 地表上有許多壯闊的地形景觀。請問：世界上海拔最高的高原是下列哪一個？ (A)雲貴高原 (B)青藏高原 (C)巴西高原 (D)東非高原。

9. ( ) 中國哪一少數民族信仰佛教，長期實施教合一，宗教已成為人們精神生活與社會生活不可分離的一部分，政治、歷史、文化、藝術無不瀰漫濃厚的宗教氣息？ (A)藏族 (B)回族 (C)蒙古族 (D)維吾爾族。

10. ( ) 西元 2000 年，中國開始推動「西部大開發」的政策，四大重點工程專案不包括下列哪一項？ (A)退田還湖 (B)西電東送 (C)青藏鐵路 (D)西氣東輸。

11. ( ) 中國內蒙古高原地勢平坦，與黃土高原的崎嶇多溝壑大異其趣。請問：造成內蒙古高原地形平坦的主要原因為何？ (A)河流侵蝕 (B)雨水溶蝕 (C)風力侵蝕 (D)熔岩堆積。

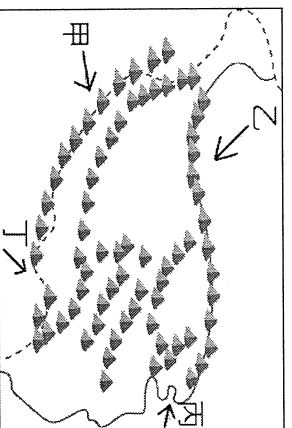
12. ( ) 下列有關西部區域的敘述，何項與事實不符？ (A)地形以平原、盆地為主 (B)氣候乾燥少雨 (C)地廣人稀 (D)民族多跨國境分布。

13. ( ) 河西走廊位於黃河流域的西部和狹長的地塹地形而得名，當地是中原通往西域的必經之路，至今仍為東西間交通往來的重要孔道。下列關於河西走廊的描述，何者正確？ (A)在早期絲路的貿易路線中，以犛牛為主要交通工具 (B)當地的氣候類型主要為溫帶草原氣候 (C)武威、張掖等城市的形成主要在於具備了礦產資源的優勢 (D)山麓綠洲在夏季時水源充足，農業活動盛行。

14. ( ) 熱帶季風氣候、熱帶莽原氣候和熱帶雨林氣候，其特徵中下列哪一個人描述錯誤？  
 (A) 益華：都屬於終年高溫的氣候 (B) 軍暉：最大的差異在於雨季長短 (C) 情宣：都有明顯的乾季 (D) 嘉祐：都出現在回歸線之間。
15. ( ) 天山地區主要的產業活動為傳統的山牧季移，在下列哪一個時候較容易見到牛羊在天山山頂上活動、吃草？ (A) 一月 (B) 三月 (C) 七月 (D) 十一月。
16. ( ) 中國新疆近年來因其豐富的自然資源而吸引許多大型企業前往投資設廠，但下列哪一類型的產業在當地無法獲得充分的原料供應？  
 (A) 製茶業 (B) 棉紡織業 (C) 食品加工 (D) 石油化學工業。

17. ( ) 「月牙泉是河西走廊上著名的綠洲，其水位自1960年代起開始急遽下降，根據該地風景管理處每日進行的測量記錄顯示，若依此速率，千年的月牙泉可能在20年後面臨乾涸。」請問：河西走廊上的綠洲水源最可能依賴哪座山脈的融雪？ (A) 天山 (B) 秦嶺 (C) 祁連山 (D) 太行山。

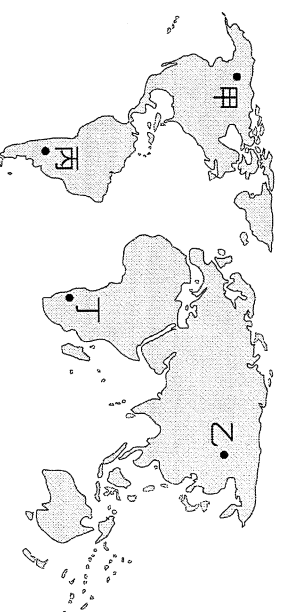
18. ( ) 西藏地區夏季因雨量較多，利於農業發展。雨量的來源主要是由下圖中哪一風向所帶來的水氣？ (A) 甲 (B) 乙 (C) 丙 (D) 丁。



19. ( ) 地理老師為比較內蒙古高原與青藏高原的特色，特地在上課前準備了一張表格，如下表所示，但其中哪項不小心寫錯了？

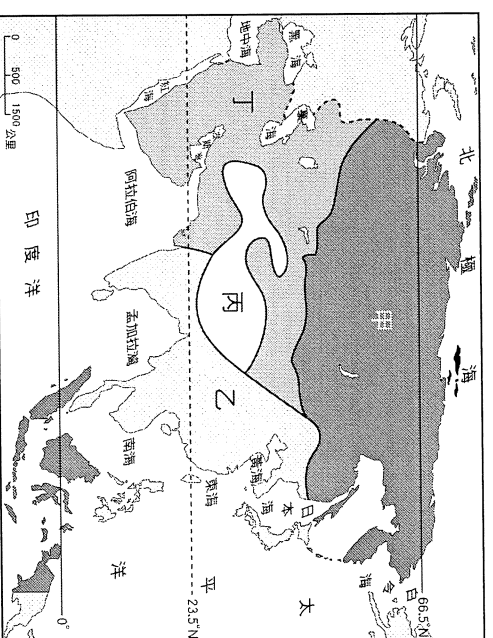
地區	(A)	(B)	(C)	(D)
內蒙古高原	蒙古族	畜牧方式	交通工具	宗教信仰
青藏高原	藏族	畜牧與農業	馬和駱駝	伊斯蘭教
			犏牛	藏傳佛教

20. ( ) 塔克拉瑪干沙漠是中國最大的沙漠，也是全球最大的溫帶沙漠。造成當地乾燥少雨的原因，除了距海遙遠之外，還有下列哪一項？  
 (A) 地形阻隔 (B) 洋流通過 (C) 緯度較高 (D) 高壓籠罩。
21. ( ) 河套平原氣候雖乾燥，但農業卻發達，主要與下列哪一項因素有密切的關係？ (A) 平原地形廣大 (B) 灌溉水利發達 (C) 無霜期特長 (D) 夏季融雪特多。
22. ( ) 目前全球人口數已突破 71 億，其中又以下圖中哪兩洲的人口成長速度最快？  
 (A) 甲乙 (B) 乙丙 (C) 乙丁 (D) 丁丙。



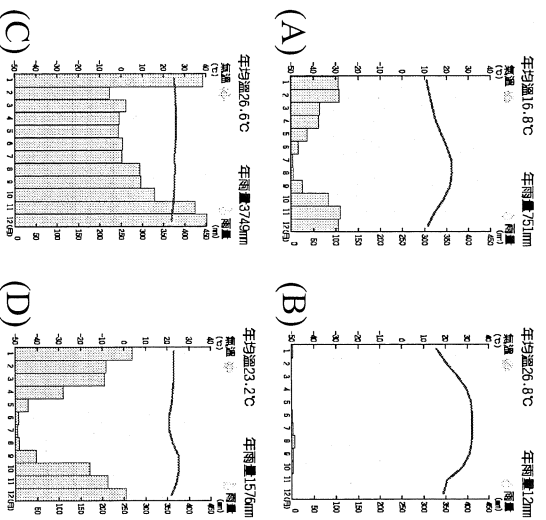
23. ( ) 「『寧夏多栽一棵樹，北京少落一粒沙。』上述說明在寧夏地區進行綠化工程，即可減緩北京的□□問題。」上述□□最可能為何種環境問題？ (A) 水土流失 (B) 河流氾濫 (C) 土壤鹽鹼化 (D) 沙塵暴侵襲。

24. ( ) 甲~丁是亞洲的四個氣候分區圖。圖中哪一氣候區內，聚居了世界近半數的人口，是世界人口最稠密的地區？  
 (A) 甲 (B) 乙 (C) 丙 (D) 丁。



25. ( ) 青藏鐵路開通後，使西藏的經濟加速發展，在軍事上，西藏鄰近印度、尼泊爾、不丹與緬甸，也直接影響中國與哪一地區的戰略形勢？  
 (A) 中亞 (B) 東北亞 (C) 西亞 (D) 南亞。

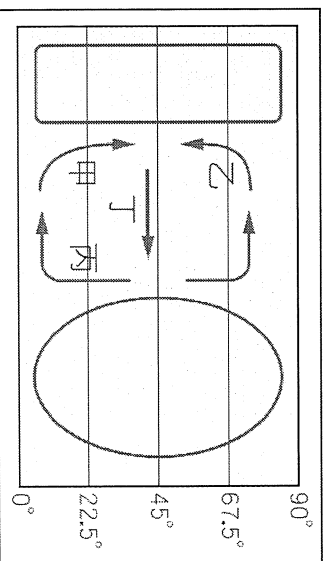
26. ( ) 緯度高低影響一地區的氣候變化狀況，因而發展出不同的區域特色。請以下列氣候圖中的型態判斷，何者所處的緯度最低？



27. ( ) 派大星在夏至(6月22日)哪一天的正午測量太陽的位置，發現太陽出現在他的正上方，則派大星所在的國家最可能是位於下列何處？  
 (A) 極圈附近的國家 (B) 赤道經過的國家  
 (C) 北回歸線經過的國家 (D) 南回歸線經過的國家。

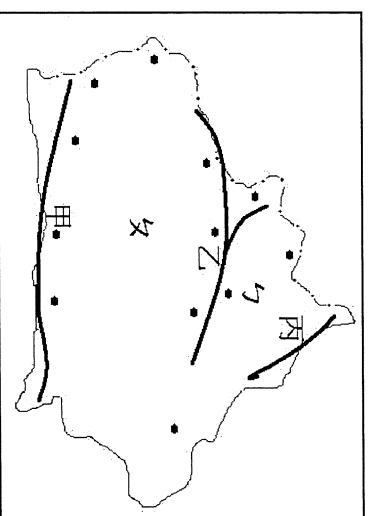
### 三、題組題

(一) 下圖為一假想洋流圖。請問：

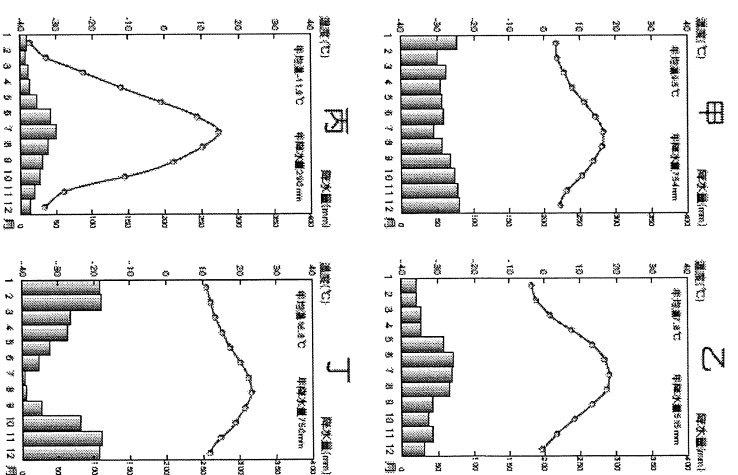


28. ( ) 「黑潮」將溫暖的海水帶到臺灣附近，使臺灣附近成為河游魚類的河游區。黑潮屬於圖中哪一種洋流類型？ (A) 甲 (B) 乙 (C) 丙 (D) 丁。
29. ( ) 「涼流」是由中緯度溫帶海域流向低緯度熱帶海域的洋流，常常為周遭帶來較乾的氣候。圖中何者為涼流？ (A) 甲 (B) 乙 (C) 丙 (D) 丁。

(二) 下圖為中國新疆簡圖，黑點為綠洲位置。請問：

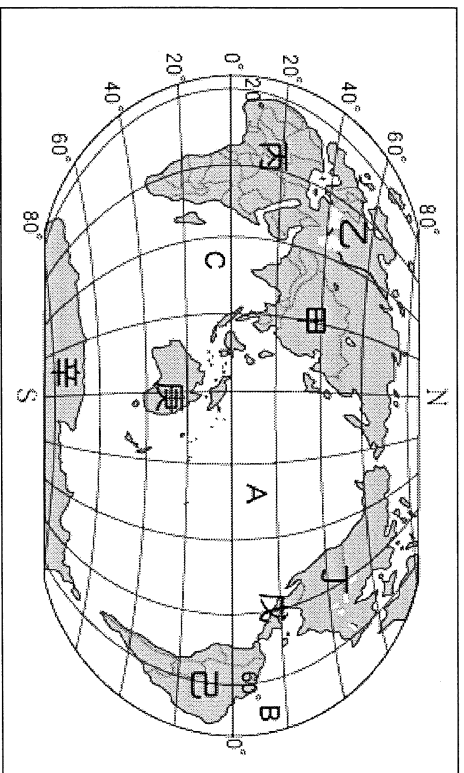


30. ( ) 將新疆分隔為南、北兩盆地的乙山脈為何？  
 (A) 阿爾泰山 (B) 崑崙山 (C) 祁連山 (D) 天山。
31. ( ) 乙盆地內的綠洲明顯呈環狀分布，主要的影響因素為何？ (A) 水源 (B) 產業 (C) 民族 (D) 氣候。
32. ( ) 自古居住於乙盆地內主要的少數民族為何？  
 (A) 維吾爾族 (B) 哈薩克族 (C) 蒙古族 (D) 藏族。
- (三) 下圖為世界四個城市的氣候圖。請問：

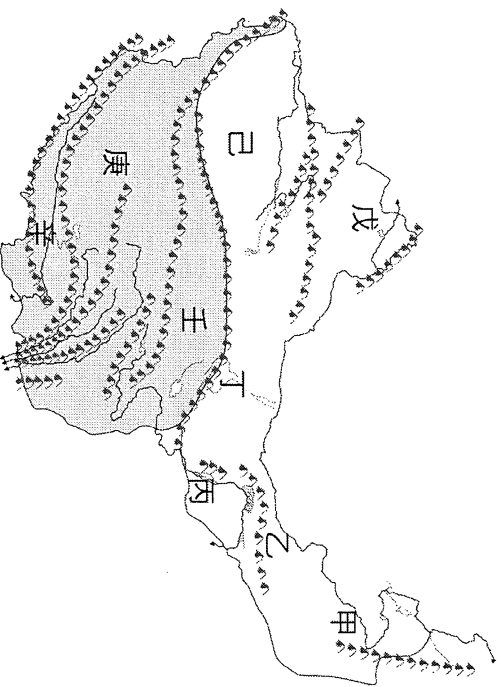


33. ( ) 依據氣候圖判斷，「甲」地最可能是下列何種氣候類型？ (A) 熱帶雨林氣候 (B) 溫帶沙漠氣候  
 (C) 溫帶海洋性氣候 (D) 溫帶地中海型氣候。
34. ( ) 圖中哪一個城市氣候寒冷，且降雨量最少？  
 (A) 甲 (B) 乙 (C) 丙 (D) 丁。
35. ( ) 哪一個城市受氣候影響，夏乾冬雨，以橄欖樹為代表性作物？ (A) 甲 (B) 乙 (C) 丙 (D) 丁。
36. ( ) 假設甲、乙兩城市緯度相當，造成甲城市降雨量較多而平均，且年溫差較小的可能原因為何？  
 (A) 地勢較低 (B) 距海較近 (C) 山脈阻擋 (D) 涼流流經。

(四)下圖為世界區域簡圖，其中甲~辛為各大洲，A~C為三大洋。請問：



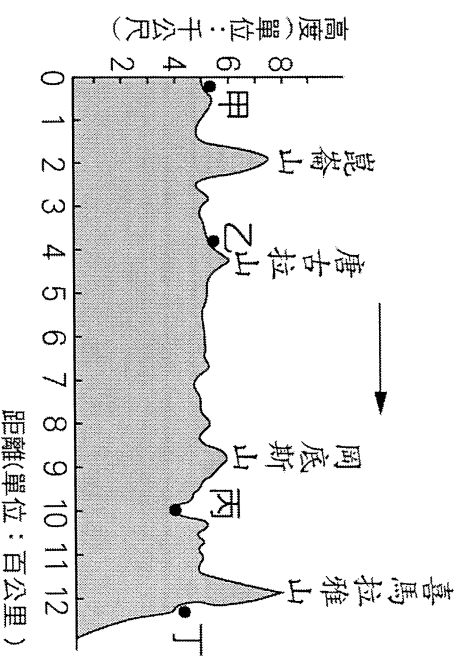
- 37.( )各大洲中，面積最大的「甲」是哪一洲？ (A) 歐洲 (B) 亞洲 (C) 非洲 (D) 北美洲。
- 38.( )宋重璣計畫開飛機沿著南緯 30 度線繞地球一圈，那麼也應該不會經過下列哪一洲？ (A) 歐洲 (B) 非洲 (C) 南美洲 (D) 大洋洲。
- 39.( )下列哪一洲會同時出現熱帶、溫帶及寒帶氣候？ (A) 甲 (B) 乙 (C) 丙 (D) 庚。
- 40.( )語言可以顯示一地的歷史發展過程，哪一洲因曾被西班牙殖民，而以西班牙語為其主要語言？ (A) 甲 (B) 丙 (C) 丁 (D) 己。
- (五)下圖為中國西部區域的簡圖。請回答下列問題：



- 41.( )下列哪一個敘述有誤？ (A) 己區為中國最大的沙漠區 (B) 甲區水氣來自太平洋 (C) 戊區水氣來自北極海 (D) 辛區的水氣來自太平洋。
- 42.( )當夏季時，圖中哪一區最涼爽？ (A) 乙 (B) 丁 (C) 庚 (D) 戊。
- 43.( )「該地位於大河之西，為古絲路的必經之地，武威、張掖、酒泉、敦煌均為昔日提供駱駝商隊休息的綠洲城市。」請問：上文所描述的地區位於何處？ (A) 丙 (B) 丁 (C) 己 (D) 壬。

44.( )「沙漠進得去卻出不來，一天之中就經歷了一整年的寒暑變化，居民引用地下水灌溉，春麥、玉米、棉花、油菜、甜菜與瓜果在當地均盛產。」以上是描述哪一個盆地的情形？ (A) 戊 (B) 己 (C) 辛 (D) 壬。

(六)下圖為中國青藏地區的地形剖面圖。請回答下列問題：



- 45.( )圖中箭頭所指的方向為何？ (A) 東方 (B) 西方 (C) 南方 (D) 北方。
- 46.( )圖中何處是西藏的農業精華區，亦屬於印度洋外流區？ (A) 甲 (B) 乙 (C) 丙 (D) 丁。

**選擇題結束，別忘了還有非選擇題喔！**

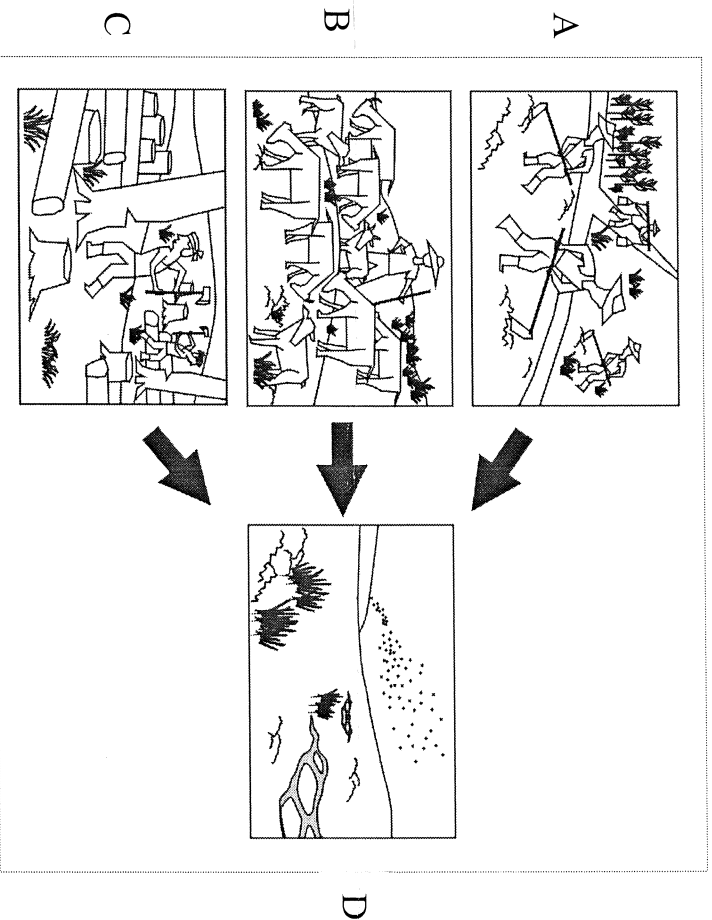
基隆市立武崙國中 104 學年度第二學期 第二次段考 八年級社會試卷—地理科

答案卷

(請使用藍、黑色原子筆作答，未依規定作答者，該題答案不計分，最多扣滿 8 分)

班級：____ 座號：____ 姓名：_____	一、二 選擇分數	三、非選分數	總 分

三、非選擇題：



上圖是環境變遷的一連串過程。

(1)請就這組圖片對土地帶來的影響，寫出此環境問題(D圖)為何？(2%)

\_\_\_\_\_

(2)根據左上方三張圖片(A、B、C圖)，分別說明三項造成此環境問題的過程。(6%)

A圖：\_\_\_\_\_

B圖：\_\_\_\_\_

C圖：\_\_\_\_\_