


基隆市立武崙國民中學一〇四學年度第二學期第二次段考七年級地理科試題卷

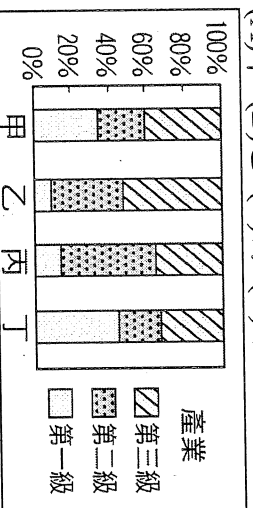
班級：七年\_\_班 / 座號：\_\_ / 姓名：\_\_

◆單選題，共 50 題，每題 2 分

1. ( ) 附圖為某項產品的產銷流程圖，其中甲~戊五項流程中，何者屬於第三級產業？  
 (A) 甲 乙 丙 (B) 乙 丙 丁 (C) 乙 丁 戊 (D) 丙 丁 戊。  
 (甲) 漁獲捕捉 → (乙) 運輸 → (丙) 罐頭製造



2. ( ) 附圖是四個地區的人口就業結構圖。圖中哪個地區的工商業活動最發達？  
 (A) 甲 (B) 乙 (C) 丙 (D) 丁。

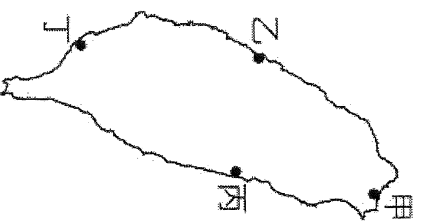


3. ( ) 交通是指兩地之間人口、貨物與資訊的往來流通，可分為通訊及運輸兩大類，請問：下列哪些屬於通訊？  
 (甲) 郵政 (乙) 管線 (丙) 通訊衛星 (丁) 網際網路  
 (A) 甲 乙 丙 (B) 甲 乙 丁 (C) 甲 丙 丁 (D) 乙 丙 丁。
4. ( ) 在工業類型的分類中，產品重量較重，工廠規模較大，通常需要較多資金，稱為何種工業？ (A) 輕工業 (B) 重工業 (C) 高科技工業 (D) 民生工業。
5. ( ) 附表中甲、乙、丙、丁四地，何者都市化程度最高？ (A) 甲 (B) 乙 (C) 丙 (D) 丁。

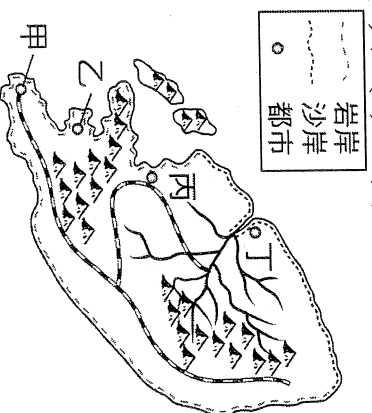
(單位：%)

地區	甲	乙	丙	丁
都市人口	85	50	70	25
鄉村人口	15	50	30	75

6. ( ) 臺灣早期的糖廠多分布在臺中以內的甘蔗產區，選擇這種工業區位的主要目的為何？  
 (A) 降低生產成本 (B) 減少工業汙染 (C) 均衡工業發展 (D) 擴大消費市場。
7. ( ) 隨著臺灣工資不斷上揚、環保意識高漲等趨勢，目前許多傳統產業紛紛轉移至下列哪些國家或地區？(甲) 中國 (乙) 東南亞 (丙) 南非 (丁) 西亞  
 (A) 甲 乙 (B) 甲 丁 (C) 乙 丙 (D) 丙 丁。
8. ( ) 附圖為臺灣四大國際性海港的位置圖，請問：哪一個海港由潟湖興建而成，為臺灣最大的國際港？ (A) 甲 (B) 乙 (C) 丙 (D) 丁。

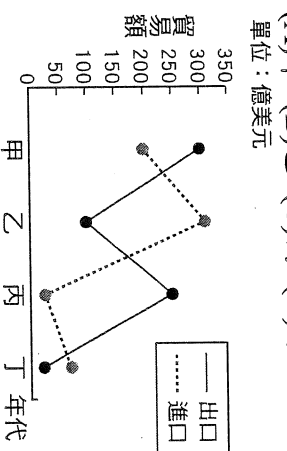


9. ( ) 附圖是一假想島嶼上四個港口的位置圖。由附圖判斷，下列何者的腹地範圍最小？  
 (A) 甲 (B) 乙 (C) 丙 (D) 丁。



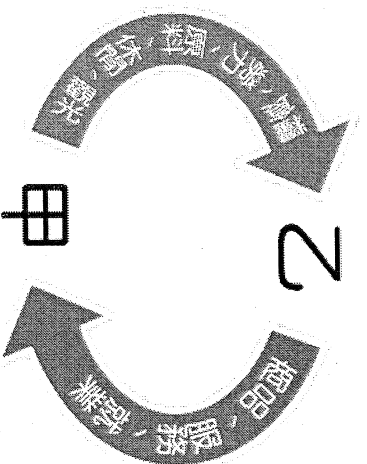
10. ( ) 臺灣某一時期，經濟政策朝向發展技術、資本密集且具有高附加值的高科技產業，政府成立資策會，大量延攬海內外學人，將資訊、光電及生物科技等列為發展重點，擬定國家科技發展計畫。為配合此政策，政府還推行了下列哪一措施？ (A) 實施十大建設 (B) 推動土地改革 (C) 設置加工出口區 (D) 成立科學工業園區。

11. ( ) 附圖為幸福國四個時期的貿易總額統計圖。請問：下列哪一個時期，幸福國入超情形最嚴重？  
 (A) 甲 (B) 乙 (C) 丙 (D) 丁。



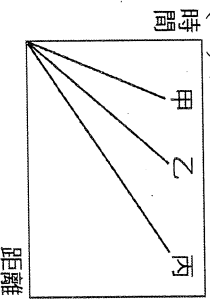
12. ( ) 臺灣未來發展的產業必須符合「三高四低」的特性，亦即高附加值、高資本、高技术密集及低勞力密集、低汙染、低土地利用、低耗能。以下哪項產業最能符合上述特性，而成為臺灣的明星產業？ (A) 石化 (B) 紡織 (C) 通訊 (D) 鋼鐵。

13. ( ) 附圖為甲、乙兩地相互關係的示意圖，請問：「乙」最可能為下列何者？  
 (A) 都市 (B) 鄉村 (C) 集村 (D) 港口。

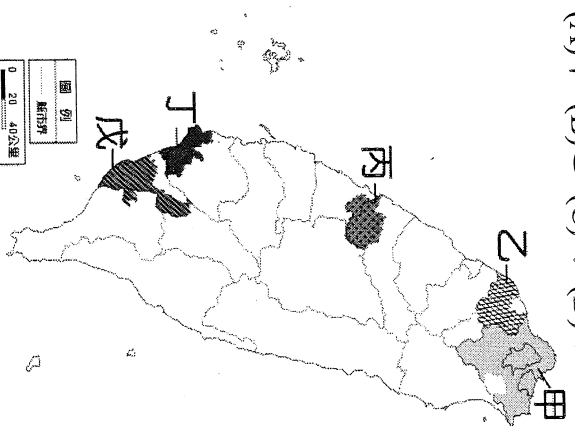


14. ( ) 臺灣的加工出口區是利用哪兩項優勢，吸引國外的資金及技術進入？(甲) 廣大的市場 (乙) 廉價的勞力 (丙) 充足的原料 (丁) 優惠的政策  
 (A) 甲 乙 (B) 乙 丙 (C) 乙 丁 (D) 丙 丁。
15. ( ) 臺灣北部工業區以何種類型的工業為主？  
 (A) 紡織成衣 (B) 石油化學 (C) 電子資訊 (D) 鋼鐵合金。

16. ( ) 不同的運輸方式各有其特色，根據右圖中「時間與距離」的交通特色加以判斷，圖中的甲、乙、丙依序為哪三種運輸方式的特性？

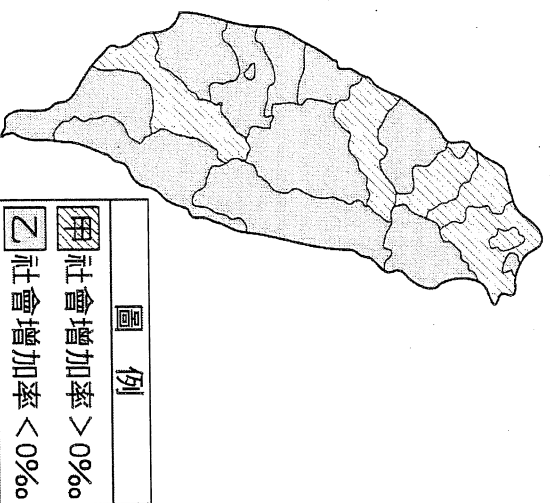


17. ( ) 附圖為臺灣主要都會區分布圖。請問：何處規模最大、為全臺的經濟中樞？  
(A)甲 (B)乙 (C)丙 (D)丁。



18. ( ) 附圖為 100 年臺灣各縣市社會增加率類型的分布圖，下列用來說明圖中分布狀況的原因何者正確？

- (A) 甲類型的推力大於拉力，因物價水準較高  
(B) 甲類型的拉力大於推力，因就業機會較多  
(C) 乙類型的推力大於拉力，因工業汙染嚴重  
(D) 乙類型的拉力大於推力，因社會福利完善。



19. ( ) 附表為某工廠設置於甲、乙二地的成本分析，該工廠老闆根據此分析結果，決定將工廠設於乙地，以減少支出。若僅由表中資料判斷，下列何項區位要素是其設廠最主要的考量？  
(A)原料 (B)市場 (C)勞工 (D)動力。

單元：萬元

成本地點	原料運輸	勞工	動力	產品運輸	其他
甲地	500	200	100	200	50
乙地	200	180	120	300	30

20. ( ) 在電視的汽車廣告中，我們可以看到蜿蜒於山林間的公路，廣告詞：「一臺車跑全臺灣」，這正顯示出公路運輸的何項特性？(A)安全性較高 (B)客貨載運量大 (C)適應地形能力佳 (D)長途運輸費用低。

21. ( ) 從民國 41 年到 85 年，臺灣的都市人口占總人口的比例由 29% 提升至 70% 以上。此種現象的形成和下列何者有最直接的關係？  
(A)實施家庭計畫 (B)國民教育普及 (C)糧食產量增加 (D)工商產業發達。

家庭計畫：鼓勵適當的生育

22. ( ) (甲)鋼鐵、石化(乙)紡織、鞋業(丙)生物科技、奈米科技(丁)半導體、電子產業。以上工業種類若依臺灣經濟發展的先後順序，應如何排列？  
(A)甲→乙→丙→丁 (B)乙→甲→丙→丁  
(C)乙→甲→丁→丙 (D)丙→丁→甲→乙

23. ( ) 附圖為工業產品製造完成後的販賣流程示意圖。其中，由「工廠製造產品」銷售到「大盤商」的過程稱為什麼？  
(A)批發 (B)零售 (C)量販 (D)網路購物。

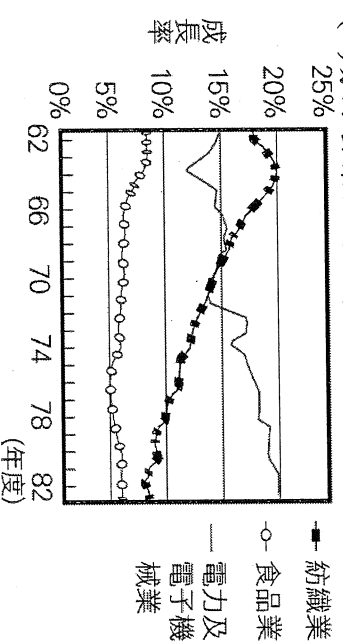


24. ( ) 臺灣早期加工出口區的设置，以及近年來的科學園區成立，均與下列哪項要素密切相關？  
(A)勞力低廉 (B)接近市場 (C)政府政策 (D)技術優良。

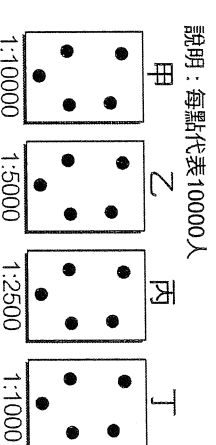
25. ( ) 附表是四個聚落的就業百分比，請問：何處最有可能是鄉村？(A)甲 (B)乙 (C)丙 (D)丁。

產業類型	就業人口(%)			
	甲	乙	丙	丁
第一級	64	11	21	28
第二級	25	44	13	38
第三級	11	45	66	34

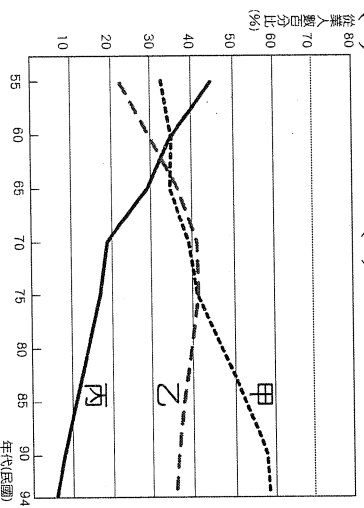
26. ( ) 附圖是某地區三種產業歷年平均受雇員工變動圖。從圖中變化的趨勢，可看出何種性質的產業有逐漸下滑的趨勢？(A)技術密集性的工業 (B)能源密集性的工業 (C)資本密集性的工業 (D)勞力密集性的工業。



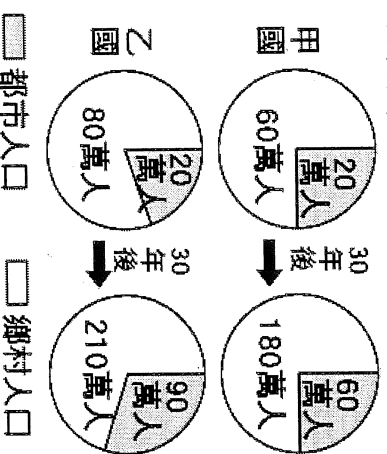
27. ( ) 就區位條件來判斷，麥當勞和肯德基這類速食店的設立地點，最適合選擇附圖中哪個地區？  
(A)甲 (B)乙 (C)丙 (D)丁。



28. ( ) 附圖為臺灣三級產業變化圖。圖中曲線甲、乙、丙，各代表第幾級產業？(A)一、二、三 (B)二、三、一 (C)三、一、二 (D)三、二、一。



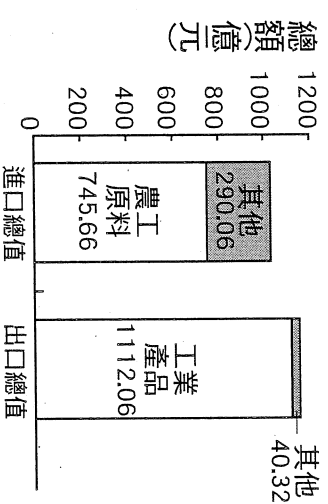
29. ( ) 附圖是甲、乙兩國都市人口和鄉村人口占全國人口比例的統計圖。圖中顯示三十年後，甲、乙兩國的都市化程度有何改變？(A)僅甲國提高 (B)僅乙國提高 (C)甲、乙兩國皆提高 (D)甲、乙兩國皆未提高。



30. ( ) 工廠為了獲利及發展，常常會選擇最優良的「工業區位」。請問：就工業區位條件而言，都市所在地的優勢主要不包括下列何者？  
(A)勞力 (B)市場 (C)土地 (D)交通。

31. ( ) 所謂的「一日生活圈」是指臺灣南北交通時間縮短，互動更加頻繁，形成新的交通運輸狀況，這種現象應與下列哪項交通建設完成通車有關？  
(A)高速公路 (B)捷運系統 (C)環島鐵路 (D)高速鐵路。

32. ( ) 附圖為快樂國某年的進出口資料。請問，根據附圖資料判斷，下列敘述何者正確？(A)該國為貿易入超國 (B)該國人力資源充足 (C)該國以發展勞力密集產業為主 (D)該國可能缺乏天然資源，進口以農工原料為主。



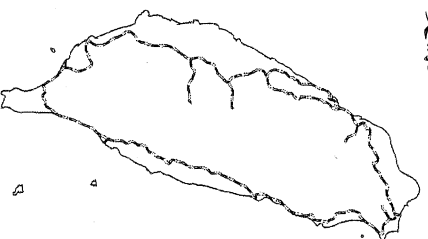
33. ( ) 「矽谷」是美國高科技產業最早興起的地方，則下列哪個縣市最適合比喻為「臺灣矽谷」？  
(A)臺北市 (B)新竹市 (C)臺中市 (D)臺南市。

34. ( ) 李老闆是一位清乾隆年間在滬尾做蔗糖批發生意的商人，他每年都固定會坐船到安平補貨數次。請問：當時李老闆不考慮陸運而選擇海運，最主要的考量因素應為下列何者？(A)山脈阻隔 (B)河流多為東西流向 (C)治安不佳，盜匪眾多 (D)航海技術較高。

35. ( ) 淡水河是臺灣早期唯一可以部分通航的河流，主要原因為何？(A)河流流量較穩定 (B)主流會於臺北盆地內 (C)為臺灣第一長河 (D)流域面積較廣。

36. ( ) 中國和臺灣都已加入世界貿易組織(WTO)，且於西元2008年底開放兩岸三通，使得兩岸在貿易上的接觸更加頻繁。兩岸商品大多選擇海輪運輸，這是因為海運具有下列哪項優點？  
(A)適應地形能力強 (B)機動性高 (C)速度較快 (D)運費較低。

37. ( ) 附圖為臺灣鐵路分布圖。由圖中路線的分布判斷，下列哪一項敘述正確？(A)路線主要沿河川流向興建 (B)路線受地形影響而呈環狀 (C)東部幹線是最早興建的鐵路 (D)圖中由北而南的三條鐵路支線分別為集集支線、內灣支線、阿里山支線。



38. ( ) 交通建設的發達，使得貨物間的往來更加便捷與頻繁。有關交通運輸類型的特色敘述，下列何者正確？

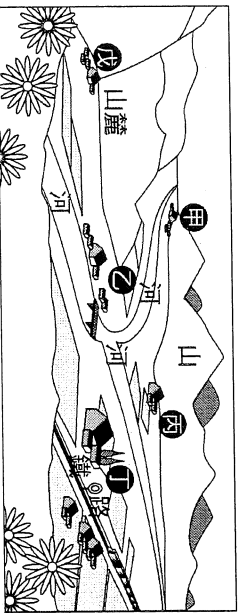
- (A)將臺北摩托車寄送回嘉義老家適合使用鐵路運輸的方式  
(B)南投的農產品宅配到高雄客戶家適合使用空運的方式  
(C)由沙烏地阿拉伯運原油到臺灣適合使用管線運輸的方式  
(D)由臺灣運送活鱧魚到日本適合使用海運的方式。

39. ( ) 附表為2006年世界進口與出口貿易額排名前前五名的國家，由表中數據可以推論，下列何者為貿易入超國？  
(A)德國 (B)中國 (C)英國 (D)日本。

單位：億美元

排名	出口額	進出口額
1	德國 11,123	美國 19,196
2	美國 10,373	德國 9,102
3	中國 9,691	中國 7,916
4	日本 6,471	英國 6,008
5	法國 4,901	日本 5,775

※附圖為甲、乙、丙、丁、戊五個集村的示意圖。請問：



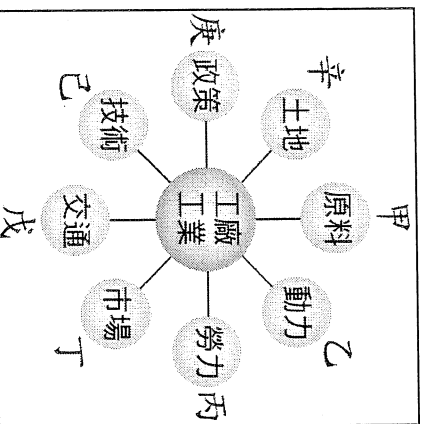
40. ( ) 圖中甲、乙、丙、丁、戊五個集村中，何處最有可能發展為都市？  
 (A)甲 (B)乙 (C)丙 (D)丁 (E)戊。
41. ( ) 承上題，此兩個集村發展為都市與下列哪項因素最有關係？(A)地形 (B)氣候 (C)資源 (D)交通。

※附表為四個國家的都市化程度資料。請問：

都市化程度(%)	甲	乙	丙	丁
	100	80	60	40

42. ( ) 臺灣目前的都市化程度與圖中哪一國最接近？  
 (A)甲國 (B)乙國 (C)丙國 (D)丁國。
43. ( ) 甲國的都市化程度為100%，最可能是一個城市型的國家，請問：甲國應為下列何者？(A)美國 (B)加拿大 (C)新加坡 (D)中國。

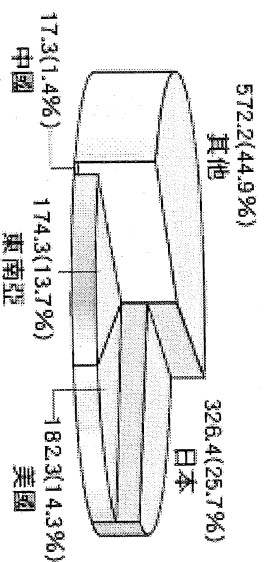
※附圖為影響工業發展的因素。請問：



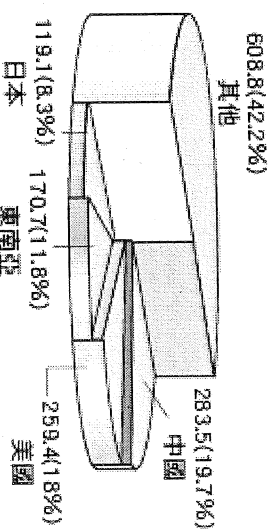
44. ( ) 日治時期臺灣的新式糖廠皆設立於中南部，影響其分布的因素，主要因為當地具有何項区位优势？  
 (A)甲 (B)乙 (C)丙 (D)丁 (E)戊。
45. ( ) 臺灣的鋼鐵與石化工業主要分布於高雄港及雲林麥寮，上述產業是基於何種区位优势？  
 (A)甲 (B)乙 (C)丙 (D)丁 (E)戊。
46. ( ) 臺灣許多製鞋、成衣等工廠移往中國、東南亞設廠，其主要著眼於何項区位优势？  
 (A)甲 (B)乙 (C)丙 (D)丁 (E)戊。
47. ( ) 一直以來，臺灣的東部地區工業較不發達，若克服了何項因素，情況可能會大幅改善？  
 (A)甲 (B)乙 (C)丙 (D)丁 (E)戊。
48. ( ) 下列哪項產業的設廠條件，主要受到(丁)工業區位的影響？(A)水泥廠 (B)製糖廠 (C)玩具工廠 (D)玻璃工廠。

※臺灣由於自然資源欠缺，原料大多仰賴國外進口，加上國內市場規模有限，產品轉向出口，因此國際貿易成為臺灣經濟命脈。下方是臺灣某一年進出口地區貿易產值比例圖，請由圖中數據判斷，並回答下列問題。

**進口總值1,272.5億美元**



**出口總值1,441.5億美元**



49. ( ) 臺灣的國際貿易在哪些地區呈現「入超」？  
 (甲)日本 (乙)中國 (丙)美國 (丁)東南亞  
 (A)甲乙 (B)甲丁 (C)乙丙 (D)丙丁。
50. ( ) 根據圖中數據判斷，下列何者與臺灣貿易總額最高，與臺灣貿易關係密切？  
 (A)日本 (B)美國 (C)中國 (D)東南亞。