

基隆市立武崙國民中學一〇四學年度第二學期第三次段考七年級地理科試題卷

<本試卷有試題 40 題，共 4 頁> 班級：

姓名：

座號：

一、基礎選擇題：

(1~30 題，每題 2 分，共 60 分)


阿哲和雨萱相識交往 5 年，於 2010 年共結連理，他們倆人來自臺灣不同角落，彼此有不同的生活經驗，交往期間更攜手走遍臺灣各大風景名勝。請回答第 1~23 題：

- ( ) 1. 阿哲來自彰化鄉村，廣大的平原和水圳陪伴著他的青春歲月，請問阿哲家所處的平原主要由哪條河川沖積形成？  
(A)淡水河 (B)卑南溪  
(C)濁水溪 (D)高屏溪
- ( ) 2. 阿哲家歷代務農，早期在平原上種植水稻，後來轉種花卉，和鄰近農家組成產銷班專業化經營，請問促成阿哲家農作物轉作的重大基礎建設為何？  
(A)日月潭水庫的興建 (B)桃園國際機場的整建 (C)中山高速公路的通車  
(D)西部縱貫線鐵路電氣化
- ( ) 3. 阿哲的大學生涯在擁有臺灣第一大港的都市度過，請問他就讀的大學在哪一個行政區？ (A)基隆市 (B)臺中市  
(C)臺南市 (D)高雄市
- ( ) 4. 阿哲的父親希望他在畢業後回到家鄉的紡織或機械工廠工作，但當時這些傳統產業外移嚴重急需轉型，請問下列哪家公司不屬於產業轉型？  
(A)雲林興隆毛巾工廠：堅持品質並結合創意與觀光 (B)大村美麗達自行車：創新研發並開創自有品牌 (C)臺中精密機械公司：技術創新，行銷全世界  
(D)臺塑六輕公司：石油煉製形成石化產品鏈
- ( ) 5. 雨軒成長於蘭陽平原，蘭陽溪沖積出來的平原，以及豐沛的降水讓此地農

業發達、鴨隻肥美，請問蘭陽溪的發源自哪兩座山脈所夾的山谷？

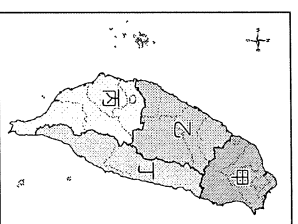
- (A)中央、海岸 (B)雪山、中央  
(C)玉山、中央 (D)雪山、阿里山
- ( ) 6. 雨軒的大學則位於好山好水的花東縱谷平原，然而每次要回家時總是必須經過危險的清水斷崖，請問清水斷崖的高山和深海分別為何？(A)海岸山脈、太平洋 (B)雪山山脈、太平洋  
(C)中央山脈、太平洋 (D)中央山脈、臺灣海峽
- ( ) 7. 兩人大學畢業後紛紛前往臺灣人口最多的行政區就業，這個行政區幅員廣闊，經濟發展差異大，請問此行政區為何？(A)臺北市 (B)臺南市 (C)桃園市 (D)新北市

- ( ) 8. 阿哲和雨軒相識後常利用週休二日在臺灣各地旅遊，請問



上方照片最可能出現在哪一個行政區？

- (A)基隆市 (B)臺南市  
(C)臺東縣 (D)澎湖縣
- ( ) 9. 『天氣』好壞對於旅遊能否玩得盡興十分重要，雨軒負責查詢氣象資料，她發現『冬季』旅行最容易遇到陰雨的區域為下列何者？  
(A)甲 (B)乙 (C)丙 (D)丁
- ( ) 10. 承上題，此區域冬季陰雨日數多的主要原因為何？(A)熱力作用的對流雨  
(B)西南季風的地形雨 (C)東北季風的地形雨 (D)冷暖空氣交會的鋒面雨

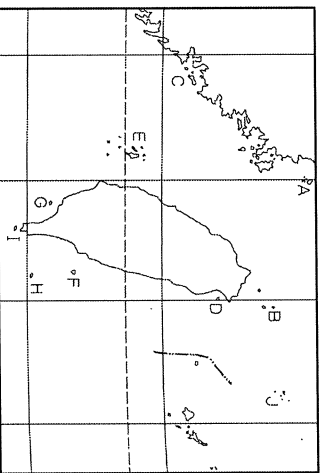


- ( ) 11. 雨軒的父母原本在蘭陽平原種植金桔，近幾年來宜蘭觀光業興盛，雨軒的哥哥回到家鄉利用金桔園結合生態體驗經營起了休閒農場，此項改變除了休閒風氣日盛外，還需要哪項基礎建設的興建才能促成？(A)貢寮海邊的核能發電廠 (B)九彎十八拐的北宜公路 (C)貫穿雪山山脈的國道五號 (D)柏油路重新鋪設的路平計劃

- ( ) 12. 雨軒參加公司的金門三日遊活動，行程中會前往金門對岸搭船只需 40 分鐘的中國城市，請問下列哪個城市最有可能是雨軒此次前往的大陸城市？(A)香港 (B)澳門 (C)廈門 (D)深圳

- ( ) 13. 承上題，下列哪一項並非雨軒此行所特別購置的金門名產？(A)砲彈鋼刀 (B)貢糖 (C)高粱酒 (D)麻花卷

- ( ) 14. 阿哲利用拜訪客戶的機會來到臺灣擁擠有『菊島』之稱的離島，此地地勢低平，風大雨少，阿哲除了品嚐仙人掌冰淇淋還朝聖了壯觀的柱狀玄武岩，請問阿哲前往的地點為何？



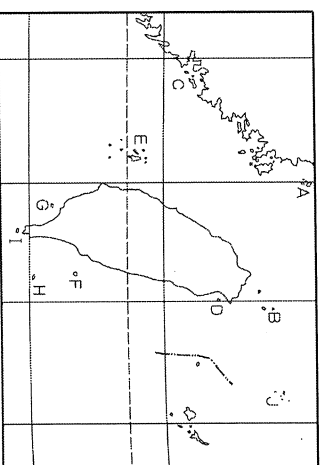
(A) C (B) E (C) F (D) G

- ( ) 15. 阿哲回臺灣本島後和雨軒約在墾丁一起參加春天吶喊活動，請問墾丁四季溫暖的主要原因為何？

(A)地勢低 (B)緯度低  
(C)回歸線通過 (D)冬季季風背風側

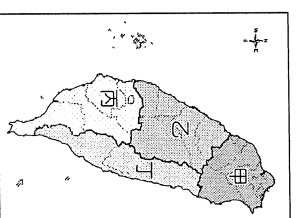
- ( ) 16. 雨軒的父母給了阿哲一罐來自『八八坑道』的高粱酒，酒盒並有芹壁村石頭屋的風景素描，請問這瓶酒是

下圖哪座島嶼的名產？

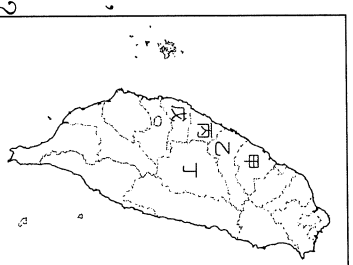


(A) A (B) C (C) E (D) H

- ( ) 17. 雨軒和阿哲利用七、八月參與阿美族的豐年祭，並且順道參觀當地著名景點：三仙臺、石梯坪...，請問他們前往與會的區域為何？(A)甲 (B)乙 (C)丙 (D)丁

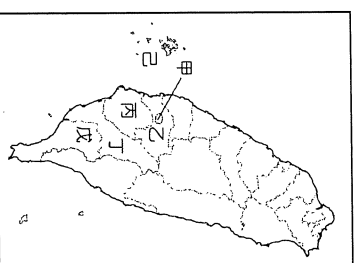


- ( ) 18. 承上題，若兩人想漫步沙灘，欣賞潟湖、鹽田景觀，並在安平吃蚵卷、蚵仔煎等風味小吃，請問要前往哪個區域？(A)甲 (B)乙 (C)丙 (D)丁



- ( ) 19. 兩人的婚紗照取景地點為湖光山水的日月潭以及整群綿羊與廣大草原的清境農場，請問他們前往右圖中的哪個縣市？

(A) 甲 (B) 乙 (C) 丁 (D) 戊



- ( ) 20. 阿哲的姑姑嫁到阿里山的種茶人家，為了送喜帖，兩人順道來了一趟搭乘小火車、觀賞雲海與日出的小旅行，請問他們前往的行政區在圖中的哪個位置？(A)乙 (B)丙 (C)丁 (D)戊

- ( ) 21. 兩人結婚當日，禮車由彰化出發前往宜蘭迎娶，請問路程中最『不可能』經過哪個縣市？(A)臺中市  
(B)雲林縣 (C)新竹縣 (D)苗栗縣

- ( ) 22. 阿哲和雨軒考慮婚後定居北部或東部區域，下表是兩人考慮的因素，請你協助依序完成 1~4 分別對應的指標？

	就業機會	平均所得	教育程度	人口密度
北部區域	1		3	4
東部區域		2		

- (A)高、高、高、高  
(B)高、低、低、低  
(C)高、低、高、低  
(D)高、低、高、高

- ( ) 23. 兩人經過深思熟慮決定居住在北部區域，請問哪一項特色最可能是吸引他們選擇居住北部區域的主要原因？

- (A)工商業發達，就業機會多  
(B)好山好水，臺灣的後花園  
(C)平原廣大，物產資源豐饒  
(D)海運便利，臺灣重工業中心

- ( ) 24. 雲林離島式基礎工業區引入石化工業，為當地帶來許多改變，請問此工業區為當地帶來的優勢不包含哪項？

- (A)減緩人口流失 (B)減緩人口老化  
(C)增加就業機會 (D)環境品質優化

- ( ) 25. 苗栗以丘陵地形為主體，早期多種植茶及樟腦，近年來融入當地族群文化特色，休閒產業興起，為農業提供新的出路。請問當地休閒觀光產業多融入哪一個族群特色？(A)達悟族 (B)阿美族 (C)客家人 (D)閩南人

- ( ) 26. 請問台東夏季易有焚風的主要原因為何？(A)位於西南季風背風側  
(B)位於東北季風背風側  
(C)位於颱風前進路線背風側  
(D)兩座山脈南北縱貫所導致

- ( ) 27. 住在雲林的阿鳳，他的生活空間在臺灣『七個區域生活圈』的階層中還包含哪些縣市？甲、臺中市 乙、南投縣 丙、雲林縣 丁、嘉義縣 戊、臺南市 己、高雄市 (A)甲、乙 (B)乙、丙 (C)丁、戊 (D)戊、己

- ( ) 28. 下列何者最『不』可能是臺灣東部區域人口呈現負成長的主要原因？

- (A)地形阻隔、交通不便  
(B)環境污染、景觀破壞  
(C)產業落後、工作難尋  
(D)基礎建設、教育資源缺乏

- ( ) 29. 行政院積極推動「國土綜合開發計畫」，請問此計畫的執行最主要是希望達成下列哪一項目的？(A)降低區域間發展差異 (B)穩固發展民主與自由 (C)帶動高科技產業發展 (D)促成亞太金融圈成型

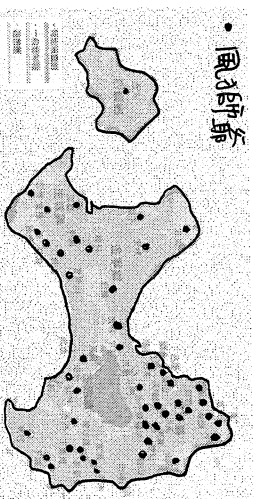
- ( ) 30. 下表共有幾個行政區為直轄市層級？  

高雄市、新北市、花蓮市、新竹市、嘉義市、宜蘭市、桃園市、南投市、基隆市、台中市
---

 (A)3 個 (B)4 個 (C)5 個 (D)6 個

二、進階選擇題：(31~40，每題 4 分，共 40 分)

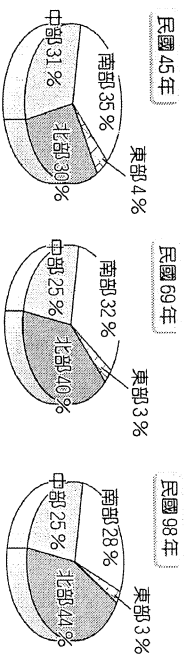
- ( ) 31. 下圖為金門風獅爺分布圖，圓點處為風獅爺所在位置，請根據此圖判斷導致島嶼東北側風獅爺分佈較密集的主要原因為何？



- (A)東北側距離中國較近  
(B)東北側為冬季季風迎風側  
(C)西北側因戰爭而破壞嚴重  
(D)信仰差異導致分佈位置不同

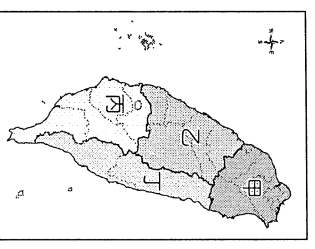
第一天：南竿機場→牛角聚落→民俗文物館→北海坑道→仁愛鐵堡→津沙聚落

- ( ) 32. 下表為跳島旅行社的遊程規劃表，請問此行程屬於臺灣哪座離島？
- (A)馬祖 (B)金門 (C)澎湖 (D)綠島
- ( ) 33. 請問臺灣哪個區域「沒有」北回歸線通過？(A)北部、金馬 (B)北部、中部 (C)中部、金馬(D)東部、南部
- ( ) 34. 臺灣的國土空間發展策略計劃將臺灣分成了「三軸、海環、離島」，請問劃分的依據為下列哪兩項？
- 甲、區域發展現況 乙、地形高低落差 丙、人口分佈多寡 丁、資源條件差異
- (A)甲、乙 (B)甲、丁  
(C)乙、丙 (D)乙、丁
- ( ) 35. 承上題，關於此計劃的內涵下列何者敘述正確？
- (A)海洋環帶目標為探索各種海洋資源，發揮獨特的海島區位優勢  
(B)離島生態觀光區以生態保育與原住民文化維護為主  
(C)東部為創新發展軸，以創意、創新作為城鄉轉型與發展的核心價值  
(D)西部為優質生活產業軸，以樂活、慢活及養生休閒等新生活型態概念融入產業中
- ( ) 36. 對於臺灣區域發展差異的描述，下列何者正確？
- (A)科技產業以北部區域最發達  
(B)人口密度以金馬地區為最低  
(C)平均家庭年所得以中部區域最低  
(D)第三級產業比例以南部區域最高
- ( ) 37. 下列哪項並非臺灣均衡區域發展的對策？(A)制訂『國土空間發展策略計劃』  
(B)積極推展跨行政區界合作  
(C)輔導偏遠地區，加強基礎建設  
(D)分區徵收不同比例的稅額，減少貧富差距
- ( ) 38. 附圖為臺灣不同年代各區域人口比例圖，請問哪項資訊可藉由此圖判讀？

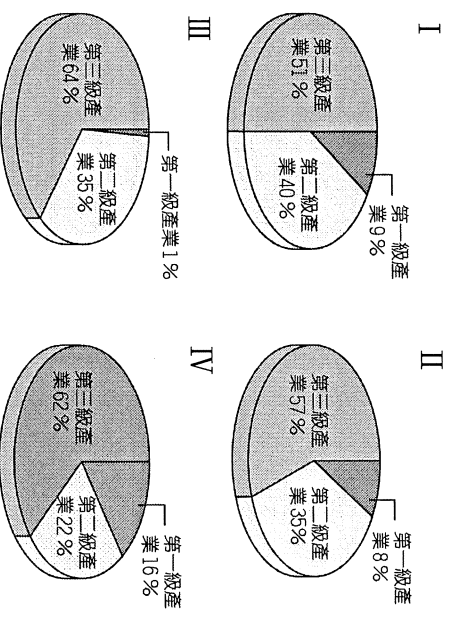


- (A)區域差異日漸擴大  
(B)東部生活環境惡化  
(C)南部都市化程度下滑  
(D)中部人口總數變化差異小

- ( ) 39. 北部區域為臺灣重要的政治、經濟中心，工業產品的進出口、商務人士和旅客往來相當頻繁。請問：該區域各縣市與其對海外重要交通設施的配對何者『錯誤』？(A)新北市：人工港  
(B)桃園市：國際機場  
(C)基隆市：天然良港  
(D)臺北市：人工港與機場



- ( ) 40. 附圖為臺灣區域與各級產業就業人口比例圖。請問兩圖的正確配對為何？



- (A)甲--I，乙--II，丙--III，丁--IV  
(B)甲--III，乙--I，丙--II，丁--IV  
(C)甲--III，乙--I，丙--IV，丁--II  
(D)甲--IV，乙--III，丙--II，丁--I