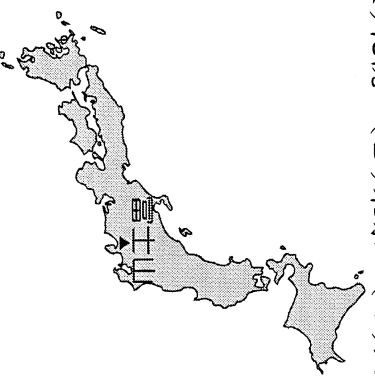


第一大題：單選題，每題 2 分，總分 100 分。
 請用 2B 鉛筆依題號在電腦卡上作答，電腦讀卡時無法判斷身分者，扣總分 10 分。
 範圍：第四冊 L.5~L.6

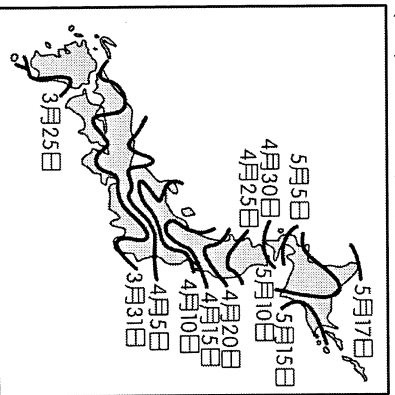
班級：_____ 座號：_____ 姓名：_____

一、單選題 (每題 2 分)

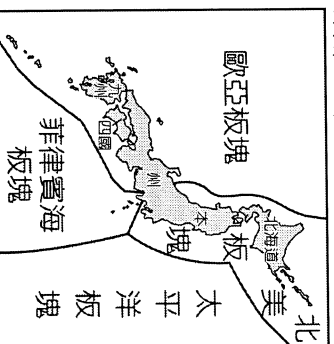
- () 南韓影星全智賢在冬季時到日本宣傳電影，發現日本的冬季氣候較南韓溫暖多雨。請問：這和日本當地的哪一因素相關？ (A) 緯度較高 (B) 面積廣大 (C) 地勢平坦 (D) 四面環海。
- () 日本目前對外輸出的產品以具有高附加價值的產品為主。請問：下列何者占日本的出口額比例最小？ (A) 電子產品 (B) 汽車產品 (C) 紡織產品 (D) 資訊產品。
- () 日本境內的主要工業區多分布於交通便利地區，其中以何種交通方式發達地區為主？ (A) 空運 (B) 陸運 (C) 海運 (D) 河運。
- () 日本東京都會區的地下鐵分布十分密集，興建地鐵最主要的功用為下列何者？ (A) 解決通勤交通 (B) 利於資源開發 (C) 方便運輸貨物 (D) 促進國土開發。
- () 根據日本國土交通省的調查資料顯示，富士山自 1708 年之後就沒有再大規模噴發過，但仍為活火山，理論上有噴發的可能性。附圖為富士山的位置圖，若富士山發生噴發，下列哪一個都市受到的影響最大？ (A) 札幌 (B) 東京 (C) 大阪 (D) 廣島。



- () 日本漁業活動相當發達，漁獲量高居世界第一，其主要的原因與下列何者無關？ (A) 海岸線曲折 (B) 四面環海 (C) 宗教信仰 (D) 寒暖流交會。
- () 春季為日本著名的賞櫻季節，滿開的櫻花花海吸引來自世界各地的觀光客前往，附圖為日本民間機構公布的櫻花開花日期預測。請問：下列哪一個地方的櫻花開花時間會最早？ (A) 北海道 (B) 九州 (C) 四國 (D) 本州。



- () 附圖為日本板塊位置示意圖，請問：這種地理位置對日本所造成的影響不包括下列何者？ (A) 泡湯文化盛行 (B) 山多平原少 (C) 地震活動頻繁 (D) 海岸線狹長。



- () 亞洲的國家中，以日本為主要的經濟大國。請問：其發展的有利因素不包括下列何者？ (A) 交通便利 (B) 技術進步 (C) 原料豐富 (D) 勞工素質。
- () 影響南北韓經濟發展迥異的因素有很多，其中北韓優於南韓的因素是下列何者？ (A) 地形 (B) 雨量 (C) 生長季 (D) 礦產資源。
- () 日本沿海地區有黑潮流經，對當地氣候的影響最主要為下列何者？ (A) 溫暖乾燥 (B) 溫暖溼潤 (C) 寒冷乾燥 (D) 寒冷溼潤。
- () 小王發現日本主要工業區多分布於東側太平洋沿岸地區，這和該國哪一項特色的關係最大？ (A) 出口貿易導向 (B) 東岸港灣曲折 (C) 經濟海域廣大 (D) 工業技術進步。
- () 日本受到季風氣候的影響，在主要的降雨季節中，季風風向為下列何者？ (A) 東北季風 (B) 東南季風 (C) 西北季風 (D) 西南季風。
- () 日本傳統的民間習俗，在每年夏季男孩節時，都會掛上斗大的鯉魚旗。請問：此時鯉魚旗多飄往下列哪一個方向？ (A) 東北方 (B) 東南方 (C) 西北方 (D) 西南方。
- () 南韓位於日本的西方，為亞洲大陸與太平洋的接觸地帶。請問：該地區的氣候類型應該為下列何者？ (A) 熱帶季風氣候 (B) 熱帶雨林氣候 (C) 溫帶草原氣候 (D) 溫帶季風氣候。
- () 亞洲東部諸島國的河流常具有河短流急的現象。下列何者為造成這種現象的主要原因？ (A) 面積狹小，地勢起伏大 (B) 人口稠密，多建水壩蓄水 (C) 位季風氣候區，乾溼季節分明 (D) 引河水灌溉稻田，改變河川流量。
- () 南韓的平均國民所得已超越臺灣，該國政府致力於經濟發展，常採取一些強力的措施。這些措施不包括下列何者？ (A) 扶植大型財團 (B) 家電、遊戲軟體為主的工業產品 (C) 實施共產主義 (D) 贊助電視劇的拍攝帶動觀光業發展。

18. ()平原地形因為地勢平坦利於聚落發展，因此大都市多分布於此。請問：朝鮮半島地區的平原地形主要分布於下列何處？(A)北部中韓國界 (B)西部黃海沿岸 (C)東部日本海(東海)沿岸 (D)半島中央地區。

19. ()小王今年暑假到日本旅遊，參觀著名的Hello Kitty樂園。當飛機降落在成田機場時，導遊介紹這裡原是一片海域，後來才興建而成，可說是滄海變桑田。由上述可知，成田機場形成的原因為何？
(A)填海造陸 (B)河川沖積 (C)火山活動 (D)板塊活動。

20. ()朝鮮半島冬季各地的溫度差距較大，而冬季等溫線的分佈狀況除了緯度外，還受到哪一項因素的影響？(A)地勢高低 (B)太陽輻射 (C)產業活動 (D)植被多寡。

21. ()日本四面環海，多相隔海域和其他國家相鄰。附圖中的對馬海峽為日本和哪一個國家的國界？
(A)中國 (B)北韓 (C)俄羅斯 (D)南韓。



22. ()南韓隊到臺灣來參加國際比賽時，總是會攜帶具有家鄉味的食物，尤其是泡菜更是不可缺少。請問：南韓當地盛行食用該食物的主要原因為何？

- (A)土壤貧瘠 (B)氣候嚴寒 (C)降雨量少 (D)地形崎嶇。

23. ()北韓農作物的生長季較南韓為短，這和當地的哪一項條件關係最大？(A)緯度較高 (B)風力較強 (C)陽光直射 (D)面海背陸。

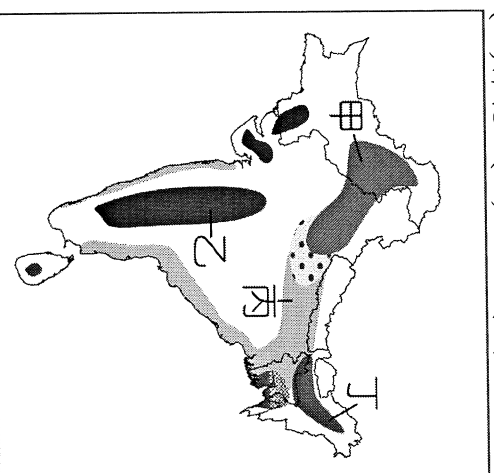
24. ()北韓目前因為下列何種因素的影響，以重工業及軍事工業為發展重點？(A)技術進步 (B)出口貿易 (C)政治制度 (D)勞工眾多。

25. ()來自中國的霧霾微塵顆粒密集，隨著風向漂洋過海來到朝鮮半島，包括南韓最西北的白翎島，以及首爾京畿道地區都被霧霾淹沒。預估這種情況今後會更加頻繁。請問：中國的霧霾是橫渡哪一個海域而到達朝鮮半島？(A)日本海(東海) (B)印度洋 (C)太平洋 (D)黃海。

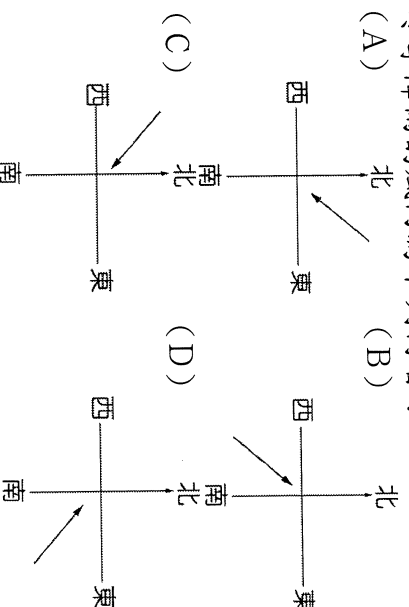
26. ()位於恆河口的孟加拉及其比鄰的印度阿薩姆邦，兩區的降雨量皆相當豐沛，但經濟作物卻不同，孟加拉以黃麻為主，阿薩姆邦則以茶葉為重。造成此二地區作物差異的主因為何？(A)地形 (B)交通 (C)勞工 (D)資金。

27. ()臺灣的飲料公司前往南亞探訪茶莊，了解今年茶葉的品質優劣。請問：他們所前往考察的地區中不包括下列何者？(A)阿薩姆邦 (B)大吉嶺 (C)馬爾地夫 (D)斯里蘭卡。

28. ()印度半島人口眾多，因此農業生產成為當地居民主要的活動，受到自然環境的影響，各地區的農業活動皆不相同。附圖為印度地區的農業活動分佈圖，請根據圖中位置判斷，丙地的作物最可能為下列何者？
(A)棉花 (B)水稻 (C)小麥 (D)玉米。



29. ()「越南位於熱帶季風氣候區，冬季受到季風影響，成為中南半島少數冬季降雨地區。」請問：造成該地區冬季降雨的風向為下列何者？
(A)北 (B)南 (C)西 (D)東



30. ()一個人口相當龐大的國家，因廉價的勞動人口，及優良的高科技人才，加上曾受英國殖民，有良好的語言背景，吸引著歐、美等英語系國家的青睞，使得該國經濟快速進步。請問：這是指下列哪個國家？

- (A)菲律賓 (B)日本 (C)印度 (D)印尼。

31. ()印度和其鄰國巴基斯坦糾紛不斷，其中兩者因為爭奪哪一條河川的水源而發生爭執？(A)恆河 (B)印度河 (C)紅河 (D)湄公河。

32. ()南洋群島多火山及地震活動，這和該地區的哪一項地理條件相關性最高？(A)板塊活動 (B)地處低緯 (C)季風強勁 (D)太陽直射。

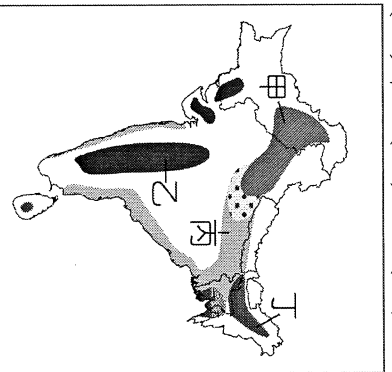
33. ()東南亞受到外來文化的影響極為明顯。請問：目前南洋群島中的國家多以信仰下列何種宗教為主？
(A)伊斯蘭教 (B)道教 (C)天主教 (D)佛教。

34. ()熱帶雨林氣候和熱帶季風氣候最大的差別，下列敘述何者正確？(A)七月均溫高低 (B)年溫差高低 (C)年雨量多寡 (D)雨季的分布。

35. ()中南半島受到外來文化的影響，境內多數國家主要以下列何種宗教信仰為主？(A)伊斯蘭教 (B)基督教 (C)道教 (D)佛教。

36. ()中南半島的乾溼季節明顯，該地區的雨季受到下列哪一個季風風向的影響最大？
(A)東北季風 (B)西北季風 (C)西南季風 (D)東南季風。
(還有試題喔~)

37. ()新加坡位於麻六甲海峽東側出口，控制哪兩大洋之間的交通往來？ (A)大西洋、太平洋 (B)大西洋、印度洋 (C)太平洋、印度洋 (D)印度洋、北極海。
38. ()印度因為北部的山脈阻隔，自成一個地區，於是有人將之稱為「次大陸」。請問：該座山脈受到板塊活動影響而形成，其地形特色中不包括下列何者？ (A)地勢高聳 (B)地形崎嶇 (C)礦產豐富 (D)地震頻繁。
39. ()南亞恆河平原與中國鄔陽盆地的緯度相近，但是一月月均溫，恆河平原卻比鄔陽盆地高10度左右。形成上述差異的原因，主要是因為恆河平原具備下列哪一項特性所致？ (A)境內湖泊眾多 (B)太陽輻射較強 (C)午後多對流雨 (D)北有高山屏障。
40. ()菲律賓群島主要分為南、北兩個島嶼，其中北部因為受到下列哪一個國家的影響，以信仰天主教為主？ (A)葡萄牙 (B)西班牙 (C)法國 (D)英國。
41. ()臺灣的紡織公司要到印度的黃麻工業區購買相關原料，應該到下列哪一個地區最為適合？ (A)孟買 (B)加爾各答 (C)大吉嶺 (D)邦加羅爾。
42. ()印度半島的人口分布，以恆河三角洲最稠密，西北部最稀疏，造成此差異的主要原因為何？ (A)氣溫高低 (B)雨量多寡 (C)地勢起伏 (D)土壤種類。
43. ()「這個組織內的成員國大多擁有豐富的自然資源，所生產的橡膠、錫礦、棕櫚油、椰子等，皆占世界重要地位；有些國家還出產石油、天然氣、寶石等。此外，由於多元的自然文化景觀，每年吸引大量國外觀光客前往旅遊。」上文中所指的組織應是下列何者？ (A)歐洲聯盟 (B)亞太經濟合作會議 (C)石油輸出國家組織 (D)東南亞國協。
44. ()印度的棉花生產量豐富，早期主要銷售至殖民國家英國，作為發展紡織工業的主要原料。請問：印度半島的棉花主要生產區為附圖中何處？ (A)甲 (B)乙 (C)丙 (D)丁。



45. ()印度的邦加羅爾軟體工業相當盛行，成為該國新興的產業活動，有「印度矽谷」之稱，也是許多歐美跨國企業投資的重鎮，請問：下列哪些是印度發展軟體工業及吸引歐美科技企業投資的有利條件？(甲)科技人才及工資低廉 (乙)多以英語為官方語言 (丙)港口眾多，海運便利 (丁)信仰階級分明的宗教。
(A)甲乙 (B)乙丙 (C)甲丙 (D)丙丁。

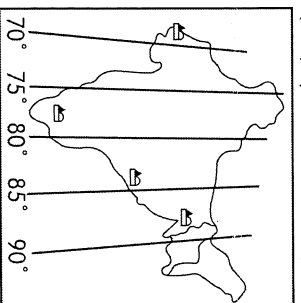
46. ()印度半島的氣候可分為三季，關於這三季的描述何者正確？ (A)涼季(11-2月)，西北季風盛行，但有高山阻擋，所以不冷 (B)熱季(3-5月)，此時處於季風轉換期 (C)雨季(6-10月)，此時東南季風盛行，雨量多 (D)乾季(11-2月)，此時半島上處於無風帶。

47. ()泰姬瑪哈陵為世界七大奇景之一，該國詩人泰戈爾用「臉上永恆的淚珠」來形容永恆的愛情。他說：「沙賈汗，你知道，生命和青春，財富和榮耀，都會隨光陰流逝……，只有這一顆珍珠——泰姬陵，在歲月長河的流淌裡，光彩奪目，永遠，永遠！」請問：泰姬瑪哈陵位於下列哪一個國家？ (A)印度 (B)緬甸 (C)泰國 (D)孟加拉。

48. ()近幾年來，全球暖化的現象加劇使得海平面不斷上升，直接影響到居住在沿海地區的居民。請問：下列哪一個國家的首都較不會受到影響？ (A)孟加拉—達卡 (B)泰國—曼谷 (C)印度—新德里 (D)馬爾地夫—瑪律。

49. ()小名到國外旅遊，回來後送給大家一個當地著名的魚尾獅雕像做為禮物。請問：小民最可能是到下列哪一個國家旅遊？ (A)印尼 (B)菲律賓 (C)馬來西亞 (D)新加坡。

50. ()附圖為印度地區的經線分布圖，請問：其中哪一條經線所經過的地區因為地勢低窪且降雨量多，因此水災頻傳？ (A)東經90度 (B)東經80度 (C)東經75度 (D)東經70度。



(試題結束)