

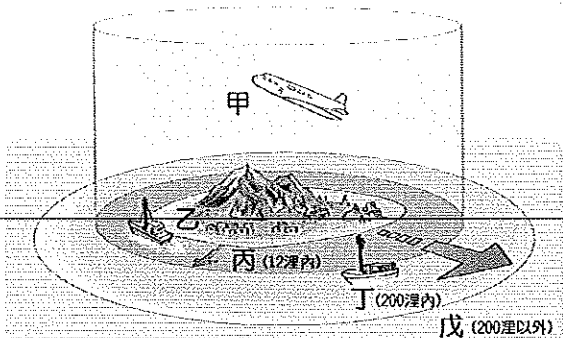
基隆市立武崙國民中學一〇五學年度第一學期第一次段考八年級公民科試題卷

※1-20每題2分；21-40每題3分

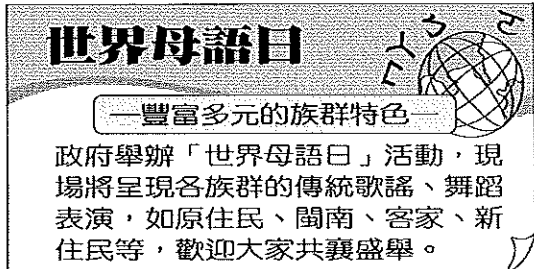
- ( )馬祖海域常常出現中國漁船越界捕魚，而我國海巡署是依據下列哪一項國家的組成要素得以對這些漁船進行查緝取締？(A)人民 (B)主權 (C)政府 (D)領陸。
- ( )剛開學，老師請同學們自我介紹，依照附圖中翔盈的說法，他取得我國國籍的途徑應為下列何者？



- (A)血統規則 (B)出生地規則 (C)收養取得 (D)歸化取得。
- ( )請參考附圖，一個國家擁有軍事管轄權的地理區域包含下列哪些？



- (A)甲乙丙 (B)乙丙丁 (C)甲乙丁 (D)甲丙戊。
- ( )現代國家是為人民而存在，附圖中的宣傳訊息，可說明哪一種國家存在的目的？



- (A)福利 (B)秩序 (C)文化 (D)正義。
- ( )不丹國會議員指控中國侵占該國土地，一名議員說：「中國政府未遵守1998年兩國簽署的協議，在我國境內鋪設好幾條道路……。」由上述可知，中國侵犯了不丹哪些國家的組成

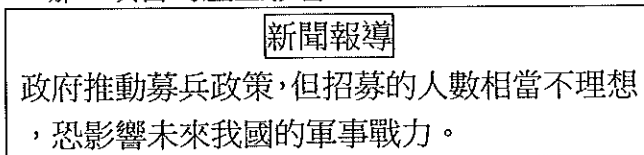
要素？(甲)人民(乙)主權(丙)政府(丁)領土  
(A)丙丁 (B)乙丙 (C)甲丁 (D)乙丁。

- ( )國家是為保衛人民、增進人民福祉而組成的政治團體。根據附圖內容，顯示國家存在的何種目的發揮了效果？



(A)人權 (B)經濟 (C)安全 (D)福利。

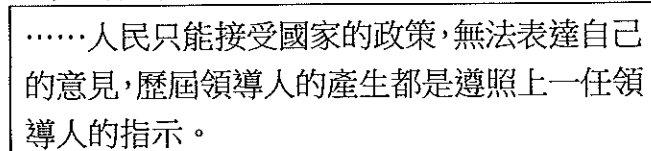
- ( )根據下列報導內容，可知將對國家存在的哪一項目的產生影響？



(A)人權 (B)正義 (C)安全 (D)秩序。

- ( )「一條貫穿東部的蘇花高速公路，因為環保團體認為會破壞東部的好山好水，破壞臺灣的生態景觀，而使工程停擺數年之久，現在可能再度施工，但預算將多花兩百多億。」由上述可知，國家在追求哪一項目的時常會與生態保育議題發生衝突？(A)經濟 (B)文化 (C)福利 (D)秩序。

- ( )依下列內容判斷，這應是指哪一個國家？

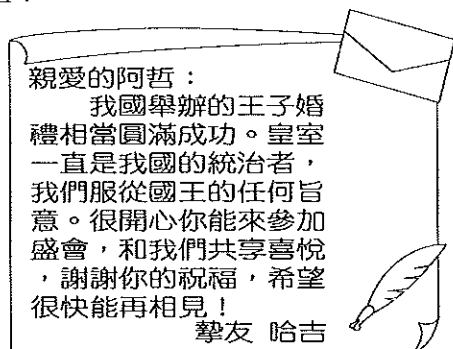


(A)日本 (B)北韓 (C)丹麥 (D)泰國。

- ( )下列有關「國體」與「政體」的敘述，何者正確？(A)我國的國體與政體和日本相類似 (B)國體指的是國家的型態，政體指的是國家統治人民的方式 (C)政體分為君主國與共和國兩類 (D)國體分為獨裁與民主兩類。

- ( )阿哲收到朋友的一封信，內容如附圖。請

問：來信者哈吉所在的國家應屬於哪一種國家類型？



- (A) 君主立憲國 (B) 獨裁共和國 (C) 民主共和國 (D) 君主獨裁國。

12. ( ) 若依照附中甲、乙、丙、丁的順序列舉國家，下列何者正確？

甲	君主立憲國
乙	君主獨裁國
丙	民主共和國
丁	獨裁共和國

- (A) 美國、英國、日本、北韓 (B) 汶萊、英國、美國、中華人民共和國 (C) 日本、汶萊、美國、北韓 (D) 日本、沙烏地阿拉伯、中華民國、南韓。

13. ( ) 下列為幾名網友在網路聊天室裡談論自己的國家。請問：其中哪一位網友的國家屬於民主政體？

聊天室

小丸子：我們的領導人受到人民的崇拜。

花輪：皇室一直是我們國家精神上的象徵。

小玉：我們國家的統治權力來自於人民。

山田：我國總統在位已經 30 幾年了，未來也將持續下去。

- (A) 小丸子 (B) 花輪 (C) 小玉 (D) 山田

14. ( ) 為完成公民報告，組員必須蒐集相關資料，每個組員被分配到部分如下所示。請問：這組所負責的應該是民主政治的哪一項特色？

分配表

大雄：透過定期選舉公平競爭

小叮噹：政權和平轉移

胖虎：制定與執行政策

小夫：監督執政

- (A) 民意政治 (B) 政黨政治 (C) 責任政治 (D) 法治政治。

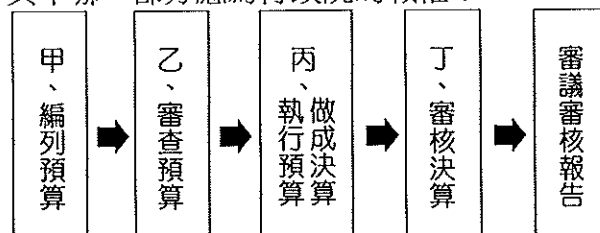
15. ( ) 花媽在鄰里間以熱心社區事務聞名，在多數里民的情義相挺下，參加這次的里長選舉，且順利當選。由上述可知，花媽的當選展現了下列哪一項民主政治的特色？ (A) 法治政治 (B) 民意政治 (C) 責任政治 (D) 政黨政治。

16. ( ) 民主國家必須依法行政，政府如果沒有法律根據，便不能任意增加人民的負擔或是限制人民的基本自由權利，否則人民就可針對該事項尋求法律的救濟。上述內容最能展現民主政治的哪一種特色？ (A) 民意政治 (B) 政黨政治 (C) 責任政治 (D) 法治政治。

17. ( ) 花輪在FB上分析國父的「五權分立」理論，下列敘述何者正確？ (A) 將司法權從監察權獨立出來，可避免政黨衝突 (B) 將考試權從行政權獨立出來，可避免濫用私人 (C) 將立法權從監察權獨立出來，可杜絕議會專制 (D) 西方民主國家多採用此種理論。

18. ( ) 有一句名言說：「權力使人腐化，絕對的權力，帶來絕對的腐化。」下列哪一個敘述符合此名言所代表的精神？ (A) 人民的權力來自於國家，因此應受國家治理 (B) 政治權力必須集中在同一群人手中 (C) 政府在權力之間採取互相合作，以免權力被濫用 (D) 現代國家中央政府體制的設計，大多以權力分立為原則。

19. ( ) 附圖為政府預算及決算經費的流程圖，其中哪一部分應為行政院的職權？







- (A) 甲 (B) 乙 (C) 丙 (D) 丁。

20. ( ) 承上題，哪一部分屬於監察院的職權？ (A) 甲 (B) 乙 (C) 丙 (D) 丁。

21. ( ) 921 大地震發生時，政府曾發布緊急命令來處理救災及災後重建工作。請問：緊急命令是由誰發布？並應提交哪一機關追認？ (A) 行政院院長、立法院 (B) 行政院院長、監察院 (C) 總統、立法院 (D) 總統、行政院。

22. ( )小丸子在學校的公布欄中，看到有獎徵答的題目，只要填好答案就有機會獲得精美獎品。題目是：「如果教育部部長請辭獲准，接任人選將由誰提請總統任命？」請問：其正確答案為何？ (A)行政院院長 (B)立法委員 (C)監察委員 (D)立法院院長。

23. ( )老師請同學繳交以「大法官職權」為主題的期中報告。丁丁去圖書館搜尋政治新聞相關報導做為輔助資料，他最適合將下列何者放進這份報告中？

(A) 	(B) 
(C) 	(D) 

24. ( )「米粉」顧名思義應由米製成，但國內的米粉大多由玉米澱粉製成，而某機關卻長期未積極管理及提出有效解決對策，嚴重影響消費者權益。監察院經過調查後，對該機關提出什麼？ (A)糾舉 (B)彈劾 (C)審理 (D)糾正。

25. ( )公民課堂上，同學們針對中央政府的官員進行角色扮演的活動。請問：下列哪一位同學的臺詞完全正確？ (A)正恩：「我是考試院院長，具有調查、糾正、彈劾、糾舉、審計權。」 (B)小英：「我是監察院院長，依據《憲法》的規定負責辦理國家考試。」 (C)權惠：「我是司法院大法官，負責針對有疑義的法律進行解釋工作。」 (D)安倍：「我是行政院院長，為國家進行預算的審查與把關。」

26. ( )丸尾將監察院的三項職權整理成表格。請問：表中甲、乙、丙依序應填入何項職權？


職權	對象	程序
甲	以「人」為對象	向司法院公務員懲戒委員會提出
乙		向被糾舉人的主管或上級長官提出
丙	以「行政機關」為對象	向不當施政的行政機關提出

(A)糾舉、彈劾、糾正 (B)糾舉、糾正、彈劾  
(C)彈劾、糾舉、糾正 (D)糾正、糾舉、彈劾。

27. ( )根據附圖中兩人的對話，此彈劾案的對象應該為下列何者？

此彈劾案若成立，該交由哪一個單位做出決議？


應該是憲法法庭！



(A)立法委員 (B)監察委員 (C)地方公務人員 (D)正副總統。

28. ( )小王子在研究我國中央政府的分權制衡關係時，看到一則歷史新聞畫面（如附圖），根據圖中內容，發言者應該是擔任何種公職？

對於在野黨對我提出不信任案的理  
由，我必須提出澄清和說明，我們  
施政團隊感謝執政黨立委的全力  
支持，謝謝大家。



(A)行政院院長 (B)立法委員 (C)立法院院長 (D)總統。

29. ( )下列是行政院院長與某部部長的對話。根據對話內容，部長應是提出下列何項建議？

院長：「這次立法院剛通過的甲法案，我們在政策執行上是否有困難？」

部長：「經過內部評估，這個法案實在是窒礙難行，請院長考慮對立法院提出……。」

(A)不信任案 (B)覆議案 (C)施政報告 (D)預算案。

30. ( )我國中央政府的分權制衡關係中，有關總統所扮演的角色，下列敘述何者正確？ (A)向行政院院長提出不信任案 (B)解散行政院，重新任命行政院院長 (C)將議案退回立法院重審 (D)對移請立法院覆議之議案進行核可。

31. ( )現代民主國家為落實權力分立的原則，各有不同的作法。我國將中央政府規畫成五院，其中某院有懲戒違法失職公務人員的職權。由上述內容判斷，下列何者也屬該院的職權？ (A)質詢中央政府官員 (B)掌理公務員退休事宜

(C) 審理政黨違憲解散事項 (D) 對政府行政機關提出糾正。

32. ( ) 實行內閣制度的國家，多由國會最大多數黨組成內閣主導政府施政，其他政黨則負責監督政府。若其表現無法滿足人民的期待，則可能因為下次國會大選失利，而喪失執政機會。上述情形，最能顯示政黨政治的何項特徵？

(A) 責任政治 (B) 虛位元首 (C) 政治平等 (D) 分權制衡。

33. ( ) 政府在研擬某項政策之前多會舉辦公聽會，廣納各方的意見；政策草案完成後，尚須經議會決議通過才能公布施行。請問：上述做法可以表現出民主政治中的哪些內涵？ (A) 民意政治、法治政治 (B) 法治政治、責任政治 (C) 責任政治、政黨政治 (D) 政黨政治、民意政治。

※中央政府間，各機關存在著相互制衡或合作的關係。下列為五院間的互動情形，請選出正確的選項。

34. ( ) 立法委員可以對哪些總統提名的司法院重要官員行使同意權？(甲) 大法官(乙) 法官(丙) 司法院正、副院長(丁) 法務部部長 (A) 甲乙丙丁 (B) 甲乙丙 (C) 甲丙丁 (D) 甲丙

35. ( ) 當立法院制定的法律有違憲之虞時，由下列何者加以解釋、釐清？ (A) 司法院大法官 (B) 最高法院 (C) 監察院 (D) 考試院。

36. ( ) 依據我國憲法，若要彈劾總統，必須先由立法院提案通過後，再經何種程序才能完成？(A) 大法官審理 (B) 監察院表決 (C) 公民投票複決 (D) 最高法院判決。

※關於我國總統及五院的職權，你了解多少？請試著填入正確的選項代號。

(A) 提名監察院院長  
(B) 超出黨派之外，依法獨立審判  
(C) 向立法院提出施政方針與報告  
(D) 糾正行政機關不當施政  
(E) 提出不信任案  
(F) 主掌公務員之撫卹、退休等事項  
(G) 負責彈劾、糾舉違法或失職的公務員  
(H) 主掌醫生、律師等專門職業及技術人員考試  
(I) 發布緊急命令  
(J) 下轄普通法院及行政法院  
(K) 得經總統核可提出覆議案  
(L) 制定法律  
(M) 接受立法委員的質詢  
(N) 審查中央政府總預算

37. ( ) 立法院：(A) AEJ (B) ELN (C) IKE (D) ALN。

38. ( ) 監察院：(A) DGN (B) BDG (C) AB (D) DG。

39. ( ) 司法院：(A) BJ (B) DG (C) LN (D) JL。

40. ( ) 考試院：(A) BH (B) FH (C) EFM (D) FHM。