

基隆市立武崙國民中學105學年度第一學期八年級地理科第一次段考試題卷

《本試題卷共45題，合計4頁》

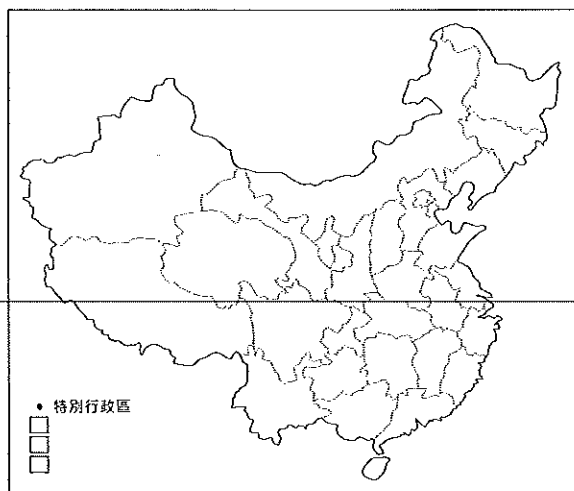
班級：\_\_\_\_\_ 姓名：\_\_\_\_\_ 座號：\_\_\_\_\_

\*住在臺灣的阿宏計劃前往中國自助旅行，他規劃由桃園直飛中國首都，展開為期一個月的深度探訪，他的行程如下表並附上空白行政區圖及地形圖，請回答第1~35題，每題2分，共70分：

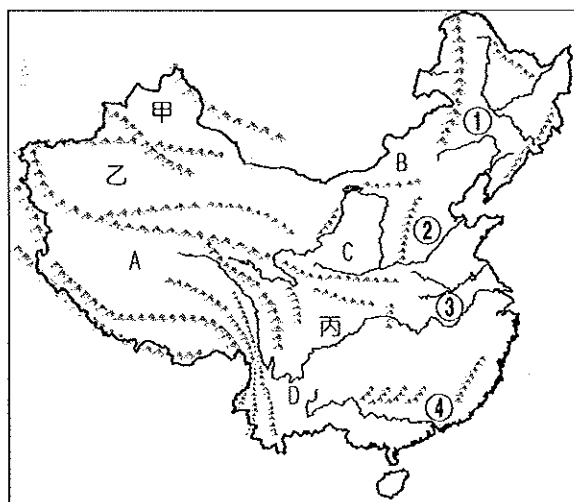
【行程規劃表】

|         |     |         |    |
|---------|-----|---------|----|
| 第1~3天   | 首都  | 第24~25天 | 重慶 |
| 第3~5天   | 山西  | 第25~26天 | 遊輪 |
| 第5~8天   | 內蒙古 | 第26~28天 | 上海 |
| 第8~10天  | 甘肅  | 第28~31天 | 福建 |
| 第10~15天 | 新疆  | 第31~34天 | 香港 |
| 第15~20天 | 西藏  | 第34~37天 | 廣西 |
| 第20~22天 | 雲南  | 第37~39天 | 海南 |
| 第22~24天 | 四川  | 第40天    | 返家 |

【中國行政區圖】

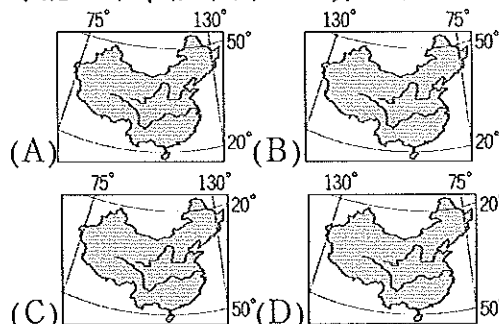


【中國地形圖】



〔為避免試卷一再翻閱，第四頁也有附表及圖〕

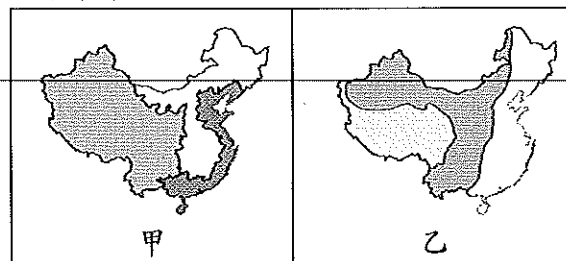
- ( ) 1. 阿宏在出發前應該參考下列哪張地圖才能正確掌握中國地理資訊？



- ( ) 2. 阿宏觀察【中國行政區圖】發現中國位於東部的行政區面積普遍較西部地區小，請問主要影響的因素為何？

- (A) 東部雨量較豐沛  
(B) 西部少數民族多  
(C) 東部人口密度較高  
(D) 西部距首都遙遠高


- ( ) 3. 阿宏在收集資料時，發現下列兩張空白地圖，請問這兩張圖的區域劃分依據分別為何？



- (A) 甲：氣候分類，乙：地勢高低  
(B) 甲：經濟發展，乙：地勢高低  
(C) 甲：地勢高低，乙：人口密度  
(D) 甲：地勢高低，乙：氣候分類。
- ( ) 4. 觀察阿宏的【行程規劃表】，請問屬於直轄市層級的有幾個？  
(A) 1個 (B) 2個 (C) 3個 (D) 4個。
- ( ) 5. 下列哪一個阿宏前往的行政區層級和其他三者不同？  
(A) 新疆 (B) 西藏  
(C) 廣西 (D) 山西。
- ( ) 6. 中國傳統六大地區裡有哪一個區域為阿宏完全沒有規劃前往的？  
(A) 東北 (B) 塞北  
(C) 華中 (D) 華南。

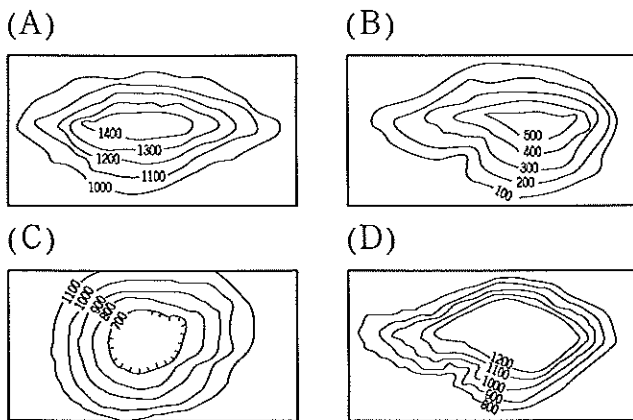
- ( ) 7. 阿宏的旅行有許多要特別注意的事項，請問下列哪一項行前準備是多餘的？  
 (A)準備預防高山症藥物  
 (B)購買隨經度校正時間的手錶  
 (C)攜帶保暖、抗寒、好穿脫的衣物  
 (D)避免皮膚乾裂攜帶乳液、護唇膏。
- ( ) 8. 阿宏在收集旅行資料時發現：冬季時中國南北服飾差異很大，從北方的防寒大衣到南方的背心短褲均有，請問造成此差異的因素為？  
 (A)緯度差異大 (B)經度差異大  
 (C)地勢落差大 (D)鄰國數量多
- ( ) 9. 阿宏從【中國地形圖】發現東部和西部山脈走向呈現明顯的差異，請問和下列何者關係最密切？  
 (A)火山作用 (B)板塊運動  
 (C)距海遠近 (D)河川流向。
- ( ) 10. 呈上題，請問中國東部山脈主要的走向為何？(A)震旦方向 (B)東西走向  
 (C)南北縱走 (D)東夷走向。
- ( ) 11. 阿宏花了40天還無法完全遊歷中國，主要是因為中國的疆域遼闊，請問中國的疆域面積在世界上僅次於哪些國家？  
 ①澳大利亞、②加拿大、③哈薩克、  
 ④俄羅斯、⑤印度、⑥巴西、⑦德國、  
 ⑧美國(A) ①、②、④ (B) ②、③、⑤  
 (C) ②、④、⑧ (D) ④、⑥、⑧。
- ( ) 12. 阿宏此趟的旅程發現中國地形主要以哪兩類為主？  
 (A)高原、山地 (B)高原、盆地  
 (C)山地、盆地 (D)盆地、平原。
- ( ) 13. 請問阿宏的此趟行程有哪兩個行政區完全位於北回歸線以南？  
 (A)雲南、廣西 (B)福建、海南  
 (C)海南、香港 (D)香港、雲南。
- ( ) 14. 第2天的行程阿宏參觀了京杭大運河的一小段，請問中國歷朝歷代積極興建運河的最主要原因為下列何者？  
 (A)東西向河道淤淺  
 (B)南北向水運不足  
 (C)河川含沙量過多  
 (D)降水季節分布不均。
- ( ) 15. 在第21天阿宏嘗試了一項特殊的交通工具『溜索』，請問他是到了哪個地形區？(A)橫斷山脈 (B)四川盆地  
 (C)浙閩丘陵 (D)黃土高原。

- ( ) 16. 阿宏在廣西的桂林看到右圖的地景，請問形成此地表景觀的主要作用力為何？



- (A)冰蝕作用 (B)風蝕作用  
 (C)溶蝕作用 (D)凍融作用。
- ( ) 17. 呈上題，阿宏在當地導遊的介紹下得知石灰岩地形在哪種環境裡作用力的速度會較快？  
 (A)高溫多雨 (B)寒冷潮濕  
 (C)風速強勁 (D)溫差巨大。
- ( ) 18. 阿宏在某地的光觀看版上看到：『此地地形封閉，內部河川眾多，霧氣重，然而因物產豐饒而贏得天府之國的美名』，請問阿宏此時在哪個地形區？  
 (A)黃土高原 (B)內蒙古高原  
 (C)四川盆地 (D)準噶爾盆地。
- ( ) 19. 阿宏在山西省東側太行山旅遊時，得知此山是中國東部一座十分重要的地理分界線，請問這座山的東、西兩側分別為哪兩個地形區？  
 (A)華北平原、黃土高原  
 (B)東北平原、華北平原  
 (C)黃土高原、內蒙古高原  
 (D)內蒙古高原、準噶爾盆地。
- ( ) 20. 阿宏在行程的第25~26天搭乘遊輪來到中國沿海都市上海，請問他之所以能順河而下和下列哪項因素關係最密切？  
 (A)地勢西高東低 (B)氣候溫和濕潤  
 (C)疆域面海背陸 (D)交通建設先進。
- ( ) 21. 阿宏在上海旅遊時，看到當地介紹中國海岸的文宣，由於海岸類型的差異會影響沿岸居民的經濟生活，請問中國沙岸和岩岸大致以哪裡為界？  
 (A)渤海灣 (B)廈門灣  
 (C)杭州灣 (D)北部灣。
- ( ) 22. 阿宏對上海的了解下列哪一項是錯誤的？(A)東側面臨黃海  
 (B)位於長江出海口  
 (C)行政層級為直轄市  
 (D)為中國最大的都市。

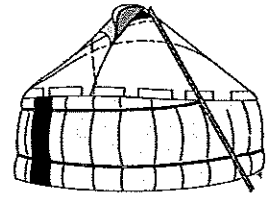
- ( )23. 阿宏在西藏的旅程中，除了看到壯闊的高山、荒蕪的大地，請問他還可能看到下列些景觀？  
 (A)廣闊平坦的草原與成群的牛羊  
 (B)溝谷遍佈的黃土與黃澄色河川  
 (C)小橋流水的農村與翠綠的農莊  
 (D)壯麗冰河與眾多幽靜的高山湖泊。
- ( )24. 中國鄰國眾多，邊境異國色彩濃厚，然而阿宏在西藏卻發現此區因為哪個天然疆界導致和鄰國印度文化差異大？  
 (A)橫斷山脈 (B)雅魯藏布江  
 (C)帕米爾高原 (D)喜馬拉雅山。
- ( )25. 哪一句諺語最適合形容阿宏在雲貴高原欣賞到的特殊地表景觀？  
 (A)八山一水一分田  
 (B)上有天堂，下有蘇杭  
 (C)蜀道難，難於上青天  
 (D)地無三里平，天無三日晴。
- ( )26. 呈上題，請問雲貴高原在【中國地形圖】的哪個位置？  
 (A)A (B)B (C)C (D)D。
- ( )27. 阿宏在新疆旅行時，發現【中國地形圖】中甲、乙兩區中間的界山，把新疆分隔成了北疆和南疆，請問此界山的名稱為何？(A)秦嶺 (B)南嶺  
 (C)天山 (D)崑崙山。
- ( )28. 阿宏在旅程的第14天前往中國最大的沙漠-塔克拉瑪干沙漠，請問此沙漠位於【中國地形圖】中的哪個位置？  
 (A)甲 (B)乙 (C)B (D)C。
- ( )29. 呈上題，若將此地繪製成等高線地形圖最可能呈現出下列哪一種地形型態？



- ( )30. 在第4天的旅程絕大多數看到的地景都是黃土遍佈，請問關於阿宏此時所在地區的敘述哪項是錯誤的？  
 (A)此地位於【中國地形圖】的C區

- (B)黃土高原主要由風力侵蝕而形成  
 (C)黃土易受流水侵蝕，當地溝谷遍佈  
 (D)黃河因流經黃土高原才導致河川含沙量大增。

- ( )31. 此地有風吹草低見牛羊的畜牧景觀，在廣大草原上有如右側的民居，請問此時的阿宏在【中國地形圖】中何處？

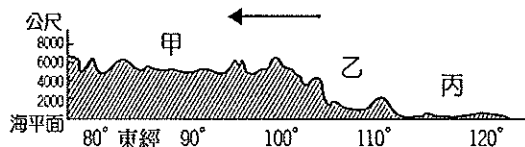


- (A) A：青藏高原  
 (B) B：內蒙古高原  
 (C) 乙：柴達木盆地  
 (D) ①：內蒙古高原
- ( )32. 阿哲在福建旅遊時，聽到了與臺灣相似的方言，他知道當地過去有許多人為了討生活冒險渡過黑水溝移民來臺灣，請問當地屬於哪個地形區？  
 (A)江南丘陵 (B)兩廣丘陵  
 (C)山東丘陵 (D)浙閩丘陵。
- ( )33. 在香港遊玩的幾天裡，阿宏發現此地的風土民情和人民的價值觀明顯與中國其他城市不同，請問香港曾經被哪個國家殖民？(A)法國 (B)英國  
 (C)西班牙 (D)葡萄牙。
- ( )34. 請問阿宏規劃前往哪些少數民族自治區？甲：蒙古族、乙：藏族、丙：回族、丁：維吾爾族、戊：壯族  
 (A)甲乙丙丁 (B)甲乙丙戊  
 (C)甲乙丁戊 (D)乙丙丁戊。
- ( )35. 阿宏在海南島旅行時，聽聞中國在南海一帶與其鄰國紛爭不斷，請問南海爭議主要和下列何者有關？  
 (A)海洋污染責任咎責  
 (B)航道與通行權歸屬  
 (C)軍事演習越界衝突  
 (D)島嶼與經濟海域歸屬。

\*請回答36~45題，每題3分，共30分：

- ( )36. 中國三大區域中，北部和南部的分界線為下列哪一組？甲：秦嶺、乙：長城、丙：淮河、丁：海河、戊：大興安嶺、己：青藏高原東緣  
 (A)甲、丙 (B)甲、丁  
 (C)乙、戊、己 (D)丙、戊、己。

- ( ) 37. 下方為中國地勢剖面圖，請問箭頭所指的方向為何？



- (A) 北方 (B) 南方 (C) 東方 (D) 西方  
( ) 38. 呈上題，關於中國地勢剖面圖的敘述下列何者「錯誤」？

- (A) 甲為青藏高原  
(B) 乙為黃土高原  
(C) 丙區外的海域為黃海  
(D) 丙位在地勢第一級階梯。

- ( ) 39. 請問下列哪一個地理區並非位於中國地勢第二級階梯？

- (A) 黃土高原 (B) 塔里木盆地  
(C) 雲貴高原 (D) 柴達木盆地。

- ( ) 40. 請問中國哪一個平原具有下列特色：

1. 面積最為廣大
  2. 土壤肥沃，但生產季最短
  3. 人口相對較少，機械化生產程度最高
- (A) 華北平原 (B) 東北平原  
(C) 長江中下游平原 (D) 珠江三角洲。

- ( ) 41. 若乘船由南向北遊歷京杭大運河，請問依序會經過哪些河川？

- (A) 海河→黃河→長江→珠江→怒江  
(B) 錢塘江→長江→淮河→黃河→海河  
(C) 錢塘江→長江→黃河→海河→淮河  
(D) 珠江→錢塘江→黃河→淮河→海河。

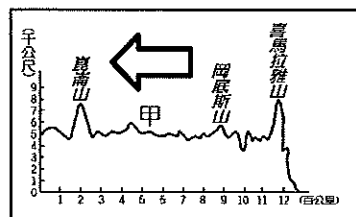
- ( ) 42. 中國河川上游蘊藏豐沛水力，有利於水力發電的主要原因為何？

- (A) 降雨量豐沛 (B) 河川向東流  
(C) 泥沙含量少 (D) 地勢落差大。

- ( ) 43. 中國哪一個少數民族因自治區內丘陵廣布而多善於開闢梯田務農，成為當地一大觀光特色？

- (A) 藏族 (B) 回族  
(C) 壯族 (D) 蒙古族。

- ( ) 44. 請問附圖箭頭所指方向為何？



- (A) 南方  
(B) 北方  
(C) 東方  
(D) 西方。

- ( ) 45. 人口分布深受氣候影響，濕潤氣候區的人口密度會明顯高於乾燥地區。請問中國因受何種條件的影響，有利於海洋暖溼氣流深入內陸？(A) 地勢西高東低 (B) 疆域面積廣大 (C) 國土形狀完整 (D) 領土多位於溫帶。

下表及圖為配合試題第1~35題：

【行程規劃表】

|         |     |         |    |
|---------|-----|---------|----|
| 第1~3天   | 首都  | 第24~25天 | 重慶 |
| 第3~5天   | 山西  | 第25~26天 | 遊輪 |
| 第5~8天   | 內蒙古 | 第26~28天 | 上海 |
| 第8~10天  | 甘肅  | 第28~31天 | 福建 |
| 第10~15天 | 新疆  | 第31~34天 | 香港 |
| 第15~20天 | 西藏  | 第34~37天 | 廣西 |
| 第20~22天 | 雲南  | 第37~39天 | 海南 |
| 第22~24天 | 四川  | 第40天    | 返家 |

【中國行政區圖】



【中國地形圖】

