

基隆市武崙國中 105 學年度第一學期九年級公民科第一次段考試卷

一、選擇題：共 40 題，每題 2.5 分 (共 100 分)


班級： 座號： 姓名：

- 請選出下列何者為消費行為？(甲)阿鴻租了一個月要價 7000 元的房子(乙)小康種的水果賣不出去乾脆自己吃掉(丙)阿維把自家母雞生的蛋送給隔壁鄰居(丁)小韋拿中發票的 500 元去超市買零食(A)甲乙 (B)甲丙 (C)乙丁 (D)甲丁
- 經濟的課題是每個人都會遇到的課題，人們甚至會用經濟的好壞來衡量政府施政的良莠，事實上，經濟的核心課題就是什麼問題？(A)選擇 (B)消費 (C)投資 (D)生產
- 小隴上班的公司為了節省(甲)利潤而將他資遣，小隴決定開計程車維生。因為計程車是他生財的重要(乙)資本，所以他都自己保養車輛，(丙)不須支付保養成本。從客人手上收到的車資，是他每天努力工作的(丁)銷貨收入。請問：上列敘述何者正確？(A)甲乙 (B)乙丁 (C)丙丁 (D)甲丙
- 小佳打算創業賣服飾，為了降低成本，她決定放棄實體店面，以網路拍賣的形式開業。請問：小佳做的選擇是生產的何項課題？(A)為誰生產 (B)生產什麼 (C)如何生產 (D)何地生產
- 看到小燕老師在講台上口沫橫飛的講授「羅馬帝國興衰歷史」，深深吸引台下學生個個神情專注。請問小燕所製造出來的產品形式與下列何者不同？(A)律師 (B)麵包師傅 (C)保險業務員 (D)房屋仲介。
- 蘋果 iPhone 6 手機價格不便宜，但還是吸引各國的消費者漏夜排隊購買。由此可知，消費者在選購此款手機時，主要是受到下列哪項因素的影響？(A)商品價格 (B)所得高低 (C)個人偏好 (D)預期心理
- 小惠打算在格子趣店租個格子，賣自己手工編織的娃娃。依據下表，如果小惠本來的工作月薪 30,000 元，他辭掉工作，專職賣娃娃划算嗎？

生產成本		銷貨收入	
格子租金	3000 元/月	產品售價	1500 元/個
編織材料	300 元/個	銷售量	30 個/月

(A)划算，多賺 3000 元(B)划算，多賺 33,000 元(C)不划算，少賺 3000 元(D)不划算，少賺 33,000 元

- 由於物價上漲、經濟不景氣，近來外食人口明顯減少，為了吸引更多的消費者，林間小火鍋店舉辦了「三人同行，一人免費」的促銷活動。林間小火鍋店的作法與經濟學中的何項概念相符？(A)資源稀少 (B)需求法則 (C)供給法則 (D)機會成本。
- 國內黑心商品層出不窮，讓人民對於市售商品失去信心，而下架或召回商品的告示資訊又分屬不同機關處理，因此民眾對於相關資訊的取得有相當難度。行政院_____ 5 月 8 日宣布，在官方網站的消費資訊欄位，新增了「不安全產品資訊」專區平台，匯集了各單位的資訊，讓民眾可以一次飽覽所有的商品警訊，購物時有參考依據。請問：上述空白處應該是下列何者？(A)公平交易委員會 (B)消費者權益促進會 (C)消費者保護委員會 (D)消費者文教基金會。
- 以下是莊同學的機會成本筆記，但是他不慎將筆記弄髒，請你幫他填上汙損中機會成本的數字為何？

	價格	機會成本
Z7 手機	19,000	22,000
HCT 手機	20,000	
PPHONE 手機	22,000	20,000

(A)22000 (B)21000 (C)20000 (D)19000

11. 「企業外包案」的比率逐年增加。人力派遣業的資料顯示，企業委外和人力派遣的業務比起去年同期成長兩成以上，包括許多公司的文字編輯、美術設計、多媒體設計，都已經改為外包。部分企業如此作法，主要是基於下列何種考量？ (A)創造就業機會 (B)提高銷貨收入 (C)增進生活福祉 (D)節省生產成本。

12. 柯董在連續假日時逛廟口夜市，為完成下表的學習單，特別詢問四個攤位老闆營業的情形。在不考慮其他條件的情形下，哪一個攤位的平均單日營業利潤最高？

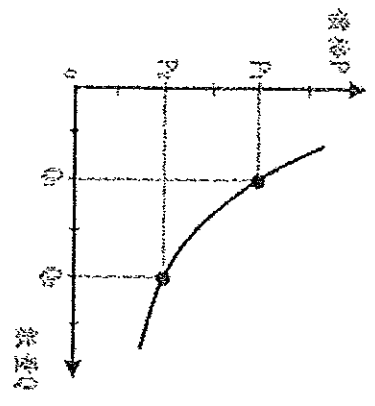
項目	(A)營養三明治	(B)阿美泡泡冰	(C)一口吃香腸	(D)碳烤雞腿排
生產總成本 (萬)	8	12	11	14
營業總收入 (萬)	24	30	20	26
營業總天數 (日)	4	5	3	4

13. 近日日圓匯價不斷往下探，日本也從 2014 年 10 月 1 日起實施新的免稅制度以吸引外國遊客。由上述內容可判斷，未來赴日旅遊的需求量將會產生何種變化？ (A)增加 (B)減少 (C)維持不變 (D)延緩購買欲望

14. 老王的冰店已經開業 20 年，然而在各式芒果冰品不斷推陳出新之下，營業狀況已經不復從前，若老王想要提高銷貨收入，他可以運用哪種方法較為適合？ (A)大幅降低售價 (B)辦理促銷來吸引消費者 (C)提高 5 倍商品價格 (D)進口新鮮水果創造新品

15. 阿慧從小就想要在故鄉宜蘭開一間民宿，而她現在也有份在會計師事務所的正職工作。若她真的要離職去實現夢想，請問在計算經營成本時，阿慧的考量何者是正確的？ (A)此選擇隱含了「需求法則」的概念 (B)阿慧本身是老板，利潤即是其薪資 (C)阿慧須將自己的薪水也納入生產成本的計算 (D)做此投資符合機會成本最低，不會有風險問題。

16. 「受到東北季風及美姬颱風外圍環流『共伴效應』影響，在花蓮已經出現超大豪雨的情況，至於東北部，也有大雨或是豪雨的機率。」根據上述媒體報導，在其他條件不變的情況下，此時台灣的葉菜類價格將會出現何種變動情形？ (A) $P_1 \rightarrow P_2$ (B) $P_2 \rightarrow P_1$ (C) $Q_1 \rightarrow Q_2$ (D) $Q_2 \rightarrow Q_1$ 。



17. 每年 10 月百貨公司都會舉辦週年慶，各大百貨公司無不使出各種促銷折扣，藉此提升營業額，的確也吸引了許多消費者潮，這是供需法則中的哪個現象？ (A)價格升高，生產減少 (B)價格降低，生產增加 (C)價格升高，需求減少 (D)價格降低，需求增加。

18. 某電信業者在電視廣告中宣稱：「台灣手機通話每分鐘高於五塊錢，也就是高資費天天在浪費」，整體廣告給人印象是國內其他電信業者收費過高。此家電信業者透過電視廣告上，以錯誤方式以及以偏概全的優惠資訊計算，誤導消費者，以為使用該家電信通話費可以比其他電信話費便宜一半，這種行銷行為已經違反了下列哪一項法律的規定？ (A)商品標示法 (B)公平交易法 (C)消費者保護法 (D)社會秩序維護法。

19. 李強對中了 9-10 月份 200 元的中獎發票，原本打算到郵局兌領現金，在經過你家便利商店時，看到門口貼著「200 元中獎發票兌換 220 元商品」的優惠活動，於是決定直接進去便利商店兌換 220 元等值商品。從上述李強的行為可以看出符合哪一種經濟學理念？ (A)增加消費，可以刺激生產 (B)克制欲望，可以降低消費 (C)資源有限，做最有效的使用 (D)降低成本，以避免資源匱乏。

20. 隨著年齡的增長，阿彬決定應該為自己的生涯規劃重新審慎評估。根據下表四個工作的年薪條件，若不考慮其他條件的情形，僅單純就年薪來分析其機會成本，下列敘述何者正確？

工作	電腦工程師	飯店行政主廚	夜市擺攤	街頭藝人
年資(元)	150 萬	180 萬	90 萬	75 萬

- (A)選擇當電腦工程師的機會成本是 345 萬 (B)選擇當飯店行政主廚的機會成本最低 (C)選擇當夜市擺攤是最佳選擇 (D)選擇當電腦工程師、飯店行政主廚、街頭藝人的機會成本都一樣。

21. 國三的阿萱打算利用明年會考完後的空檔時間，以 800 元買手工餅乾的原料，預計可製作 40 包，每包餅乾的成品準備以 50 元來販賣，這樣就可以或多或少為家裡貼補明年升高中的學費負擔。由此看來，阿萱頗有下列哪一項的經濟學概念？ (A)機會成本 (B)供給法則 (C)需求法則 (D)商品利潤。

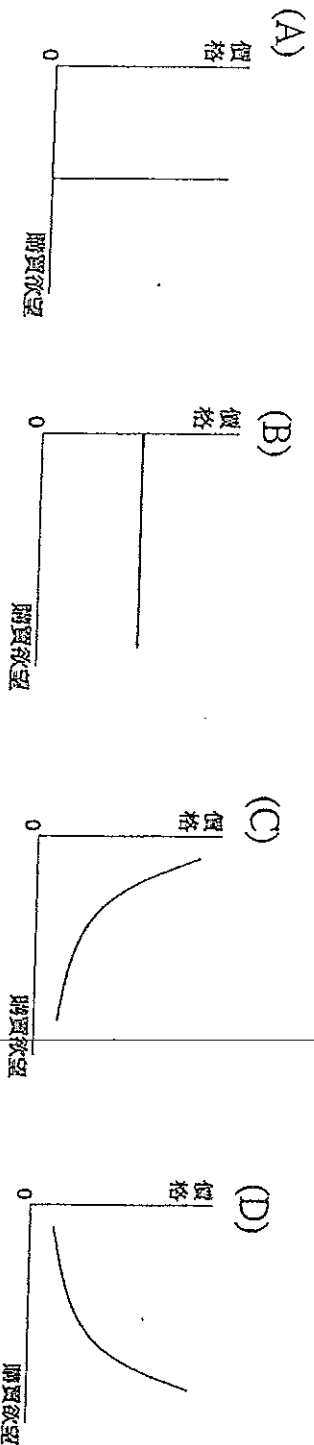
22. 現在有許多航空公司推出早鳥優惠，鼓勵民眾提早訂票，14 天前訂票即享有七折的優惠。請問：早鳥優惠是航空公司藉由何種方式提高利潤？ (A)降低生產成本 (B)降低營業風險 (C)提高銷貨收入 (D)提升產品品質

23. 九把刀的(甲)電影《等一個人咖啡》，在(乙)導演九把刀本人的用心執導，以及在電影當中許多表現讓人驚艷的(丙)素人演員，如：男主角布魯斯，再加上(丁)邀請藍心湄與李羅大牌明星客串，每一幕精彩的畫面，都讓人讚不絕口。根據上文內容判斷，哪一項不屬於生產者的「生產要素」？ (A)甲 (B)乙 (C)丙 (D)丁。

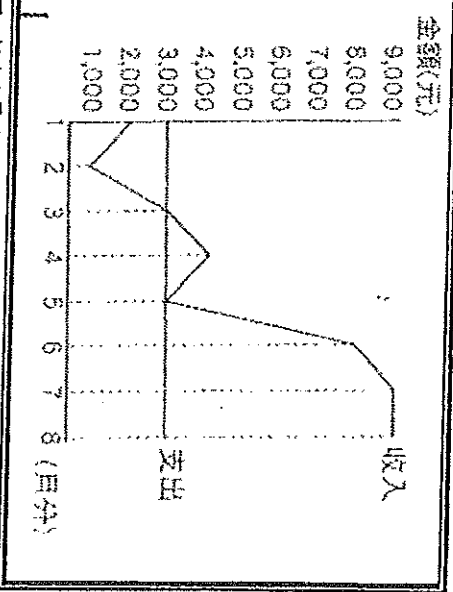
24. 計畫明年將退休的老陳，希望能在退休後再尋找事業的第二春，若想自行創業，老陳須將個人的退休金全部由銀行中提領出來。有關此事下列敘述何者正確？ (A)使用的是自己的退休金，所以沒有任何損失 (B)其退休金若存放在銀行得到的利息，即為「資本」 (C)終其一生的退休金，可成為老陳未來投資的基礎 (D)存放在銀行的退休金產生的利息，不須計入生產成本之中。

25. 小君閱讀報上社會版內容時，對這位企業董事長的消費能力大為震驚。根據右列內容判斷，我們可以用下列哪一個圖形來說明此類型商品的消費行為？

一身貴氣！某企業董事長著名牌亮相……身上 LV 西裝外套就要價 40 萬 7500 元，手提 50 萬多塊的 PRADA 包包，手戴 158 萬的 Cartier 鑽錶，保守估計全身行頭，就超過 250 萬。



(一) 小恬大學畢業後打算在國中母校對面開一家「正妹飲料店」，開店前她先拿出 1 萬元購買設備。右圖是她營業八個月來的收支情形，請回答下列問題：



26. 若暫不考慮購買機器等相關設備的成本，小恬有幾個月的營業額是處於「虧損」的狀態？ (A)二 (B)三 (C)四 (D)五。

27. 若不考慮其他因素，小恬回收當初購買設備的成本，並開始產生盈餘，應該是從幾月份開始的？ (A)6 月 (B)7 月 (C)8 月 (D)9 月。

28. 在開幕初期，小恬推出買 150 元飲料送小慧雞排的活動，希望能刺激買氣。這樣的促銷方式，是為了達成下列何種目的？ (A)提升消費意願 (B)提高商品價格 (C)降低生產成本 (D)增加商店知名度。

(二) 新聞報導：「經濟不景氣影響到消費行為，西野購物中心卻在這一波景氣低迷中翻新整修店面，並花費大筆經費完成擴建。業者將這項行動視為對未來的投資，以刺激經濟和消費。此外，西野購物中心每天減少 1 個小時的營業時間。」請回答下列問題：

29. 西野購物中心花費大筆經費完成擴建店面。上述店面屬於何種生產要素？ (A) 自然資源 (B) 人力資源 (C) 資本 (D) 企業才能。

30. 西野購物中心減少每日的營業時間，最主要的目的應為下列何者？ (A) 降低生產成本 (B) 增加銷貨收入 (C) 提高商品價格 (D) 減少銷貨數量。

31. 西野購物中心進行擴建所投入的大筆資金，其來源最有可能為下列何者？(甲)撥出部分利潤 (乙)向銀行借貸 (丙)社會捐款 (A)甲乙 (B)甲丙 (C)乙丙 (D)甲乙丙。

(三) 畜牧大國紐西蘭於 2004 年起，向農民徵收牛、羊、鹿的「放屁稅」，希望能藉此處理溫室氣體排放的問題。我國為降低二氧化碳的排放量，也思考過是否制定相關稅法來課徵綠色稅，但許多業者擔心競爭力會因此下降，引發反彈聲浪。業者的擔心雖不無道理，但政府仍應思考課徵綠色稅的可行性，讓使用者反省能源的使用方式，提高能源的使用效率，進而達成節能減碳的目的。綠色稅是否課徵，各有其利弊得失，如何選出最佳方案，考驗著執政當局的智慧。

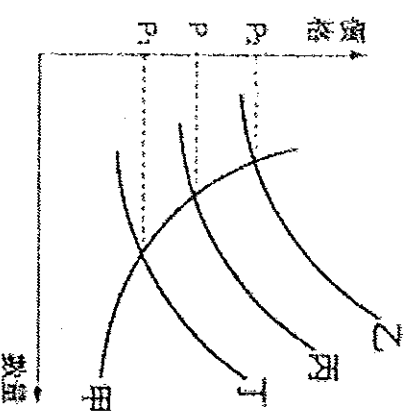
32. 我國若要採行上述方式來降低二氧化碳排放量，須經中央政府某院同意後方可執行。下列何者也是該院的職權？ (A) 掌理公務人員退休事宜 (B) 彈劾違法失職政府官員 (C) 提出總統、副總統罷免案 (D) 審理政黨違憲之解散事項。

33. 下列何者對生產者所造成的影響，與文中導致業者競爭力下降的因素相同？ (A) 員工紛紛離職 (B) 部分原料漲價 (C) 廠房租金降低 (D) 全球化生產分工。

34. 文末畫上雙底線處的論點，最適合用下列何項經濟學概念來說明？ (A) 比較利益 (B) 機會成本 (C) 外部效果 (D) 受益原則。

(四) 右圖是美濃鎮的紙傘價格與數量關係的供給曲線與需求曲線——請根據資料，回答下列問題：

35. 由圖形判斷，有幾條紙傘的供給曲線？ (A) 1 條 (B) 2 條 (C) 3 條 (D) 4 條。



36. 若生產者將紙傘價格由 P 調整至 P2，則消費者的需求數量會產生下列何種變化？ (A) 減少 (B) 增加 (C) 維持不變 (D) 無法判斷。

(五) 玉玲、文靜、婷婷、小柔下班後一起去百貨公司逛街。玉玲：「我想買一套衣服、一個皮包，還有化妝品。」文靜：「買這麼多東西，你不怕透支？最好還是量力而為吧！」由於服飾專櫃推出換季大拍賣活動，玉玲買了一套衣服，但也因此沒有多餘的錢買化妝品和皮包。四人回家路經電子專賣店，小柔看見一款新型手機相當喜愛，婷婷：「你上個月不是才換了一個新手機嗎？」小柔：「但是這個手機的功能比較好。」請根據上述對話，回答下列問題：

37. 上述有關購買商品的行為，我們稱為什麼？ (A) 投資行為 (B) 生產行為 (C) 理財行為 (D) 消費行為。

38. 上文中四人的對話，何者最能顯示出人類的欲望無窮？(甲)玉玲 (乙)文靜 (丙)婷婷 (丁)小柔 (A)甲乙 (B)甲丁 (C)乙丙 (D)丙丁。

39. 根據上述，玉玲因為買了一套衣服，而沒有多餘的錢買化妝品和皮包。這種作為顯示出何種經濟學概念？ (A) 機會成本 (B) 受益原則 (C) 需求法則 (D) 負擔能力原則。

40. 下列何種行為符合經濟學上的「需求法則」？ (A) 玉玲想買衣服、皮包和化妝品 (B) 文靜認為消費應該量力而為 (C) 玉玲因換季大拍賣，買了一套衣服 (D) 小柔已有手機，但想換功能更好的手機。