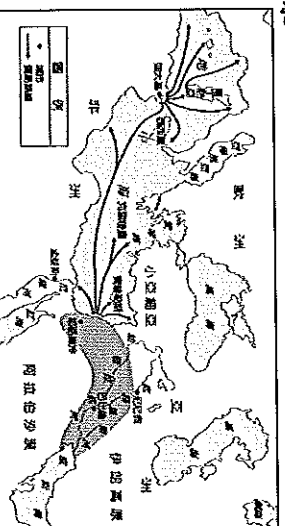


一、選擇題

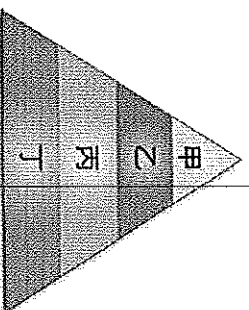
1. () 他是哲學家、數學家也是物理學家，他確定了許多物體表面積和體積的計算方法，也發現了槓桿原理和浮力定律。請問：「他」是下列何者？ (A) 亞里斯多德 (B) 希羅多德 (C) 歐幾里德 (D) 阿基米德。
2. () 上古時代，活動於小亞細亞的哪一個民族是以製造鐵器聞名？ (A) 蘇美人 (B) 西臺人 (C) 波斯人 (D) 巴比倫人。
3. () 小九子在書中讀到以下的內容：「此後一千年間，埃及捲入與近東世界的爭霸鬥爭，先後與西臺、亞述等帝國爭雄，將敘利亞、巴勒斯坦和努比亞都置於自己的版圖勢力範圍。」這段文字描述應該是埃及哪一時期的歷史？ (A) 波斯占領時期 (B) 古王國時期 (C) 中王國時期 (D) 新王國時期。
4. () 波斯人，他們信仰的宗教相信世界存在善、惡兩股勢力，在世界末日來臨前，善神會戰勝惡神。請問：波斯人的宗教信仰為何？ (A) 祆教 (B) 佛教 (C) 婆羅門教 (D) 猶太教。
5. () 「當你殺人就得償命，而當你傷了別人的右手，你也得讓別人傷你的右手。」這種「以牙還牙，以眼還眼」的報復原則，出自於《漢摩拉比法典》。請問：這部法典是由兩河流域的哪一個民族所編定？ (A) 巴比倫人 (B) 蘇美人 (C) 亞述人 (D) 加爾底亞人。
6. () 小九子參觀西亞古代文明特展時，看到泥板上刻有一端大一端小的文字，此文是用刻成斜角的蘆葦桿壓製而成。請問：關於此種文字的敘述，下列何者「錯誤」？ (A) 此種文字為楔形文字 (B) 此種文字最早是由巴比倫人所發明 (C) 漢摩拉比法典上的條文用此文字書寫 (D) 此種文字後來成為西亞諸民族交易時通用的媒介。
7. () 他是古希臘作家，他把旅行中的所聞所見，著成《歷史》一書，被後世稱為「歷史學之父」。請問：「他」是下列何者？ (A) 蘇格拉底 (B) 荷馬 (C) 亞里斯多德 (D) 希羅多德。
8. () 亞歷山大在征服的地區內建立希臘式城市，移植城邦體制和生活方式。下列哪一個區域不會出現這樣的城市？ (A) 小亞細亞 (B) 恆河流域 (C) 尼羅河流域 (D) 美索不達米亞。
9. () 現在的印度人信奉最多的宗教是？ (A) 伊斯蘭教 (B) 印度教 (C) 婆羅門教 (D) 佛教。
10. () 埃及古文明，最後因為被哪一民族滅掉而逐漸喪失？ (A) 羅馬帝國 (B) 波斯帝國 (C) 亞述帝國 (D) 亞歷山大帝國。
11. () 下列為希臘著名的人物：(甲)蘇格拉底 (乙)希羅多德 (丙)柏拉圖 (丁)荷馬 (戊)亞里斯多德。請問：「希臘三哲人」指的是哪些人？ (A) 甲乙戊 (B) 甲丙戊 (C) 甲丁戊 (D) 丙丁戊。
12. () 因為過半數的人都在陶片上寫了約翰的名字，認為他可能會危害城邦，於是約翰被城邦流放十年。依據史實，約翰最可能生活在哪個區域？ (A) 特洛伊 (B) 斯巴達 (C) 雅典 (D) 羅馬。
13. () 阿拉伯數字始創於□□，後來傳到阿拉伯地區，因此而得名。現在它已成為全球目前使用最廣泛的數字系統。請問：□□應填下列何者最適當？ (A) 印度 (B) 埃及 (C) 西亞 (D) 中國。
14. () 印度哪一個宗教的教義反對種姓制度，並要人多修行、多做善事，以跳脫輪迴之苦？ (A) 婆羅門教 (B) 基督教 (C) 佛教 (D) 猶太教。
15. () 小九子看到某部影片的介绍：「短短 13 年內，足智多謀的他併吞了西方世界的大半領土，深入人跡未至的印度半島，摧毀了當時最強盛的波斯帝國。」請問：這部影片片名最有可能是拍攝哪位帝王的生平事蹟？ (A) 亞歷山大 (B) 漢摩拉比 (C) 君士坦丁大帝 (D) 奧古斯都。
16. () 小九子上臺報告歷史專題，為了讓同學更了解報告中相關地區的地理位置，她在黑板放上如附圖的地圖。從地圖上標示的內容判斷，小九子最可能報告下列哪個主題？ (A) 佛教的發展與傳播 (B) 腓尼基人的貿易區 (C) 四大古文明的特色 (D) 蒙古西征的路線。



| | |
|--|---|
| | F |
| | R |
| | N |
| | Y |
| | J |

17. () 埃及吉薩的古夫金字塔內部構造精細複雜，被喻為古代的「世界七大奇蹟」之一。關於埃及金字塔的敘述，下列何者「錯誤」？ (A) 金字塔是法老王的陵寢 (B) 金字塔內部的壁畫與雕像反映了埃及人的宗教觀 (C) 金字塔以新王國時期建造最多 (D) 雄偉的金字塔顯示當時埃及法老王的權力很大。
18. () 附圖為古代某地通行的文字與現代英文字母對照表。請問：他是那一民族發明的文字？ (A) 埃及人 (B) 蘇美人 (C) 雅典人 (D) 中國人。
19. () 接續上題，這種文字是經由哪一民族向外傳播到西方的？ (A) 巴比倫人 (B) 腓尼基人 (C) 埃及人 (D) 希伯來人。
20. () 古代埃及的政治發展穩定，但兩河流域地區的政權卻更迭頻繁，其中最大的因素應與下列何者有關？ (A) 氣候因素 (B) 經濟發展 (C) 社會變遷 (D) 地理環境。

21. () 在印度的神話中，人類祖先普魯沙的身體轉化為各種階級，兩手變為刹帝利(貴族)階級、口變為婆羅門(祭司)階級、兩腳變為首陀羅(奴隸)階級、兩腿變為吠舍(平民)階級。若將印度種姓制度繪成一金字塔形示意圖(如上題)，圖中的「甲」應是指哪一階級？ (A) 貴族 (B) 祭司 (C) 平民 (D) 奴隸。



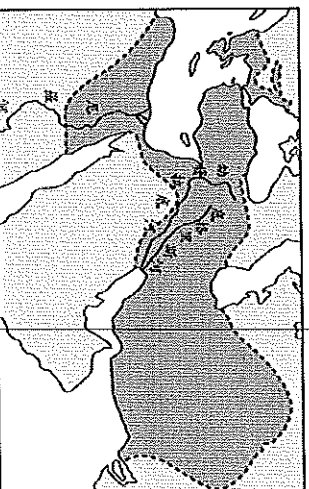
22. () 西元前六世紀居住於兩河流域以東的波斯人，締造強盛的波斯帝國，並發展出豐富多元的文化。請問：波斯是現今哪一國家的古稱？ (A) 敘利亞 (B) 巴勒斯坦 (C) 伊朗 (D) 伊拉克。
23. () (甲)埃及 (乙)波斯 (丙)兩河流域 (丁)印度 (戊)希臘。「希臘化文化」是融合以上哪些地區的文化而形成的？ (A) 甲乙丙丁戊 (B) 甲乙丙戊 (C) 甲丙丁戊 (D) 乙丙丁戊。
24. () 曾經燦爛的西亞古文明以流逝，但遺留下來的智慧結晶至今仍與我們的生活息息相關。請問：下列哪些西亞文化成就，仍為今日世界所通用？(甲)楔形文字 (乙)「以牙還牙、以眼還眼」的法律觀念(丙)六十進位法 (丁)一週七天 (A) 甲乙 (B) 甲丁 (C) 乙丙 (D) 丙丁。
25. () 亞歷山大擁有「四海一家」的理想，在他統治的土地上，積極鼓勵通婚來促進民族融合。中國歷史上哪位君主的政策與其類似？ (A) 秦始皇 (B) 漢武帝 (C) 唐太宗 (D) 北魏孝文帝
26. () 雅典和斯巴達都是希臘時代的重要城邦，關於這兩者的比較，下列何者正確？ (A) 前者實施為民主政治，後者為軍國主義 (B) 兩城邦都位於義大利半島 (C) 兩城邦公民都需接受軍事訓練 (D) 前者以農業為主，後者以商業為主。
27. () 下列有關古埃及文化特色的敘述，何者「錯誤」？ (A) 宗教信仰以太陽神和尼羅河神最重要 (B) 認為人死後靈魂必須經過審判，才能復活 (C) 為了預測尼羅河水的氾濫，制定了陰曆 (D) 埃及在醫學、測量學的技术優良。
28. () 附圖為兩位同學的對話。他們討論的最有可能是上古西亞地區的哪個民族？ (A) 埃及人 (B) 巴比倫人 (C) 波斯人 (D) 亞述人。

沒錯，他們真的很殘暴，常常把殘殺異族的戰爭場面雕刻成浮雕。

這個民族十分好戰，曾以武力建立大帝國。

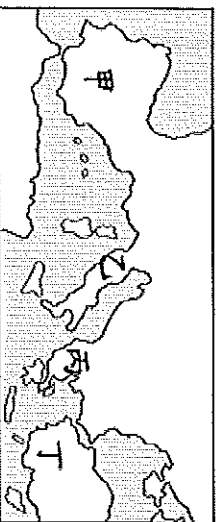


29. () 在《舊約聖經》〈出埃及記〉中，陳述了某宗教的律法「十誡」，其中內容為：「除了我以外，你不可有別的上帝；不可為自己雕刻偶像……；不可妄稱耶和華你上帝的名……；當紀念安息日……。」請問：這是對哪一宗教的描述？ (A) 基督教 (B) 猶太教 (C) 天主教 (D) 伊斯蘭教。
30. () 接上題，此宗教是哪一民族信奉的宗教？(A) 希伯來人 (B) 羅馬人 (C) 蘇美人 (D) 阿拉伯人。
31. () 歐幾里德在亞歷山大港教書並度過一生，致力於科學的研究，其著作被認為是史上最成功的教科書。請問：關於歐幾里德的生平，下列何者「錯誤」？ (A) 他生活在希臘化時期 (B) 他提出槓桿、浮力等原理 (C) 利瑪竇曾與徐光啟將他的名著翻譯成中文 (D) 他著有《幾何原本》，至今仍為幾何學的權威作品。
32. () 西元前五世紀，雅典帶領希臘諸邦成功戰勝哪個東方的亞洲強國，也因此增強了希臘人對於自身文化的信心，在其黃金時代堪稱是「全希臘的學校」？ (A) 印度 (B) 馬其頓 (C) 羅馬 (D) 波斯。
33. () 下列有關亞歷山大東征與蒙古西征的比較，何者正確？ (A) 前者將希臘文化融入東方，後者將火藥傳入西方 (B) 兩者疆域都橫跨歐、亞、非三洲 (C) 前者融合了希臘、羅馬、西亞與印度文化；後者是融合蒙、漢兩大文化 (D) 都因農業民族攻擊草原民族而起。
34. () 佛教興起後逐漸向外傳播，下列有關佛教傳播的敘述，何者「錯誤」？ (A) 阿育王時期廣建寺廟，並積極派遣使者向外傳教 (B) 佛教於兩漢之際由印度直接傳入中國 (C) 魏晉南北朝時期由於戰亂頻仍與君王提倡，佛教大為盛行 (D) 玄奘於唐朝時至印度取經，有助於佛教的中國化。
35. () 附圖是某一個帝國的疆域圖。在圖中可發現帝國的版圖橫跨數洲。請問：這是哪帝國的疆域圖？ (A) 亞述帝國 (B) 波斯帝國 (C) 亞歷山大帝國 (D) 羅馬帝國。



36. () 印度社會階級的產生，可追溯自遠古時期哪一民族推動種姓制度，用來維持血統純正以便於統治？ (A) 印地安人 (B) 腓尼基人 (C) 猶太人 (D) 阿利安人。
37. () 上古西亞的哪個民族擅長占星術與觀察天象，並確立一週七天制？ (A) 蘇美人 (B) 巴比倫人 (C) 加爾底亞人 (D) 亞述人。

38. () 世上運動員莫不以取得奧運金牌為無上榮耀，體育精英齊聚一堂較勁的奧運會，實則早在西元前 776 年，古代奧運就盛大舉辦。請問：當時比賽地點是在附圖中的何處？ (A) 甲 (B) 乙 (C) 丙 (D) 丁。

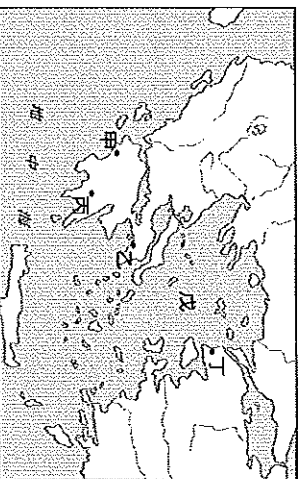


39. () 西元 2016 年的奧運會在巴西的里約熱內盧舉行，這四年一度的世界級運動盛會，吸引各國共襄盛舉。請問：世上最早的奧運會舉行的目的為何？ (A) 取悅眾神明 (B) 祈求穀物豐收 (C) 崇尚運動風氣 (D) 成年禮儀式。
40. () 希臘文明以城邦著稱，在哲學、文學與建築上都有非凡的成就，下列何者「不是」此時期的發展或成就？ (A) 荷馬史詩 (B) 帕德嫩神廟 (C) 希羅多德的歷史學 (D) 公共浴池與競技場。
41. () 當希臘各城邦陷於內戰時，希臘北方哪一王國趁機興起，並進而統一希臘各城邦？ (A) 波斯 (B) 馬其頓 (C) 雅典 (D) 斯巴達。
42. () 古代西亞文明是由下列民族所創造：(甲) 蘇美人 (乙) 加爾底亞人 (丙) 巴比倫人 (丁) 亞述人等。上述民族在兩河流域建立政權的「順序」，下列何者正確？ (A) 甲乙丙丁 (B) 甲丙丁乙 (C) 乙甲丁丙 (D) 丁甲丙乙。
43. () 小丸子將在暑假時前往「美索不達米亞平原」進行深度旅行，為了更了解當地的人文歷史，她可以參考下列哪本書籍？ (A) 《探索印度河》 (B) 《恆河流域面面觀》 (C) 《尼羅河之美》 (D) 《兩河流域風華》。

二、題組

(一) 特洛伊王子帕里斯擄走斯巴達公主海倫，希臘諸城邦同仇敵愾，組成聯軍討伐特洛伊。當戰事呈膠著狀態時，希臘將領奧德修斯命人建造一隻中空的木馬，讓一些軍人躲藏在木馬裡面，並派人散布假消息，說木馬是酬謝雅典娜而做。特洛伊人不明究裡，將木馬拖進雅典娜神廟內。午夜時分，希臘士兵走出木馬，打開城門，希臘軍隊大舉進攻並放火燒城，特洛伊大敗。以上為著名的「木馬屠城記」，請回答下列問題：

44. () 以往學者認為特洛伊戰爭只是神話，直至十九世紀考古學家施里曼發掘特洛伊城，才確認這段史事的真實性。施里曼應在附圖中何處考古發現特洛伊城史蹟？ (A) 甲城 (B) 乙城 (C) 丙城 (D) 丁城。

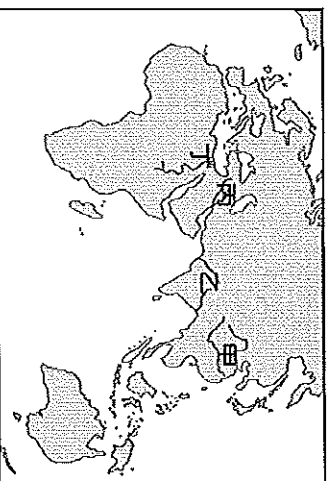


45. () 希臘聯軍攻打特洛伊所渡過的「戊」海，也是希臘文明的起源地區。這是下列哪一海洋？ (A) 愛琴海 (B) 黑海 (C) 裏海 (D) 紅海。
46. () 特洛伊戰爭結束後，奧德修斯經歷重重波折，在外流浪十年才回到家鄉，這段過程在哪位作家的作品《奧德賽》中有精采的描述？ (A) 希羅多德 (B) 荷馬 (C) 亞里斯多德 (D) 歐幾里得。

(二) 「奧塞利斯是一位受人民愛戴的君主，他的弟弟塞特覬覦王位，將他害死並裝進人形棺丟入尼羅河。當奧塞利斯的妻子伊西斯好不容易找回丈夫屍體時，塞特又將屍體支解為十四塊散落在尼羅河中。伊西斯將丈夫屍塊一一尋回，縫合起來並用繡帶固定，在神的幫助下，奧塞利斯死而復生。奧塞利斯同時也是冥界之主，在他的主持下，亡靈須將心臟置於天秤上，另一端擺放象徵馬特的羽毛，若心臟比羽毛重，亡靈就會被判有罪而墮入煉獄中；若心臟比羽毛輕，亡靈便可到亞爾平原快樂地生活。」請回答下列問題：

47. () 伊西斯沿著尼羅河找尋被塞特丟到河中的奧塞利斯屍體，她應往哪一海洋的方向才会在下游找到屍體？ (A) 大西洋 (B) 紅海 (C) 地中海 (D) 太平洋。
48. () 神話中描述的奧塞利斯是埃及人信奉的哪一位神明？ (A) 太陽神 (B) 尼羅河神 (C) 天神宙斯 (D) 海神

(三) 附圖為四大古老文明的起源示意圖，請依圖回答下列問題：



49. () 哪個文明起源於兩河流域，因土壤肥沃而有「肥沃月彎」之稱？ (A) 甲 (B) 乙 (C) 丙 (D) 丁。
50. () 哪個文明發明了數字符號和零的觀念，聞名全世界？ (A) 甲 (B) 乙 (C) 丙 (D) 丁。