

基隆市立武崙國中 105 學年度第一學期 第一次段考 九年級社會試卷—地理科

第一大題：單選題，每題 2 分；第二大題：題組題，每題 2 分，總分 100 分。
請用 2B 鉛筆依題號在電腦卡上作答，電腦讀卡時無法判斷身分者，扣總分 10 分。
範圍：第五冊 L.1~L.2(歐洲概說)

班級：_____ 座號：_____ 姓名：_____

一、單選題 (每題 2 分)

- () 1. 美國多年前曾進攻伊拉克，逮捕海珊。各界對於美軍這次的作戰有不同的意見，有人認為美國出兵，其實是爲了自身的利益，因為美國覬覦伊拉克豐富的能源資源，以此藉口來出兵。這裡所指伊拉克豐富的資源應該是下列何者？
(A)地熱 (B)風力 (C)水力 (D)石油
- () 2. 西亞的宗教信仰衝突，是本地動盪不安的一大原因，起因是哪種宗教與信仰伊斯蘭教的阿拉伯人爭奪土地所產生的？
(A)拜火教 (B)猶太教 (C)基督教 (D)天主教
- () 3. 西亞地形主要可分成三大地理區。下列敘述何者正確？
(A)北部以平原為主 (B)中部是美索不達米亞平原 (C)南部為新褶曲山脈分布區 (D)南部為伊朗高原
- () 4. 新聞報導：「……石油價格將在明日清晨調漲……」
西西想上奇摩網站蒐集有關「石油價格」的國際組織資料，他該輸入下列哪個國際組織簡稱？
(A)APEC (B)WTO (C)OPEC (D)WHO
- () 5. 西亞中部的「肥沃月彎」是西亞最富庶的農業區，其主要原因為何？
(A)人力充足 (B)雨量充沛 (C)河川灌溉 (D)發達的農業技術
- () 6. 西亞在自然和人文上最具一致性的是下列哪項地理現象？
(A)全都信奉伊斯蘭教 (B)氣候乾燥 (C)地形單調 (D)政治組織單純
- () 7. 西亞的哪個都市同時是基督教、猶太教與伊斯蘭教的聖地？
(A)麥加 (B)巴格達 (C)德黑蘭 (D)耶路撒冷
- () 8. 西亞為紛爭不斷的衝突地區，引起紛爭的主因不包括下列何者？
(A)水源爭奪 (B)糧食爭奪 (C)石油資源 (D)宗教信仰
- () 9. 仁甫到西亞國家旅遊，在旅行中隨時可以享用到美味的豬肉料理，仁甫最有可能到下列哪個國家？
(A)伊拉克 (B)以色列 (C)伊朗 (D)土耳其
- () 10. 西亞地區的戰略與交通位置相當重要，主要是因為此地區位於歐洲、亞洲與哪個大洲之間的接觸地帶？
(A)非洲 (B)澳洲 (C)北美洲 (D)南美洲
- () 11. 造成西亞氣候乾燥的主要原因為何？
(A)海陸性質差異 (B)山脈阻擋水氣 (C)副熱帶高壓籠罩 (D)高山終年積雪不退

- () 12. 芝儼分享她暑假到西亞的旅遊經歷：「那兒的氣候又乾又熱，有許多的葡萄園和柑橘園，最特別的是搭火車經過鐵橋，或坐汽車經過海底隧道，就可以到歐洲了。」芝儼所描述的地區，最有可能位於下列哪個國家？
(A)伊朗 (B)以色列 (C)土耳其 (D)沙烏地阿拉伯

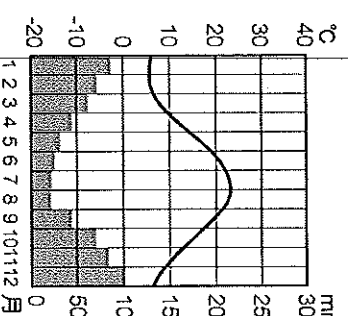
- () 13. 所謂的「三天一小吵，五天一大吵」用在以色列和巴勒斯坦人民身上最適當不過了，如今以色列和巴勒斯坦的衝突已延伸至全球，引發國際間高度關注。下列哪個要素不是造成以巴兩國衝突的原因？
(A)宗教 (B)金錢 (C)土地 (D)民族

- () 14. 西亞多數的房屋，牆很厚，門窗也很小，這種景觀和下列哪項地理因素最有關係？
(A)政策 (B)氣候 (C)地形 (D)產業

- () 15. 隨著人口逐年增加，西亞的哪項資源的缺乏，會使本區的衝突更加嚴重？
(A)水資源 (B)森林資源 (C)石油資源 (D)土地資源

- () 16. 伊斯蘭教是比較沒有種族偏見的宗教，但在西亞卻也數度因種族的歧見而留下難以抹滅的傷痛。以色列與阿拉伯之間的紛爭，就是哪兩種不同種族的對抗？
(A)波斯人和阿拉伯人 (B)猶太人和波斯人 (C)土耳其人和猶太人 (D)猶太人和阿拉伯人




- () 17. 附圖的氣候類型分布於西亞哪些地區？



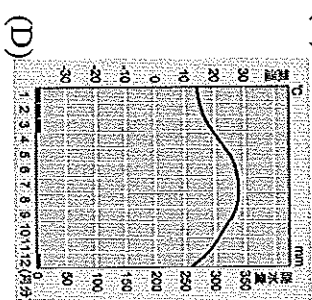
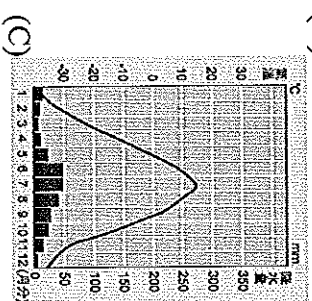
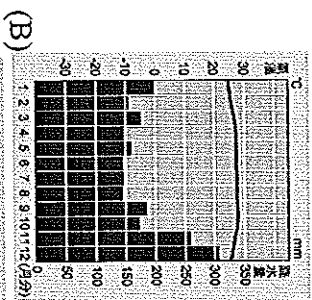
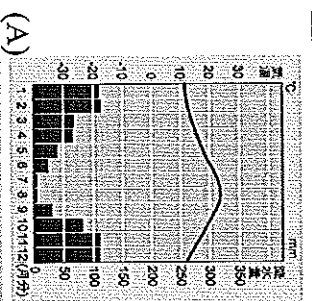
- (A)紅海、波斯灣沿岸 (B)地中海、紅海沿岸
(C)黑海、地中海沿岸 (D)黑海、紅海沿岸
- () 18. 西亞的居民修築坎井，灌溉農田，這種特殊的水資源開發方式，與當地哪種特性有關？
(A)岩層堅硬，儲水較多 (B)氣候乾燥，水分容易蒸發 (C)雨水充沛，減少土壤流失 (D)地下水豐沛，減少水分滲透

- () 19. 西亞乾燥氣候區的居民利用地下自然湧出的泉水或人工挖掘的地下水道發展農業，在下列中國的四個地理區中，哪個也以這種農業類型著稱？
(A)塔里木盆地 (B)青海湖盆地 (C)四川盆地 (D)蒙古高原

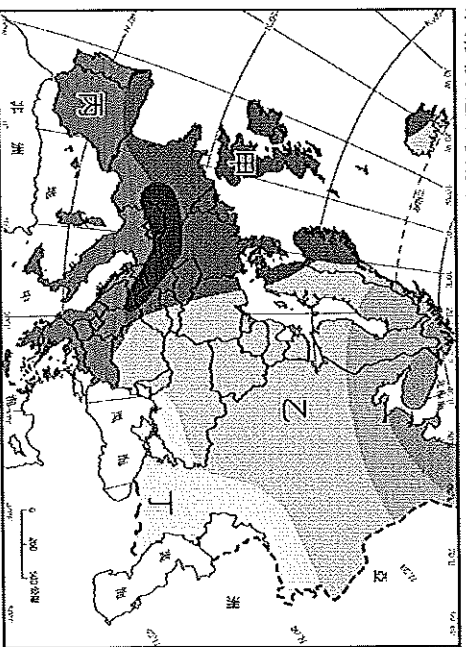
() 49. 下列哪張圖比較符合杜拜人民的衣著？

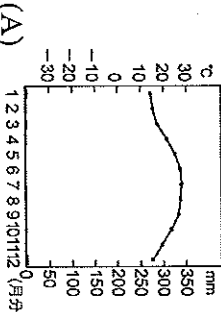

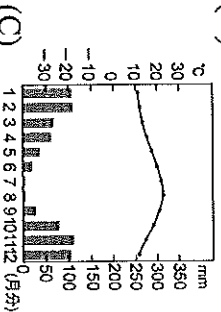
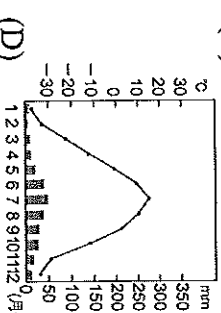



() 50. 下面四張氣候圖中，何者可以代表杜拜的氣候類型？



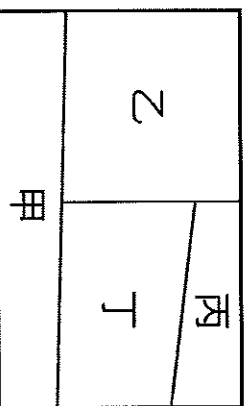
- () 37. 歐洲大多位於中緯度，以溫帶氣候為主，其中又因緯度、地形、距海遠近、西風及暖流等因素影響，分成各種不同的氣候型。附圖中「丙」地的氣候類型最接近哪張氣候圖？



- (A)  (B) 
- (C)  (D) 
- () 38. 我們常常運用英文簡稱及簡單的符號來代表世界性的組織或物品標誌。



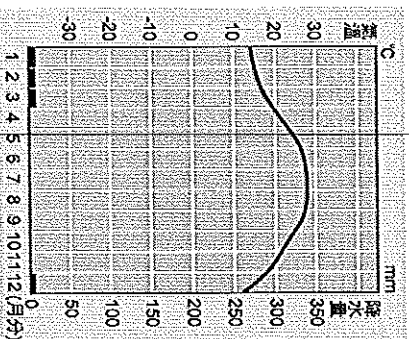
- (A) 歐盟 (B) 歐元 (C) 北美自由貿易組織 (D) 申根簽證
- () 39. 西亞約占世界石油蘊藏量的 77% 及石油產量的 40%，且大部分的石油蘊藏量集中於哪個地區？
 (A) 紅海沿岸 (B) 地中海沿岸 (C) 波斯灣 (D) 阿拉伯海
- () 40. 西亞的居民服飾穿著多以寬大長袍為主，其主要原因為何？
 (A) 較透氣防曬且防沙塵 (B) 真神阿拉的指示 (C) 適合草原生活 (D) 較具有神秘感
- () 41. 附圖是歐洲的主要氣候分布簡圖，圖中哪個區域屬於溫帶海洋性氣候？



- (A) 甲 (B) 乙 (C) 丙 (D) 丁

二、題組題 (每題 2 分)

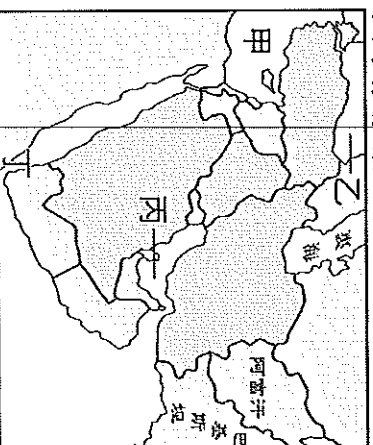
(一) 附圖為某地區的氣候圖。請問：



- () 42. 根據氣溫及雨量資料來判斷，此地區應是屬於哪種氣候？ (A) 極地氣候 (B) 高地氣候 (C) 熱帶雨林氣候 (D) 熱帶乾燥氣候
- () 43. 生活在此地區的居民可能從事哪種經濟活動？
 (A) 游牧 (B) 游耕 (C) 欄牧 (D) 採集
- () 44. 此地區的居民通常以哪種動物做為交通工具？
 (A) 牛 (B) 駱駝 (C) 馬 (D) 驢子
- (二) 小明是個探險家，征服了世界每個角落，目前他正從中國沿著絲絲路到達歐洲。請問：
- () 45. 小明途中會經過下列哪個地區？
 (A) 西亞 (B) 南亞 (C) 中亞 (D) 北亞
- () 46. 在旅途過程中，小明看到許多大型管線橫貫，由附圖可推測，當地哪種資源非常豐富？
 (A) 水 (B) 鐵 (C) 煤 (D) 天然氣



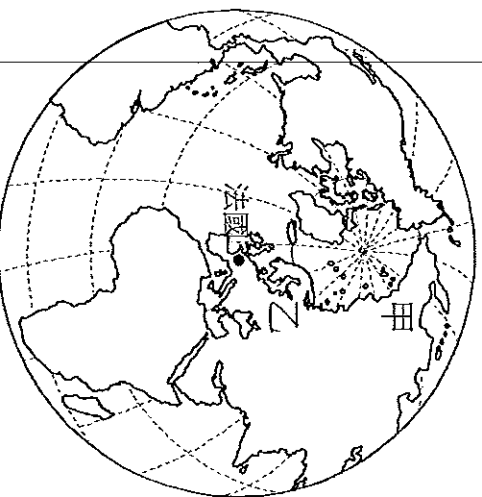
(三) 好萊塢性感男星布萊德彼特和嬌妻安潔莉娜裘莉，帶著倆人的小寶寶夏蘿，前往杜拜的帆船飯店度假。請問：



- () 47. 號稱全世界最豪華的七星級飯店——阿拉伯塔，位在波斯灣的人工島嶼上，不論安全、設施、景觀、裝潢，甚至服務均讓人嘆為觀止。請問：此飯店應「接近」於附圖中的何處？ (A) 甲 (B) 乙 (C) 丙 (D) 丁
- () 48. 杜拜從一個沒沒無名的小城鎮躍升為國際知名的度假勝地，每年吸引超過五百萬人次以上的遊客。請問：杜拜的經濟成長與下列哪項因素最有相關？ (A) 國際貿易 (B) 高科技產業 (C) 盛產石油 (D) 鋼鐵工業

尚後還有試題

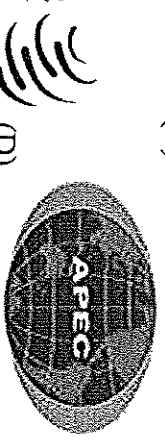



- () 30. 柯塔夫是蘇聯時期的哈薩克農人，他所種植的是當時最主要的經濟作物。上述這項作物是什麼？
 (A) 玉米 (B) 花生 (C) 油菜 (D) 棉花
- () 31. 中亞的地形、氣候、水文、農業和聚落的地理特徵，與中國哪個地區最相似？
 (A) 四川盆地 (B) 青藏高原 (C) 塔里木盆地 (D) 內蒙古高原
- () 32. 歐洲各國經濟發展有其差異性存在，下列哪兩個地區是經濟發展程度最高的地區？
 (A) 西歐、北歐 (B) 北歐、南歐 (C) 西歐、南歐 (D) 南歐、東歐
- () 33. 附圖中甲、乙兩處緯度相當，分居歐亞大陸東西岸，但甲地沿海冬季冰封，通航時段較短，乙地沿海則是終年不凍可航行。造成乙地沿海終年不凍的原因為何？



- (A) 遍地有地熱 (B) 沿海有暖流經過 (C) 有溫暖的河水注入 (D) 山脈阻擋寒冷氣流的北流出。」這句話顯示了歐洲哪項地理特色？
 (A) 阿爾卑斯山是歐洲河川的主要分水嶺 (B) 萊因河和多瑙河是歐洲水運的兩大動脈 (C) 歐洲河川水量豐穩，水流平緩，具航運之利 (D) 歐洲冰河地形發達，形成許多谷地和湖泊
- () 35. 附表為某地的氣候資料表，此種氣候在歐洲的哪個地區分布最廣？

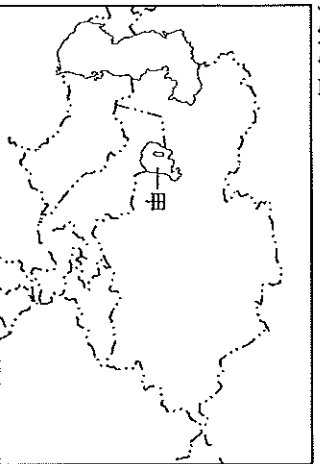
月份	1	2	3	4	5	6	7	8	9	10	11	12
雨量	81	70	74	66	44	33	14	27	66	128	111	100
溫度	7	8	10	13	18	21	24	24	20	13	10	8

- (A) 東歐 (B) 西歐 (C) 北歐 (D) 南歐
- () 36. 歐洲在第二次世界大戰後，透過某個區域組織整合整個歐洲，期望減少貿易衝突，以提升整體歐洲的競爭力。下列哪個圖不是這個區域組織的旗幟？



(C) ORGANIZATION (D)

- () 20. 鹹海曾經為世界第四大湖，但短短的三十年間，鹹海面積減少了近 60%，如今卻成為世界第八大湖。下列何者不是造成鹹海面積日益縮小的原因？
 (A) 過度引用河水 (B) 發展灌溉農業 (C) 鹽鹼化與沙漠化 (D) 地層下陷
- () 21. 香吉士是中亞某餐廳的廚師，他想利用當地盛產的農作物製作一道餐廳的招牌菜，下列何者可能是他選用的食材？
 (A) 稻米 (B) 咖啡 (C) 小麥 (D) 椰子
- () 22. 土庫曼與中國在 2004 年簽訂協議，土庫曼將國內的「某項」資源，利用管線輸入中國，進而發展國內經濟。這項資源可能是指下列何者？
 (A) 淡水 (B) 地熱 (C) 電力 (D) 天然氣
- () 23. 中亞氣候乾燥，除了四周高山圍繞外，降水少的主要原因為何？
 (A) 副熱帶高壓籠罩 (B) 距海遙遠 (C) 地勢較高 (D) 地形平坦
- () 24. 「白金」在初期的確為中亞各國帶來不少外匯，但伴隨而來的環境汙染，卻成為中亞的惡夢。上文所述的「白金」指的是下列哪種物產？
 (A) 棉花 (B) 鹽 (C) 鑽石 (D) 銅
- () 25. 附圖為中亞位置圖，中亞國家引河水灌溉農田，使得「甲」湖泊面積日益縮小。「甲」湖泊是指下列何者？



- (A) 鹹海 (B) 裏海 (C) 死海 (D) 貝加爾湖
- () 26. 自古以來，中亞的居民多從事畜牧業，但近年來因為哪兩項產業活動的發展，使得傳統生活起了變化
 (A) 種植棉花、開採鐵礦 (B) 種植棉花、開採石油 (C) 種植小麥、開採煤礦 (D) 種植小麥、開採鐵礦
- () 27. 關於中亞五國的敘述，下列何者正確？
 (A) 包括哈薩克、烏茲別克、吉爾吉斯、土庫曼、白俄羅斯五個國家 (B) 位於亞洲及非洲貿易往來的交通要道 (C) 位居內陸，水氣難以到達，呈現乾燥氣候 (D) 以丘陵、高原地形為主體
- () 28. 裏海位於亞洲與歐洲交界，是世界上最大及蓄水量最多的湖泊。裏海的類型與下列哪個湖泊相同？
 (A) 死海 (B) 貝加爾湖 (C) 洞庭湖 (D) 太湖
- () 29. 中亞為了增加農業收成而過度耕作，因而引發哪種問題？
 (A) 土地沙漠化、鹽鹼化 (B) 海水倒灌 (C) 地層下陷 (D) 水旱災頻仍