

基隆市立武崙國中 105 學年度第一學期 第二次段考 九年級社會科試卷—歷史科

範圍：第五冊 2-3-4-3

班級：_____ 座號：_____ 姓名：_____

| 選擇分數 | 非選分數 | 總分 |
|------|------|----|
| | | |


答案卷

注意事項：請用黑色或藍色原子筆書寫，其餘顏色，該格以 0 分計算

非選擇題：共 12 分

下列四張圖片是基督教、伊斯蘭教、佛教、古埃及信仰的相關說明簡圖，請判斷正確後，回答以下各題：

只要摒除貪念與欲望，潛心修行，人人皆可超脫輪迴，免受生老病死之苦。



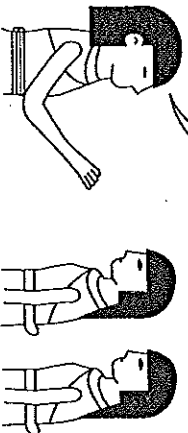
(甲)

要遵從阿拉真神的訓示，樂於布施、幫助窮人，只要此生行為良好，死後便能進入天堂。



(乙)

要誠心敬奉太陽神及各類神祇，死後身體要保存完整，以備來世復活時用。



(丙)

人有原罪，所以要相信上帝、努力行善，當末日審判來臨，便可獲得赦免得到永生。



(丁)

1. 請寫出這四張說明簡圖各代表的宗教信仰 (每格 1 分，共 4 分)

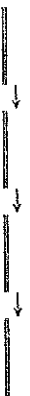
(甲)：_____

(乙)：_____

(丙)：_____

(丁)：_____

2. 請由早至晚依序排列出這四個宗教信仰的創立時間 (2 分，全對才給分)



3. 以上哪一個宗教是最早傳入中國的呢？ _____ (2 分)

4. 請從這四張說明簡圖中選擇一個宗教，簡述其創立背景 (4 分)


| |
|---|
| 教 |
|---|

創立背景：

| |
|--|
| |
|--|

一、單選題 (第 1~24 題，每題 3 分；第 25~32 題，每題 2 分)

1. 志彬在書上讀到一首詩：「哀愁之淚沾著我的雙頰潸然落下，我的心同聲聲哀嘆在苦鬥，我的眼睛轉我鄙視\世上一切誘惑為了她，但我再瞥見那溫柔的微笑，羞怯、甜蜜、溫柔的微笑浮現……。」老師說有「桂冠詩人」稱號的義大利詩人所寫的十四行詩，志彬若想再進一步了解此詩人與其作品，應打入哪找到相關資料？(甲)佩脫拉克 (乙)巴格達 (丙)荷馬史詩 (丁)方言文學 (A)甲乙 (B)乙丙 (C)丙丁
2. 中世紀時的西歐戰亂紛擾，阿拉伯人在亞洲迅速崛起，團結一致並積極向外經營，最終造輝煌的帝國關於阿拉伯人的敘述，下列何者錯誤？(A)中國史書將阿拉伯帝國稱為「大食」帝國 (B)《天方夜譚》坦丁堡為故事背景 (C)阿拉伯人在天文、數學及醫學等方面有可觀的成就 (D)阿拉伯人以信仰伊斯蘭教
3. 英國南部某些城市有公共浴池與引水道的遺跡，由這些遺跡可知，此地可能曾被哪個民族統治過？(A)阿拉伯人 (B)土耳其人 (C)羅馬人 (D)西班牙人。
4. 中世紀時，歐洲的行會經常設立學校，聘請教師教授語文與文學，「大學」就是在此時出現的。請問與中世紀後期的哪項歷史發展關係最密切？(A)莊園生活 (B)商業發達 (C)疾病蔓延 (D)封建盛行。
5. 中國西周時代與中世紀西歐均出現封建制度，但兩者性質有相當的不同，下列敘述何者正確？(A)中國西周的封建制度是建立在土地與契約的關係上 (B)中世紀西歐的領主與附庸之間必定存在著互(C)中國的西周與中世紀的西歐都只有貴族才能擁有土地 (D)中世紀西歐的封建制度特別強調嫡長子的繼承周全，成為後世歐洲各國法律的基礎。請問：此法典為何？(A)《十二表法》 (B)《拿破崙法典》 (C)《查士丁尼法典》 (D)《漢摩拉比法典》。
7. 右圖為九世紀西歐某政權領袖的事蹟，從圖中內容判斷，這位領袖最可能為下列何者？(A)君士坦丁 (B)查士丁尼 (C)鄂圖一世 (D)查理曼。
8. 耶穌受難後，門徒將他生前的言行記錄成《新約聖經》。由此可知，基督教教義受到哪個宗教影響？(A)印度教 (B)猶太教 (C)婆羅門教 (D)伊斯蘭教。
9. 英、法百年戰爭，對兩國的歷史發展有深刻的影響。請問：下列關於英法百年戰爭的敘述，何者為非？(A)背景是英王同時擁有法國貴族的身分，與法王的衝突不斷 (B)戰爭發生在十四、十五世紀 (C)最後英國在聖女貞德的帶領下贏得勝利 (D)這場戰爭有助於兩國的王權擴張。
10. (甲)葡萄牙征服了古老的阿茲提克與印加帝國 (乙)美洲玉米、馬鈴薯作物傳入歐洲，解決糧食不足的問題(丙)引入亞洲豐富的金銀，加速其商業的繁榮與財富的累積 (丁)歐洲國家販賣非洲黑人至美洲為奴隸，的人口結構。請問：上述歐洲海外征服與拓殖的敘述何者正確？(A)甲乙 (B)乙丁 (C)甲丙 (D)丙
11. 塔婷隨著家人到土耳其旅遊，旅途中至聖索菲亞大教堂參觀，發現教堂內的文物主要以希臘正教與拜占庭帝國 (C)神聖羅馬帝國、鄂圖曼土耳其帝國 (D)拜占庭帝國、鄂圖曼土耳其帝國。
12. 「西印度群島中的聖多明各，是歐洲人最早取得的殖民地之一。當地原住民在十五世紀末時原有 40 了十六世紀末土著就差不多絕跡了。」上述情形最有可能是何種因素所造成？(A)歐洲人的殘害和傳染 (B)當地環境衛生不良，疾病叢生 (C)當地內戰頻仍，傷亡慘重 (D)當地天災嚴重，糧食缺乏。



14. 楷刺在藝術史圖書上看到如右圖所示的照片，於是開始蒐集有關這張圖片的資料。下列何項資料的敘述並不符合史實？ (A)作者為達文西 (B)這是文藝復興時期的作品 (C)這個作品所表現的是以世俗人物為主的繪畫主題 (D)這是以《新約聖經》中的聖母為題材的聖母像。

15. 中世紀後期，西歐的商業逐漸復甦，關於這個時期的商業情形，下列敘述何者錯誤？ (A)市民階級的興起 (B)莊園經濟的形成 (C)行會組織的創立 (D)城市的興起。

16. 章程想要了解有關羅馬帝國的史實，於是請教了下列四位同學。請問：哪一位同學所言屬實呢？ (A)愷菱：「君士坦丁在羅馬營建新都。」 (B)宸維：「狄奧多西皇帝將帝國分為東、西二部。」 (C)短均：「凱撒是羅馬帝國時期的第一位皇帝。」 (D)或帆：「羅馬帝國使用希臘文。」

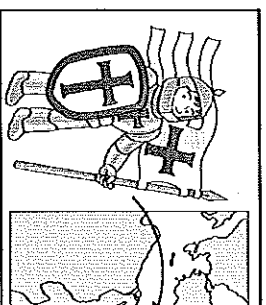
17. 基督教創立初期，時常受到羅馬帝國統治者的迫害。請問：下列何者不是基督教受到打壓的原因？

(A)不願膜拜羅馬皇帝 (B)僅信仰耶和華一個神明 (C)與猶太教一起反對羅馬統治 (D)與羅馬傳統宗教
18. 西班牙的阿罕布拉宮建築形式別緻一格，雕刻繁復細緻，為聯合國指定的世界遺產之一。理論上中
基督教世界，阿罕布拉宮卻呈現伊斯蘭教的風情。請問：這和哪一件史事有關？ (A)蒙古西征 (B)伊
張 (C)十字軍東征 (D)日耳曼人的遷徙與建國。

19. 羅馬某一時期由公民大會選出兩名執政官為國家領袖，任期一年，如有緊急狀況時則選擇其中一人；
執政官與元老院成員均出身於貴族，造成平民百姓的不滿，幾經抗爭後，另外選出護民官來維護平民權
一時期為何？ (A)王政時期 (B)共和時期 (C)帝制時期 (D)羅馬分裂時期。

20. 兆沓在閱讀歷史故事集時，看見了如右圖的漫畫。從圖中士兵的裝扮，和進
攻甲地為目的等內容來判斷，這最可能是哪一場軍事行動？

(A)蒙古西征 (B)亞歷山大東征 (C)日耳曼民族入侵 (D)十字軍東征。



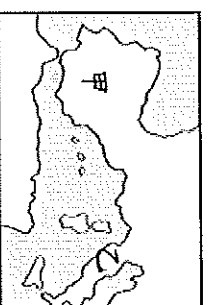
21. 這是一個知識分子熱衷於古典學術的時代，在這個時期知識分子抱持著「厚古典，薄中世紀」的想
人的價值。請問：這是哪一個時期？ (A)希臘時期 (B)羅馬時期 (C)文藝復興時期 (D)地理大發現時
22. 電視正播放以土耳其為主題的旅遊節目，主持人介紹某一古蹟：「建築物外表看起來像清真寺建築
斯蘭教喚禮塔是後來的統治者加上去的；巨大的圓頂令人印象深刻，內部有精緻耀眼的馬賽克鑲嵌圖飾
故事為題材。」關於這座古蹟，下列敘述何者正確？ (A)加上四座喚禮塔的應是塞爾柱土耳其人 (B)小
薩大教堂 (C)教堂內部以《聖經》故事為裝飾，是因該地曾信奉羅馬公教之故 (D)此古蹟是查士丁尼不
造的。

23. 地理大發現的起源與東西之間的貿易有很大的關係。下列何者不是促成地理大發現的原因？

(A)貿易路線被蒙古人阻斷 (B)歐洲對東方貨品需求增加 (C)王室支持 (D)航海知識與技術的進步。

24. 「若別人打你的右臉，你也可把左臉給他打。」上述是耶穌對信徒的訓誡之一，如果想看到此訓誡
下列什麼典籍看到此內容？ (A)《舊約聖經》 (B)《古蘭經》 (C)《吠陀經》 (D)《新約聖經》。

25. 十五世紀時，卡斯提爾與亞拉岡王國聯姻，最後合併成一個王國，並開始向
海外擴張。這個王國應該位於右圖中的何處？ (A)甲 (B)乙 (C)丙 (D)丁。



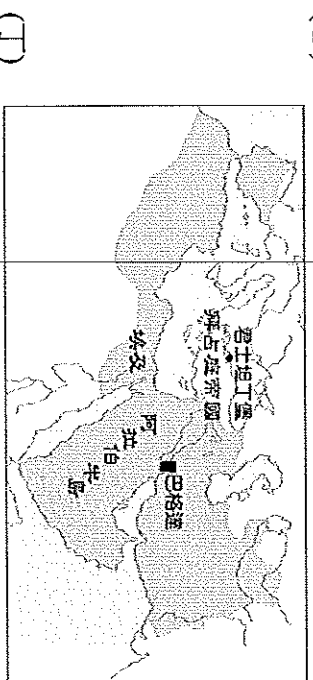
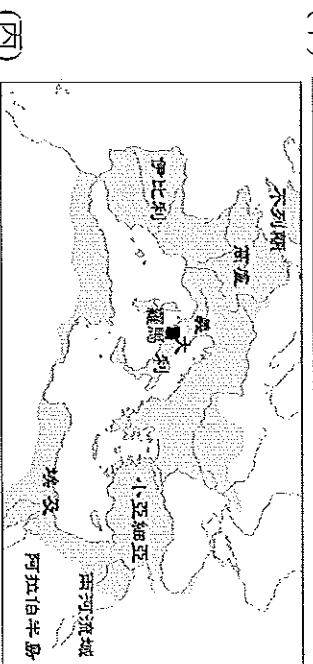
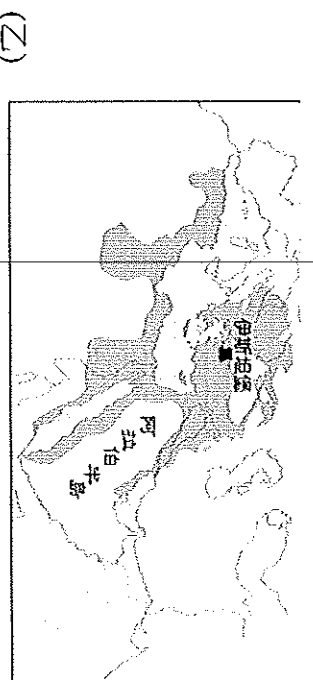
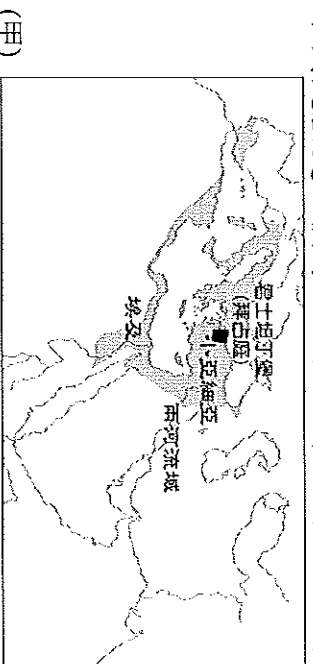
(C)達伽馬繞行非洲南端 (D)哥倫布發現新大陸。

27. 基督教創立到現在已有二千多年的歷史了，過程中也產生許多不同的教派，而這些教派的形成，可以追溯到歷史上基督教的幾次分裂。下列關於基督教第一次分裂的內容，下列敘述何者錯誤？ (A)發生於十一世紀 (B)羅馬公教是實行政教合一的體制 (C)分裂後形成羅馬公教和希臘正教 (D)起因是因為教義解釋等問題。

28. 中世紀歐洲各民族相互爭戰、向外擴張，形成諸國並立的局面。關於這時期各國的情勢，下列敘述 (A)汪達爾王國位於今日的北非地區 (B)東哥德王國對西歐共同文化的形成貢獻卓越 (C)查理曼大帝建帝國 (D)盎格魯撒克遜人控制今日的西班牙地區。

題組

下列是歷史上橫跨歐、亞、非三洲的四個帝國，請做出正確判斷後，回答第 29~32 題



29. 請將這四個帝國在歷史上出現的時間，排列出正確的順序：

(A)甲丙丁乙 (B)乙甲丁丙 (C)丙甲丁乙 (D)丁丙乙甲

30. 哪一個帝國因受到日耳曼民族的入侵而滅亡？

(A)甲 (B)乙 (C)丙 (D)丁

31. 西元 15 世紀滅東羅馬帝國，建立起橫跨歐、亞、非三洲的帝國為下列何者？

(A)甲 (B)乙 (C)丙 (D)丁

32. 以下哪兩個帝國同屬於伊斯蘭的世界呢？

(A)甲丙 (B)乙丁 (C)丙丁 (D)甲丁

