

基隆市立武崙國中 105 學年度第一學期 第二次段考 九年級社會試卷—地理科

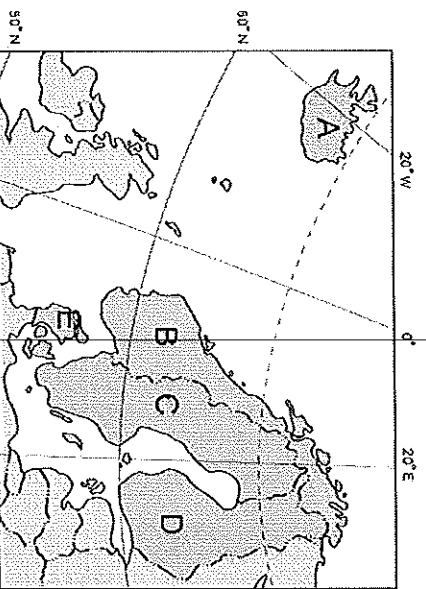
答案卷

(請使用藍、黑色原子筆作答，未依規定作答者，該題答案不計分，最多扣滿 10 分)

| | | | |
|-------------------------------|--------|--------|----|
| 班級：_____ 座號：_____ 姓名：_____ | 一、單選分數 | 二、非選分數 | 總分 |
| | | | |

二、非選擇題：10%

右圖為北歐簡圖。北歐地處高緯，冬季寒冷而漫長，農業發展受限，但北歐人民善於利用地理環境，生活水準相當高；北歐雖然距離台灣遙遠，但日常生活中，我們常會使用到北歐國家的商品。



1.請問台灣市場上「桂格奶粉」的主要原料，最有可能來自上圖中哪一個酪農業發達的國家？

答：_____ (請填代號)

2.「在湖畔的小木屋內享受高溫蒸氣，以樹枝輕輕拍打並按摩身體，然後跑出屋外躍入湖中，利用湖水冷冽的特性收縮皮膚。」請問：這種沐浴方式所需的自然條件，在上圖中哪一個國家最常見？

答：_____ (請填代號)

3.承上題，該國內的湖泊眾多，其形成原因為何？

答：_____

4.台灣國際貿易發達，VOLVO(富豪)汽車及IKEA(宜家家居)家具在市場都可以買得到。請問：上述這些知名產品是來自上圖中的哪一個國家？

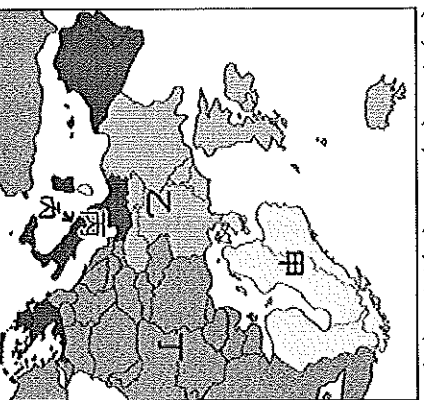
答：_____ (請填代號)

5.北歐致力於發展無線通訊技術，因此高科技產業發達。例如：挪威通訊、諾基亞等。請問：此一產業發展和北歐的自然環境之間有何關係？(請詳加敘述)

答：_____

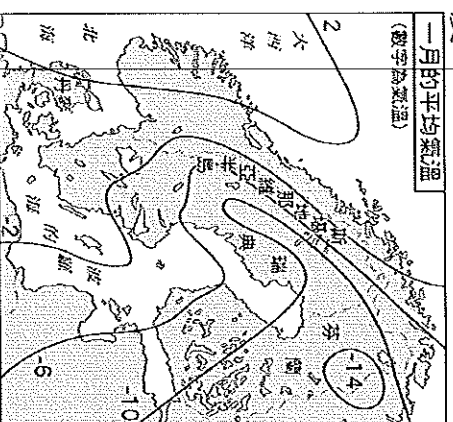
一、單選題 (每題 2 分)

- () 俄羅斯的人口大多集中在歐俄地區，西伯利亞地區人口稀少，影響此種人口分布的原因為何？
(A)時區差異 (B)氣候條件 (C)海岸性質 (D)鄰國多寡。
- () 南歐的某個國家，在時尚產業與汽車產業上表現突出，且盛產大理石，生產的法拉利跑車舉世聞名。該國指的是下列何者？ (A)希臘 (B)義大利 (C)西班牙 (D)葡萄牙。
- () 東歐的氣候東西差異大，主要受到下列哪項因素的影響？ (A)緯度高低 (B)距海遠近 (C)地勢起伏 (D)沿岸涼流經過。
- () 下列哪個西歐國家與海爭地，在有限且貧瘠的土地上，發展園藝業，成為花卉外銷王國？ (A)冰島 (B)英國 (C)荷蘭 (D)比利時。
- () 某報報導：「地中海的沙灘和燦爛的陽光、考驗鬥牛士技巧和勇氣的鬥牛比賽、充滿熱情氣息的佛朗明哥舞蹈，以及馬德里的歷史古蹟等，都是著名的觀光資源。」請問：此報導是指下列何國？
(A)葡萄牙 (B)西班牙 (C)義大利 (D)法國。
- () 俄羅斯天然資源豐富，主要的出口貨物為下列何項資源？ (A)木材 (B)農產 (C)鐵砂 (D)油氣。
- () 日前臺灣爆發不肖廠商在橄欖油中添加「銅葉綠素」調色，民眾長期食用可能造成肝、腎的負擔。柯南為了研究橄欖油的產地，上網蒐集資料，發現西班牙是世界第一大橄欖油出口國，其次則為義大利。上述的國家皆位於圖中的哪個區域？
(A)甲 (B)乙 (C)丙 (D)丁。

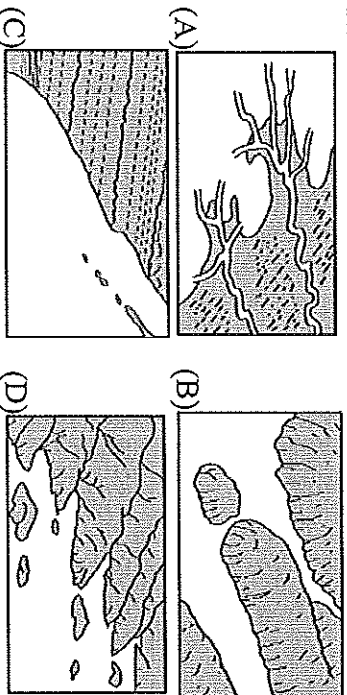


- () 若將歐洲的民族分為：拉丁、日耳曼、斯拉夫、東方民族四類，則俄羅斯主要屬於哪一族的分布區？
(A)拉丁民族 (B)日耳曼民族 (C)斯拉夫民族 (D)東方民族。
- () 近年來英國在其鄰近的哪個海域開採石油，成為新的動力來源？ (A)北極海 (B)地中海 (C)黑海 (D)北海。
- () 英國的首都橫跨於泰晤士河上，金融服務業興盛，為世界三大金融中心之一。請問：英國首都為下列何者？ (A)巴黎 (B)布魯塞爾 (C)倫敦 (D)鹿特丹。
- () 德國的工業主要集中於魯爾、薩爾和薩克森三大工業區。這三個工業區都擁有下列哪種天然資源而崛起？ (A)水力 (B)鐵礦 (C)煤礦 (D)石油。

- () 北歐地區的緯度高，其一月月均溫示。請問：影響該地區等溫線分布下列何者？ (A)信風 (B)地形 (C)洋流 (D)緯度。



- () 瑞士選擇發展精密工業，主要是因有何項條件的限制？ (A)地形崎嶇 (B)交通不便 (C)勞工缺乏 (D)市場狹小。
- () 新聞報導指出：「國際紙漿價格不成本，國內出版業者考慮調漲書籍連衛生紙廠商也打算跟進調高衛生平衡紙類的價格，避免物價波動過慮」考慮從下列哪個國家進口紙漿原料？ (A)芬蘭 (B)義大利 (C)墨西哥 (D)挪威。
- () 李小姐要前往歐洲旅行，體驗布拉格請問：她應到哪個國家去？ (A)挪威 (B)匈牙利 (C)義大利 (D)瑞士。
- () 西伯利亞的地形，由西向東依次為平原、高原、平原、高原、山地、高原 (D)山地、高原、平原水運曾是深入陸地最主要的交通方式。請問：下列哪條河流係布魯斯在地圖上，應與下列哪條河流係？ (A)萊茵河 (B)多瑙河 (C)伏爾加河 (D)多瑙河。
- () 德國地勢南高北低，河川多為南北向，多依賴中央大運河聯絡。請問：下列哪條河係德國的主要方向為何？ (A)南——北 (B)北——南 (C)東北——西南 (D)西南——東北。
- () 東歐各國加入歐盟，吸引西歐各國的優勢條件為下列何者？ (A)技術人才 (B)廉價勞工 (C)交通便利 (D)消費能率。
- () 「近年俄羅斯積極發展高科技產業事務，朝多元化發展，以解決俄羅斯經濟困境。」請問：「俄羅斯單一經濟」下列何者？ (A)肉乳產品的出口 (B)天然資源的出口 (C)天然資源的出口 (D)農產品的出口。
- () 小珠在西歐某國旅遊時，他順著多瑙河，發現該國除了首都以「音樂之都」聞名外，切工精美的「施華洛世奇」水晶設立在此國。請問：他到訪的是下列何國？ (A)德國 (B)瑞士 (C)比利時 (D)荷蘭。



23. () 「下圖中丙城市建立在海邊淺灘上，是由 188 個小島組成，長短、寬窄各異的水道，構成這個城市的街道，居民利用橋梁和貢多拉船，聯繫各島之間往來，而有『水都』之稱。」上述為哪個城市？
 (A)米蘭 (B)羅馬 (C)威尼斯 (D)佛羅倫斯。

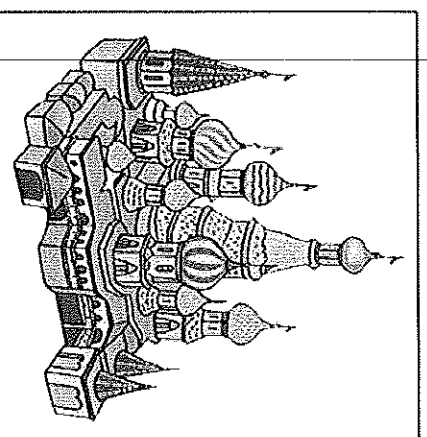


24. () 教廷境內的聖彼得大教堂是世界天主教的中心，其中的西斯汀禮拜堂還有米開朗基羅的壁畫，皆是吸引遊客到訪的重要景點。若要欣賞這些結合宗教與藝術的名家大作，應前往下圖中的哪座城市？
 (A)甲 (B)乙 (C)丙 (D)丁。



25. () 「北歐某國四面環海有利漁業發展，西元 2009 年該國受經濟危機重創首度申請加入歐盟，但考慮到漁業在該國經濟占重要地位，加入歐盟將使漁業發展受限，該國於西元 2015 年撤銷申請加入歐洲聯盟。」請問：該國為下列何者？ (A)挪威 (B)瑞典 (C)芬蘭 (D)冰島。
26. () 捷克在共黨解體後，吸引了許多外國廠商前往該地設廠。因為該地早期以何種工業為發展重心，工業基礎相當紮實？ (A)汽車工業 (B)資訊工業 (C)軍火工業 (D)紡織工業。
27. () 中國東南沿海一帶的台灣式海岸利於港口興建，自古居民即向海外發展。歐洲哪個地區也有類似的海岸地形，因而當地的航運十分發達？ (A)北歐斯堪地那維亞半島 (B)西歐大西洋沿岸 (C)南歐亞得里亞海沿岸 (D)南歐巴爾幹半島東南側沿海。
28. () 小悠暑假時到法國自助旅行，並在部落格中列出每天的行程，下列何項最不可能出現在她的部落格中？ (A)漫步巴黎街頭，欣賞精品店中的服飾與皮包 (B)坐在馬賽海邊，看著地中海上的船舶來來回回 (C)在塞納河畔喝咖啡，順便欣賞日不落的美景 (D)搭乘「歐洲之星」，穿越英吉利海峽來趟英法兩國遊。

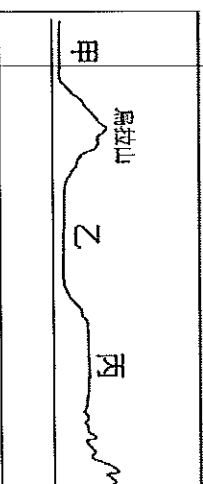
- (A)印度教 (B)天主教 (C)希臘正教。



30. () 電影「媽媽咪呀」的場景充滿藍色圈，波光粼粼的海洋、藍白耀眼的有力的音樂與舞蹈，讓人充分感受電影欲拍攝出最真實的畫面，應到島嶼上出外景？ (A)愛琴海 (B)極海 (D)波羅的海。

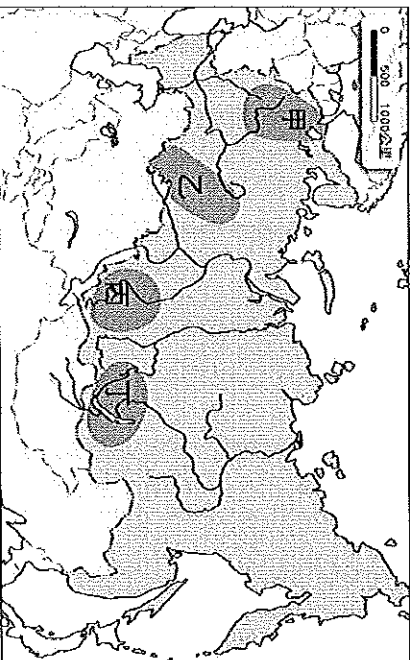
31. () 下列有關俄羅斯的地理環境描述，(A)北臨北極海，南與西亞諸國相銜，歐俄平原為其人口集中區大，跨越熱帶、溫帶、寒帶地區業區外，其餘三個工業區皆在亞洲
32. () 法國南部的蔚藍海岸氣候宜人，在常常可以見到大批遊客在海灘上做此地的氣候類型為下列何者？ (A)溫帶海洋性氣候 (B)溫帶大陸帶地中海型氣候。

33. () 下圖為俄羅斯地形剖面圖。請問：哪個區域？ (A)甲 (B)乙 (C)丙



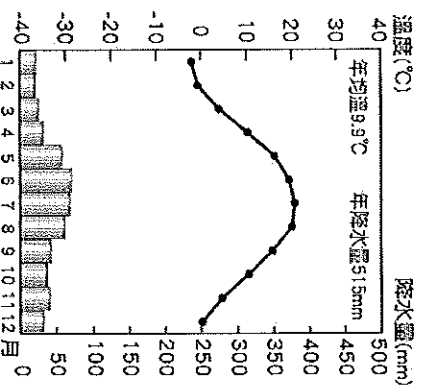
34. () 北歐各國極為重視社會福利，號稱「全程照顧」。但預計未來的財政負擔因和下列哪項趨勢最為相關？ (A)少子化 (B)少子化 (C)死亡率高 (D)性別
35. () 在西元 2011 年以前，NOKIA 是世造商，為母國創造五分之一的出口智慧型手機銷售量不佳，不僅把王斷裁員。NOKIA 的發展危機對下列響最直接？ (A)冰島 (B)挪威

36. () 往來英國與法國除了海運與空運外，歐洲之星列車，穿越英法海底隧道之間的時空距離。請問：英法海底海峽？ (A)直布羅陀海峽 (B)英海峽 (C)博斯普魯斯海峽 (D)達達尼爾
37. () 交通運輸改善後，南歐地區成為西果、花卉等農產的供應地，這是因洲具有下列哪項環境優勢，利於農 (A)雨量豐富 (B)生長季長 (C)平壤肥沃。



39. () 俄羅斯在西伯利亞地區有多條河川，如鄂畢河、葉尼塞河與勒那河等，皆缺乏航運價值，其可能的原因可能為下列何者？(甲)冰封期太長 (乙)出口流向不佳 (丙)河流長度太短 (丁)泥沙淤積太嚴重
(A)甲乙 (B)甲丙 (C)乙丙 (D)丙丁。

40. () 下圖為歐洲某地氣候圖。由圖中的氣候特徵判斷，下列何者是影響該地氣候的最大因素？ (A)距海較遠 (B)暖流流經 (C)涼流流經 (D)副熱帶高氣壓籠罩。



41. () 黑土帶是世界上重要的糧食生產帶，其主要的分布地區除了北美、南美、中國東北外，歐洲也有廣大的黑土，下列哪個國家的農業發展便與黑土關係最密切？ (A)法國 (B)西班牙 (C)匈牙利 (D)烏克蘭。

42. () 下列哪個國家以樂高積木、樂高樂園聞名，酪農業發達，又有「歐洲牧場」之稱？ (A)冰島 (B)挪威 (C)瑞典 (D)丹麥。

43. () 希臘的帕德嫩神廟雖在戰火中受損，但仍能看出興建當時的典雅，這座神廟的基座是利用當地的石材，以石材來看主要屬於哪種岩質？ (A)石灰岩 (B)花崗岩 (C)玄武岩 (D)石英砂岩。

44. () 近年來出現某種建築形式——漂浮屋，此種住屋能隨著水位上升，房屋亦跟著上升，等到河水消退後，房屋又會返回原位。請問：為因應全球暖化、海平面上升等問題，下列哪個國家最有急迫需要實施漂浮屋計畫？ (A)法國 (B)英國 (C)荷蘭 (D)德國。

45. () 東歐因多戰亂，被稱為「政治破碎帶」；西亞則因長期的政治紛爭，使「中東問題」常成為國際各大媒體的頭條新聞。請問：這兩個地區的問題，其共同的地理背景最可能是下列何者？ (A)氣候惡劣 (B)缺乏水源 (C)富產石油 (D)民族與宗教複雜。

(選擇題結束，記得還有非選擇題喔！)