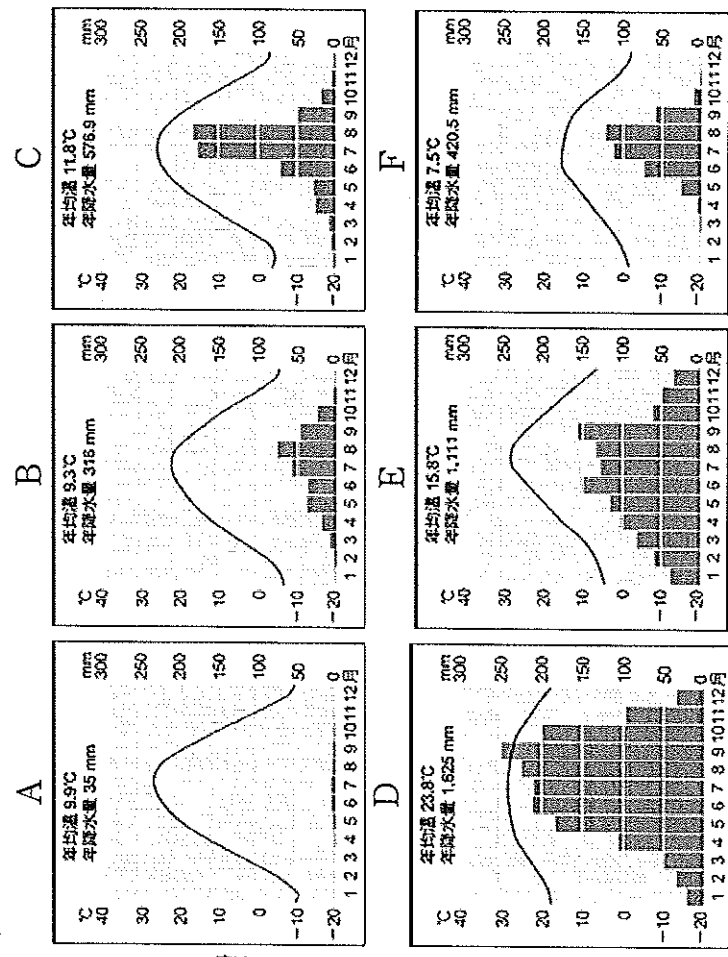
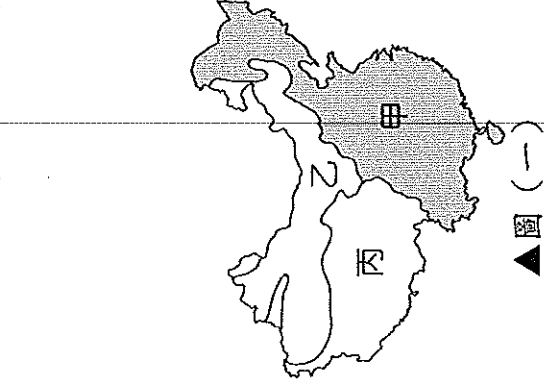


班級：	單選題得分	非選擇題得分	總分
座號：			
姓名：			

◆第二大題：非選擇題，共3題，合計6分。(請以黑色或藍色原子筆書寫，違者不予計分)

※中國幅員廣大，各地氣候特徵互異。圖(一)為中國三大氣候類型的空間分布，A~F分別為中國六個都市的氣候圖，請根據附圖回答下列問題：



1. 請問：圖(一)中「甲」、「乙」兩氣候類型界線所代表的意義為何？

答：_____ (1分，分類依據及數值)

2. 請判斷A~F六個都市分別屬於圖(一)何種氣候類型，並將都市代號填入下方表格中。(每格1分，全對才給分)

氣候類型	「甲」氣候	「乙」氣候	「丙」氣候
都市代號			

3. 中國居民為了適應各地氣候，發展出不同的生活方式。請問：「乙」氣候區的居民生活方式有何特徵？其原因為何？(可由衣食住行等面向舉1例說明)(每格1分)

	特徵	原因
舉例： 「丙」氣候區	以犛牛為主要的交通工具	犛牛豐富的毛皮有利在高寒低溫的環境生活
「乙」氣候區		

基隆市立武崙國民中學一〇五學年度第一學期第二次段考八年級地理科試題卷

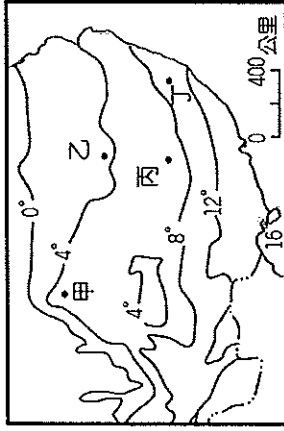
注意事項：

本份試卷共兩大題。第一大題：單選題，每題2分，共47題，合計94分；第二大題：非選擇題，合計6分。總分100分。請用2B鉛筆依題號於答案卡上畫記，答案卡上的資料欄請確實填寫，若資料欄畫記錯誤導致電腦無法正確判讀，扣總分10分。

班級：八年 班 座號： 姓名：

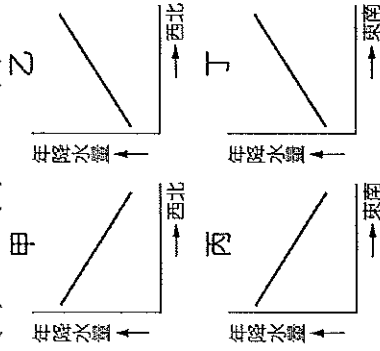
第一大題：單選題

- () 1. 中國以溫帶氣候類型所占的面積最為廣大，這種氣候現象的分布和下列何者關連性最大？ (A)面積廣大 (B)位居中緯 (C)地形平坦 (D)季風吹拂。
- () 2. 附圖是中國某地區的等溫線圖，根據圖中資料判斷，圖中哪一地點的氣溫最低？(A)甲 (B)乙 (C)丙 (D)丁。




- () 3. 受到距海遠近、季風風向等因素影響，中國降水的空間分布特徵最適用下列哪些圖來表示？

(A)甲 (B)乙 (C)丙 (D)丁。



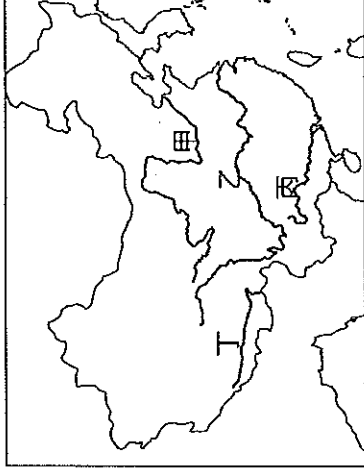
- () 4. 中國地區的夏季普遍高溫，其中以「盆地」尤甚，像是吐魯番窪地、四川盆地等都在夏季時異常炎熱。造成上述現象的主要因素為何？ (A)地形封閉 (B)距海遙遠 (C)地勢崎嶇 (D)降水量較多。
- () 5. 中國由於於所在位置的關係，形成夏雨冬乾的季風氣候。然而下列哪一個地區，冬季時亦會出現降雨的現象，又被稱為季風冬雨區？ (A)廣東西南部 (B)長白山東部 (C)海南島東北部 (D)山東半島東南部。
- () 6. 中國南部地區常見到千欄式建築及騎樓，形成當地的聚落特色。這種建築特色和當地何種氣候現象的關係最大？ (A)年均溫高 (B)多雨潮溼 (C)風向多變 (D)日照較長。
- () 7. 附圖為中國季風氣候類型的分界線圖。請問：圖中的分類準則為何？ (A)最暖月均溫 (B)最冷月均溫 (C)年均溫 (D)年溫差。



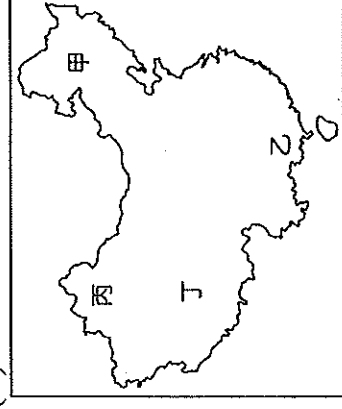
- () 8. 若將中國百萬人以上的大都市以紅點標示在中國地圖上，則下列哪個地區內的紅點數會最少？ (A)塔里木盆地 (B)東北平原 (C)珠江三角洲 (D)浙閩丘陵。

- () 9. 附圖為中國主要河川分布圖。請問：圖中哪條河川的流域經過高地、乾燥及季風三種類型的氣候區？

(A)甲 (B)乙 (C)丙 (D)丁。



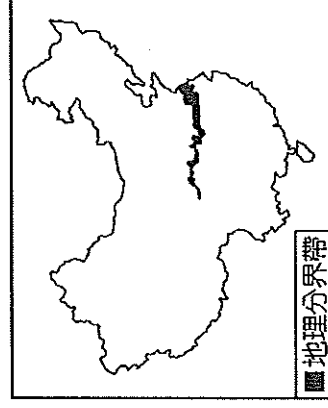
- () 10. 下列哪些原因造成中國人口分布集中於東半部？ (甲)地形平坦 (乙)氣候乾燥 (丙)交通便利 (丁)經濟發達 (A)甲乙丙 (B)甲乙丁 (C)甲丙丁 (D)乙丙丁。
- () 11. 中國各地的溫差受到距海遠近和緯度的影響。附圖中哪一個地方的年溫差及日溫差最小？ (A)甲 (B)乙 (C)丙 (D)丁。



- () 12. 附圖為中國六大區域的畫分圖。請問：附圖中何處的環境負載力較大，人口較為稠密？ (A)甲 (B)乙 (C)丙 (D)丁。

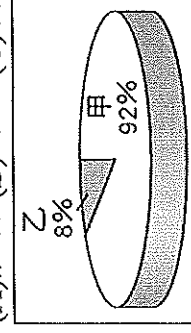


- () 13. 附圖為中國某學者根據自然和人文的綜合數據，繪製的重要地理分界帶。此分界帶大致為下列何種現象的過渡區？ (A)產業：農業區與畜牧區 (B)水文：內流區與外流區 (C)氣候：溫帶季風與副熱帶季風 (D)地形：第二級階梯與第三級階梯。



() 14. 附圖為中國人口的民族組成比例。其中「甲」族群主要集中在東南半壁的季風氣候區，自古多從事農業活動。請問：該族群最可能為下列何者？

(A) 壯族 (B) 滿族 (C) 漢族 (D) 蒙古族。



() 15. 秦嶺、淮河為中國境內重要的地理分界線，素有「南船北馬」及「南稻北麥」的分布特色。附表中哪一個地區位於秦嶺、淮河以北，居民以麵食為主？

(A) 甲 (B) 乙 (C) 丙 (D) 丁。

地區	年雨量 (mm)	一月均溫 (°C)	七月均溫 (°C)
甲	19	-8.1	33.2
乙	683	-5.0	25.4
丙	1,223	3.5	28.8
丁	2,290	20.4	28.0

() 16. 附表為中國兩個城市的氣候資料，請問：下列有關這兩個城市的敘述，何者正確？

(A) 哈爾濱的緯度位置較低 (B) 上海的年溫差較大
(C) 哈爾濱位於溫帶氣候區 (D) 上海為熱帶季風氣候。

城市	哈爾濱		上海	
氣候資料	月均溫	雨量	月均溫	雨量
1月	-19.2	3.1	3.1	39.4
2月	-15.6	5.0	4.4	59.0
3月	-4.2	10.6	8.5	81.9
4月	6.2	22.0	14.2	102.4
5月	14.6	38.0	19.2	106.3
6月	20.0	74.5	23.4	152.2
7月	22.7	155.5	27.8	127.9
8月	20.8	94.4	27.7	133.1
9月	14.3	55.9	23.6	155.5
10月	5.3	26.6	18.3	63.3
11月	-5.7	6.5	12.3	53.7
12月	-15.8	5.2	6.1	35.1
年均溫 (°C)	3.6		15.8	
年雨量 (mm)	497.8		1,109.8	

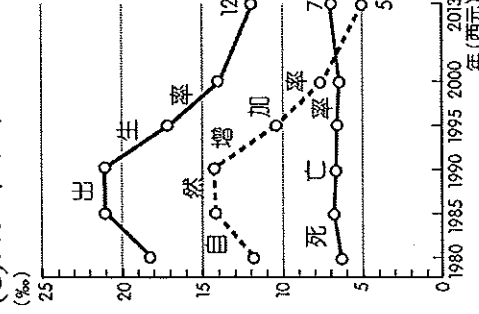
() 17. 中國實施一胎化政策造成人口金字塔圖出現明顯的變化，而其所造成的影響不包括下列何者？

(A) 性別比上升 (B) 未來勞動人口短缺
(C) 城鄉人口分布不均 (D) 出現人口高齡化現象。
() 18. 附圖為中國某季節的氣溫分布圖，若依圖中資料加以判斷，氣溫最低的地區主要受下列何項因素的影響？
(A) 緯度 (B) 距海遠近 (C) 盛行風向 (D) 地形。



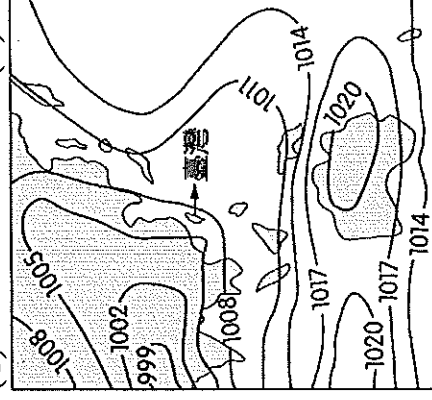
() 19. 附圖為中國近年來的人口出生率、死亡率、自然增加率統計圖。請問：由圖中資料判斷，下列相關敘述，何者正確？

(A) 出生率下降、人口增加 (B) 死亡率下降、人口增加
(C) 出生率下降、人口減少 (D) 死亡率上升、人口減少。

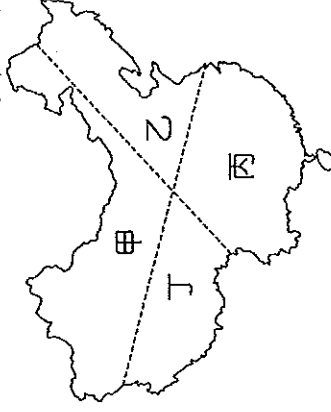


() 20. 中國的氣候受到海陸性質的影響，形成季節性的差異。附圖為某時間的地面天氣圖。請問：此時北京盛行的風向及性質為何？

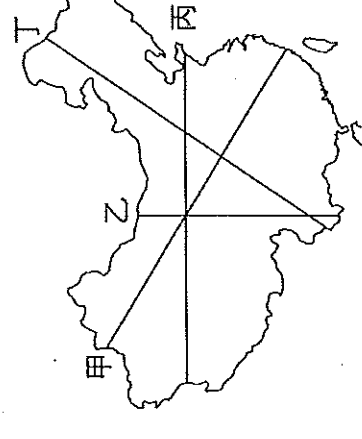
(A) 西北風；乾燥氣流 (B) 東南風；乾燥氣流
(C) 西南風；溼潤氣流 (D) 東南風；溼潤氣流。



() 21. 空心菜是家庭常食用的蔬菜，原產於中國，性喜溫暖溼潤，可耐澇、耐熱，但不耐寒，最適合的生長溫度為 15°C 至 40°C。從氣候條件分析，附圖中哪一區域最適合栽種空心菜？ (A) 甲 (B) 乙 (C) 丙 (D) 丁。



() 22. 中國人口分布不均，附圖中哪條線可做為中國人口分布密集與稀疏的主要分界？ (A) 甲 (B) 乙 (C) 丙 (D) 丁。

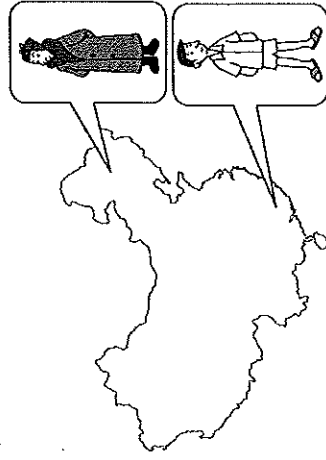


() 23. 2008 年春節期間華南發生雪災，造成交通大亂，返鄉過節旅客受阻，來自內陸的上百萬民工滯留廣州火車站，無法順利回家。此一現象，最能反映中國的哪項人口問題？ (A) 人口數量過多 (B) 流動人口龐大 (C) 人口素質較低 (D) 人口結構失衡。

() 24. 附圖為中國疆域。請問：圖中甲地冬、夏季風向分別為何？ (A) 冬：↑，夏：↓ (B) 冬：↘，夏：↖ (C) 冬：↓，夏：↑ (D) 冬：↘，夏：↖。



() 25. 冬季時，中國各地的服裝穿著有很大的差異，南部的居民穿著短袖，北部的居民卻必須穿戴暖厚的大衣，如附圖所示。請問：此種現象的形成，與下列哪項因素最為相關？ (A) 地勢高低 (B) 緯度差異 (C) 經度差異 (D) 雨量多寡。



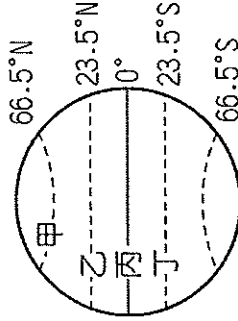
() 26. 「南船北馬」是中國昔日的交通特色。請問：中國北方水運較不發達的原因，與下列何者較不相關？ (A) 河川坡陡流急 (B) 年雨量變率大 (C) 河川冬季易結冰 (D) 河川水位不穩。

() 27. 附圖中哪一地區因氣候乾燥，年、日溫差均大，人口多集中於綠洲附近，造成人口分布不均，影響聚落及產業發展甚鉅？ (A) 甲 (B) 乙 (C) 丙 (D) 丁。



() 28. 下列哪些現象為現今中國的人口問題？ (甲) 高齡化 (乙) 性別比失衡 (丙) 勞動力缺乏 (丁) 人口素質低 (A) 甲乙丙 (B) 甲乙丁 (C) 甲丙丁 (D) 乙丙丁。

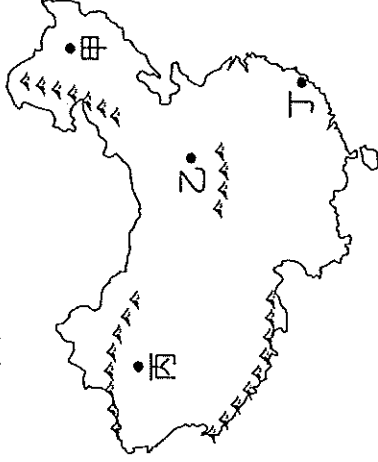
() 29. 中國南北各地的氣溫差異隨著季節變化而有所不同，當陽光直射附圖中哪一條緯線時，哈爾濱和廣州間的氣溫差距最大？ (A) 甲 (B) 乙 (C) 丙 (D) 丁。



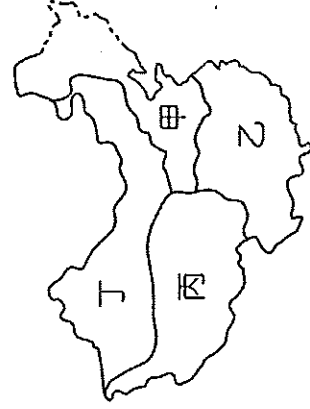
() 30. 影響中國氣候的因素有：(甲) 緯度 (乙) 季風 (丙) 地形 (丁) 距海遠近。請問：中國年降水量的分布受到哪些因素的影響較大？ (A) 甲乙丙 (B) 甲乙丁 (C) 甲丙丁 (D) 乙丙丁。

() 31. 人口平均素質偏低是中國在發展經濟、提升國力時所遇到的阻礙之一，為改善此種狀況，從下列何項著手，是最直接且有效的方法？ (A) 設立特別行政區 (B) 推行一胎化政策 (C) 強調性別平等 (D) 普及國民教育。

() 32. 曉明想要進行中國水文特性的調查，請問：在附圖中哪一個地區最可能蒐集到內流河的相關特性資料？ (A) 甲 (B) 乙 (C) 丙 (D) 丁。



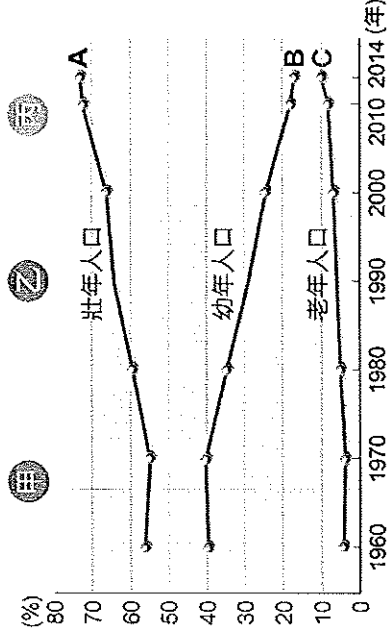
() 33. 小丸子到中國某地旅行，出發前花輪特別叮嚀：那裡的氣候冬天冷、夏天涼；通常白天的氣溫會讓人覺得熱，但是晚上卻又直線下降，務必要多帶外衣禦寒。請問：小丸子的旅遊地點在附圖中的何處？ (A) 甲 (B) 乙 (C) 丙 (D) 丁。



() 34. 中國境內的氣候多以秦嶺及淮河作為分界線，請問：下列有關中國以秦嶺、淮河為分界線的氣候特色的敘述，何者有誤？ (A) 甲 (B) 乙 (C) 丙 (D) 丁。

項目	(甲) 年雨量	(乙) 氣候類型	(丙) 交通	(丁) 作物
秦嶺淮河以北	< 500mm	溫帶季風氣候	陸運為主	小麥為主
秦嶺淮河以南	> 500mm	副熱帶季風氣候	水運為主	稻米為主


() 35. 中國在不同時期因應人口問題訂定人口政策，請問一胎化政策是為了解決附圖中哪個階段的問題？ (A) 甲 (B) 乙 (C) 丙。



- () 36. 附表是小龍蒐集部分國家 2010 年的人口資料。請問：觀察附表最下方一系列的數據，甲國明顯大於其他國家，推論其原因，下列何者最合理？ (A) 醫療條件較為優越 (B) 移入率大於移出率 (C) 施行獎勵生育政策 (D) 人口總數較為龐大。

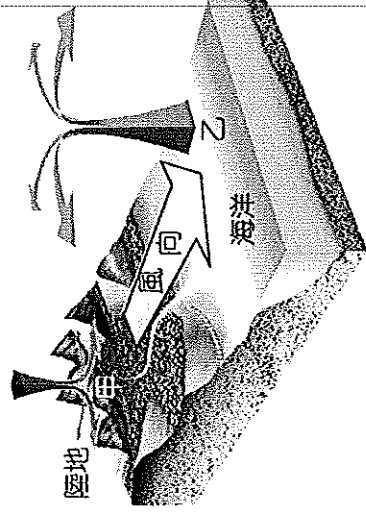
國家	項目	甲	乙	丙	丁
	出生率 (‰)	12.2	13.8	17.3	29.4
	死亡率 (‰)	6.9	8.4	6.0	4.9
	人口增加率 (%)	5.7	8.6	11.3	24.0
	增加人口數 (千人)	6,650	2,474	985	712

- () 37. 山脈的走向若與風向垂直，則容易形成氣候上的障壁。中國東半部以哪種走向的山脈為主，阻擋來自海洋的夏季暖溼氣流，所以迎風坡溼潤多雨，背風坡乾燥少雨？



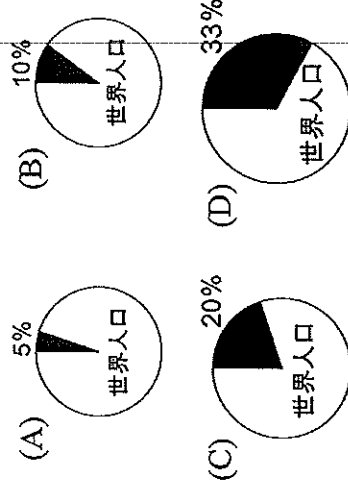
- () 38. 附圖為某季節氣壓及風向示意圖，請問：依圖中資料判斷，甲、乙所代表的氣壓現象分別為何？

(A) 甲—高氣壓；乙—低氣壓 (B) 甲—低氣壓；乙—高氣壓 (C) 甲—高氣壓；乙—高氣壓 (D) 甲—低氣壓；乙—低氣壓。



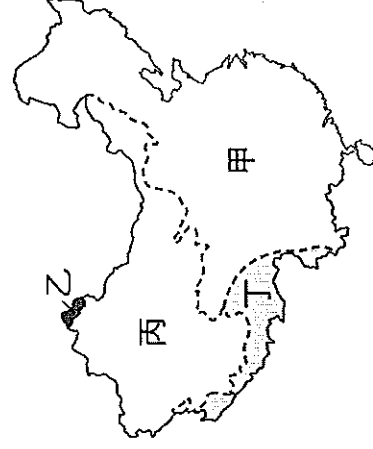
- ※中國總人口在西元 2010 年已經超過 13 億，是全世界人口最多的國家。請問：

- () 39. 若以黑色部分標示中國人口所占的比例，則下列哪一張圖最接近現實狀況？



- () 40. 中國有全世界最龐大的人口數量，此種人文特性為中國經濟發展提供哪些優越的條件？ (A) 原料、市場 (B) 資金、勞工 (C) 原料、動力 (D) 勞工、市場。

※附圖為中國水系分布圖。請問：



- () 41. 中國湖泊依其含鹽度的高低可分為淡水湖及鹹水湖兩大類，其中鹽鹼質豐富的鹹水湖主要分布於附圖中的哪一區？ (A) 甲 (B) 乙 (C) 丙 (D) 丁。

- () 42. 附圖「甲」水文區中，不包括下列哪一條河川？ (A) 珠江 (B) 黑龍江 (C) 黃河 (D) 雅魯藏布江。

※中國的民族種類相當眾多，形成各不相同的聚落特色。請問：

- () 43. 中國由於少數民族的特性不同，而設立不同的行政區。目前因少數民族聚居而設立的行政區為下列何者？ (A) 特別行政區 (B) 省 (C) 直轄市 (D) 自治區。

- () 44. 雲貴高原與橫斷山脈一帶，為中國少數民族分布最多的地區，主要是由於下列何項因素？ (A) 地形崎嶇 (B) 宗教信仰 (C) 鄰國眾多 (D) 氣候複雜。

- () 45. 承上題，除了雲南地區，中國何處因地處邊疆，少數民族亦多元且複雜？ (A) 新疆 (B) 西藏 (C) 內蒙古 (D) 寧夏。

- () 46. 「朝穿皮襖午穿紗，抱著火爐吃西瓜」，上文用來形容中國哪個少數民族最貼切？ (A) 維吾爾族 (B) 藏族 (C) 滿族 (D) 苗族。

- () 47. 中國的少數民族因生活環境的不同，而有不同的生活方式。附圖的這種居住型態為哪一個民族的住屋特色？ (A) 蒙古族 (B) 壯族 (C) 滿族 (D) 苗族。

