

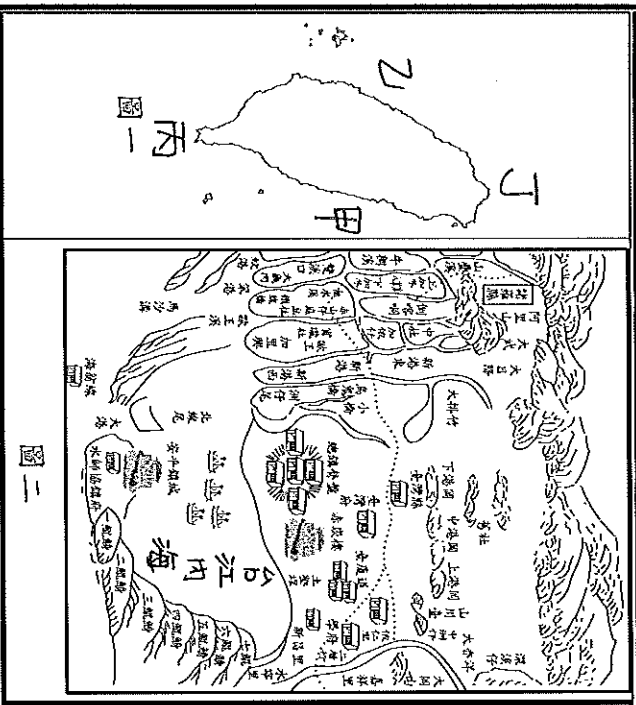
基隆市立武崙國民中學一0五學年度第一學期第二次段考七年級地理科試題卷

<本試卷分為兩部分，第一部分為30題選擇題，共3頁；第二部分為10題非選擇題，共1頁>

班級： 姓名： 座號：

第一部分選擇題：(1~30題，每題3分，共90分)

『寶島臺灣旅遊團』企劃一系列臺灣海岸觀光之旅。請參考下圖一、圖二回答第1~12題：



圖二

- () 1. 玉珍對旅遊團文宣非常感興趣，因此決定購買此行程，請問下文描述的是圖一哪一段海岸？
- 上午帶您前往岬角欣賞薑石、風化窗、海蝕柱等奇岩怪石，午餐前往漁港品嚐肥美秋蟹，傍晚來到山邊感受落日照射海灣的唯美景象。

(A)甲 (B)乙 (C)丙 (D)丁

- () 2. 請問下表哪一個產品是針對圖一**丙海岸**所規劃？

(A)	遊瀉湖、爬鹽山、嘗鮮蚵
(B)	體驗高山深海相臨的斷崖美景
(C)	享受陽光、浮潛於珊瑚礁岩旁
(D)	搭乘竹筏前往有移動國土之稱的外傘頂洲，體驗湖起潮落

- () 3. 此行程會帶團員站在中央山脈的海崖上眺望深深湛藍的太平洋，感受斷層作用塑造的美景，請問這是針對圖一

哪一段海岸所規劃？

(A)甲 (B)乙 (C)丙 (D)丁

- () 4. 旅行團今年冬季推出國家公園體驗之旅，圖二宣傳海報是早期臺灣在圖一哪一段海岸的地圖？

(A)甲 (B)乙 (C)丙 (D)丁

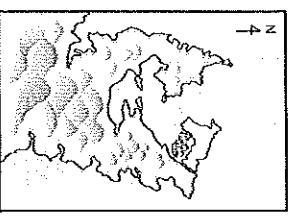
- () 5. 圖二可見『鯤鯨』等地名，請問此為哪一種地形？(A)珊瑚礁 (B)礫石堆 (C)瀉湖 (D)沙洲

- () 6. 圖二中有一地區名『台江內海』，比對現今地圖已經消失，請問此為哪一種地形？(A)瀉湖 (B)沙洲 (C)埤塘 (D)魚塢

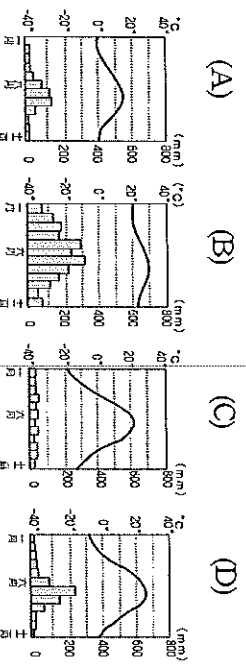
- () 7. 承第4題，冬季推出的此項行程，參與的團員最可能遇到哪項天氣災害？(A)颱風 (B)梅雨 (C)寒流 (D)冰雹

- () 8. 旅行團企劃小組針對右圖進行探訪，請問此區海岸『不』具有哪些特色？

- (A)眾多良港
(B)海岸線曲折
(C)魚塢、鹽田廣布
(D)航運、捕撈業發達



- () 9. 下列為旅遊團收到的四座小島氣候圖，若想要舉辦碧海藍天的珊瑚礁小島浪漫婚禮，需要針對哪一座小島進行行程規劃？



- () 10. 承第 9 題，請問這座小島最有可能是台灣哪一座離島？(A)金門島 (B)基隆嶼 (C)龜山島 (D)東沙島

- () 11. 旅遊團的『賀新春！金馬報喜』旅程中，領隊帶領團員前往金門和馬祖進行為期一週的深入之旅，請問團員最不可能經歷下列哪項體驗？

(A) 在金門看到對岸中國大陸的都市
廈門 (B) 兩座島嶼都是中國東南沿海丘陵被海水淹沒所形成 (C) 東北季風呼嘯吹襲，需要攜帶防風衣物 (D) 冬季體驗海底溫泉並品嚐飛魚料理搭配高粱酒

- () 12. 育心想參訪硇砧

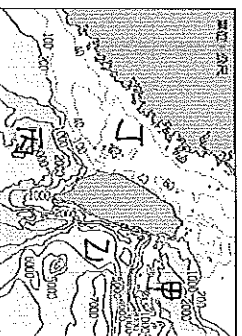
石砌建的房舍



並欣賞如右圖的柱狀玄武岩，請問他需要參考哪一座島嶼的行程？(A)澎湖群島 (B)基隆嶼 (C)東沙島 (D)烏坵

- () 13. 請問臺灣哪一處海域大陸棚較廣大？

(A) 甲 (B) 乙
(C) 丙 (D) 丁



- () 14. 承第 13 題，請問大陸棚的資源包括下列哪幾項？(甲)石油 (乙)天然氣

(丙)觀光資源 (丁)漁業資源

(A) 甲、乙、丙 (B) 甲、乙、丁
(C) 甲、丙、丁 (D) 乙、丙、丁

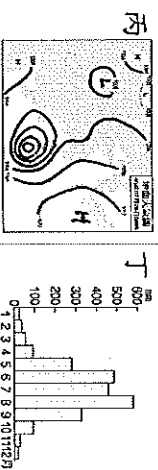
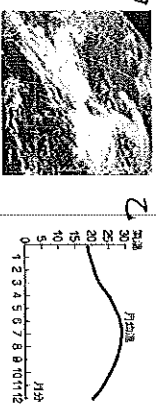
- () 15. 請問夏季與冬季季風的示意圖分別為下列何者 (箭頭為風向)？

(甲) (乙) (丙) (丁)


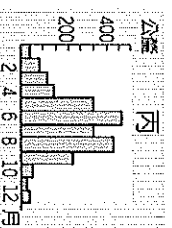
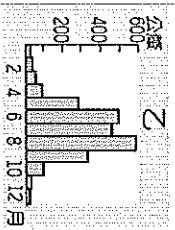



(A) 夏季-甲、冬季-丙
(B) 夏季-丙、冬季-甲
(C) 夏季-丁、冬季-乙
(D) 夏季-乙、冬季-丁

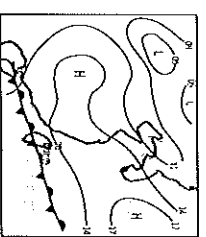
- () 16. 如果要了解某地當天的天氣，下列哪兩圖的資料最能夠快速說明？



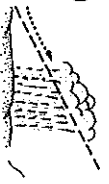


- (A) 甲、乙 (B) 甲、丙
(C) 乙、丙 (D) 乙、丁
- () 17. 請問附圖中甲、乙、丙、丁分別是臺灣哪個區域的雨量圖？



- (A) 北部、南部、中部、東部 (B) 南部、北部、中部、東部 (C) 中部、南部、北部、東部 (D) 東部、南部、中部、北部
- () 18. 根據地面天氣圖，請問這一天的前後，臺灣最可能出現哪種氣象災害？
- (A) 寒害 (B) 風災
(C) 淹水 (D) 乾旱
- () 19. 承第 18 題請問此時台灣的降雨類型為何？



- (A)  (B) 
(C)  (D) 此時晴朗無雨

() 20. 天氣的狀況由各種要素所組成，下列各要素的敘述中，何者正確？

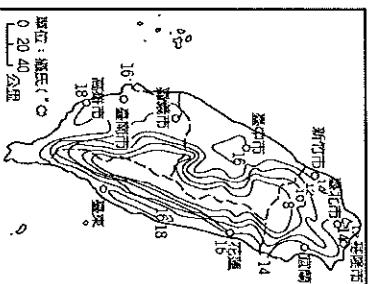
(A) 風是指空氣的垂直流動情形，風速的單位為m/s或km/hr

(B) 氣壓是指地表單位面積所承載的空氣重量，通常用 Kg 為度量單位

(C) 降水量是指降水的多寡，包含雨、雪、冰雹，通常以 cm 為度量單位

(D) 氣溫是指大氣的溫度，通常用 °C 為度量單位。

() 21. 右圖為臺灣一月等溫線分布圖，請問此圖能顯示臺灣哪些氣候上的特色？ (A) 山區降水量多於平地 (B) 受地形影響，北部均溫低於南部 (C) 全台普遍高溫，山區除外 (D) 受緯度影響，南部均溫高於北部。



() 22. 下列關於颱風的敘述何者錯誤？

(A) 發源自熱帶海洋

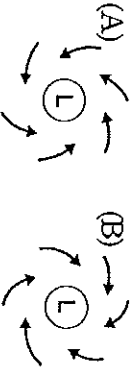
(B) 為熱帶性低氣壓

(C) 春夏之際侵襲臺灣的頻率較高

(D) 臺灣位處西北太平洋颱風路徑上

() 23. 臺灣西南沿海過去曬鹽業發達，除了受沿海地形影響外，還與當地哪一項氣候特徵有關？ (A) 冬季乾燥少雨 (B) 夏季日照時間長 (C) 全年平均氣溫較高 (D) 高壓籠罩水汽較少

() 24. 請問下列何者為北半球颱風示意圖？



() 25. 影響臺灣降雨空間分布不均的主要原因為下列哪兩項？

(A) 地形、緯度 (B) 地形、季風

(C) 季風、緯度 (D) 季風、距海遠近

() 26. 關於下表的比較何者錯誤？

型態	(A) 滯留鋒形成的	(B) 地形雨	(C) 對流雨	(D) 颱風雨
主要發生意時間	春夏之交	冬、夏	夏季午後	夏季之
特徵	雨時區廣，又稱梅雨	迎風坡多雨，背風坡少雨	雨勢大且雨時長	強風豪雨，成災

() 27. 臺灣較容易發生乾旱的時間及地點為下列何者？ (A) 冬、春，西南部 (B) 春、夏，西南部 (C) 冬、春，東南部 (D) 夏、秋，東北部

() 28. 圖三虛線所代表的

是哪條

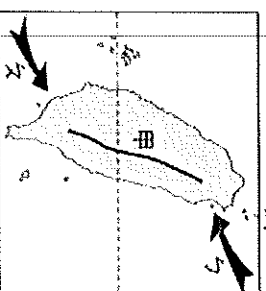
經緯線？

(A) 赤道

(B) 北極圈

(C) 北回歸線

(D) 本初經線

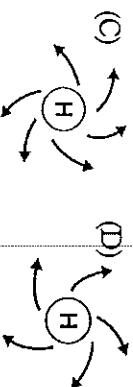


() 29. 圖三甲區屬於哪種氣候類型？

(A) 溫帶草原氣候 (B) 副熱帶季風氣候

(C) 熱帶季風氣候 (D) 副熱帶乾燥氣候

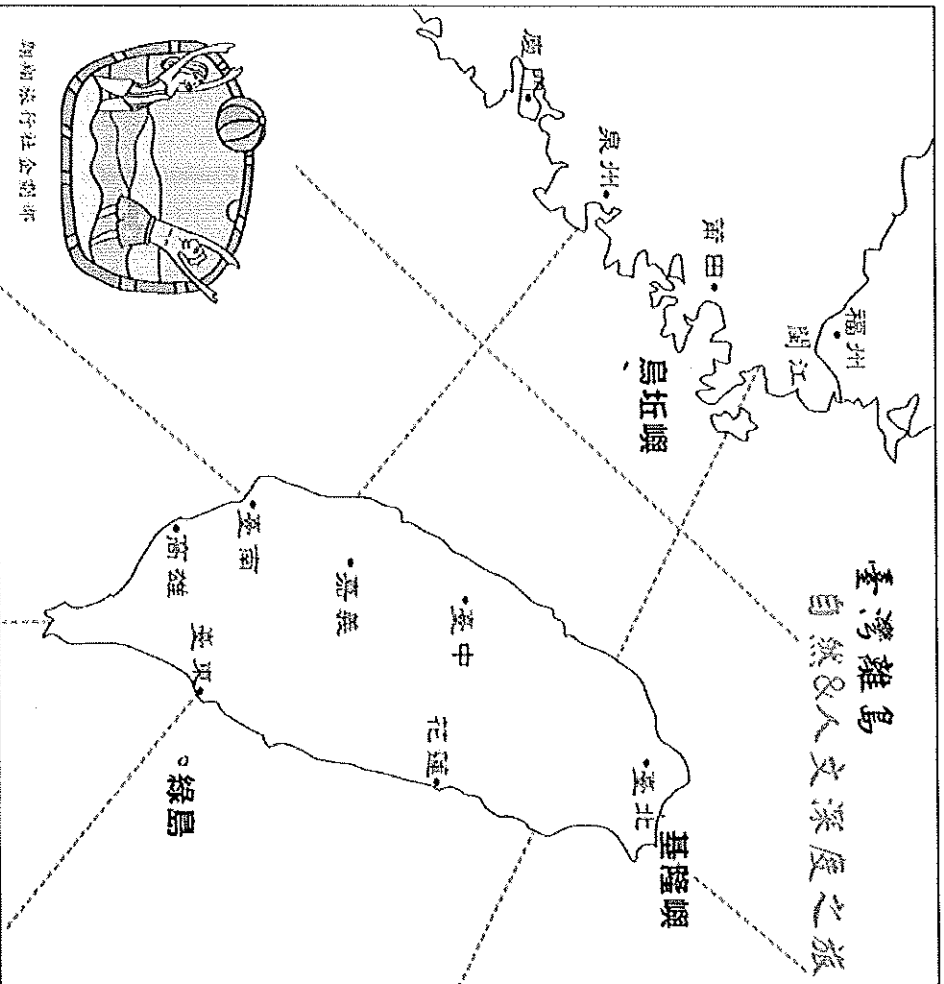
() 30. 圖三的乙是哪個季節的盛行風，請問其風向為何？ (A) 夏、東北風 (B) 冬、東北風 (C) 冬、西南風 (D) 夏、西南風



基隆市立武崙國民中學一0五學年度第一學期第二次段考七年級地理科答案卷

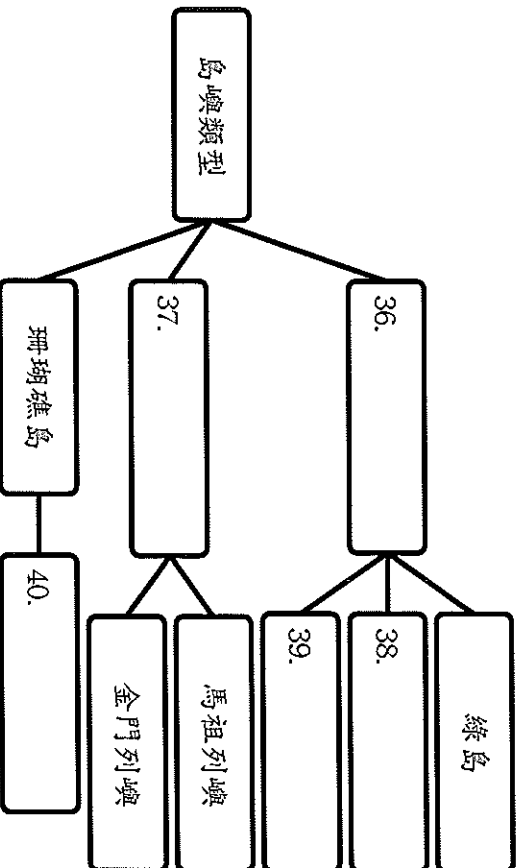
寶島臺灣旅遊團今年安排一系列「臺灣離島自然&人文深度之旅」，身為團員的你負責海報繪製，

請你協助規劃及釐清 31~40 題：(1 個答案 1 分，共 10 分)



- (一) 離島之旅的行程包含：31.金門列嶼
32.馬祖列嶼
33.澎湖群島
34.蘭嶼
35.琉球嶼
- 以左圖的烏坵嶼為例，請您將上述島嶼的位置以△字號標記於左方海報並寫上島嶼全名。每個島嶼位置與名稱均正確才得分。
- 回注意：圖上網格為方便位置判斷所設，切莫將島嶼繪製於隔線上，若有此狀況一律不予記分。

(二) 請將第一題題目中的島嶼依據形成的原因(島嶼類型)加以分類並完成下表。



班級：	選擇題得分 (90%)	非選擇題得分 (10%)	總得分 (100%)
座號：			
姓名：			