

# 基隆市立武崙國民中學一〇五學年度第一學期第三次段考九年級地理科試題卷

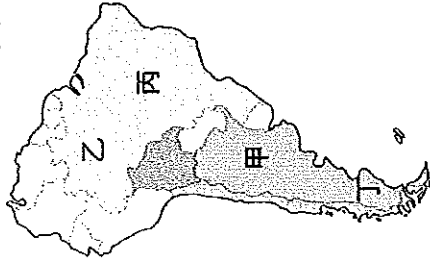
注意事項：

1. 共 50 題，每題 2 分。請用 2B 鉛筆依題號於答案卡上畫記。
2. 答案卡上的資料欄請確實填寫，若資料欄畫記錯誤導致電腦無法正確判讀，扣總分 10 分。

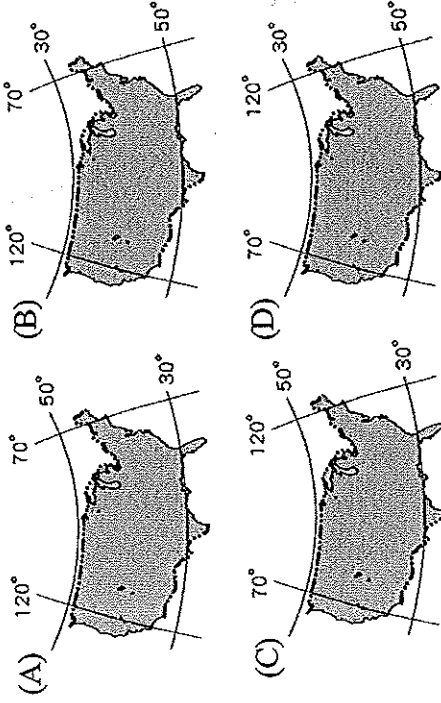
班級：九年 班座號： 姓名：

- ( ) 1. 若以文化特色區分，美洲可分為「盎格魯美洲」與「拉丁美洲」，下列哪些國家位於盎格魯美洲？  
 (甲)美國 (乙)巴西 (丙)墨西哥 (丁)加拿大  
 (A)甲乙 (B)甲丁 (C)乙丙 (D)丙丁。

- ( ) 2. 「這個高原地處沿海地帶，因沿岸有寒流流經，加上位於西風的背風側，形成溫帶沙漠氣候。」上文描述的是附圖中哪個地區？ (A)甲 (B)乙 (C)丙 (D)丁



- ( ) 3. 中南美洲有大範圍的面積位於南、北回歸線之間。請問：下列何種地理特性和上述條件的關係最大？  
 (A)地勢高聳 (B)資源豐富 (C)時區眾多 (D)熱帶範圍廣大。
- ( ) 4. 美國紐約市的居民在跨年倒數的同時，洛杉磯的居民還得再等上三個小時才跨年，形成這種差異的主要原因為何？ (A)美國族群眾多 (B)美國氣候多樣 (C)美國位於中緯度地區 (D)美國東西幅員廣。
- ( ) 5. 中南美洲城鄉發展失衡，使得鄉村貧窮人口大量遷移到都市。請問：中南美洲高度都市化對都市造成諸多影響，但並不包括下列何者？ (A)都市生活環境惡化 (B)遊民問題嚴重 (C)人口與交通擁擠 (D)失業率降低。
- ( ) 6. 美洲西側的山脈，如北美美洲的落磯山脈與南美洲的安地斯山脈，皆較為高聳崎嶇，且呈南北縱貫。請問：這兩座山脈的成因為何？ (A)風力堆積 (B)冰河堆積 (C)板塊擠壓 (D)河川堆積。
- ( ) 7. 美國面積遼闊，關於其經緯度位置標示，下列何者正確？



- ( ) 8. 宏都拉斯昔日有「香蕉共和國」之稱，許多殖民時期建立的香蕉農場占地廣大，農場內還設有宿舍，以及專用的鐵路等設施。請問：當時宏都拉斯的香蕉產業可能有下列何種經營特徵？ (A)粗放經營 (B)市場導向 (C)薪資較高 (D)技術密集。
- ( ) 9. 美國傳統的重工業活動如鋼鐵、汽車等，多發源自五大湖地區的底特律等地。請問：該地區有利於工業發展的主要條件為何？ (A)空運便利 (B)礦產豐富 (C)市場廣大 (D)地形平坦。


- ( ) 10. 農業大學教授為了深入了解北美洲的農業經營，特地從墨西哥灣一路往北部平原考察。在他的考察過程中，所看到的農作物景觀先後順序應該為何？  
 (甲)春麥 (乙)冬麥 (丙)柑橘 (丁)棉花  
 (A)丁→丙→甲→乙 (B)乙→甲→丁→丙  
 (C)丙→丁→乙→甲 (D)丁→甲→乙→丙。

- ( ) 11. 中南美洲北部的墨西哥高原，地表呈現一片沙漠景觀。請問：造成墨西哥高原氣候普遍乾燥的主因是下列何者？ (A)距海遙遠 (B)山脈阻擋水氣 (C)墨西哥灣水流經過 (D)副熱帶高氣壓籠罩。

- ( ) 12. 中南美洲北部的高原或山間盆地，是人口聚居、都市分布的精華區，其主要原因為何？ (A)溼熱宜於農耕 (B)礦產資源豐富 (C)氣候涼爽宜人 (D)林業非常發達。

- ( ) 13. 某報訊「多起龍捲風橫掃美國南部、中西部和東北部地區，光是□月 27 日就有 207 個龍捲風產生，總計造成 346 人罹難。」依龍捲風的主要發生季節判斷，文中空白的月分數字，最可能是下列何者？  
 (A)1 (B)4 (C)8 (D)11。


- ( ) 14. 附圖為中南美洲某國的經濟結構示意圖。請問：這種經濟型態最容易遭受何種問題？ (A)勞工人數需求少 (B)耕作技術過於落後 (C)農作物生產過剩 (D)產品價格易受國際市場波動影響。



(把國家的經濟基礎建立在香蕉的出口上，當然不會安定囉！)

- ( ) 15. 智利位於安地斯山脈以西的狹長地帶，氣候上有三類型：(甲)海洋性氣候 (乙)地中海型氣候 (丙)沙漠氣候。若自北而南排列，依序應為何？  
 (A)甲乙丙 (B)乙甲丙 (C)乙丙甲 (D)丙乙甲。

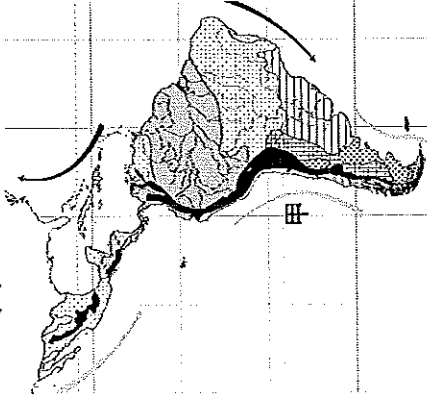
- ( ) 16. 附圖為美洲某國國旗，十字線分隔象徵該國位於南美洲、北美洲、大西洋、太平洋四個地域的交界處。請問：該國最可能為下列哪個國家？(A)巴拿馬 (B)委內瑞拉 (C)祕魯 (D)智利。



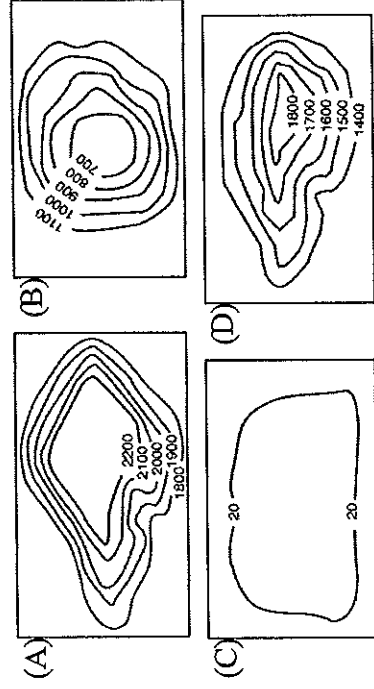
- ( ) 17. 萊茵河是歐洲航運價值最大的河川，聖倫羅斯河則是北美洲航運價值極高的河川。兩條河川的高航運價值與下列哪項關係最密切？(A)河流長度 (B)流量豐富 (C)流向出口 (D)流域面積。

- ( ) 18. 「你們必須教導你們的子孫，在他們腳下的土地，是我們先民的遺跡……。」這是在西元一八五〇年代某個族群的領導人所寫給美國政府的公開信。這個聲明稿最可能來自於哪個族群？(A)英國人 (B)印度人 (C)印第安人 (D)非洲人。

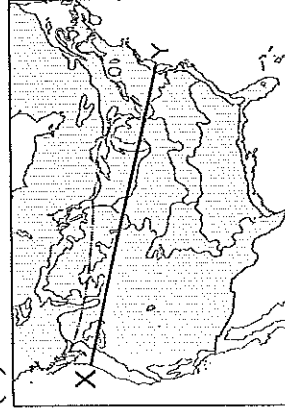
- ( ) 19. 近年來常聽見「聖嬰現象」與「反聖嬰現象」，其主要與圖中「甲」洋流的水溫高低相關。請問：「甲」洋流的名稱為何？(A)祕魯涼流 (B)巴西暖流 (C)福克蘭寒流 (D)加利福尼亞涼流。



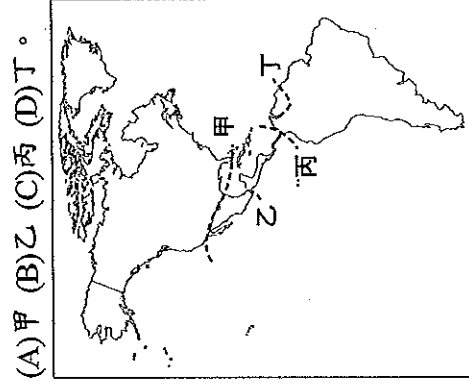
- ( ) 20. 北美洲北起哈得孫灣，南至墨西哥灣之間的地區，其地形主體與下列哪幅等高線地形圖最相符？



- ( ) 21. 美國境內疆域廣闊，地形多變，造成氣候差異相當大。附圖中 X 至 Y 一線所經地區的氣候若由東向西排列，正確的順序為何？(甲)高地氣候 (乙)溫帶大陸性氣候 (丙)溫帶海洋性氣候 (A)甲乙丙 (B)乙丙甲 (C)丙甲乙 (D)丙乙甲。

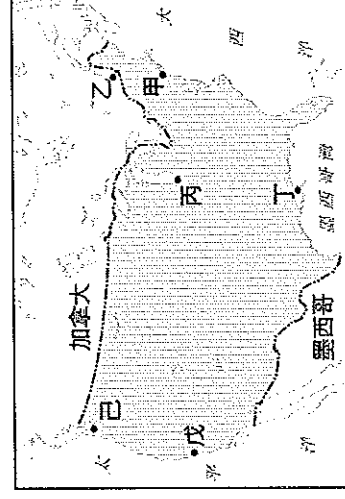


- ( ) 22. 「北美自由貿易區」為美洲的區域性經貿組織，其成員國與美洲其他非成員國的界線應為附圖中何者？



- (A)甲 (B)乙 (C)丙 (D)丁。


- ( ) 23. 「聖他克拉克谷地原來為果園區，戰後被規畫開發為無污染的工業區，吸引大批高科技產業來此設廠，包括電腦及其周邊設備、通訊器材和運輸設備等，是美國電子工業的中心，素有『矽谷』之稱。」上文描述的地區位於附圖中的何地？(A)丙 (B)丁 (C)戊 (D)己。



- ( ) 24. 中南美洲的經濟發展以農、礦業為主，在農礦業和產國的配對上何項不正確？(A)銀—智利 (B)甘蔗—古巴 (C)咖啡—巴西 (D)石油—委內瑞拉。

- ( ) 25. 美國農夫有「手提箱農夫」之稱，雇用工人耕作、以私人直昇機代步巡視農田。這突顯出美國的自然環境與農業具有下列哪些特色？

- (A)甲乙丙 (B)甲乙戊 (C)乙丙丁 (D)乙丙戊。



- ( ) 26. 美國境內的資源相當豐富，其中哪個地區因為石油蘊藏量相當豐富，進而發展石化工業，臺灣的台塑企業在當地也有設廠生產製造相關產品？(A)聖羅倫斯河谷地 (B)墨西哥灣沿岸 (C)五大湖區 (D)阿帕拉契山脈。

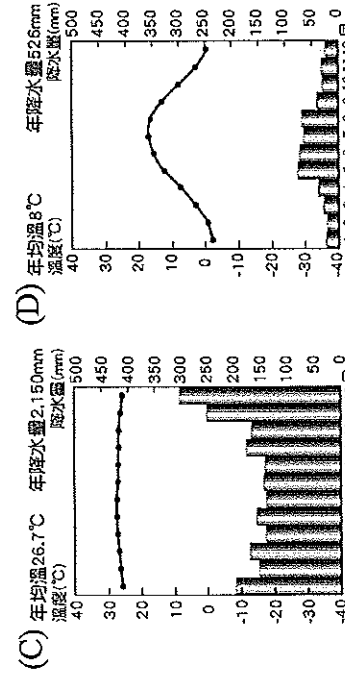
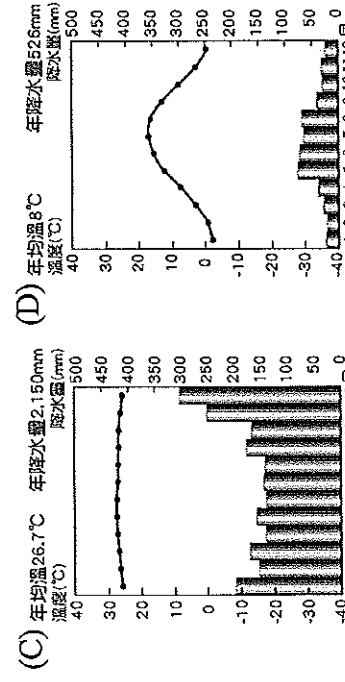
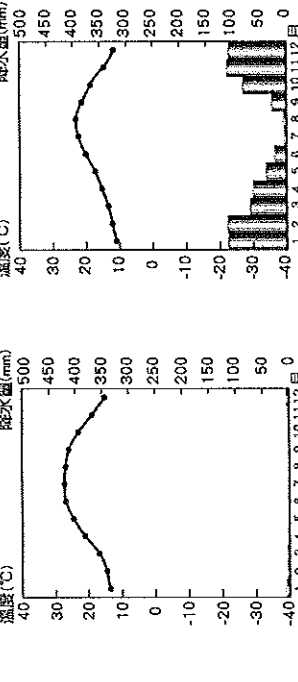
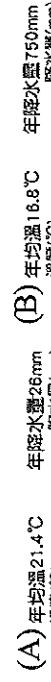
- ( ) 27. 駱馬擁有耐寒、耐旱又可負重的特性，使他成為早期南美洲人民生活不可或缺的一環。根據駱馬的特性，下列哪種氣候區比較容易看見牠們的蹤跡？(A)熱帶雨林 (B)熱帶莽原 (C)溫帶地中海 (D)高地氣候。

- ( ) 28. 北美洲的酪農帶主要分布在五大湖區周邊一帶，其原因和下列哪項最為相關？(A)臨近市場 (B)土地廣闊 (C)勞力充足 (D)地價便宜。

( ) 29. 傑米趁著假期開飛機橫越美國，一路風景美不勝收，他先從沿岸平原與低緩山地出發，再越過大平原，最後飛過高聳山地並結束旅程。傑米行進的方向應是下列何者？(A)由西向東 (B)由東向西 (C)由北向南 (D)由南向北。

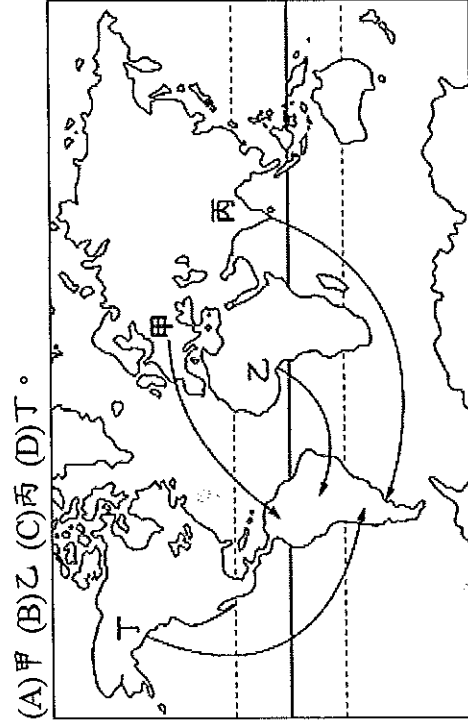
( ) 30. 墨西哥近年成為企業設廠投資、產品輸美的最佳跳板，除了該國勞力資源充足外，企業還考量下列何項重要條件？(A)地近巴拿馬運河 (B)農礦原料充足 (C)美墨關稅優惠 (D)水力資源充沛。

( ) 31. 下列哪一張氣候圖所代表的區域內生態資源最為豐富，並提供了動物所需的氧氣，被稱為「地球之肺」？



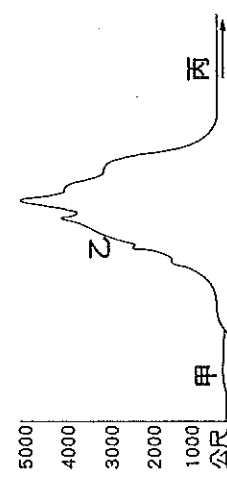
( ) 32. 黃石公園是美國第一座國家公園，以溫泉、間歇噴泉聞名於世。這個現象與下列哪個事實關係密切？(A)居板塊交接帶上 (B)四周山地高聳 (C)緯度高 (D)西風終年吹拂。

( ) 33. 十六世紀後，中南美洲的殖民統治者為了彌補勞力的短缺，自外地引進許多勞工，使當地族群更複雜多元。附圖中的哪條路線是當時歐洲人引進勞工的主要路線？



(A)甲 (B)乙 (C)丙 (D)丁。

※附圖為沿著赤道所繪的南美洲地形剖面圖。請問：



( ) 34. 圖中的「甲」應為哪一個海域？(A)加勒比海 (B)墨西哥灣 (C)太平洋 (D)大西洋。

( ) 35. 圖中的「乙」應為哪一個地理區？(A)落磯山脈 (B)墨西哥高原 (C)安地斯山脈 (D)阿帕拉契山脈。

※附表為西元 2014 年各國都市化程度比較。請回答下列問題：

國家	都市人口比例%
委內瑞拉	89
烏拉圭	95
阿根廷	92
智利	89
巴西	85
美國	81
英國	82

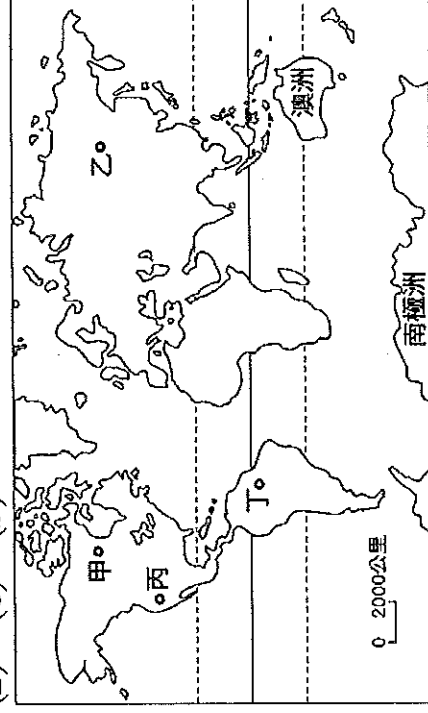
( ) 36. 中南美洲都市人口比例偏高的主要因素為下列何者？

- (A)國家經濟發達 (B)政府鼓勵移民 (C)鄉村十分貧困 (D)都市國宅數量多。

( ) 37. 附表中哪個國家的政府，曾利用遷都的方式促進內陸開發，期望縮小區域差距？(A)巴西 (B)智利 (C)阿根廷 (D)委內瑞拉。

※科學家認為，近年來因人口激增、糧食短缺，森林被大量砍伐以從事農、林、牧業，尤其是雨林的面積正大量消失，估計地球若失去廣大的雨林，將有 900 億噸二氧化碳無法被樹林吸收，足以使全球暖化的速度加快 50%，而隨著樹林死亡，土壤將被烈日烤乾，雨林可能變成沙漠。請問：

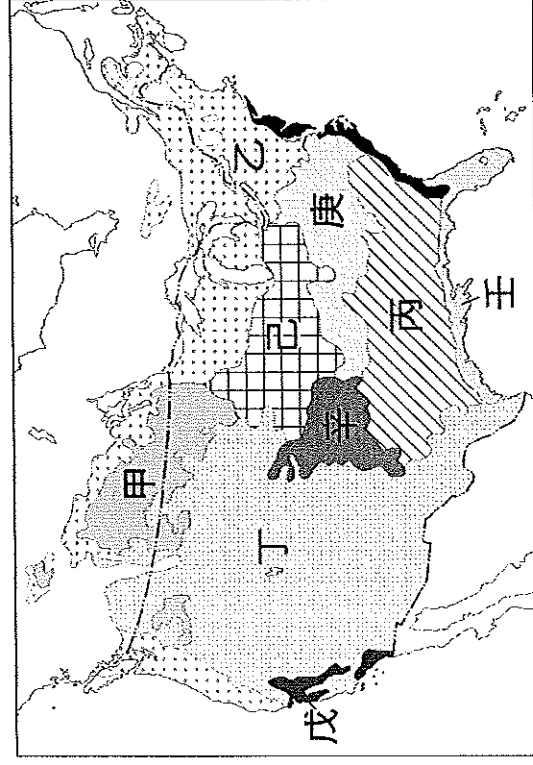
( ) 38. 世界上最大的熱帶雨林區，位於附圖中何處？(A)甲 (B)乙 (C)丙 (D)丁。



( ) 39. 亞馬孫雨林大多分布於何國境內？(A)巴西 (B)秘魯 (C)哥倫比亞 (D)玻利維亞。

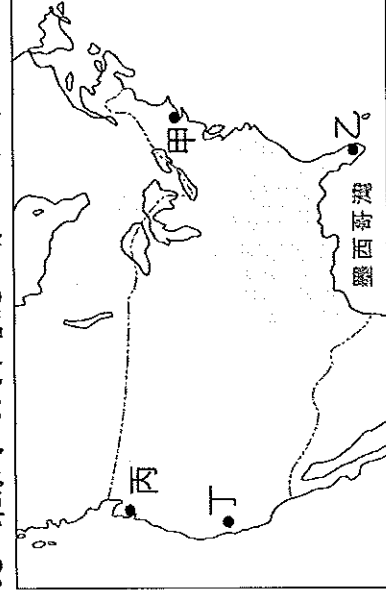
( ) 40. 透過下列何種科學工具，科學家可以更有效發現亞馬孫雨林消失速度的變化？(A)分層設色圖 (B)衛星影像 (C)地形剖面圖 (D)等高線地形圖。

※附圖為北美洲農、牧業分布圖。請問：



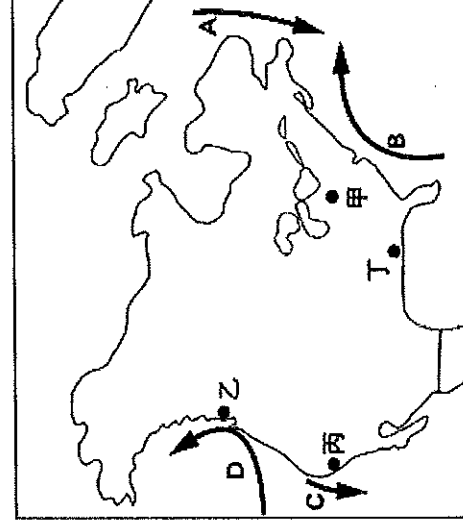
- ( ) 41. 圖中哪兩個地區是小麥帶？(A)甲 (B)乙 (C)丙 (D)丁、戊。
- ( ) 42. 若想要經營葡萄園以便開設酒莊，應到圖中何地尋覓？(A)戊 (B)己 (C)庚 (D)辛。

※近年美國經濟狀況不佳，失業率攀升到9%，貧富差距擴大，於是《Adbusters》雜誌以斗大的標題號召人們在西元2011年9月17日現身全美經濟重鎮—華爾街，抗議金融大亨的掠奪與貪婪，引來千人參與，並引發其他美國城市、亞洲的香港、臺北、東京等地民眾響應。請回答下列問題：



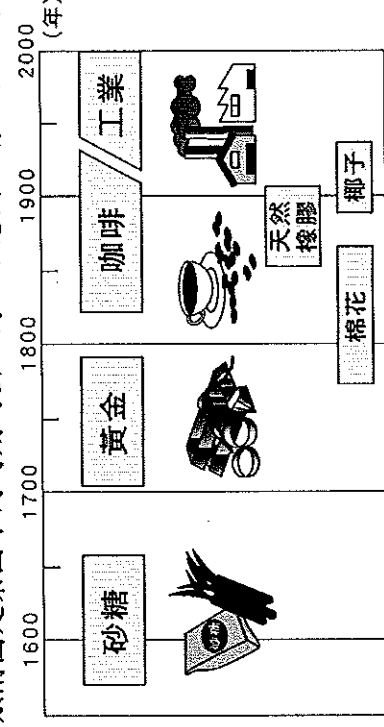
- ( ) 43. 華爾街是一條位於美國紐約市下曼哈頓的狹窄街道，是橫跨紐約曼哈頓的金融中心。「攻占華爾街」的行動，最初主要位在附圖中哪個地點？(A)甲 (B)乙 (C)丙 (D)丁。
- ( ) 44. 占領運動由星星之火演變成全美的抗議行動，有人認為美國持續的高失業率，是受「重金融服務業，輕製造業」所影響，尤其在北美自由貿易區成立後，大量工廠出走，到下列哪個鄰近國家設廠所致？(A)古巴 (B)加拿大 (C)墨西哥 (D)巴拿馬。

※附圖為北美洲簡圖，圖中A~D為洋流。請問：



- ( ) 45. 圖中哪個地區最容易遭受颶風侵襲？(A)甲 (B)乙 (C)丙 (D)丁。
- ( ) 46. 圖中哪個洋流屬涼流性質，造成沿海地區乾燥少雨？(A)A (B)B (C)C (D)D。
- ( ) 47. 乙地區終年溼潤、年溫差小，其原因除了位於西風帶外，還與流經沿海的D洋流有關。請問：D洋流為何？(A)親潮 (B)阿拉斯加暖流 (C)墨西哥灣流 (D)北大西洋暖流。

※附圖是某國不同時期的出口商品示意圖。請回答下列問題：



- ( ) 48. 根據圖中各種作物的生長環境判斷，該國最有可能為下列何者？(A)巴西 (B)墨西哥 (C)美國 (D)阿根廷。
- ( ) 49. 承上題，該國此類型產業的發展，與下列哪項最具關連性？(A)地形平坦 (B)殖民背景 (C)耕地廣大 (D)人口稀少。
- ( ) 50. 該國在工業的發展上，與下列哪種礦產的開發最具相關性？(A)煤 (B)鐵 (C)銅 (D)石油。