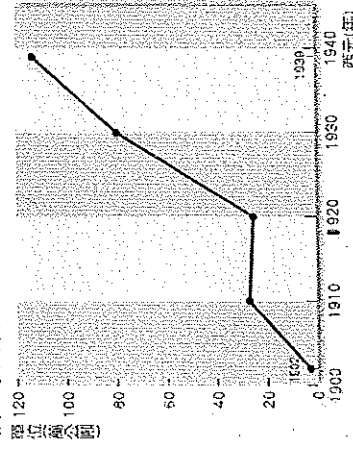


基隆市立武備國中 105 學年度第二學期 歷史科 考試卷

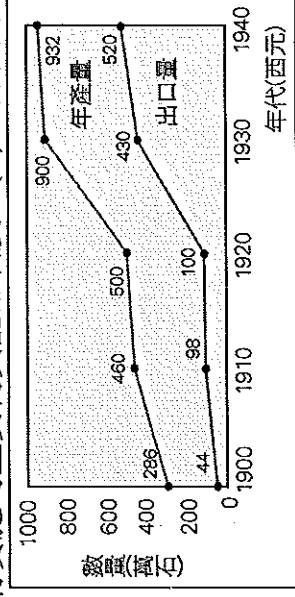
7 年 班 座號： 姓名： _____

一、選擇題 80%

- () 日治時期，臺灣開始發展鋼鐵、化學、金屬等國防軍需工業，主要是為了配合下列哪項政策？ (A)南進政策 (B)漸進政策 (C)專賣政策 (D)配給制度。
- () 臺灣割讓給日本後，日軍攻入何處，宣布始政典禮，開啟台灣進入日本統治時代？ (A)基隆 (B)台北 (C)宜蘭 (D)澳底。
- () 臺灣總督集大權於一身，儼然為臺灣的土皇帝，這些權力主要是根據《法律第六十三號》，賦予總督可以公布等同法律效力的命令。此法表示總督擁有以下哪一項權力？ (A)行政權 (B)立法權 (C)司法權 (D)軍事權。
- () 這家銀行從創立到西元 2014 年為止，已有 115 年歷史，因此成立「銀行文物館」。館中展示日治時期發行的紙幣、愛國債券、臺幣及新臺幣等展品。從中可以了解臺灣歷史的演變。這應是下列哪家銀行的敘述？ (A)中央銀行 (B)第一銀行 (C)土地銀行 (D)臺灣銀行。
- () 清代臺灣的建省與割讓，分別與哪次戰爭有關？ (A)中法戰爭、甲午戰爭 (B)甲午戰爭、二次大戰 (C)中法戰爭、一次大戰 (D)中日戰爭、一次大戰。
- () 日本殖民統治不久，總督府確立「農業臺灣、工業日本」的基本經濟政策，將臺灣當作哪兩種作物的生產地？ (A)茶和樟腦 (B)茶和蔗糖 (C)稻米和茶 (D)稻米和蔗糖。
- () 日本殖民統治時期，日人在臺的基礎建設有哪些？ (甲)統一度量衡制度 (乙)林野調查 (丙)整建港口 (丁)完成環島縱貫鐵路 (戊)成立郵便局 (A)甲乙丙戊 (B)甲丙丁戊 (C)乙丙丁戊 (D)甲乙丙丁戊。
- () 現代臺灣人很難想像沒有電的日子，想知道家中電力的來源，就要了解臺灣電力公司的歷史，最早可以上溯到日治時期的臺灣電力株式會社。臺灣電力株式會社最大的成就，是哪個水力發電工程系統？ (A)石門水庫 (B)烏山頭水庫 (C)嘉南大圳 (D)日月潭水力發電所。
- () 日治時期為有效提高稻作生產，總督府在水利建設投入眾多心力，下列哪個水利建設是當時所建設？ (A)八堡圳 (B)瑠公圳 (C)曹公圳 (D)嘉南大圳。
- () 續上題，請問此建設完工於何人之手？ (A)八田與一 (B)後藤新平 (C)郭錫瑠 (D)曹瑾。
- () 劉銘傳和日本統治時期有哪一些相同建設，都對台灣現代化有一番貢獻？ (甲)土地調查增加田賦稅收 (乙)設郵局電報加強通訊 (丙)統一貨幣改善經濟發展 (丁)修建鐵路促進交通便利 (A)甲乙丙丁 (B)甲丙丁 (C)乙丙丁 (D)甲乙丁。
- () 早期臺灣受限於地形及河川的險阻，南北交通以海運為主，直至基隆到高雄的西部縱貫鐵路完成，交通才更為便利。請問：這段鐵路在何時全線通車？ (A)清領時代前期 (B)清領時代後期 (C)日本殖民統治時期 (D)中華民國在臺灣時期。
- () 臺灣俗諺常能反映人民的心聲，也可從中觀察出某些社會現象。請問：下列哪句俗諺反映日治時期臺灣的社會現象？ (A)一個某卡贏三個天公祖 (B)一府二鹿三艋舺 (C)有唐山公，無唐山媽 (D)第一憨，種甘蔗乎會社。
- () 日治時期，臺灣原住民為反抗總督府掠奪山地資源和剝削勞力，起而抵抗日本。結果日本政府對原住民展開大規模的血腥鎮壓事件。這是指哪個事件？ (A)苗栗事件 (B)霧社事件 (C)西來庵事件 (D)噶吧嘔事件。
- () 有關日本殖民統治時期行政的特色，下列何者不包在內？ (A)總督專制之體制 (B)地方行政官員大多由民選 (C)典型的警察政治 (D)利用保甲組織協助穩定統治秩序。
- () 西元 1911 年的辛亥革命成功了，此事對臺灣抗日運動產生了激勵和鼓舞，臺灣各地相繼發生抗日事件，較為後人所知的，如苗栗事件。此抗日行動的領導者是下列何者？ (A)羅福星 (B)劉永福 (C)余清芳 (D)郭懷一。
- () 臺灣割予日本後，日軍在澳底登陸。不久，臺灣民主國總統放棄總統官印，搭船逃離臺灣。後人諷刺這是民主國逃「王」記。上述這個「王」，指的是下列何人？ (A)丘逢甲 (B)唐景崧 (C)劉永福 (D)羅福星。
- () 關於日治時期「保甲制度」的敘述，下列何者正確？ (A)規定十戶為一保，十保為一甲 (B)保甲是日治時期首創的制度 (C)保甲須輔助壯丁團管理行政事務 (D)保甲制度實施連坐法。
- () 下圖表示日治時期蔗糖產量。請問：關於糖業在臺灣的發展，下列敘述何者錯誤？ (A)一九二〇年代以後蔗糖產量快速成長 (B)製糖業發展迅速，臺灣有「糖業王國」之稱 (C)臺灣人開設的製糖公司利潤驚人 (D)新式製糖廠設立有助於產量的提升。



20. () 清廷將臺灣割讓給日本之後，臺人曾有如下的言論：「不與日人共日月，願與臺地共存亡。」並且以下列哪種作法回應這樣的變局？ (A)向日本宣戰 (B)組織壯丁團抗議 (C)要求清廷與日本重訂條約 (D)成立臺灣民主國。
21. () 日治時期的臺灣與日本在文化上差異甚大，以致施政和法律判準常出問題，當時不論官方或民間都希望儘快探求、解決問題，後來在民政長官後藤新平主導下，成立「臨時臺灣舊慣調查會」，問題才獲得改善。請問：上述時期日本政府對臺採取何種治理政策？(A)無方針主義(B)皇民化運動 (C)日臺合一 (D)內地延長主義。
22. () 日治時期，總督府將「農業臺灣」轉變成「工業臺灣」政策的主要原因為何？ (A)人口快速增加 (B)米糧產量過剩 (C)日本對外戰爭需要資源 (D)日本資本家來臺投資。
23. () 祖父曾曾經如此說：「那時糧食不足，白米都被搜走了，常常都餓肚子。每天只能吃晒黑的番薯簽，而且油、蔬菜都只能吃政府配給的，數量根本不夠，更別提營養了。」請問：這是發生在臺灣史上的哪一時期的情況？ (A)日治初期 (B)內地延長主義時期 (C)一次大戰期間 (D)二次大戰期間。
24. () 小城城出生於西元 1895 年，他是一個整日遊盪的青年。20 歲那年，因為隨地亂丟垃圾被鄰居向有關單位檢舉。請問：處理此種衛生問題的人員應是下列何者？ (A)壯丁團 (B)民政長官 (C)州長 (D)保正。
25. () 日本統治臺灣，推動「皇民化運動」；要臺灣人改日本姓，嚴禁講臺語，甚至要臺灣人穿和服，到神社祈禱日本武運長久。請問：日本「皇民化運動」時期，正處於哪個衝突中？ (A)推翻滿清 (B)第一次世界大戰 (C)抵抗朝鮮 (D)中日戰爭。
26. () 《馬關條約》割讓臺灣之後，臺灣立即成立「臺灣民主國」以為應對。請問：對於當時「臺灣民主國」的敘述，下列何者正確？ (A)共推丘逢甲為總統，領導抗日 (B)以獨立為訴求，主張永遠脫離腐敗的滿清 (C)其成立目的主要是為了抵抗日本接收 (D)成立後即刻落實民主，建立共和體制，故稱之為「民主國」。
27. () 附圖為臺灣稻米年產量及出口數量圖。圖中稻米的年產量與出口量的大增，應與下列哪項事實有關？ (A)總督府採行「工業日本，農業臺灣」的分工 (B)配合日本的「南進政策，工農並重」政策 (C)二次大戰末期，總督府實施的重要物資配給制度 (D)總督府開始發展「農業南洋，工業臺灣」的國防軍需工業。



28. () 有關警察和保甲的工作比較，下列何者錯誤？ (A)兩者都需負責鎮壓抗日活動 (B)兩者都需協助處理行政事務 (C)前者幾乎無所不管，後者須配合警察行事 (D)兩者都需管理原住民部落。
29. () 對於第二次世界大戰時臺灣的情況，下列敘述何者錯誤？ (A)許多臺灣婦女被迫成為慰安婦 (B)大批臺灣青年被徵召入伍從軍 (C)部分臺人家庭改說日語，以爭取國語家庭的資格 (D)臺灣社會瀰漫著「民族自決」的思潮，人民紛紛追求自治。
30. () 日治初期，因抗日事件不斷，軍費龐大，因此有些日本國會議員提議將臺灣賣給外國。但是當時的臺灣民政長官反對此案，並提出臺灣事業經營計畫，後來證實臺灣確實為一大寶地。請問：這位民政長官是誰？ (A)八田與一 (B)兒玉源太郎 (C)磯永吉 (D)後藤新平。
31. () 日本治理台灣期間，治台政策經過三次轉變，歷經：無方針政策時期、內地延長主義時期、皇民化運動時期。而配合政策轉變，派至台灣的總督身分也有三次轉變，分別為以下何者？ (A)武官、武官、文官 (B)武官、文官、武官 (C)文官、武官、武官 (D)文官、武官、文官。
32. () 小小花是一位日治時期的臺灣農民，下列何者最有可能是他的謀生方式？ (A)大量種植番薯以外銷日本 (B)在街上叫賣自己提煉的樟腦 (C)將自己種的稻米高價賣給洋行 (D)在糖廠的要求下，負責種植甘蔗。
33. () 寒假時，小小夫到臺灣糖業博物館參觀，博物館的前身同時也是臺灣第一家新式製糖廠。製糖工廠舊建築整修為製糖設備實體展示館。請問：小小夫參觀的臺灣糖業博物館，前身為日治時期第一家現代化的製糖工廠，其位於何處？ (A)臺北 (B)臺中 (C)高雄 (D)花蓮。
34. () 日治時期，政府為獨占經營權，將哪些商品列為專賣？ (甲)蔗糖 (乙)鴉片 (丙)樟腦 (丁)茶葉 (A)甲丁 (B)甲丙 (C)乙丙 (D)乙丁。
35. () (甲)霧社事件 (乙)苗栗事件 (丙)朱一貴事件 (丁)郭懷一事件。以上四件史事皆與人民反抗統治政權有關，其發生的先後順序排列為何？ (A)甲乙丙丁 (B)乙甲丙丁 (C)丁丙乙甲 (D)丁乙丙甲。
36. () 何人在南臺灣領導抗日，但因兵力武器不如日本而戰敗，導致以台灣民主國為號召的抗日活動宣告瓦解？ (A)劉銘傳 (B)劉永福 (C)丘逢甲 (D)唐景崧。

37. () 右表是二十世紀初臺灣稻米生產量的統計資料。下列何者是造成表中「甲」時段期間稻米產量變化的主要因素之一？

- (A)臺灣蓬萊米培植成功
(B)「皇民化運動」的影響
(C)臺灣開港，刺激稻米外銷
(D)耕者有其田政策徹底落實。【99年第一次基測】

年度	稻米生產量 (萬公石)
1910	755
1920	873
1930	1,329
1938	1,770

甲

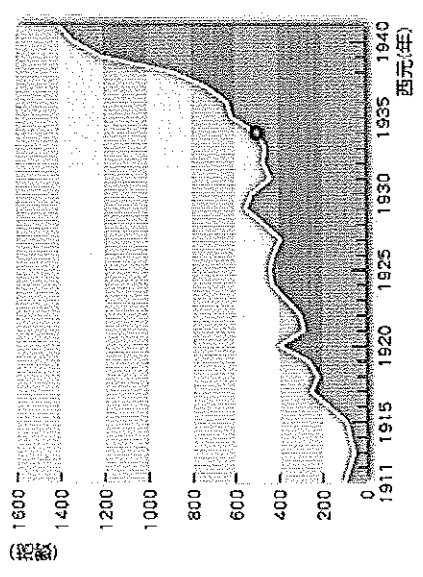
38. () 一本介紹臺灣港口的書提到：「這座港口在清末開港通商，曾受中法戰爭的戰火波及，日本統治時重新整建，由於其位置較接近日本，因此成為當時進出臺灣的主要門戶。商人及遊客可以在港邊的車站搭上火車，前往其他地方。」這段話最可能是介紹下列何者？ (A)基隆 (B)鹿港 (C)安平 (D)高雄。【100年第二次基測】
39. () 臺灣的行政體系經過數次演變，請問：日治時期的臺灣行政區最後確立為下列何者？ (A)一府三縣 (B)一府三州 (C)五州三廳 (D)一府四縣三廳。
40. () 臺灣總督府實施「皇民化政策」主要的目的為何？ (A)解決戰時的兵源和控制物資 (B)要斷絕臺灣人的生產力 (C)滿足日本人老大哥的心態 (D)希望臺灣人崇拜日本文化。

二、整合題 20%

※小書宸在書上讀到臺灣歷史上某個時期政府的政策為「戰後，全球瀰漫著○○思潮，政府為安撫國人，改以『內地延長主義』為施政方針，加強推行國語。」請回答下列問題：

41. () 文中的「戰後」，指的是哪次戰爭之後？ (A)英法聯軍 (B)甲午戰爭 (C)第一次世界大戰 (D)第二次世界大戰。
42. () 文中的「○○」，指的是下列何者？ (A)民主政治 (B)民族自決 (C)日臺融合 (D)反共抗俄。
43. () 文中的「國語」，指的是哪種語言？ (A)閩南語 (B)英文 (C)中文 (D)日文。
44. () 文中的「內地」，指的是哪裡？ (A)台灣 (B)中國 (C)日本 (D)美國。

※下圖為西元 1911~1940 年的臺灣輕工業生產指數數圖。請問：



45. () 由圖中資料判斷，一九三〇年代以後，臺灣輕工業生產大幅上升，這與哪項政策的推動有關？ (A)日本政府推動「無方針主義」 (B)總督府積極發展臺灣的糖業 (C)西部縱貫線鐵路完工通車 (D)工業臺灣，農業南洋。
46. () 承上題，這一政策的推動，是為了配合日本的發展。當時日本是為了哪項因素而再次改變對臺灣的經濟政策？ (A)日本天災，工業發展受阻 (B)日本發動侵略戰爭 (C)臺灣農業生產過剩 (D)臺人教育水準普遍提升，產業逐漸轉型。
47. () 日治時期，臺灣總督府為配合此種政策，曾將工業朝向何種發展？ (A)有關軍需的工業建設 (B)有關民生的基本工業 (C)有關通訊的高科技工業 (D)有關交通的基礎工業。

※有一本介紹臺灣各鄉鎮市的旅行書，某頁寫著：「『玉井』，舊稱『噶吧嘓』(Tapani)，是西拉雅族支系『噶吧嘓』的故地。昔日以抗日事件聞名於臺，並設有噶吧嘓紀念公園、抗日紀念碑.....。」請問：

48. () 上文中所指之抗日事件為何？ (A)苗栗事件 (B)西來庵事件 (C)霧社事件 (D)牡丹社事件。
49. () 這個抗日紀念碑上應該會寫著何人的名字？ (A)余清芳 (B)羅福星 (C)劉永福 (D)莫那魯道。
50. () 以下對此事件的敘述，何者錯誤？ (A)利用宗教名義聚眾抗日 (B)判決太過嚴苛引發日本輿論譁然 (C)是日治時期規模最大的抗日活動 (D)此後台灣民眾武裝抗日活動更加頻繁。