

《本試題卷共 50 題，合計 4 頁，每題 2 分》

【題組一：請參考圖一請回答第 1~3 題】



圖一

- () 1. 請問中國農業與牧業的分界線大致與下列哪條線吻合？
 (A) ㄅ (B) ㄆ (C) ㄗ (D) 以上皆非
- () 2. 請問農、牧業分界線與下列哪條線大致相符？
 (A) 年降水量 500mm 等雨量線
 (B) 年降水量 750 mm 等雨量線
 (C) 一月月均溫 0°C 等溫線
 (D) 一月月均溫 18°C 等溫線
- () 3. 請問ㄅ線有哪些地理上的意義？
 (甲) 年降水量 500 mm 等雨量線
 (乙) 年降水量 750mm 等雨量線
 (丙) 一月月均溫 0°C 等溫線
 (丁) 水田和旱田景觀的分界線
 (戊) 春麥和冬麥種植的分界線
 (己) 甘蔗和甜菜種植的分界線
 (A) 甲、丁、戊、己 (B) 甲、丙、丁、己
 (C) 乙、丙、戊、己 (D) 乙、丙、丁、己

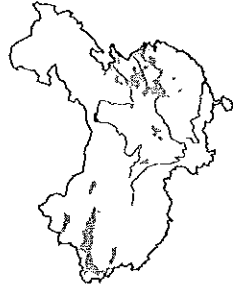
【題組二：中國幅員廣大、農產豐饒，各地依其自然條件不同，各有適合生長的作物，請回答第 4~9 題】

- () 4. 「南稻北麥」這種糧食分布特色主要以何處為分界線？
 (A) 長城、海河 (B) 秦嶺、黃河 (C) 秦嶺、淮河 (D) 南嶺、珠江
- () 5. 長江以南的農業區為二種稻茶區，請根據農作物的屬性判斷，稻米和茶的分布景觀應該為何？
 (A) 第一種種稻、第二種種茶
 (B) 夏季種稻、冬季種茶 (C) 沿海種稻、內陸種茶 (D) 平原種稻、丘陵種茶
- () 6. 農作物的收穫次數與該地區無霜期的長短有關。請問下列哪一個地理區的作物收穫次數可能最少？
 (A) 東北平原 (B) 華北平原 (C) 四川盆地 (D) 珠江三角洲

班級：_____ 姓名：_____ 座號：_____

- () 7. 承上題，請問農作物的收穫次數深受下列哪一項地理因素影響？
 (A) 地形 (B) 氣溫 (C) 降水量 (D) 距海遠近
- () 8. 若想要親眼目睹一望無際的棉花田，前往下列哪一個地理區最可能實現？
 (A) 雲貴高原 (B) 青藏高原 (C) 塔里木盆地 (D) 珠江三角洲
- () 9. 下列為中國的各種農作物主要分布圖，其中代表稻米的是何者？

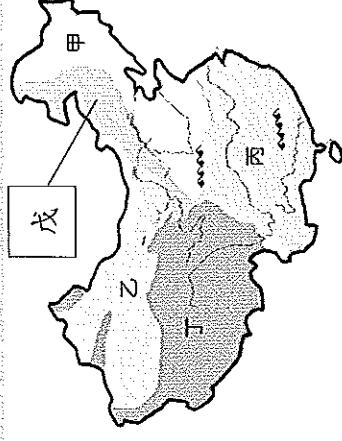
(A)



(C)



【題組三：圖二為中國農牧業分區圖，請回答第 10~15 題】



圖二

- () 10. 請問戊區主要的畜牧業類型為何？
 (A) 游牧 (B) 放牧 (C) 欄牧 (D) 山牧
- () 11. 請問圖二哪一個區域的畜牧方式是屬於逐水草而居的「水平游牧」？
 (A) 乙 (B) 丙 (C) 丁 (D) 戊
- () 12. 請問圖二哪一個地區的人民會把畜牧業當成是農家的『副業』？
 (A) 乙 (B) 丙 (C) 丁 (D) 戊

- () 13. 「阿贊是篤信藏傳佛教的藏民，他終年帶著家人驅趕牲畜到處移動……。」請問：他們通常在哪一個季節會開始移居至山上？(A)春 (B)夏 (C)秋 (D)冬
- () 14. 承上題，為了適應青藏高原地勢高、氣溫低的自然環境，阿贊家裡多以飼養何種的牲畜為主？(A)豬 (B)鴨 (C)駱駝 (D)犏牛。

- () 15. 內蒙古高原上東西側牧民的生活習慣以及飼養牲畜的種類差異很大，請問兩地的敘述何者錯誤？

內蒙古高原	東側	西側
(A) 年降水量	較多	較少
(B) 畜牧類型	放牧	游牧
(C) 主要牲畜	駱駝	牛、羊、馬
(D) 居住形態	定居	逐水草而居

【題組四：隨著科技的進步，中國農牧業進行了一連串的轉型，請回答第16~17題】


- () 16. 關於中國農業的轉型，下列何者正確？

- (A) 朝向自給性農業發展
 (B) 農業轉以粗放生產為主
 (C) 高經濟價值作物種植面積增加
 (D) 環境嚴重破壞作物回歸原始產地

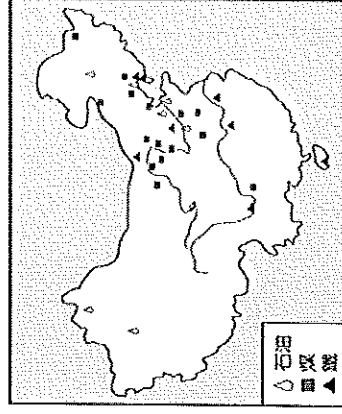
- () 17. 附圖為內蒙

古富豪牧場新設置的擠奶設備，請問下列哪項目標與此農場的經營模式理念不同？

- (A) 引進科技化飼養技術
 (B) 企業化、商品化經營
 (C) 提高產量並擴大生產規模
 (D) 牧場休閒化並兼顧環境保育



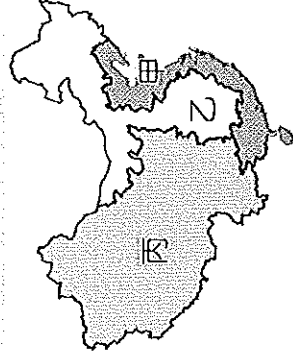
【題組五：圖三為中國煤、鐵、石油分布圖，請回答第18~19題】



圖三

- () 18. 根據圖三可以推斷中國的工業發展具有哪項特色？(A)北部重工業發達，南部以輕工業為主 (B)北部第二級產業就業人口較南部地區為多 (C)能源礦藏量眾多，足以提供內需及外銷 (D)礦藏分布地區人口密度及經濟發展數據相對較高
- () 19. 請問中國哪一條河川的流域蘊含豐沛的煤礦資源？
 (A)珠江 (B)黃河 (C)長江 (D)黑龍江

【題組六：中國改革開放後，工商業快速成長，圖四為中國三大經濟帶圖，請回答第20~28題】



圖四

- () 20. 中國改革開放之前經濟發展相當落後，人民生活普遍貧困。請問當時經濟發展落後的主要原因為下列何者？
 (A)缺乏礦產 (B)共產政策 (C)天災不斷 (D)戰亂紛擾。

- () 21. 下列哪些是「甲」區優於其他經濟區的工商業發展條件？(甲)人口密集 (乙)交通便利 (丙)工資低廉 (丁)礦產豐富
 (A)甲、乙 (B)乙、丙
 (C)丙、丁 (D)甲、丁

- () 22. 三大經濟帶歷年國內生產毛額的比較關係為下列何者？
 (A)甲>乙>丙 (B)甲>丙>乙
 (C)乙>甲>丙 (D)甲=乙=丙

- () 23. 請將東部沿海四個工業集中地帶由北到南的依序排列？(甲)長三角 (乙)珠三角 (丙)遼中南 (丁)京津唐 (A)乙、甲、丁、丙 (B)丙、甲、乙 (C)甲、乙、丙、丁 (D)丁、丙、甲、乙

- () 24. 中國於改革開放初期在東南沿海成立五個經濟特區，請問特區內的工業主要是以哪一類型工業為主？

- (A)能源密集的煉鋼業
 (B)資本密集的機械工業
 (C)勞力密集的加工出口業
 (D)技術密集的高科技產業

() 25. 中國成立經濟特區提供國外廠商優惠的經濟政策和管理制度，目的是為了吸引國外的哪兩項資源？

- (A) 資金、技術 (B) 原料、勞力
(C) 設備、勞力 (D) 資金、原料
- () 26. 中國於2010年成立哪一個經濟特區，用以穩定並團結少數民族、開發西部以及有利於中國向西拓展？

(A) 伊犁 (B) 喀什 (C) 珠海 (D) 深圳

() 27. 中國目前能吸引了許多的國際企業前來投資設廠，貿易額成為世界之首的有利條件主要為下列哪些？

- (甲) 人均素質高 (乙) 市場廣大
(丙) 交通樞紐 (丁) 工資低廉

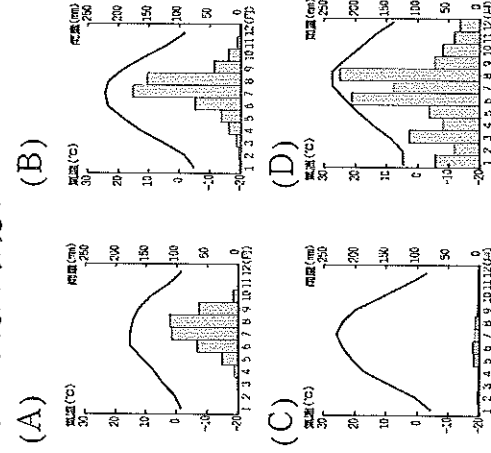
(A) 甲乙 (B) 丙丁 (C) 甲丙 (D) 乙丁

() 28. 中國能成為『世界工廠』及『世界市場』的共同因素為下列合者？

- (A) 礦產豐富 (B) 資金充沛
(C) 制度良善 (D) 人口眾多

【題組七：中國沙塵暴問題嚴重，甚至影響了臺灣的空氣品質，請回答第29~32題】

() 29. 請問下列何者最可能是沙塵暴中沙塵來源地的氣候環境？



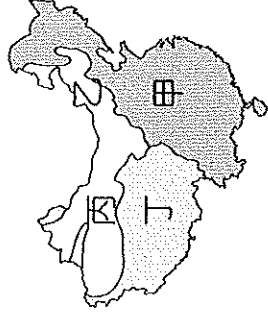
() 30. 中國沙塵暴問題愈漸嚴重的主要因素為何？

- (A) 植物病蟲害 (B) 空氣品質惡化
(C) 水質污染嚴重 (D) 土地過度開發
- () 31. 中國政府為減輕沙塵暴問題，興建了一條綠色長城，請問此工程主要工法為何？
- (A) 排磚砌牆 (B) 興修渠道 (C) 植樹造林 (D) 挖掘坎井

() 32. 請問沙塵暴在哪一個時節最為嚴重？

- (A) 春、夏之交 (B) 夏、秋之交
(C) 秋、冬之際 (D) 冬、春之際

【題組八：中國水資源問題嚴重，中國政府為合理分配用水，展開了一系列水利工程建設，請回答第33~37題】



圖五

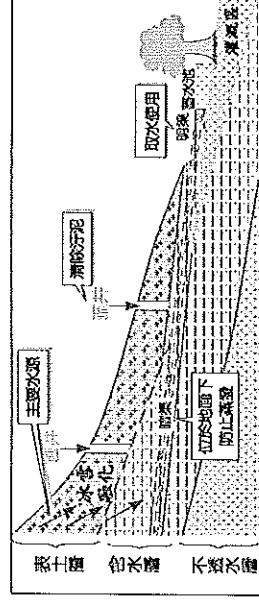
() 33. 中國水資源總量豐富，但每人平均擁有的水資源卻有限，請問導致缺乏水資源的原因下列何者為非？

- (A) 人口眾多 (B) 水污染嚴重
(C) 降雨時空分布不均
(D) 水庫等儲水設施不足

() 34. 本區水資源有限，但卻是中國許多大河的發源地，近年因全球氣候變遷，高山積雪漸減，造成水資源供應上的問題，請問此區位於圖五的哪一個區域？

- (A) 甲 (B) 乙 (C) 丙 (D) 丁

() 35. 請問下圖此種水利工程主要出現在圖五的哪一個區域？



- (A) 甲 (B) 乙 (C) 丙 (D) 丁

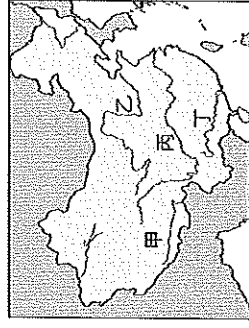
() 36. 黃河頻繁的季節性斷流始於20世紀的70

- 年代初，請問下列何者與黃河斷流的關係最為密切？
- (A) 工業發展水污染嚴重
(B) 中上游興建大量水庫
(C) 氣候變遷結冰期變長
(D) 南水北調工程引水至他處

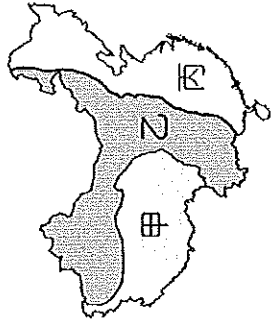
() 37. 中國推動南水北

- 調工程，計劃將如何調動右圖的河川水資源？

- (A) 甲→丙
(B) 丁→丙
(C) 丙→乙
(D) 乙→丙

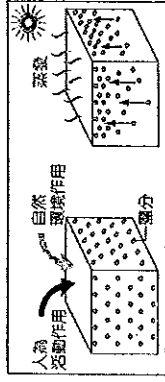


【題組九：中國各地形區因自然條件差異，而有不同的土地資源利用差異，請根據圖六回答第38～46題】



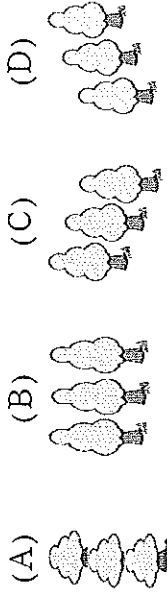
圖六

- () 38. 請問圖六哪一個區域因為『凍土』的分布，使得土地資源有限，生態環境脆弱？(A)甲 (B)乙 (C)丙 (D)全區
- () 39. 中國水土流失最嚴重的區域是位於哪一個地形區？(A)甲區的青藏高原 (B)甲區的黃土高原 (C)乙區的黃土高原 (D)丙區的雲貴高原
- () 40. 請問下圖此種土地資源問題主要發生在圖六哪個區域？



- (A)甲 (B)乙 (C)丙 (D)全區
- () 41. 承上題，此種土地資源問題主要導因於哪一種人為活動作用？
 (A)過度放牧 (B)過度灌溉
 (C)大量施肥 (D)超限養殖
- () 42. 中國西部河川能保有相對良好的水質，主要是因為下列哪一項因素？
 (A)內流河較多 (B)年降水量較少
 (C)空氣品質較好 (D)開發程度較低
- () 43. 長江中下游地區的農民為了增加耕地，不惜圍湖造田、與湖爭地，請問這個湖泊最可能是下列哪一個？
 (A)納木錯 (B)洞庭湖
 (C)青海湖 (D)羅布泊
- () 44. 承上題，此地居民圍湖造田，雖獲得湖邊肥沃耕地，卻也造成了哪項嚴重的環境災害？(A)水患加劇 (B)災害加重
 (C)土壤流失 (D)土壤鹽鹼化
- () 45. 中國積極設置防護林的目的主要是為了減緩哪些環境問題？
 (甲)土壤流失 (乙)沙漠化 (丙)水患增加
 (丁)土壤鹽鹼化 (戊)霧霾籠罩
 (A)甲、乙 (B)乙、丙
 (C)丙、丁 (D)丁、戊

- () 46. 承上題，為使得防護林得以發揮功能，請問其最佳種植方向應為下列何者？



- () 47. 下表資料為糧食與蔬果栽種面積占所有農產總面積的比較，請問此表說明了中國農業的何種現象？

年代/作物	糧食	蔬果
1980	80%	3%
2009	69%	19%

- (A)氣候變遷影響 (B)政府優惠政策
 (C)市場需求改變 (D)氣候變遷影響
- () 48. 中國北部地區近年來霾害嚴重，居民需要戴著口罩才能生活，請問這種嚴重的空氣污染主因和當地發展哪種產業有關？(A)鋼鐵工業 (B)食品加工業
 (C)紡織工業 (D)廣告設計業
- () 49. 髮菜生長在中國的乾燥、半乾燥草原上，因發音類似廣東話「發財」而深受中國人喜愛，當地居民為牟利而過度採採髮菜，導致草場退化，造成嚴重的環境問題。請問此環境問題為何？
 (A)水患劇增 (B)地層下陷
 (C)土壤鹽鹼化 (D)土地沙漠化
- () 50. 右圖為中國三級產業產值比例走勢圖，請問圖中的甲是中國哪一級產業？
 (A)第一級
 (B)第二級
 (C)第三級
 (D)第四級

