

基隆市立武崙國民中學 105 學年度第一學期第三次段歷史科 考試卷

7 年 班 座號： 姓名：

一、選擇，每題 2 分

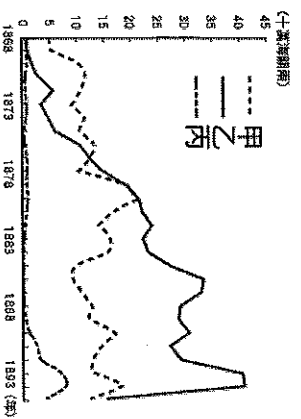
1. () 臺灣有很多閩南人，電視也會播閩南語的連續劇。請問：「閩」是哪個省分的簡稱？ (A) 福建 (B) 浙江 (C) 廣東 (D) 江蘇。
2. () 臺灣開港通商後，有一傳教士來到臺灣北部，傳教外，還興辦醫院、創立學校。請問：這位將一生奉獻給臺灣的傳教士為何人？ (A) 馬雅各 (B) 馬偕 (C) 湯若望 (D) 利瑪竇。
3. () 清領時期，大批漢人渡臺。來臺後，不同祖籍的人，除了先來後到外，選擇居住地點也和原鄉的環境有關。請問：下列關於移民與選擇地域的配對，何者正確？ (A) 客家人：山地 (B) 泉州人：平原 (C) 漳州人：盆地 (D) 閩南人：丘陵。
4. () 為了祈求生活與事業平安順利，來自泉州的謝老闆在臺灣的住處供奉由原鄉請來的神像。這應該是指哪位神祇？ (A) 開漳聖王 (B) 三山國王 (C) 有應公 (D) 保生大帝。
5. () 小丸子參觀臺南市的赤崁樓古蹟，其中有一排因紀念平定清領前期最大的民變而建立的石碑。請問：這些石碑與哪一場亂事最有關聯？ (A) 郭懷一事件 (B) 朱一貴事件 (C) 林爽文事件 (D) 戴潮春事件。
6. () 「土牛界」是代表清領初期畫定漢、原交界，並規定彼此不可往來的標記。這條界線的規範是在何人時才被放寬？ (A) 沈葆楨 (B) 丁日昌 (C) 劉銘傳 (D) 唐景崧。
7. () 漢人小玉於同治年間移民來臺，因為開港通商的關係，他在住所附近經常見到高鼻深目的西方人士。請問：小玉最有可能住在下列何地？ (A) 淡水 (B) 鹿港 (C) 艋舺 (D) 噶瑪蘭。
8. () 中法戰爭期間，哪位朝廷官員派至臺灣，進行臺灣的防務工作督導，以防臺灣為法軍所侵占？ (A) 陳永華 (B) 沈葆楨 (C) 丁日昌 (D) 劉銘傳。
9. () 位於臺北、基隆之間的「獅球嶺隧道」是臺灣最早的鐵路隧道，隧道口有當時主持鐵路興建的官員所題之「曠宇天開」四字。請問：題字者應是何人？ (A) 施琅 (B) 沈葆楨 (C) 丁日昌 (D) 劉銘傳。
10. () 清領時期，哪些官員治理臺灣期間，都曾經積極管理原住民，迫使臺灣原住民歸順 (甲) 劉銘傳 (乙) 沈葆楨 (丙) 丁日昌 (丁) 鄭經？ (A) 甲乙 (B) 甲丙 (C) 乙丙 (D) 乙丁。
11. () 十九世紀末，臺灣由德國購入火車，接著聘請外國工程師設計建造鐵路；以哪裡為中心，興建北至基隆，南至新竹的鐵路？ (A) 大稻埕 (B) 艋舺 (C) 淡水 (D) 士林。
12. () 清廷在牡丹社事件的交涉條約中，承認日本出兵是「保民義舉」，日本藉此積極展開對哪個地方的掌控？ (A) 臺灣 (B) 越南 (C) 琉球 (D) 朝鮮。
13. () 在清領前期臺灣的教育機構中，何者可以提供原住民受教育的機會？ (A) 義學 (B) 社學 (C) 書院 (D) 儒學。
14. () 民國 87 年政府通過精省，恢復官派的省主席。追溯歷史發展，臺灣史上的首任官派巡撫為何人？ (A) 沈葆楨 (B) 劉銘傳 (C) 丁日昌 (D) 唐景崧。
15. () 接續上題，臺灣設省，和哪一事件有關？ (A) 英法聯軍 (B) 中法戰爭 (C) 甲午戰爭 (D) 牡丹社事件。
16. () 下列哪一個事件促使清政府意識到臺灣對中國海防的重要性，治臺政策由消極轉為積極？ (A) 英法聯軍 (B) 中法戰爭 (C) 甲午戰爭 (D) 牡丹社事件。
17. () 現在屏東海生館附近有一座「大日本琉球藩民五十四人墓」的墓碑遺跡。由碑文可知，此碑應與哪一事件有關？ (A) 牡丹社事件 (B) 甲午戰爭 (C) 英法聯軍 (D) 中法戰爭。
18. () 臺灣移墾社會的特色之一，即是民變為數不少，故有「三年一小反、五年一大亂」的俗諺。請問：造成此種現象的原因不包括下列何者？ (A) 社會上：秘密結社盛行 (B) 經濟上：商業蕭條 (C) 政治上：吏治不良 (D) 軍事上：軍紀敗壞
19. () 清廷治臺時期，臺灣開港通商後所帶來的影響，下列敘述何者正確？ (A) 基督教首度傳入臺灣，並以羅馬字母拼注漢語傳播福音 (B) 清朝治台階段，此時進入清領後期 (C) 貿易範圍僅局限在中國大陸的華南地區 (D) 各地出現的「郊」，主要是進行對歐、美各國貿易的機構。
20. () 附圖為一位學生的敘述。請問：圖中的情節，最可能發生在下列哪一個時期？ (A) 荷治時期 (B) 鄭氏時期 (C) 清領前期 (D) 清領後期。

我們學校在臺北城裡，隔壁就是西學堂，離電報學堂還有一段路。學校裡的課都是漢文、閩南語，還有官話。畢業以後，我就可以回家作官。

21. () 「臺灣府儒學，康熙 24 年設。25 年，題准歲科試各額，進童生 20 名曰附生。」一份歷史文獻如此記載，顯示在臺灣納入清朝版圖後不久，官方即設立儒學以提倡文教。請問：當時「臺灣府儒學」應設於今日何處？ (A) 臺南市 (B) 臺北市 (C) 臺中市 (D) 高雄市。
22. () 李老師發問：「清領前期的臺灣社會經常發生械鬥，原因有哪些？」以下哪一位同學的說法是錯誤的？

- (A) 宇睿：「因語言不同而出現隔閡。」 (B) 詠安：「移民為爭奪水源與田地而發生爭執。」 (C) 祐承：「爭奪商業利益而發生械鬥。」 (D) 永成：「為爭奪進士名額而大打出手。」」
23. () 小李移民來臺後居住在臺南，來到臺灣之後為求有人可以互相照應，於是加入臺南地區的李氏宗親會，有關小李加入李氏宗親會的敘述，何者正確？ (A) 規定只要姓李一定要加入李氏宗親會 (B) 祭祀對象為來臺的李姓祖先 (C) 撥出部分祖產作為祭祀費用 (D) 小李與宗親會成員間不一定有血緣關係。
24. () 清領前期陸續移居來臺的漢人，多是同鄉移民住在同一村莊，沿用原鄉地名，不同祖籍的移民供奉不同的神明；但不久之後，出現不分祖籍移民供奉相同的神明，例如：媽祖、關帝爺、福德正神。請問：上述轉變反映出當時何種臺灣的社會現象？ (A) 天佑臺灣，臺灣的神明愈來愈多。 (B) 來臺人士以福建省的居多 (C) 漢人移民漸漸由認同故鄉轉而認同新天地 (D) 來臺日久，漸漸發展出臺灣特有的神明

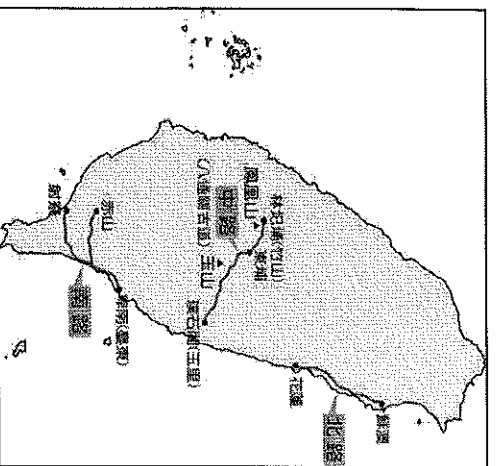
25. () 丸尾的歷史報告中出現「億載金城」、「恆春古城」、「琉球藩民墓」等古蹟名稱，丸尾報告的主題可能為下列何者？ (A) 臺灣開港通商 (B) 外力入侵臺灣 (C) 臺灣設省過程 (D) 漢原衝突的過程。
26. () 附圖是清領後期臺灣重要經濟作物出口值的比較圖，甲、乙、丙分別是指何種產品？ (A) 稻米、茶葉、蔗糖 (B) 蔗糖、茶葉、樟腦 (C) 樟腦、蔗糖、樟腦 (D) 茶葉、蔗糖、樟腦。



27. () 有關臺灣開港通商後所出現的景象，下列何者錯誤？ (A) 外商紛紛在臺灣設立洋行，大量進口鴉片 (B) 西洋傳教士到臺灣傳教，設教堂、立學校 (C) 械鬥事件因有外國人加入而更加嚴重 (D) 臺灣對外貿易呈現出超。
28. () 附圖是劉銘傳在位期間的政治措施之一，由此圖顯示的內容，此舉帶來的最大影響為何？ (A) 地方吏治清明 (B) 國家稅收增加 (C) 教育水準提升 (D) 地方械鬥減少。



29. () 清領後期有多位外國傳教士來到臺灣，他們除了傳教之外，也帶來許多影響，下列何者並非其重要影響？ (A) 帶入西方醫學 (B) 導入新式教育 (C) 傳入西方文化 (D) 減少地方民變。
30. () 「歷史人文深度探尋」節目正在介紹一座位於新竹市的進士第，據說是第一位以臺灣本籍的身分考上科舉的人，此人是誰？ (A) 陳永華 (B) 鄭用錫 (C) 林爽文 (D) 沈光文。
31. () 「大稻埕」在清領前期原來只是不起眼的港口，但到了清領後期卻成為重要的商業區，這是因為哪一貨品的貿易易帶動下的結果？ (A) 茶葉 (B) 蔗糖 (C) 樟腦 (D) 鴉片。
32. () 清領時期臺北人張小富到省城參加鄉試，第一次他遠赴福州應考，結果落榜；第二次他則在臺北應試，終於榜上有名。請問：張小富第二次應考地點的改變，是因為哪一事件的發生，使得臺灣的行政區劃有所調整？ (A) 林爽文事件 (B) 英法聯軍 (C) 中法戰爭 (D) 牡丹社事件。
33. () 小丸子想研究清領後期臺灣所實施的建設措施，於是找到了一張臺灣建設示意圖，如附圖所示，由圖中的內容加以判斷，當時實施此種建設的目的為何？ (A) 達到開山撫番的效果 (B) 促進西部交通的順暢 (C) 強化臺灣的軍事防務 (D) 增加在臺的財政收入。

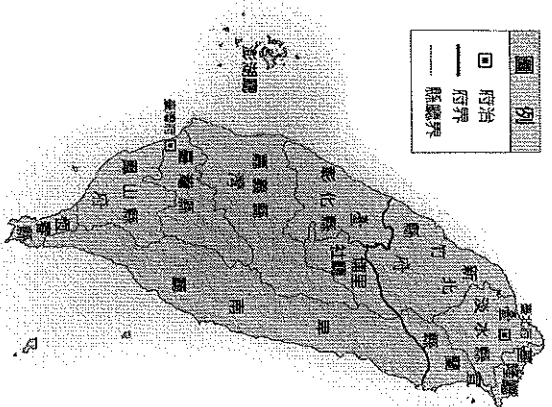


34. () 接續上題，此建設是在何人在臺時期進行的？ (A)沈葆楨 (B)丁日昌 (C)劉銘傳 (D)唐景崧。
35. () 法令(一)：廢除渡臺限制，大陸人民得攜帶家眷移居臺灣。
 法令(二)：終止劃界封山的政策，允許漢人進入山區開墾。
 法令(三)：取消禁止漢人與原住民通婚的規定。
 請問：上述法令的出現時機為何？ (A)中法戰爭發生後 (B)臺灣開港通商不久 (C)日軍進犯臺灣後 (D)台灣設省之後。
36. () 歷史課時，學生們討論臺灣西元1880年時的對外發展概況，哪一位的說法是正確的？ (A) 宇睿：「此時為清領前期，臺灣對外貿易大幅成長。」 (B) 詠安：「臺灣開放淡水、鹿港、安平、打狗四個港口。」 (C) 祐承：「郊商大量取代洋行。」 (D) 永成：「臺灣的進口商品以鴉片為最大宗。」
37. () 清領時期，臺灣社會由祭祀「唐山祖」漸轉為祭祀「開臺祖」，有關於此一轉變的意義為何？ (A) 來臺移民日久，逐漸形成認同臺灣鄉土的意識 (B) 不同祖籍的移民，供奉不同的神明 (C) 祖籍意識超越地方信仰 (D) 開臺祖先的重要性大於唐山祖。
38. () 十九世紀有「北臺第二富豪」之稱的李春生，擔任實順洋行總辦，經營開港後臺灣最大宗的出口品。下列敘述何者錯誤？ (A) 李春生經營茶葉的外銷 (B) 李春生經營的商品由淡水出口 (C) 大稻埕可能是他的商品加工集散區 (D) 李春生財源廣進時應是在清領前期。
39. () 小丸子將清領後期臺灣重要經濟作物的出口整理成附表，表格中的哪個項目是錯誤而須修改的部分？ (A)甲乙 (B)甲丙 (C)乙丙 (D)乙丁。

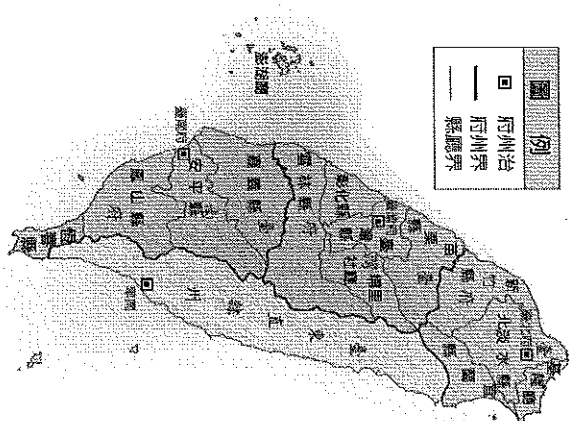
| 商品 | 產地 | 出口港 | 外銷地 |
|----|-----------|-----------|------------|
| 茶葉 | 北部 丘陵 | (乙) | (丁) 歐、美 |
| 蔗糖 | (甲) 南部 | 安平、 打狗 | 中、日 、澳 |
| 樟腦 | 中北部 | (丙) 打狗 | 歐、日 、美 |

40. () 臺灣從荷西時期到清領期間的進出口貿易，每個階段都有不同的變化。請問：關於這段時期臺灣的出口貿易，下列敘述何者錯誤？ (A) 荷治時期，臺灣是貿易轉運站，出口以蔗糖、茶葉和鹿皮為主 (B) 鄭氏時期，出口以鹿皮、瓷器和絲綢為主 (C) 清領前期，以中國為主要貿易區，主要出口稻米及蔗糖 (D) 清領後期，臺灣開港，出口以茶葉、樟腦和糖為主。
41. () 一本書籍記載某位歷史人物的事蹟如下：「西元1865年5月，他以基督教長老會傳教士與醫生的雙重身分來到臺灣，他在高雄旗後(今旗津)登陸後，選定臺灣府作為福爾摩沙醫療宣教的起點。後來，他頂讓一間民房，開辦看西街醫館，為全臺第一間西式醫院，他將醫館、藥局和禮拜堂結合為一，展開在臺灣醫療宣教之序幕。請回答下列問題：此篇短文應該是描述何人的事蹟？ (A)馬偕 (B)巴克禮 (C)甘維霖 (D)馬雅各。
42. () 小丸子到圖書館借了一本《臺灣的城門與炮臺》書籍，書中介紹了臺灣各地的城門與炮臺，吸引小丸子閱讀的興趣。請問：臺灣的第一座西式炮臺位於下列哪一個地方？ (A)紅毛城 (B)二沙灣炮臺 (C)北門鎖鑰 (D)億載金城。
43. () 承上題，此座炮臺是何人所興築？ (A) 沈葆楨 (B) 丁日昌 (C) 劉銘傳 (D) 唐景崧。
44. () 承上題，當時興建此一炮臺的主要因素是受到哪一外患的刺激？ (A) 英國 (B) 日本 (C) 美國 (D) 法國。
45. () 安安傳播公司正在企畫製作一系列「臺灣古蹟巡禮」專題報導，藉以回顧臺灣的開發歷程。請問：在「臺灣古蹟巡禮——劉銘傳篇」此一專題中，最適宜製作下列哪一個古蹟的報導？ (A) 滬尾炮臺 (B) 恆春古城牆 (C) 億載金城炮臺 (D) 紅毛城建築。

46. () 如果要製作「臺南古蹟巡禮」，下列古蹟的介紹，應如何依時間排列才符合史實的演變？(甲)臺南孔廟 (乙)英商德記洋行 (丙)熱蘭遮城 (丁)德載金城 (A)甲乙丙丁 (B)乙丙甲丁 (C)丙丁甲乙 (D)丙甲乙丁。
47. () 丁日昌以福建巡撫的身分來臺，巡察臺灣南北各地，對臺灣有不少興革的措施，在丁日昌治臺期間，哪一項建設工作最早開始？(A)架設電報線 (B)興築鐵路 (C)設郵政總局 (D)培養翻譯人才
48. () 清領時代前期，臺灣對中國大陸貿易量大增，形成但在臺灣開港後，北部港口的貿易額大增，逐漸超越南部，政治、經濟重心也移往北部。請問：造成臺灣開港後，政治、經濟重心北移，與哪一項商品的輸出占當時輸出總額的一半以上有關？(A)茶葉 (B)稻米 (C)樟腦 (D)蔗糖。
49. () 清朝統治臺灣初期，曾明令禁止男子攜眷來臺，其後清廷為了積極建設，取消該項限制。此項禁令的取消，對日後臺灣發展帶來什麼樣的影響？(A)人口擴增，拓墾加速 (B)族群械鬥，日趨激烈 (C)性別失衡，男多於女 (D)漢人活動範圍受限制。
50. () 圖一演變成圖二，和哪一事件有關？(A)英法聯軍 (B)中法戰爭 (C)甲午戰爭 (D)牡丹社事件。



圖一



圖二