

請用 2B 鉛筆依題號在電腦卡上作答，電腦讀卡時無法判斷身分者，扣總分 10 分。

範圍：第四冊 L.1~L.2

班級：_____

座號：_____

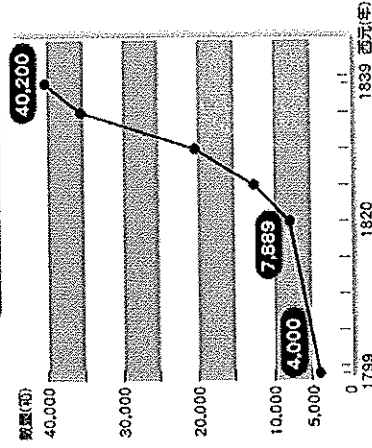
姓名：_____

基隆市立武崙國中 105 學年度第二學期第一次段考八年級社會試卷歷史科

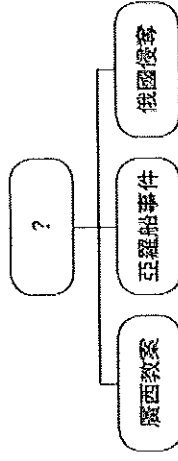
一、單選：(每題 2 分，共 100 分)

1. () 小真參加一場演講會，演講的內容以王安石、張居正、梁啟超等人的事蹟為主，由此推斷，這次演講的主題最可能是下列哪一項？ (A) 中國文學的傳承與發揚 (B) 科技發展與文明的變遷 (C) 中國與西方的文化交流 (D) 歷史洪流下的革新變法。
2. () 日本在《馬關條約》中，獲得在中國各通商口岸設立工廠的特權，英、法等國雖未參與簽訂該條約，卻也享有這種權力。請問這和下列哪一項規定有關？ (A) 五口通商 (B) 協定關稅 (C) 租界 (D) 片面最惠國待遇。
3. () 清末中國在鴉片戰爭中戰敗，與英國簽訂《南京條約》及其附約，這對日後歷史發展產生何種影響？ (A) 喪失司法財政的自主權，中國對外陷於不平等地位 (B) 中國割讓大片東北土地，使日後俄國南下火肆侵華 (C) 開放各國在華設廠製造，抑制中國民族工業的成長 (D) 准許外國在北京附近駐兵，導致中國防門戶洞開。
4. () 清乾隆年間，某機構雖是民間設立，但由官方主導，是與外商之間中介的橋梁。請問：此機構為下列何者？ (A) 市船司 (B) 郊 (C) 公行 (D) 海關。
5. () 清末，列強曾在中國取得租界，且有領事裁判權，各國在其租界內便享有自主的司法、經濟與行政等權利，清廷無法以法律規範這些外國人士。根據上述內容，下列哪一項敘述最符合其意涵？ (A) 國家主權的行使受到破壞 (B) 司法權與行政權相互制衡 (C) 畫定租界推廣中西文化的交流 (D) 經濟發展受到國際組織的限制。
6. () 附圖是清末中國進口鴉片的成長曲線圖。請問：清末鴉片進口量之所以快速攀升，與哪個國家想藉由出售鴉片，以減少對華貿易入超有關？ (A) 美國 (B) 英國 (C) 法國 (D) 俄國。

鴉片輸入中國數量



7. () 《南京條約》雖讓中國損失了許多權利，卻也開啟了某方面的平等。請問：這種平等反映在下列何者上？ (A) 設立租界 (B) 兩國文書往來 (C) 協定關稅 (D) 享有領事裁判權。
8. () 十九世紀時，道光皇帝派遣哪位大臣到何處查禁鴉片，引發了鴉片戰爭？ (A) 李鴻章/上海 (B) 曾國藩/南京 (C) 洪秀全/廣西 (D) 林則徐/廣州。
9. () 真到北京參觀圓明園，發現到處都是斷垣殘壁。請問：真真想了解圓明園殘破的原因，應該查閱下列何項資料？ (A) 《中法戰爭始末》 (B) 《南京條約下的中國》 (C) 《英法聯軍之役》 (D) 《鴉片戰爭始末》。
10. () 清朝統治臺灣時，可以分為清領前期與清領後期，而清領後期的開始與臺灣的開港通商有關。請問：臺灣開港通商是受到什麼事件的影響？ (A) 鴉片戰爭爆發 (B) 日本的威嚇利誘 (C) 簽訂中英法《天津條約》 (D) 簽訂《南京條約》。
11. () 如芸在整理某個歷史事件的相關因素，如附圖所示。請問：圖中的空格應該填入下列何者最正確？ (A) 鴉片戰爭 (B) 英法聯軍 (C) 甲午戰爭 (D) 中法戰爭。



12. () 清朝時期，外國勢力在中國的活動範圍原本只限於沿海地區。但自何時開始，外國勢力就逐漸進入內地？ (A) 鴉片戰爭之後 (B) 英法聯軍之後 (C) 《馬關條約》簽訂之後 (D) 《南京條約》簽訂之後。

13. () 咸豐6年2月，一名天主教神父被廣西西林縣的知縣以「糾結拜會、勾結亂黨」之罪處死。此事件引起該神父之母國不滿，並成為該國攻打中國的藉口。請問：從上文判斷，這位被殺的天主教神父應是哪國人？ (A) 英國 (B) 法國 (C) 俄國 (D) 德國。

14. () 「六月四日天王病死，七月十九日江寧城牆被火藥轟塌，守城士兵與湘軍進行巷戰。」上文應是描寫下列哪一場戰爭？ (A) 太平軍之役 (B) 鴉片戰爭 (C) 英法聯軍 (D) 八國聯軍。

15. () 「共產主義」不贊同財產私有制，主張財富不該集中在少數人手中，應為所有人共有。在歷史上，下列何者也有類似的概念？ (A) 唐代的「坊市制度」 (B) 明代的「一條鞭法」 (C) 太平天國的「聖庫」制度 (D) 臺灣的「三七五減租」政策。

16. () 清代中後期，外國勢力陸續入侵，清廷無力對抗，因此簽下了許多喪權辱國的條約。附表是其中幾個條約和其代表的意義。請問：其中何項錯誤？ (A) 甲 (B) 乙 (C) 丙 (D) 丁。

甲	中英《南京條約》： 近代第一個不平等條約
乙	中俄《璦琿條約》： 喪失領土最多的條約
丙	中英法《天津條約》： 外國勢力深入內陸
丁	中俄《北京條約》： 喪失東南的領土

17. () 俄國藉著中國內憂外患之際，要求中國割讓廣大的土地，使其喪失大部分的東北領土。」請問這是指什麼條約？ (A) 《天津條約》、《北京條約》 (B)

《天津條約》、《璦琿條約》 (C) 《璦琿條約》、《北京條約》 (D) 《南京條約》、《璦琿條約》。

18. () 除了東北的土地，中國西北的領土也是俄國覬覦對象，俄國以什麼藉口順利兼併中國西北廣大的領土？ (A) 勒定國界 (B) 發動戰爭 (C) 鼓勵移民 (D) 趁著鴉片戰爭期間進行占領。

19. () 太平天國的影響不包括下列何者？ (A) 嚴重破壞長江中下游之地 (B) 婦女地位因此提升 (C) 漢人政治地位提高 (D) 促進自強運動的推展。

20. () 蓉翻開《中國歷史圖說》一書，在書中看到如附圖的漫畫。請問：圖中發表言論的人物，最可能是下列何者？ (A) 林則徐 (B) 曾國藩 (C) 李鴻章 (D) 洪秀全。



21. () 太平天國首都天京是下列何地？ (A) 南京 (B) 廣州 (C) 上海 (D) 北京。

22. () 太平軍勢如破竹地進入湖北，在此危急之際，朝廷命令下列何人，幫辦湖南團練，組成了湘軍，以補正規軍之不足？ (A) 李鴻章 (B) 林則徐 (C) 曾國藩 (D) 丘逢甲。

23. () 曾國藩曾參與平定晚清最大內亂，他提出哪一項主張而獲得士人的支持？ (A) 維護傳統文化 (B) 反清復明 (C) 提倡男女平等 (D) 公有共享。

24. () 拜上帝會新入教者受洗誓詞：「小子(小女)跪在地下，真心悔過... 懇天父皇上帝時賜聖神風，化惡心，永不准妖魔迷。」可得知太平天國模仿哪一宗教的教義來吸引民眾？ (A) 道教 (B) 佛教 (C) 基督教 (D) 伊斯蘭教。

25. () 促使太平天國之亂發生的因素，以下列哪個背景因素最為重要？ (A) 經濟因素 (B) 外交因素 (C) 氣候因素 (D) 種族因素。

26. () 清代某大臣上奏：「兩年前，我們選送六位廣方言館學生到北京考試，後來總理衙門來函稱讚這六名學生表現卓越，現已授予這些學生『翻譯貢生』的資格。」這份奏摺所陳述的情況最可能發生在下列何時？ (A) 三藩之亂期間 (B) 鴉片戰爭之時 (C) 自強運動期間 (D) 新文化運動時。
27. () 清末推行自強運動，總理各國事務衙門是當時成立的第一個新機構。該機構最初設立的目的是可能為下列何者？ (A) 裁決司法案件 (B) 籌辦議政會治 (C) 辦理外交事宜 (D) 籠絡境內民族。
28. () 魏源是清末的知識分子，曾經在其著作《海國圖志》一書中提出「師夷長技以制夷」的主張，但一直未受到重視。請問：他的主張到何時才被接納採用？ (A) 鴉片戰爭以後 (B) 英法聯軍以後 (C) 瓜分風潮以後 (D) 甲午戰爭以後。
29. () 此人是清末的重要大臣，曾經為國家平定太平天國之亂，在自強運動期間負責督辦江南機器製造局以及北洋艦隊，並且代表清廷到日本簽下《馬關條約》。」請問此人是誰？ (A) 奕訢 (B) 李鴻章 (C) 曾國藩 (D) 左宗棠。
30. () 「劉銘傳來到臺灣以後，開始在臺鋪設鐵路，並且設立電報學堂、新式學堂等學校，甚至設立郵政機構，希望把臺灣建設成一個模範省。」請問：劉銘傳來到臺灣所推行的建設，正值中國哪個改革運動期間？ (A) 皇民化運動 (B) 張居正變法 (C) 自強運動 (D) 大化革新。
31. () 自強運動開辦的過程中，遇到重重的阻礙。下列關於其失敗的敘述，何者不正確？ (A) 守舊派反對勢力龐大，推動者的見識也有限 (B) 地方督撫合作無間，其中以東南各省的整合最成功 (C) 偏重器物層面的改革，思想方面的革新不足 (D) 中央和地方各行其政，無法做出整體性的規畫。
32. () 有一份清代皇室成員的手稿，內容寫著：「我們應力圖革新振作，學習西方船塢炮利的技術，否則國家的滅亡之日將至。」請問：這應該是下列何人的手稿？ (A) 曾國藩 (B) 洪秀全

- (C) 李鴻章 (D) 奕訢。
33. () 1860 年代以後，日本的有識之士大力呼籲改革，以突破內憂外患的困境，下列哪一項最可能是當時維新人士所提出的共同主張？ (A) 振興武士道精神，重建階級嚴明的社會 (B) 效忠幕府將軍，團結一致以抵抗外國的侵略 (C) 實施君主專制，重君權以消除國內反對勢力 (D) 提倡文明開化，全面學習西方的科技與制度。
34. () 附表是西元 1840~1913 年間，外國在中國設廠的數量和資本額情況。其中，某一時期的數字呈現大幅度的成長，這應與下列哪一件史實的關係最密切？ (A) 英法聯軍戰敗北京失守 (B) 甲午戰後簽訂馬關條約 (C) 列強在華畫分勢力範圍 (D) 維新變法引進外國資本。

時期(西元)	設立工廠家數	設立時的資本額(千元)
1840~1870	7	2,802
1870~1894	16	4,829
1894~1913	136	103,153

35. () (一) 戰爭發生在十九世紀末期 (二) 清廷為了維護藩屬宗主權而戰 (三) 劉銘傳率軍來臺抵禦外敵入侵
由以上資料，可以推論這是指下列哪一場戰爭？ (A) 鴉片戰爭 (B) 英法聯軍 (C) 中法戰爭 (D) 甲午戰爭。
36. () 請問臺灣民主國的建立與下列哪一場戰爭有關？ (A) 鴉片戰爭 (B) 中法戰爭 (C) 甲午戰爭 (D) 八國聯軍。
37. () 請問：下列何者不是李鴻章的生平事蹟？ (A) 組建淮軍，對抗太平天國 (B) 推行自強運動 (C) 代表清廷簽訂《馬關條約》 (D) 第一位臺灣巡撫。
38. () 清末以來，中國面臨內憂外患的威脅，各國紛紛前來奪據中國的藩屬，附表中有關奪據國家與喪失藩屬之配對，何者有誤？

選項	列強	藩屬
(A)	德國	朝鮮
(B)	英國	緬甸
(C)	法國	越南
(D)	日本	琉球

39. () 日本於牡丹社事件時出兵攻擊臺灣，並迫使清廷承認其攻擊行動是「保民

義舉」。請問：日本當時所欲保護的「民」所指為何？(A)朝鮮 (B)琉球 (C)越南 (D)緬甸。

40. () 光緒年間，法國出兵攻打中國藩屬，中法發生戰爭。英國趁戰爭期間占領中國哪個藩屬？(A)緬甸 (B)琉球 (C)朝鮮 (D)越南。

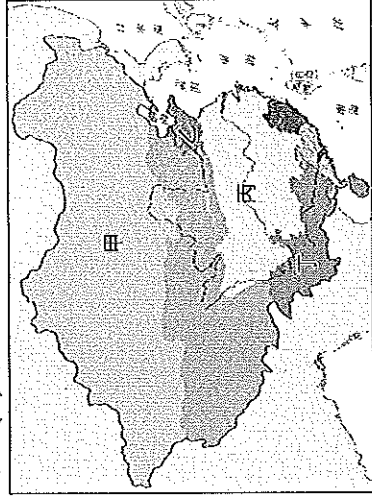
41. () 甲午戰爭與鴉片戰爭的共同點為何？(A)皆西方列強入侵中國所引發 (B)結果都割地、賠款 (C)簽約者皆為李鴻章 (D)都因商務問題引起。

42. () 附表為《馬關條約》的條文。請問其中哪條對中國的民生工業傷害最重？(A)甲 (B)乙 (C)丙 (D)丁。

(甲)	中國承認朝鮮自主
(乙)	中國賠款二萬萬兩
(丙)	日人可以在中國各口岸從事工藝製造
(丁)	割讓臺、澎等地

43. () 清廷與日本簽訂《馬關條約》後，引起俄國的不滿，為保障自己利益，聯合德國、法國加以干涉，希望可以改變條約中的某項內容。這內容應為下列何者？(A)割讓臺灣 (B)允許朝鮮獨立 (C)割讓遼東半島 (D)在各通商口岸設廠。

44. () 中國某地的歷史建築，充滿著濃濃的德國風情，原來是此地曾在瓜分風潮時，成為德國的勢力範圍。請問：如果想要欣賞這些傳統德式建築，須前往圖中的何處？(A)甲 (B)乙 (C)丙 (D)丁。



45. () 甲午戰爭以後，中國面臨被列強瓜分的困境，而美國在華的貿易利益也因此大受影響，因此主動提出「門戶開放政策」，這樣的主張對中國造成什麼樣的影響？(A)保持了中國領土

與主權的完整 (B)造成中國通商口岸商業繁盛 (C)使外商得以在中國的通商口岸設廠製造 (D)促使中國的關稅利益降低。

46. () 清末的瓜分風潮，列強向滿清政府提出哪些訴求？(甲)各國軍隊進駐北京 (乙)租借港灣 (丙)實行君主立憲政體 (丁)劃分勢力範圍 (A)甲乙 (B)甲丙 (C)乙丁 (D)丙丁。

47. () 有篇介紹某位清末歷史人物的文章，其中有兩段敘述如下：(一)「他跟一批有志之士上書請願、組織學會、辦報紙，鼓吹政治革新的理念，大談救國思想。」(二)「他得到皇帝支持，推動政治改革，卻因保守派發動政變，使他的理想曇花一現，最後亡命海外。」

根據上述資料判斷，這篇文章介紹的歷史人物是誰？(A)李鴻章 (B)張之洞 (C)康有為 (D)孫中山。

48. () 1898年，紫禁城內發生政變，慈禧太后再度出面掌政，到處搜捕被視為亂黨的改革者，原被裁撤的政府部門和各類官職也重新恢復，軍政大權則由太后信任的權貴控制。下列何者是造成此事件發生的原因？(A)自強運動 (B)百日維新 (C)八國聯軍 (D)辛亥革命。

49. () 自強運動與戊戌變法都是中國近代非常重要的改革運動，關於這兩個改革的共同點，下列敘述何者正確？(A)皆因對外戰敗刺激而展開 (B)皆重視理念層次的改革 (C)皆鼓勵人民評批時政 (D)兩個改革運動皆成功推展。

50. () 下列何者屬於戊戌變法設立的機構？(A)江南機器製造局 (B)福州船政局 (C)北洋艦隊 (D)京師大學堂。