

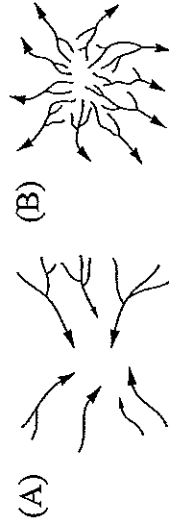
基隆市立武崙國民中學一〇五學年度第二學期第一次段考八年級地理科試題卷

注意事項：

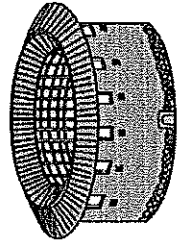
1. 單選題及題組，共 50 題，每題 2 分。請用 2B 鉛筆依題號於答案卡上畫記。
2. 答案卡上的資料欄請確實填寫，若資料欄畫記錯誤導致電腦無法正確判讀，扣總分 10 分。

班級：八年 班座號： 姓名：

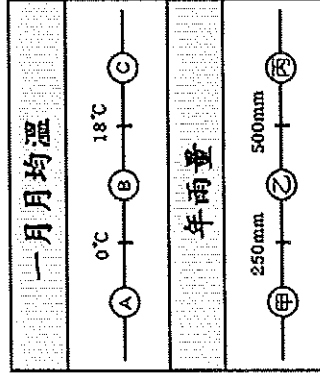
- () 1. 阿崙搭乘直升機遊覽長江流域，沿途拍下了許多美麗的地表景觀照片，這些照片中最不可能出現下列哪種景觀？(A)水鄉澤國 (B)河湖廣布 (C)峰林聳立 (D)三峽奇景
- () 2. 東北的大連港為中國重要的對外貿易門戶，目前已與世界上 160 多個國家和地區、300 多個港口建立了經貿航運關係。開闢貨櫃國際航線 81 條，基本覆蓋全球主要港口。請問：由大連港出口的東北主要貨物中，不包括下列何者？
(A)鋼鐵 (B)石油 (C)小麥 (D)茶葉。
- () 3. 長江流經宜昌之後進入平原，流經兩湖盆地、鄱陽盆地，最容易形成以下哪種水系？



- () 4. 阿中前往福建山區旅遊，看到當地建築如附圖所示。請問：當地居民建造此種建築的主要目的為何？
(A)防禦外敵 (B)抵抗地震 (C)發展觀光 (D)通風降溼。



- () 5. 附圖為中國氣候分類示意圖。請問北部區域多屬於下列哪一種氣候配對類型？
(A) A-甲 (B) A-丙 (C) B-乙 (D) C-乙。



- () 6. 中國面積相當廣大，各地區的環境特色皆不相同。請問：下列何者最可能是四川盆地？

	地區特色
(A) 甲	盛行游牧、山牧季移
(B) 乙	最大沙漠，雪水灌溉的綠洲農業
(C) 丙	乾燥蒸發盛，岩鹽礦物多，稱為聚寶盆
(D) 丁	紅土層肥沃，多渠道灌溉，有紅盆地之稱

- () 7. 雲貴高原的昆明環境幽靜，四季如春，其氣候比緯度差不多的廣州涼爽宜人的主要原因是什麼？
(A) 北部有高山屏障 (B) 地勢較高 (C) 日照時間短 (D) 四周有寒流的經過

- () 8. 下列哪個氣候資料最可以代表中國南部區域的海南省？

	(A)	(B)	(C)	(D)
一月月均溫(°C)	18.5	-4.3	-13.7	3.7
七月月均溫(°C)	28.5	25.9	24.7	27.8
年降水量(mm)	1,984	578	236	1,110

- () 9. 2003 年起，中國在六大地區中的某地區實施多項振興經濟的措施，例如：(1)更新工廠老舊設施或進行工業升級。(2)加強與俄羅斯、北韓邊界地區的經貿合作。(3)進行礦業、林業等資源型都市的轉型。下列何者最可能也是該地區進行的計畫之一？

- (A) 改善農地排水問題，增加糧食生產
- (B) 規畫南水北調工程，穩定水源供給
- (C) 增設經濟特區，加強和中亞的貿易
- (D) 興建三峽大壩，改善工業缺電問題。

- () 10. 中國南部區域的哪項自然條件，十分適合農業發展？(A)緯度較低，生長季長 (B)地形多山，起伏較大 (C)多石灰岩，土壤肥沃 (D)海岸曲折，島嶼眾多

- () 11. 下列哪項不是南部區域成為中國著名僑鄉的原因？
(A) 地形崎嶇，山多平原少 (B) 人口稀少，產業不發達 (C) 早期糧食不足，謀生不易 (D) 有便利的海運利於移往其他區域

- () 12. 附圖為《揚子晚報》的一則新聞，由新聞內容來看，這則新聞可能發生於哪一月分？

- (A) 2 月 (B) 7 月 (C) 10 月 (D) 11 月。

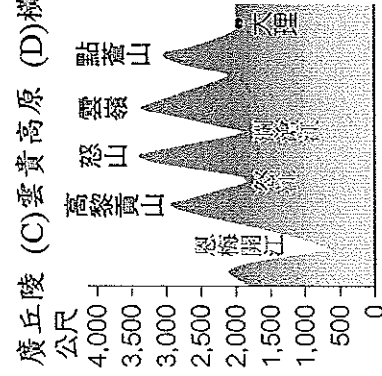
南京公車長出蘑菇

一名大學生在南京 97 號公車上發現司機座椅的後方長出一棵野生蘑菇，拍照上傳網路後，引發民眾議論。公車隊長表示，由於南京最近一直處於陰雨綿綿的雨季，車廂比較潮溼，所以才會長出蘑菇，目前蘑菇已經被清除。

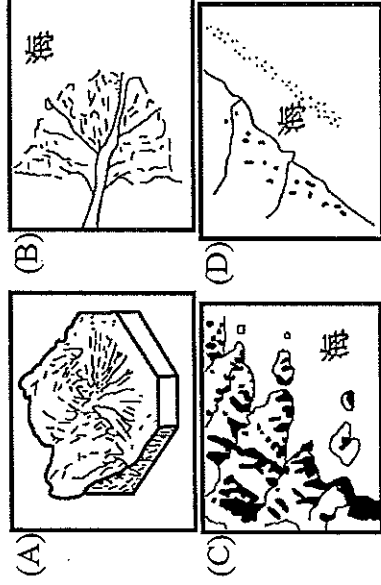
- () 13. 中國華北地區的氣候災害除了空氣汙染外，還包括黃河的水患問題。請問：黃河水、旱災多，最主要受下列哪些因素影響？

- (甲) 年降水量變率大 (乙) 地形平坦無法攔截水氣
 - (丙) 鋒面造成的陰雨綿綿 (丁) 降雨季節分布不均
- (A) 甲乙 (B) 甲丁 (C) 乙丙 (D) 乙丁。

() 14. 附圖是阿中沿著北回歸線由臺灣往西邊飛行，途中經過中國某地，當地的山脈呈南北走向，而居民平常都靠著架設在谷間的「溜索」往來。這個地方是在南部區域的哪個地形區？ (A) 珠江三角洲 (B) 兩廣丘陵 (C) 雲貴高原 (D) 橫斷山脈



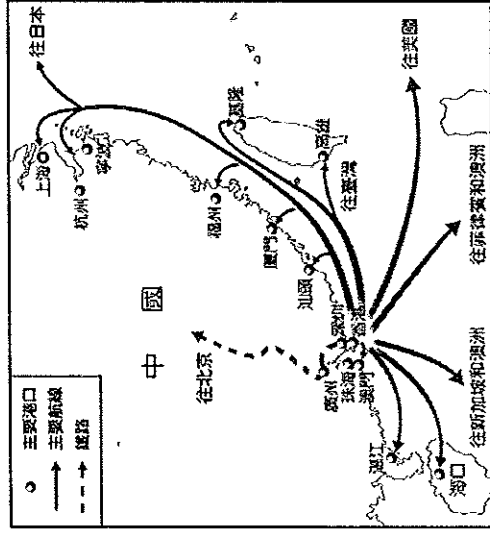
() 15. 在冰河時期，臺灣海峽曾經露出海面，形成中國與臺灣兩地相連的情況。如今海水位面上升，使得中國南部區域原本的丘陵形成下列何種海岸地形？



() 16. 若翻開中國南部區域茶、稻的分布圖，我們會發現這兩種作物的分布空間有所差異。造成上述兩種作物空間分布差異的主因為何？ (A) 緯度高低 (B) 地勢高低 (C) 距海遠近 (D) 農業政策

() 17. 重慶、武漢、上海、廣州等都市，具有下列哪項共通點？ (A) 位於京杭大運河沿線 (B) 發展重工業為主 (C) 皆處盆地地形中 (D) 均具備河港機能

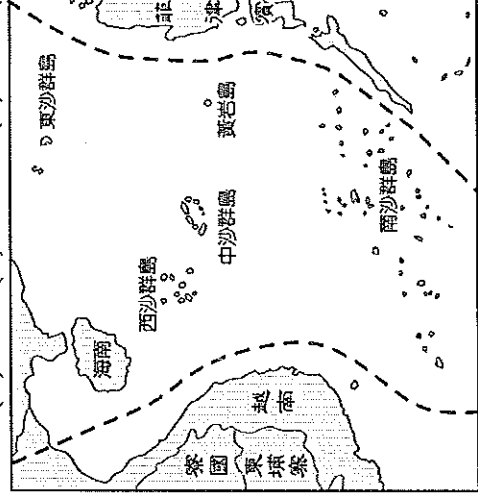
() 18. 附圖為香港位置圖，由圖可知香港的哪項經濟活動條件優越？ (A) 轉口貿易 (B) 技術研發 (C) 加工出口 (D) 金融服務



() 19. 上海在 1843 年開闢為中國五個對外通商口岸之一，目前為中國的第一大港埠，吸引了許多國外的金融機構與工廠設立於此。下列敘述何者有誤？

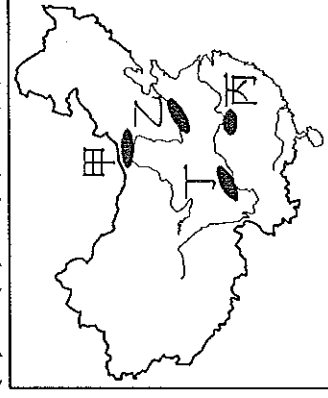
- (A) 上海市位置優越，是長江三角洲的重要都市
- (B) 上海市位於沿海與長江所交會的 T 型交點上
- (C) 因為長江流域可與內地連接，腹地廣大
- (D) 經濟改革開放後，成為經濟特區。

() 20. 中國近年來不斷擴張對外的勢力範圍，在附圖中的群島興建軍事設施，因此和周圍國家的關係相當緊張。請從圖中的位置判斷，該海域最可能為下列何者？ (A) 渤海 (B) 太平洋 (C) 南海 (D) 黃海。



() 21. 「水災」是中國歷史上重要的環境問題，附圖中哪個地區因民眾的「圍湖造田」，造成湖泊調洪能力大減，導致近年來出現水災頻仍的現象？

- (A) 甲 (B) 乙 (C) 丙 (D) 丁



() 22. 中國南部區域的農民經常在山地丘陵開闢梯田，當地居民採取這種作法的目的為何？ (A) 便於行走 (B) 利於灌溉，節省用水 (C) 增加耕地面積 (D) 形成特色發展觀光

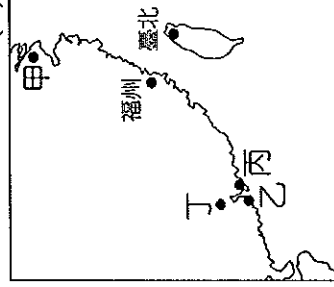
() 23. 長江三峽大壩堪稱世界最大水利工程，該工程的完工將帶來的好處是：

- (甲) 防洪 (乙) 保育 (丙) 發電 (丁) 水土保持 (戊) 航運
- 上述何者正確？ (A) 甲乙丁 (B) 乙丙丁 (C) 丙丁戊 (D) 甲丙戊

() 24. 承上題，三峽大壩興建後，可能會造成下列哪些負面影響？ (甲) 名勝古蹟淹沒 (乙) 水災發生頻率提高 (丙) 生態環境遭受破壞 (丁) 當地移民的遷徙與安置

- (A) 甲乙丙 (B) 乙丙丁 (C) 甲乙丁 (D) 甲丙丁

() 25. 該城市位於沿海港口，曾為西方國家的殖民地，因此經濟發展較中國其他地區早，為亞洲四小龍之列。後來回歸中國後，由於不滿其特首選舉制度，因此民眾屢次發起示威抗議，最後爆發佔領經濟中心的雨傘運動，引起全球矚目。請問：上述城市位於附圖中何處？ (A) 甲 (B) 乙 (C) 丙 (D) 丁



() 26. 下列為中國境內不同地區的環境特色，請依其特性加以分析，何者最可能為華中的環境特色？

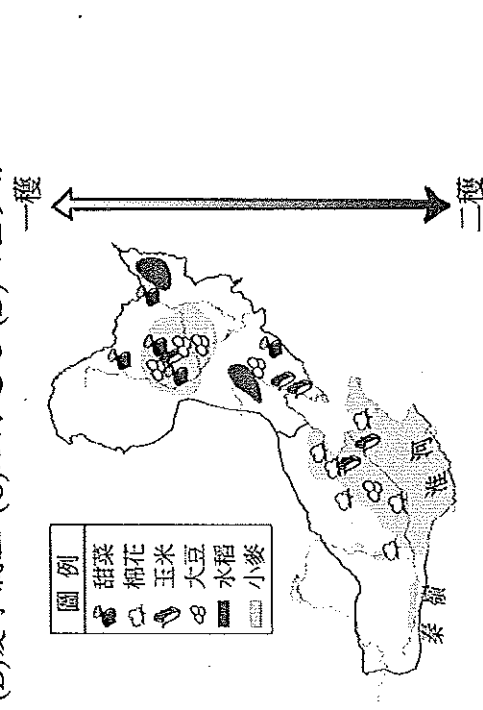
區域	氣候	地形
(A) 甲	熱帶季風氣候	高原、丘陵
(B) 乙	副熱帶季風氣候	平原、盆地
(C) 丙	副熱帶季風氣候	平原、高原
(D) 丁	溫帶季風氣候	平原、盆地

() 27. 《孟子·盡心》記載：「孔子登泰山而小天下」，意指登上泰山視野廣闊，而有天下景物皆渺小的感覺。當孔子爬上位於山東丘陵的泰山時，其眼下所俯瞰的廣闊地區應為下列哪個地理區？ (A) 華北平原 (B) 東北平原 (C) 黃土高原 (D) 長江三角洲

() 28. 石灰岩地形的發育和氣候條件關係甚大。請問：下列何種氣候最適合石灰岩地形的發育？

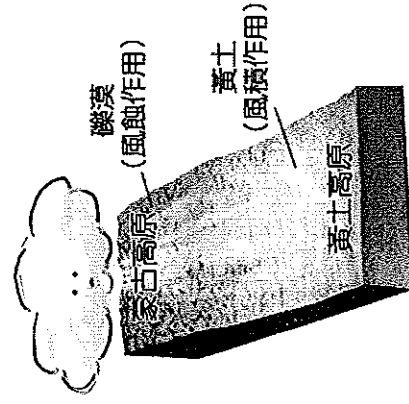
地點	年雨量(mm)	一月月均溫(°C)	七月月均溫(°C)
(A) 甲	1,293	20.4	27.5
(B) 乙	19	-9.6	33.6
(C) 丙	255	-6.7	35
(D) 丁	590	-3.5	28.9

() 29. 附圖為北部地區作物分布示意圖。圖中收穫次數的多寡與哪一個條件關係最密切？ (A) 緯度高低 (B) 夏季氣溫 (C) 距海遠近 (D) 雨量多寡。



() 30. 發源自長白山地的鴨綠江，因降水量較豐，故水力發電資源豐富，但在開發此處水力時，可能須與哪個國家達成共識，以免引發國際糾紛？ (A) 日本 (B) 北韓 (C) 南韓 (D) 俄羅斯

() 31. 附圖為黃土高原的形成示意圖，請根據圖中資料加以判斷，風吹往哪一方向？ (A) 東北方 (B) 西南方 (C) 東南方 (D) 西北方。



() 32. 北部區域向來是中國重工業的發展重鎮，其與下列哪項因素密切相關 (A) 夏季降水集中 (B) 能源礦產豐富 (C) 研發技術優越 (D) 勞力低廉充足。

() 33. 「本區生長季短，年僅一穫，作物以小麥、玉米、大豆、稻米及甜菜為主，產量豐富，為中國糧食輸出重鎮。」上文所描述的地區，最可能出現在下列哪個地理區？ (A) 東北平原 (B) 華北平原 (C) 四川盆地 (D) 長江中下游平原

() 34. 過去的「北大荒」，今日卻能成為農業發達的「北大倉」，此改變均拜何所賜？ (A) 溫室效應 (B) 改善排水設施 (C) 施用化肥，增加土壤沃度 (D) 改植早熟稻，生長期縮短

() 35. 針葉林材質良好、林相單純，有利於機械採採。若想到中國開採針葉林，應到附圖中的何處？

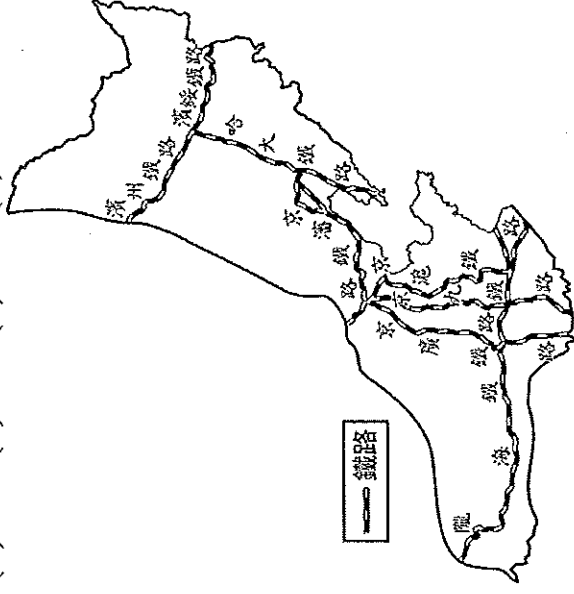


() 36. 附表中的哪組產業類別是遼中南工業區發展的主要重心所在？

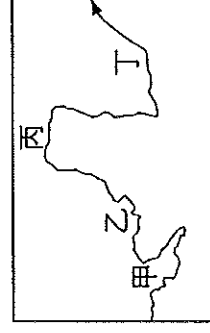
產業類別
(A) 甲 紡織、製鞋
(B) 乙 奈米、生化
(C) 丙 鋼鐵、機械
(D) 丁 罐頭、飲料

() 37. 北京中關村有「中國矽谷」之稱，下列哪項區位要素為其崛起的優勢條件？ (A) 技術 (B) 原料 (C) 動力 (D) 市場

() 38. 附圖為中國北部區域主要鐵路分布圖，由圖中可知，區域內的主要鐵路幹線是以哪個都市為中心向外輻散，使該地可聯絡全國重要都市及港口？ (A) 天津 (B) 北京 (C) 上海 (D) 瀋陽



() 39. 黃河泥沙大量淤積，導致河床高於兩岸平原，形成「地上懸河」。你認為「地上懸河」的景觀可能出現在附圖中的哪個河段？ (A) 甲 (B) 乙 (C) 丙 (D) 丁

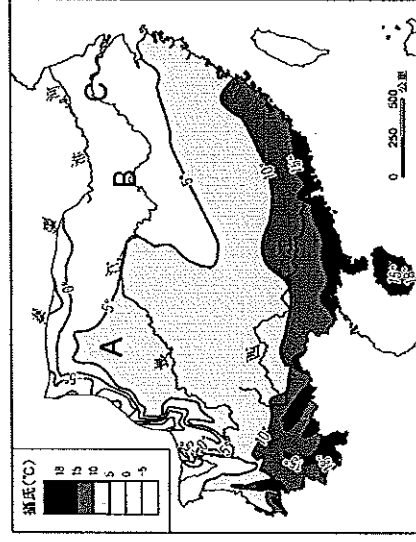


- () 40. 都市發展與交通息息相關，大都市常位在各種交通方式交會的樞紐上。阿國整理中國大連、北京、上海、重慶的交通方式，將其歸納成附表的四種類型。下列對於上述四個都市與附表的對應，何者正確？
 (A) 北京為甲類 (B) 重慶為乙類 (C) 上海為丙類 (D) 大連為丁類。

類型	交通方式
甲	鐵路—公路樞紐
乙	海運—鐵路—公路樞紐
丙	河運—鐵路—公路樞紐
丁	河運—海運—鐵路—公路樞紐

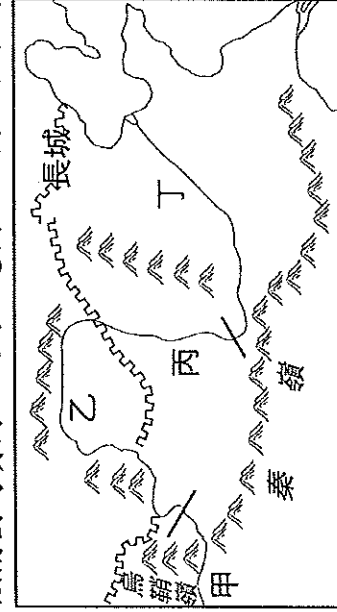
- () 41. 阿益在看地理雜誌時，其中有一篇文章的標題是「長江水萬里北征」，你認為這可能是一篇介紹什麼主題的文章？ (A) 長江流域的農作外銷 (B) 解決黃河流域缺水策略 (C) 長江流域的水運系統 (D) 中國民生用水的主要來源

※中國南部區域全年高溫多雨，附圖為南部區域的一月分等溫線圖。請回答下列問題。



- () 42. 等溫線的位置大致呈現水平排列，主要是受到哪種因素影響？ (A) 距海遠近 (B) 洋流 (C) 緯度 (D) 盛行風向。
 () 43. 請問附圖中 A 地一月均溫高於 B、C 兩地的主要原因為何？ (A) 距海遙遠 (B) 盆地地形 (C) 日照時間較長 (D) 北側有高山。

※附圖為黃河主流的示意圖，依圖回答下列問題。



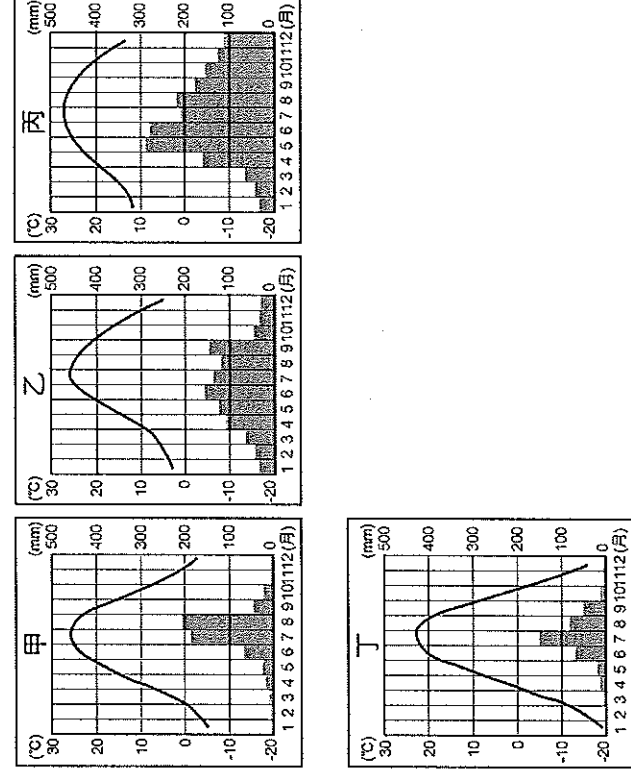
- () 44. 近年來黃河屢次出現斷流的現象，以何處最為嚴重？ (A) 甲 (B) 乙 (C) 丙 (D) 丁
 () 45. 黃河在哪個河段最須擔心水土流失問題？ (A) 甲 (B) 乙 (C) 丙 (D) 丁

※在中國西安城南小雁塔附近，有個武家坡，上有一個破舊的窑洞，據說這裡就是唐朝王寶釧苦等丈夫薛平貴十八年的故事所在地。這裡建有一座祠廟，廟柱上題有一首詞：「十八年古井無波，為從來烈婦貞媛，別開生面；千餘歲寒窑向日，看此處曲江流水，想見冰心。」請問：



- () 46. 王寶釧所住的窑洞位於圖中何處？ (A) 甲 (B) 乙 (C) 丙 (D) 丁
 () 47. 承上題，形成此區地形的主因為下列何者？ (甲) 河流沖積 (乙) 河流侵蝕 (丙) 風力堆積 (丁) 風力侵蝕
 (A) 甲、丁 (B) 乙、丙 (C) 甲、丙 (D) 乙、丁
 () 48. 詞中的「曲江流水」，指的是哪條河流？ (A) 黑龍江 (B) 黃河 (C) 長江 (D) 海河

※附圖為中國東半部某四個都市的氣候圖，請回答下列問題。



- () 49. 甲、乙、丙、丁四個都市何者的年溫差最大？
 (A) 甲 (B) 乙 (C) 丙 (D) 丁
 () 50. 依據圖中資料判斷，這四個都市若由南而北排列，則正確的順序如何？ (A) 甲乙丙丁 (B) 乙丙甲丁 (C) 丙乙甲丁 (D) 丁甲乙丙

【試題結束，請再檢查一次！】