

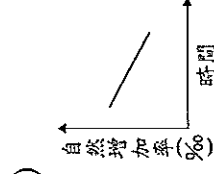
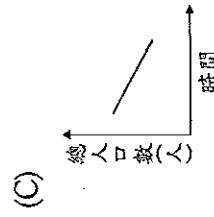
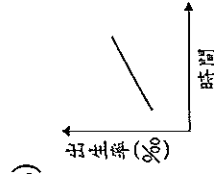
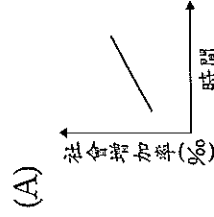
基隆市立武崙國民中學 105 學年度第二學期七年級地理科第一次段考試題

請依序在答案卡上作答，未依規定劃記者將扣總分十分

班級 座號： 姓名：

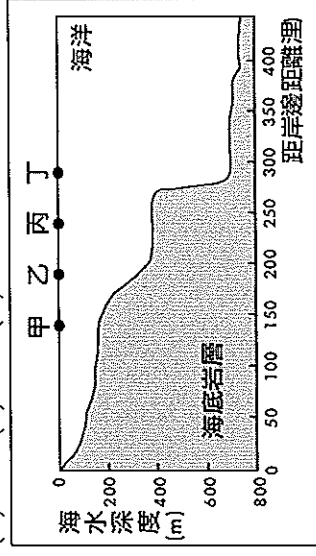
第一大題：選擇題 (1~25 題，每題 2 分，26~35 每題 3 分)

- () 武崙國中七年級學生的性別比約為 104，請問代表什麼意義？(A) 男生比女生多 104 人 (B) 女生比男生多 104 人 (C) 男生比女生多 (D) 女生比男生多。
- () 臺灣人口政策的口號由「兩個孩子恰恰好，一個不嫌少」轉變為「兩個孩子恰恰好，三個更熱鬧」。下列哪一個圖形最能用來說明上述口號轉變的原因？

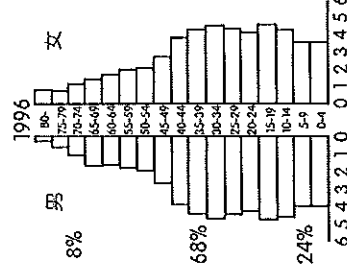


- () 關於台灣發展漁業的優點，下列何者『錯誤』？(A) 海岸線長 (B) 陸地面積廣大 (C) 寒暖流交會 (D) 大陸棚廣大
- () 「武崙國中調查顯示學生平常最喜歡吃的食物就是炸雞、薯條以及漢堡，對臺灣傳統的主食『米飯』完全不感興趣。」請問：上述國民飲食習慣改變的現象，對臺灣農業造成的最大影響為何？(A) 稻米價格上升 (B) 農民紛紛改種小麥 (C) 稻米產量供過於求 (D) 稻米外銷大增。
- () 農民種植茂草或飼料作物，飼養乳牛、羊，以供應居民鮮乳或乳製品的方式。以上這種農業稱為？(A) 有機農業 (B) 酪農業 (C) 精緻農業 (D) 欄牧。

- () 近年來，彰化縣蔗田面積逐漸縮減，轉栽其他作物以獲取較高的利潤，尤其是田尾鄉一帶更以此種作物打出名號，頗富盛名，2010 年在臺北所舉辦的博覽會也大量採用此區之作物。請問：則此作種農作物應為：(A) 花卉 (B) 蔬菜 (C) 茶 (D) 熱帶水果
- () 漁夫歐遜平日以捕魚維生，下圖是他經常捕魚的海域海底剖面圖。請問：根據下圖顯示，甲、乙、丙、丁何處海域屬於大陸棚範圍，較有機會能捕撈到豐富的魚類？(A) 甲 (B) 乙 (C) 丙 (D) 丁



- () 近年來臺灣森林經營的方向，著重於下列哪項？(A) 廣闢梯田、高山果園 (B) 砍伐與保育並重 (C) 全面砍伐，物盡其用 (D) 重保育、永續利用。
- () 下圖是一個人口金字塔的圖型，請依圖中的資料判斷下列敘述何者正確？(A) 年齡的級距是每 4 歲一個級距 (B) 在 5-9 歲的的級距中，女生數量比男生多 (C) 幼年人口是指 0~15 歲之間 (D) 這是個高齡化社會



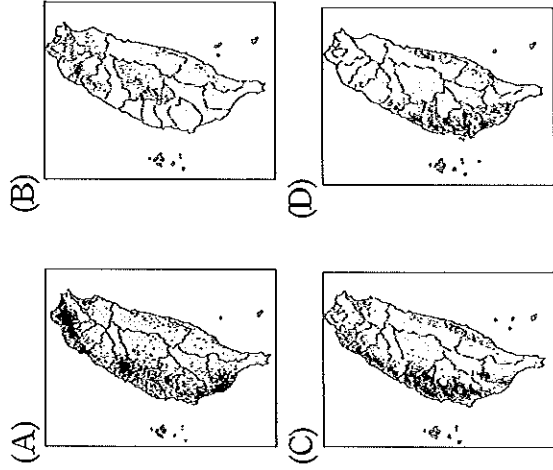
10. () 中 黨 研 究 臺 灣 和 中 國 的 畜 牧 業 ， 發 現 中 國 東 南 部 的 牧 業 類 型 跟 臺 灣 一 樣 ， 多 以 欄 牧 為 主 ， 由 此 可 推 測 這 兩 地 有 什 麼 共 同 特 色 ？ (A) 地 狹 人 稠 (B) 雨 量 豐 沛 (C) 技 術 限 制 (D) 工 資 昂 貴 。

11. () 下 表 為 四 個 國 家 的 人 口 年 齡 組 成 。 請 根 據 資 料 哪 一 個 國 家 的 「 扶 養 比 最 低 」 ？ (A) 平 安 國 (B) 快 樂 國 (C) 健 康 國 (D) 幸 福 國

國 名	14 歲 以 下	15~64 歲	65 歲 以 上
平 安 國	28%	65%	7%
快 樂 國	36%	60%	4%
健 康 國	17%	70%	13%
幸 福 國	40%	54%	4%

12. () 近 十 幾 年 來 台 灣 引 進 越 來 越 多 的 外 籍 勞 工 ， 其 最 大 來 源 地 是 ？ (A) 中 國 大 陸 (B) 印 尼 (C) 泰 國 (D) 越 南 。

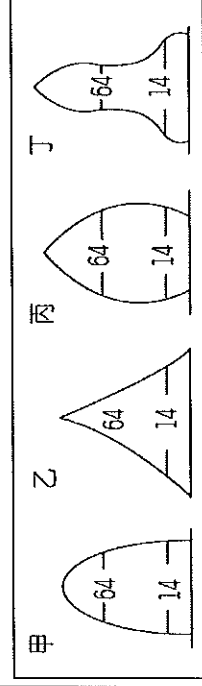
13. () 稻 米 是 台 灣 耕 種 面 積 最 大 的 作 物 ， 主 要 有 水 源 灌 溉 的 平 原 。 請 閱 下 列 四 張 圖 中 ， 何 者 是 臺 灣 水 稻 的 分 布 圖 ？



14. () 新 聞 報 導 來 自 臺 灣 屏 東 與 高 雄 共 三 艘 漁 船 為 了 追 捕 鮪 魚 在 印 度 洋 上 被 索 馬 利 亞 海 盜 挾 持 ， 家 屬 心 急 如 焚 。 請 問 ； 這 些 漁 船 應 屬 何 種 漁 業 類 型 ？ (A) 沿 岸 漁 業 (B) 近 海 漁 業 (C) 遠 洋 漁 業 (D) 養 殖 漁 業 。

15. () 阮 氏 是 遠 從 越 南 嫁 來 臺 灣 的 外 籍 配 偶 ， 來 到 臺 灣 後 積 極 參 加 社 區 大 學 所 舉 辦 的 閩 南 語 學 習 課 程 ， 以 克 服 語 言 上 的 隔 閡 。 請 問 ； 外 籍 配 偶 來 臺 是 屬 於 哪 種 遷 移 型 態 ？ (A) 暫 時 性 國 內 遷 移 (B) 暫 時 性 國 際 遷 移 (C) 永 久 性 國 內 遷 移 (D) 永 久 性 國 際 遷 移

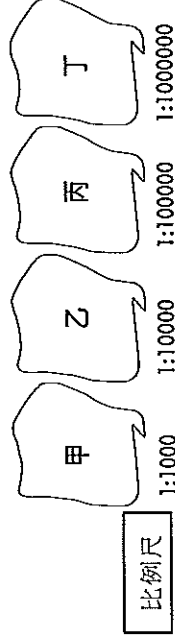
16. () 某 鄉 鎮 受 到 產 業 發 展 條 件 的 改 變 ， 使 得 社 會 增 加 率 呈 現 『 負 值 』 。 請 問 ； 這 種 現 象 可 能 出 現 何 種 人 口 金 字 塔 ？ (A) 甲 (B) 乙 (C) 丙 (D) 丁 。




17. () 臺 灣 人 口 稠 密 ， 生 活 環 境 面 臨 較 大 的 壓 力 與 潛 在 衝 擊 ， 而 在 人 口 方 面 ， 何 者 不 是 臺 灣 目 前 遇 到 的 人 口 問 題 ？ (A) 外 勞 數 量 過 多 ， 導 致 失 業 率 升 高 (B) 人 口 過 多 且 分 布 不 均 (C) 生 育 率 降 低 ， 將 使 未 來 勞 動 力 減 少 (D) 新 移 民 數 量 多 ， 適 應 問 題 需 幫 助 。

18. () 下 圖 甲 、 乙 、 丙 、 丁 四 個 國 家 的 人 口 數 均 為 30 萬 人 。 請 問 ； 由 圖 判 斷 ， 哪 個 國 家 的 人 口 密 度 最 大 ？

(A) 甲 (B) 乙 (C) 丙 (D) 丁

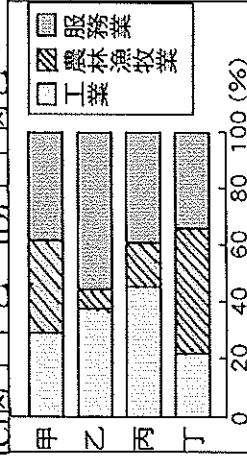


19. () 下 圖 為 臺 灣 50 多 年 來 生 育 數 統 計 圖 。 請 問 ； 若 這 種 生 育 率 發 展 現 象 再 持 續 下 去 ， 則 臺 灣 地 區 將 出 現 怎 樣 的 人 口 問 題 ？ (A) 教 育 資 源 減 少 (B) 扶 養 負 擔 減 輕 (C) 人 力 資 源 短 缺 (D) 就 業 機 會 減 少 。



20. () 附圖是臺灣在甲、乙、丙、丁四個不同時期的產業人口結構圖。依據臺灣經濟發展的情形，其出現的先後順序是下列何者？

- (A) 甲乙丙丁 (B) 乙丙丁甲
(C) 丙丁甲乙 (D) 丁甲丙乙。

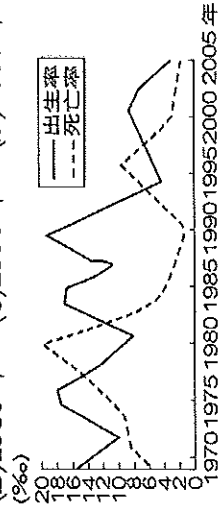


21. () 請問從人口金字塔圖中，無法看出何項事實？(A) 男生、女生的比例 (B) 老年人口的比例 (C) 總人口數量 (D) 經濟發展的狀況。

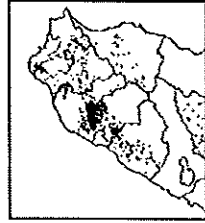
22. () 下列職業：(甲) 養鴨人家 (乙) 護士 (丙) 玩具工廠作業員 (丁) 老師 (戊) 計程車司機。請問：有幾項屬於第一級產業活動？(A) 二項 (B) 三項 (C) 四項 (D) 五項

23. () 臺灣的水果不但種類多且品質優良，在國際市場上大受歡迎。請問：臺灣水果種類多的原因為何？(A) 地形氣候多樣 (B) 市場廣大 (C) 生產技術進步 (D) 集約度高。

24. () 下圖為皮皮國的自然增加率資料，該國若曾發生過重大的傳染病，最可能是在哪年發生？(A) 1970年 (B) 1980年 (C) 1990年 (D) 2000年。



25. () 附圖為臺灣北部茶葉栽種的資料，圖上每點代表茶葉栽種面積二十公頃。思明想用下列這種類型的圖表



來呈現非洲人口資料。請問：下列哪一項主題最合？

- (A) 性別組成 (B) 人口分布
(C) 自然增加率 (D) 農業人口結構。

26. () 大觀準備在清明連假帶領童軍團到宜蘭縣某森林遊樂區露營，這個園區本來是台灣重要的林區，林業轉型後才轉變成遊樂區，請問是哪一個林區？(A) 阿里山林場 (B) 八仙山林場 (C) 太平山林場 (D) 林田山林場。

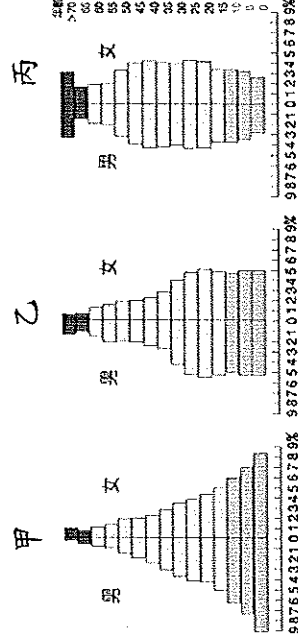
27. () 與美國、加拿大等地的粗放農業相比較，臺灣的農業具有哪些特徵？
(甲) 農地單位面積投入的人力較多
(乙) 採用大規模機械耕種
(丙) 單位成本高，缺乏競爭力
(丁) 單位面積的產量較低
(A) 甲丙 (B) 丙丁 (C) 乙丁 (D) 甲丁。

28. () 某地區的人口增加率為9.9%，死亡率為2%，社會增加率為0.9%，若總人口數為1000萬人，請問出生人口數為幾人？(A) 7萬人 (B) 11萬人 (C) 8.8萬人 (D) 12.8萬人。

29. () 上地理課時，李老師同學在討論第一級產業發展狀況，大家踴躍發表自己的看法。請問：下列哪位同學的見解是正確的？

露露	臺灣加入WTO，衝擊最大的是酪農業
拉拉	4-6月到屏東東港可看到漁民捕撈烏魚的盛況
玫瑰	黑鮪魚捕撈的方式是遠洋漁業
飄飄	美國的農業耕作方式是粗放農業

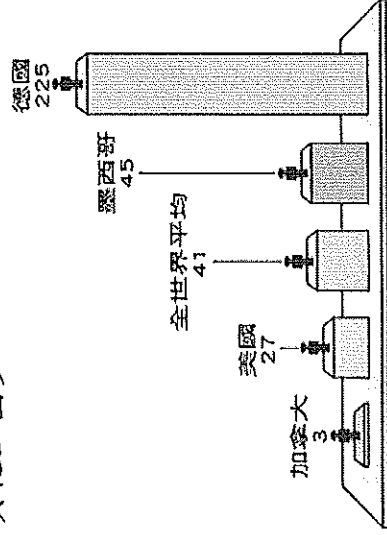
30. () 下圖為1900~2010年間臺灣人口金字塔的演變圖，請問：請問此四個人口金字塔圖出現的先後順序最有可能是？(A) 甲乙丙 (B) 甲丙乙 (C) 乙甲丙 (D) 丙乙甲。



31. () 近年來臺灣農業被迫轉型為精緻農業、休閒農業的原因，下列何者為非？
 (A)加入WTO (B)生產成本高昂 (C)勞動力年輕化 (D)賺取利潤少。
32. () 卡爾是今年剛升上國中七年級的學生，其家庭型態是屬於大家庭，家中成員有76歲的爺爺、72歲的奶奶、64歲的伯伯、56歲的伯母、一個讀師大的堂姐、念武崙國小的堂弟、46歲的爸爸、39歲媽媽，還有一個29歲未出嫁的姑姑。請問：下列有關卡爾家中成員的敘述，何者正確？
 (A)屬於幼年人口有3人 (B)屬於壯年人口有6人 (C)屬於老年人口有3人 (D)需要被扶養人口有5人。

33. () 附圖顯示某年數個國家的人口密度與全世界平均值的比較，圖上的數字為每平方公里的人口數。由圖中資訊可以得到下列何項結論？

- (A)加拿大土地面積較美國小
 (B)德國人力資源在四國中最高
 (C)墨西哥都市化程度較世界平均值高
 (D)德國每人可分配到的土地較其他三國少。

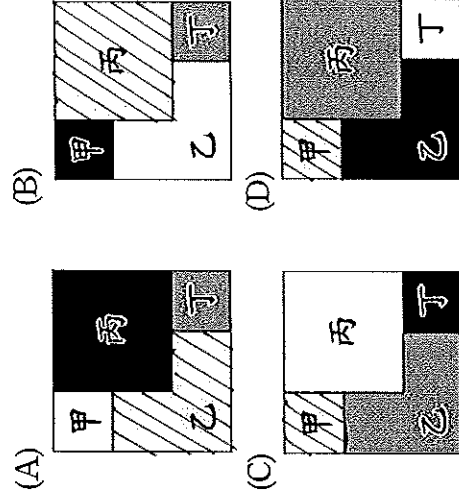


34. () 臺灣早期的農業發展主要是自給自足，但是隨著交通的改善，農產品開始以銷往都會區和國外等市場為導向，而各地區也開始依照本身條件，生產單一農作物，例如宜蘭三星蔥。請問在上文敘述中，畫線的部分「依序」代表哪一項臺灣農業特色？
 (A)集約化；專業化 (B)商品化；專業化 (C)專業化；商品化 (D)商品化；集約化

35. () 附表為四個地區的人口與面積資料，若根據附圖中的規則繪製人口密度圖，則下列何者最可能為繪製結果？

地區	人口 (萬人)	面積 (平方公里)
甲	1.8	100
乙	7.5	300
丙	2.0	400
丁	3.5	100

圖例	
每平方公里人口數	圖例
301~400人	黑色
201~300人	斜線
101~200人	點狀
100人以下	白色



【注意！尚有非選題喔！！】

基隆市立武崙國民中學 105 學年度第二學期七年級地理科第一次段考試題

班級： _____ 姓名： _____ 座號： _____

選擇得分	非選得分	總得分

第二大題：非選題，每格 2 分，共 10 分(請使用藍黑筆作答，違者不予記分)

(一)

高齡化來臨！台灣老年人口數超過幼年

三立新聞網 2017/03/09 14:50

記者張之謙／台北報導

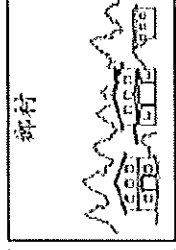
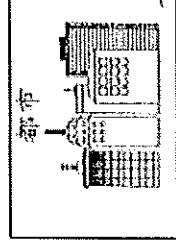
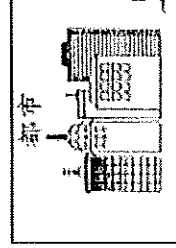
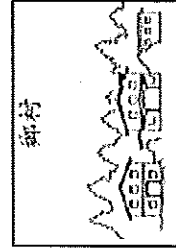
高齡化社會是台灣近幾年來面臨的問題，但人口老化現象卻不見緩解，內政部 9 日表示，我國老化指數指標在今年 2 月首度破百，達到 100.18，也就是說，我國老年人口第一次超過幼年人口。

內政部指出，我國老年人口在 82 年便超過 7%，正式邁入高齡化社會，而後人口老化的速度持續攀升，到了去年 5 月老年人口已占總人口 12.78%，今年 2 月更攀升至 13.33%。依據國家發展委員會 105 年的人口推估，老年人口的比率將於 107 年超過 14%，我國將進入高齡社會，115 年恐將再超過 20%，屆時我國將與日本相同，成為超高齡社會的一員

1. 台灣已經進入高齡化社會，請問造成老年人口比例逐年增加的原因為何？（請舉出一個原因）

2 因為少子化現象，幼年人口比例減少，因此政府推動幼兒照顧體系、發放育兒津貼等福利，希望能提高生育率。請問因應高齡社會即將來臨，台灣政府可以做些什麼呢？（請舉出一個例子）

(二) 影響人口遷移的因素是由原居住地的推力跟遷入地的拉力交互而成，請回答底下鄉村與都市人口遷移因素的表格（請各舉出一個例子）



交通不便

