

基隆市立武崙國民中學 105 學年度第二學期八年級地理科第二次段考試題卷

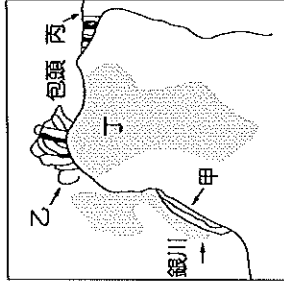
《本試題卷分為兩部分，合計 5 頁》

班級：\_\_\_\_\_ 姓名：\_\_\_\_\_ 座號：\_\_\_\_\_

\* 第一部分：選擇題，請回答第 1~45 題，  
每題 2 分，共 90 分。

- ( ) 1. 『黃河百害，唯富一套』，河套地區地區農業發達，請問和下列哪項因素關係最為密切？(A)雨量豐沛 (B)年溫差較小 (C)渠道灌溉便利 (D)漢人移民較多

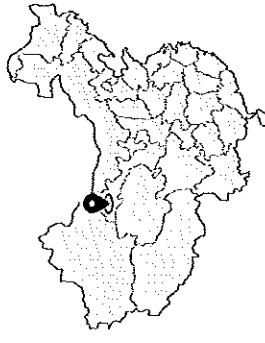
- ( ) 2. 附圖中，哪個區域不是河套平原主要的農業區？  
(A)甲 (B)乙 (C)丙 (D)丁



- ( ) 3. 內蒙古高原東、西兩側牧民畜養的主要牲畜類型不同，東側多養牛、西側則多養羊，請問造成此差異的因素和下列哪項關係最密切？

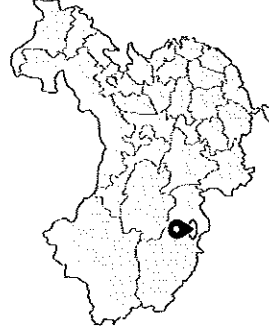
- (A)宗教信仰不同 (B)年降雨量差異 (C)地形起伏落差 (D)政府政策規劃

- ( ) 4. 位於敦煌的莫高窟（位置如附圖），以精美的壁畫和塑像聞名於世。請問莫高窟是位在下列哪一種環境中，使得當地的壁畫保存面臨極大的挑戰？



- (A)高溫炎熱、空氣濕度大  
(B)日夜溫差大、漫天風沙  
(C)終年乾燥低溫、遍地凍土  
(D)夏雨冬乾、年雨量變率大

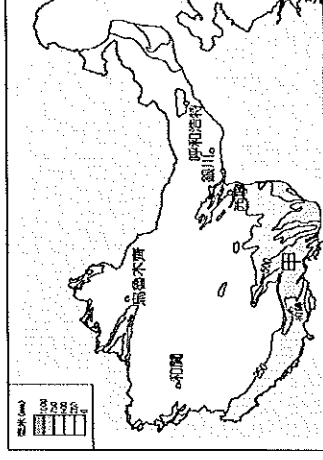
- ( ) 5. 附圖為世界海拔最高，既是宮殿又是寺院的布達拉宮所在地，身為台灣人的我們若要前往當地朝聖，最『不可能』面對什麼樣的環境與疾病挑戰？



- (A)日夜溫差大→感冒  
(B)氣壓低→頭痛、高山症  
(C)風大、乾冷→臉部凍瘡  
(D)氣溫悶熱、濕氣重→濕疹

- ( ) 6. 承上題，請問布達拉宮是屬於哪一種宗教建築？(A)道教 (B)摩尼教 (C)藏傳佛教 (D)伊斯蘭教

- ( ) 7. 附圖中甲地為中國西部地區年雨量較多的地方，請問此地水氣主要來源為何？



- (A)北極海水氣  
(B)盛行西風帶  
(C)太平洋東南季風  
(D)印度洋西南季風

- ( ) 8. 王虎在中國經營駱駝商隊，靠著買賣運送東西方物資獲利，他仰賴著豐富的經驗越過乾燥的漠地，請問當他帶領商隊越過南疆，最可能在下列哪種環境休息、補給並進行買賣交易？

- (A)山麓綠洲 (B)壩子底部  
(C)內陸湖畔 (D)沙漠中心

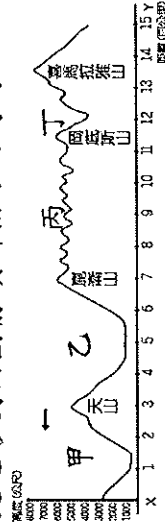
- ( ) 9. 承上題，駱駝商隊休息區的補給用水最可能為下列哪一種水源？

- (A)內陸湖水 (B)旺盛對流雨水  
(C)深層地下水 (D)高山融化雪

- ( ) 10. 新疆近年來工業活動逐漸發達，吸引許多年輕人前往就業，請問剛畢業的陳偉最可能進入新疆的哪一種礦業公司就職？(A)矽 (B)鐵 (C)石油 (D)石灰

- ( ) 11. 塔里木盆地因地形封閉而乾燥少雨，請問此地主要的傳統產業為何？  
(A)綠洲農業 (B)定居放牧  
(C)採集狩獵 (D)逐水草而居

- ( ) 12. 請問下面哪個諺語最適合用來形容藏北高原？(A)一年無四季，十里不同天  
(B)一山有四季，十里不同天  
(C)江作青羅帶，山如碧玉簪  
(D)天蒼蒼，野茫茫，風吹草低見牛羊
- ( ) 13. 此地形剖面圖箭頭所指方向為何？



- (A) 北方 (B) 南方 (C) 西方 (D) 東方
- ( ) 14. 承上題，請問甲、乙、丙、丁分別為何。些地形區？

- (A) 內蒙古高原、塔里木盆地、藏北高原、橫斷山脈  
(B) 準噶爾盆地、塔里木盆地、藏北高原、藏南谷地  
(C) 準噶爾盆地、柴達木盆地、藏北高原、藏南谷地  
(D) 吐魯番窪地、哈密盆地、雲貴高原、橫斷山脈

- ( ) 15. 李雲想成為中國瓜果外銷大王，朋友建議他前往新疆考察，果然讓他發現豐碩甜美的瓜果，請問新疆瓜果品質較佳的主要原因為何？

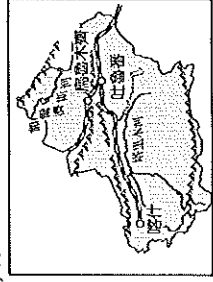
- (A) 日夜溫差大 (B) 冬夏溫差大  
(C) 氣候乾燥炎熱 (D) 使用高山融雪灌溉
- ( ) 16. 柴達木盆地因哪項特色而贏得『聚寶盆』的美稱？

- (A) 綠洲農業發達 (B) 礦產資源豐富  
(C) 民族文化獨特 (D) 野生動物眾多
- ( ) 17. 新疆近年來的重工業發展快速，主要是得利於哪兩項重要區位的配合？

- (A) 原料、交通 (B) 資金、技術  
(C) 資金、市場 (D) 勞工、交通

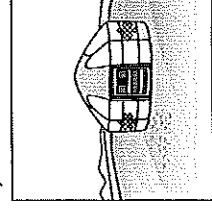
- ( ) 18. 新疆喀什地處邊疆，不僅為中國的邊防要塞，在一帶一路的策略裡更帶動了中國西部的經濟發展，請問下列哪一項並非此都市具備的功能？

- (A) 重要口岸成立內陸唯一經濟特區  
(B) 跨國人口移動帶動邊境貿易熱絡  
(C) 國防工業發達吸引人才大量集中  
(D) 通往中亞陸路貿易重要交通節點

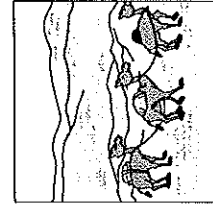



- ( ) 19. 張大燻參加大中國鐵道行，其中有一路線如右圖所示，請問下列哪一張照片最可能是在此路段拍攝？

(A)

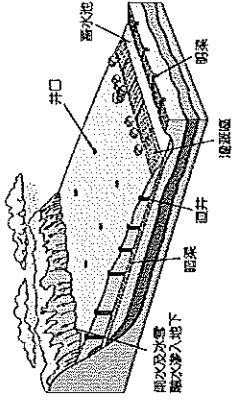


(C)



- ( ) 20. 張爺爺遊訪中國大江南北，印象中曾看過此一特殊灌溉設施，請問此設施最可能出現在他的哪一段旅程？

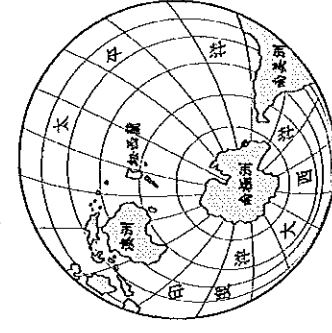
- (A) 尋訪野生動物羌塘之旅  
(B) 塞上江南穆斯林體驗之行  
(C) 遼闊草原那達慕體驗之旅  
(D) 挑戰吐魯番火焰山酷熱之旅



- (A) 北方  
(B) 南方  
(C) 東方  
(D) 西方

- ( ) 21. 若要從南極點出發前往南美洲，請問該朝哪個方向前進？

- (A) 北方  
(B) 南方  
(C) 東方  
(D) 西方



- ( ) 22. 地球上依海陸面積多寡而分為水半球、陸半球，請問下列敘述何者為非？

- (A) 水半球的中心為紐西蘭  
(B) 兩者海洋面積比例均較高  
(C) 陸半球的陸地面積大於海洋  
(D) 陸半球的陸地面積大於水半球

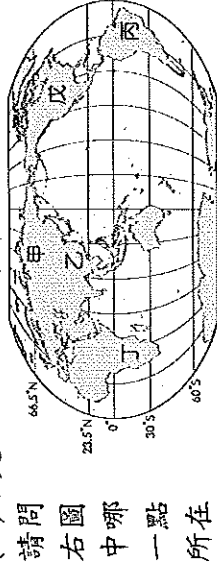
( ) 23. 世界七大洲中唯一面臨三大洋的是哪一洲？(A)亞洲 (B)北極洲  
(C)大洋洲 (D)南極洲

( ) 24. 日本出生的倉田小姐無法克服311海嘯帶來的創傷，決定移民海外遠離頻繁的地震威脅，請問下列哪一個國家是他移民的最佳選擇？(A)臺灣 (B)英國  
(C)印尼 (D)菲律賓

( ) 25. 麗莎計劃在暑假來趟『地中海郵輪之旅』，請問此時當地的氣候狀況最可能為下列何者？

- (A)高溫炎熱、雷雨不斷
- (B)日照強烈、乾燥無雨
- (C)寒冷潮濕、霧氣濃重
- (D)涼爽宜人、細雨綿綿

( ) 26. 請問



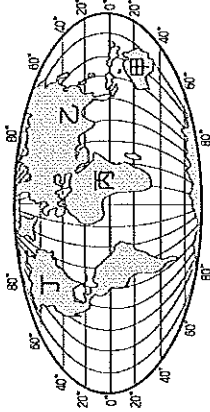
右圖中哪一點所在的大陸人口數量最多？

- (A)乙 (B)丙 (C)丁 (D)戊

( ) 27. 承上題，甲區人口稀少的主要原因為下列何者？(A)地勢高聳，交通不便

- (B)氣候嚴寒，冬日漫長
- (C)政治紛亂，戰爭不斷
- (D)降水過多，氾濫頻繁

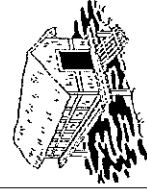
( ) 28. 目前世界人口已突破73億且持續增加中，請問增加速度最快的為哪兩個區域？



- (A)甲、乙 (B)乙、丁
- (C)乙、丙 (D)丙、丁

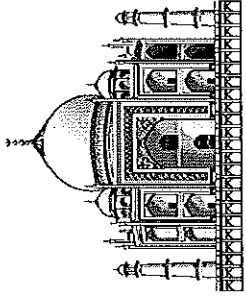
( ) 29. 世界人口受環境影響呈現分布不均的狀況，請問下列何者不可能成為人口密集區？(A)中緯度地帶 (B)海陸交界帶  
(C)資源豐富區 (D)極端氣候帶

( ) 30. 宇欣前往東南亞旅遊，住進如右圖這種極具地方特色的建築，請問當地出現此種建築物的主要原因為何？(A)氣候濕熱，為防潮、防蟲蛇



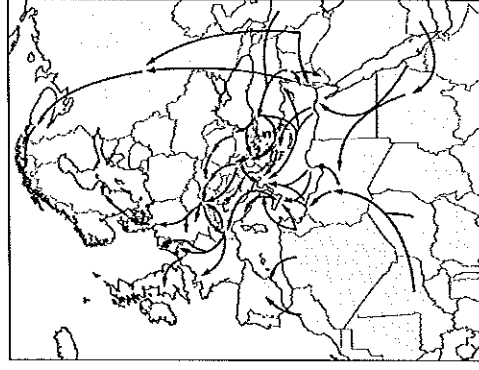
(B)為順應當地崎嶇不平的地形  
(C)傳統宗教信仰規定需遠離地面  
(D)人口密度太高為增加住宅空間

( ) 31. 宗教的影響層面廣大，從一個人的服飾、飲食、房舍甚至是價值思想都能看出其信仰，請問右圖為哪一種宗教的仲要建築？

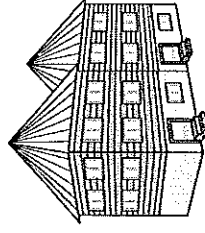


- (A)神道教 (B)伊斯蘭教
- (C)印度教 (D)基督教

( ) 32. 附圖為近年來難民主要移動路線，2014年全球流離失所人數逼近六千萬人。請問此圖顯示的難民移動路線容易造成哪兩種宗教信仰的衝突？



- (A)佛教、印度教
- (B)印度教、基督教
- (C)猶太教、天主教
- (D)基督教、伊斯蘭教



( ) 33. 北歐建築物的屋頂多設計成傾斜狀(如右圖)，請問此設計最重要的目的為下列何者？(A)宗教信仰 (B)排除積雪 (C)風阻變小 (D)社區美化

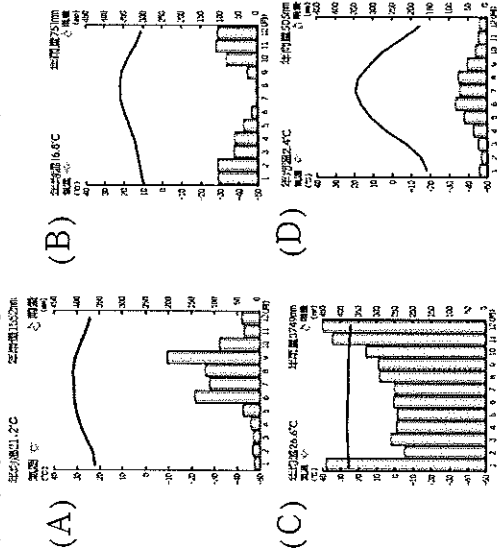
( ) 34. 下列兩種宗教的比較何者『錯誤』？

項目	印度教	伊斯蘭教
(A)神祇	梵天、毗濕努、濕婆	真主阿拉
(B)經典	吠陀經	可蘭經
(C)起源	亞洲	亞洲
(D)飲食禁忌	只吃素食	不吃豬肉

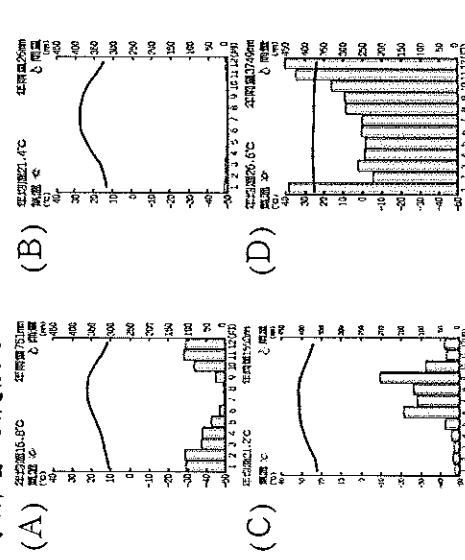
( ) 35. 美國東岸的商船若想前往歐洲進行貿易，可以順著哪一股洋流前進，以達到省時、省燃料的目的？

- (A)黑潮 (B)阿拉斯加暖流
- (C)北大西洋暖流 (D)加那利涼流

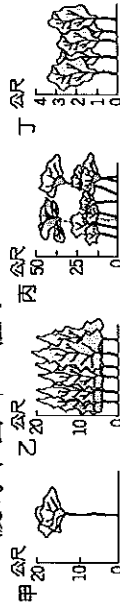
- ( ) 36. 洋流多有固定的方向及流速，其中涼流的流經會對臨近海域及陸地造成哪項影響？(A)空氣寒冷、多濃霧  
(B)沿岸乾燥、多沙漠  
(C)冰山漂移、航道危險  
(D)風大浪高、海岸侵蝕嚴重
- ( ) 37. 義大利浪漫的氣因為新婚夫妻計劃前往度蜜月的聖地，請問下列哪一張氣候圖值得前往該國度蜜月的夫妻參考？



- ( ) 38. 金博士前往熱帶雨林進行生物多樣性調查，請問他需要準備哪一張氣候圖用以了解當地氣候？

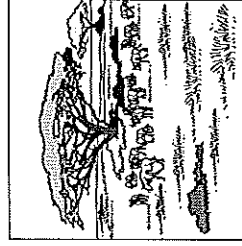


- ( ) 39. 承上題，金博士在當地最可能看到的植被為下圖哪一種？



- (A) 甲 (B) 乙 (C) 丙 (D) 丁

- ( ) 40. 右圖為熱帶莽原的景觀，請問此區夏、冬兩季分別受到哪兩個行星風帶籠罩導致夏雨冬乾？

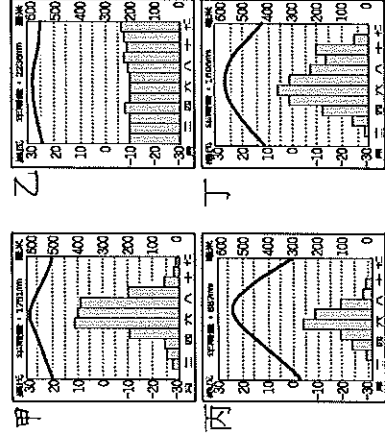


選項	夏季	冬季
(A)	副熱帶高壓帶	東北信風帶
(B)	赤道低壓帶	西風帶
(C)	赤道低壓帶	副熱帶高壓帶
(D)	西風帶	極地東風帶

- ( ) 41. 行星風系的季節性移動主要是受下列何者影響？

- (A) 地軸傾斜 (B) 大洋環流  
(C) 地球自轉 (D) 太陽黑子週期

- ( ) 42. 影響氣候因素眾多，若只考慮緯度因素，請將下列四張氣候圖依距離赤道近到遠排列？



- (A) 甲→乙→丙→丁  
(B) 甲→乙→丁→丙  
(C) 乙→甲→丁→丙  
(D) 丙→丁→甲→乙

- ( ) 43. 溫帶沙漠氣候的形成主要和下列哪兩項因素有關？

- 甲、副熱帶高氣壓籠罩  
乙、距海遙遠、水氣難入  
丙、涼流流經、氣流沈降  
丁、位於盛行風的背風側
- (A) 甲、乙 (B) 乙、丙  
(C) 乙、丁 (D) 丙、丁

- ( ) 44. 下列關於溫帶海洋性氣候的敘述何者錯誤？

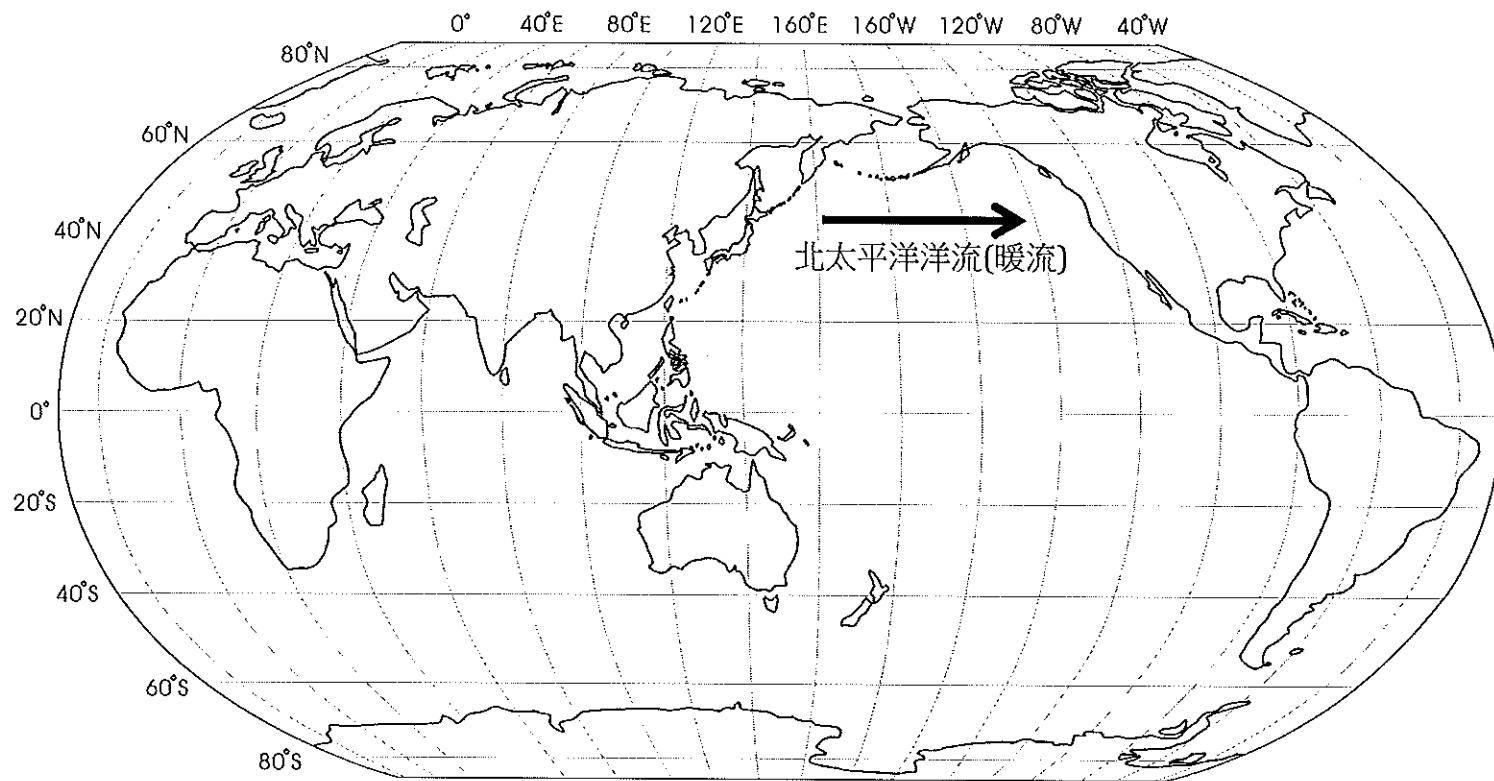
- (A) 降水特徵為夏雨冬乾  
(B) 冬暖夏涼、年溫差小  
(C) 受西風吹拂及暖流影響  
(D) 多位於中緯度大陸西岸

- ( ) 45. 關於副極地氣候的敘述，下列何者錯誤？

- (A) 年溫差非常大  
(B) 太陽斜射、日照少  
(C) 夏季溫度高於攝氏10度  
(D) 此氣候主要分佈在南半球

基隆市立武崙國民中學 105 學年度第二學期八年級地理科第二次段考非選擇題試題卷

\* 第二部分：非選擇題，請回答第 46~52 題，共 10 分。



請於左圖直接作答：

一、畫出並寫上山脈名稱

46.歐亞界山(1分)

47.歐亞界山(1分)

二、在正確位置寫出

48.非洲(1分)

49.印度洋(1分)

三、請於正確位置畫出並寫上名稱及屬性，如左圖舉例

50.黑潮(2分)

51.秘魯洋流(2分)

52.加那利洋流(2分)

班 級	姓 名	座 號	選擇題得分(90%)	非選擇題得分(10%)	總 得 分