

# 基隆市立武崙國民中學一〇五學年度第二學期第三次段考八年級地理科試題卷

注意事項：

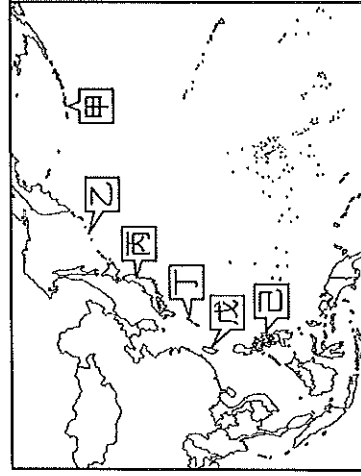
1. 單選題及題組，共 50 題，每題 2 分。請用 2B 鉛筆依題號於答案卡上畫記。
2. 答案卡上的資料欄請確實填寫，若資料欄畫記錯誤導致電腦無法正確判讀，扣總分 10 分。

班級：八年 班座號： 姓名：

## 單選題

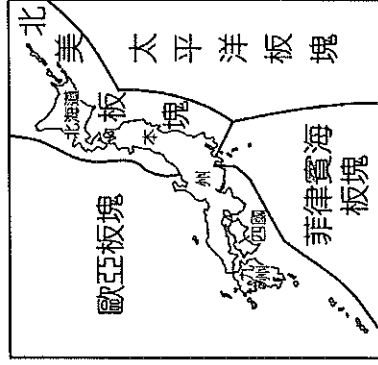
- ( ) 1. 附圖是西太平洋的區域圖，「菲律賓群島、琉球群島、日本群島、臺灣、千島群島、阿留申群島」等六大群島，合稱為「東亞島弧」，又稱「花綵列島」。如果將圖中的甲～己按照上述的順序排列，下列何者正確？

(A) 甲丁丙戊己乙 (B) 己甲丙戊乙丁 (C) 甲乙丙丁戊己 (D) 己丁丙戊乙甲



- ( ) 2. 臺灣與日本皆屬「東亞島弧」的範圍，下列有關這兩個國家的地理特徵，何者正確？  
 (A) 內河航運皆不發達 (B) 降水集中於冬季 (C) 平原多分布在西部 (D) 東部皆鄰大西洋
- ( ) 3. 附圖為日本板塊位置示意圖，請問：這種地理位置對日本所造成的影響不包括下列何者？

(A) 泡湯文化盛行 (B) 山多平原少 (C) 地震活動頻繁 (D) 國際貿易發達。



- ( ) 4. 附表為四個地區的年雨量及氣溫資料表，下列哪個地區較可能是熱帶季風氣候？

地區	年雨量(mm)	一月月均溫(°C)	七月月均溫(°C)
(A) 甲	19	-8.1	33.2
(B) 乙	483	19.2	25.4
(C) 丙	1,223	3.5	28.8
(D) 丁	2,290	20.4	28.0

- ( ) 5. 小雯老師在上課提到日本的經濟發展，下了這樣的注解：「國際貿易是日本的經濟命脈」，請問：針對這句話，下列哪位同學的看法較正確？

(A) 小西：「陸上交通以鐵路為主，運輸繁忙。」  
 (B) 小南：「海岸曲折多良港，國際港口眾多。」  
 (C) 小東：「工業原料仰賴進口，產品運銷全球。」  
 (D) 小北：「產品品質佳，價格低廉，競爭力強。」

- ( ) 6. 太平洋與印度洋為早期東西航海貿易往來的必經地區。請問：下列哪一個海峽位於兩大洋的必經地區？

(A) 直布羅陀海峽 (B) 巴士海峽 (C) 英吉利海峽 (D) 麻六甲海峽。

- ( ) 7. 東南亞由中南半島及南洋群島組成，關於兩地的比較，何者正確？

	(A) 地形	(B) 氣候	(C) 降雨	(D) 宗教
中南半島	多火山地震	熱帶季風	多對流雨	伊斯蘭教盛行
南洋群島	平原廣大	熱帶雨林	多鋒面雨	佛教為主

- ( ) 8. 中國籌畫在雲南縱谷區湄公河上游興建多座水庫，這些水庫興建完成後，將影響到下游的用水和生態環境。請問：下列哪一半島會受到影響？

(A) 朝鮮半島 (B) 印度半島 (C) 中南半島 (D) 阿拉伯半島。

- ( ) 9. 「□□」江水流湍急，水量豐穩，蘊藏豐富水力，北韓目前已開發水豐及雲豐兩處水力發電廠，所生產的電力除了供應本國之外，也提供中國使用。」文中空格所指的應是下列哪條河川？

(A) 漢江 (B) 黑龍江 (C) 烏蘇里江 (D) 鴨綠江

- ( ) 10. 北韓的工業發展條件勝過南韓，經濟發展程度卻落後南韓許多。上述這種現象的成因，與下列哪種情況最有關係？

(A) 優良的天然港口較南韓少 (B) 人口數較南韓少而勞力不足 (C) 政治體制與發展方向的缺失 (D) 目前仍著重在第一級產業的發展

- ( ) 11. 朝鮮半島東岸多雨、西岸少雨，主要是因為季風所造成的降水空間差異。該半島冬季與夏季的風向分別為下列何者？

(A) →, ← (B) ↓, ↑ (C) ↙, ↗ (D) ↘, ↖

- ( ) 12. 東南亞國家的大都市多位於港口附近，如馬尼拉、雅加達、新加坡。這些城市的興起與下列者關係最密切？

(A) 河口三角洲 (B) 戰略地位重要 (C) 方便輸出農礦原料 (D) 氣候涼爽舒適

- ( ) 13. 南韓與北韓，雖在同一個半島上，但是自然資源與人文環境差異很大。附表中關於兩國的比較哪項錯誤？

(A) 甲 (B) 乙 (C) 丙 (D) 丁

國家	(甲) 地形	(乙) 氣候	(丙) 天然資源	(丁) 產業活動
北韓	地勢較高	緯度高，雨量較少	豐富，原料動力充足	重工業發達，汽車、電子產業興盛
南韓	地勢低平	緯度低，迎風多雨	缺乏	農產豐富，民生工業不發達

( ) 14. 下列有關朝鮮半島的敘述，何者有誤？

- (A) 有「東亞橋樑」之稱 (B) 以 38°N 為界，分成南韓與北韓 (C) 西北與中國接壤，東南與日本隔海相望 (D) 地勢呈現「南高北低、西高東低」的特徵
- ( ) 15. 請問：熱帶雨林氣候和熱帶季風氣候最大的差異為何？

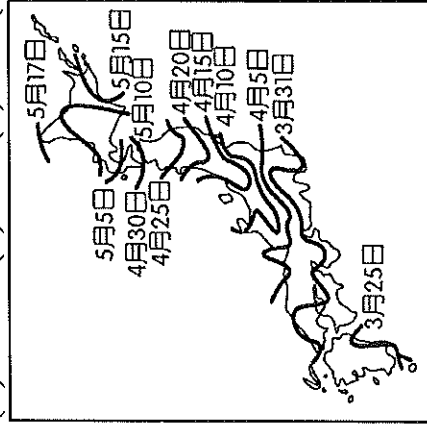
- (A) 年均溫高低 (B) 年溫差大小 (C) 年雨量多寡 (D) 降雨季節分布

( ) 16. 阿益正在閱讀亞洲的資料，附表是亞洲地區四個國家的產業人口組成一覽表。請問：根據表中資料判斷，哪個國家最可能是日本？

國家	第一級產業	第二級產業	第三級產業
(A) 甲	62%	11%	27%
(B) 乙	6%	33%	61%
(C) 丙	27%	27%	46%
(D) 丁	15%	32%	53%

( ) 17. 春季為日本著名的賞櫻季節，滿開的櫻花花海吸引來自世界各地的觀光客前往，附圖為日本民間機構公布的櫻花開花日期預測。請問：下列哪一個地方的櫻花開花時間會最早？

- (A) 北海道 (B) 九州 (C) 四國 (D) 本州。



( ) 18. 東南亞自古深受中國和印度兩大文明古國的影響，近代又遭西方國家殖民，居民和文化呈現過渡性和多樣性，帶有濃厚的殖民地式經濟色彩。請問：東南亞深受中國和印度兩大文明古國影響的主要原因為何？

- (A) 氣候相似 (B) 位置接近 (C) 海運便利 (D) 半島與島嶼分布廣大
- ( ) 19. 昭披耶河的水上交通是曼谷的重要樞紐，水上市場、運河岸邊並排的水上人家，滿載著蔬菜和大小船隻，讓曼谷贏得了「東方威尼斯」的封號。曼谷位於附圖中的哪個地點？

- (A) 甲 (B) 乙 (C) 丙 (D) 丁



( ) 20. 熱帶栽培業與傳統稻作農業具有下列哪項共通點？

- (A) 栽種經濟作物為主 (B) 大量勞力集約經營 (C) 大規模商業化取向 (D) 產品多數出口外銷

( ) 21. 台商前往東南亞投資生產，主要是為了降低下列哪項生產成本？

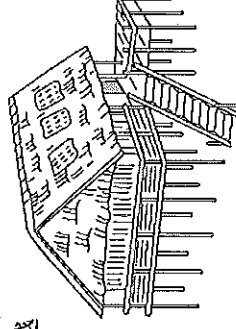
- (A) 動力 (B) 勞力 (C) 原料 (D) 運輸

( ) 22. 東南亞各國的宗教信仰大多受到外來文化的影響，下列為「國家—主要宗教—傳教者」的配對，哪個選項是錯誤的？

- (A) 泰國—佛教—印度
- (B) 馬來西亞—印度教—印度
- (C) 印尼—伊斯蘭教—阿拉伯
- (D) 菲律賓—天主教—西班牙

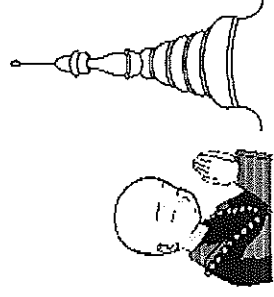
( ) 23. 附圖為東南亞地區的傳統建築，此種建築不僅可以通風、防潮，下層還可以圈養家畜。此種建築景觀反映出當地的哪項地理特性？

- (A) 氣候高溫多雨 (B) 地震發生頻繁 (C) 文化多元
- (D) 交通位置優越



( ) 24. 附圖為小雲老師出國旅遊時所拍攝的照片，照片中虔誠的僧侶膜拜寺廟令人動容。此景在當地不僅普遍可見，甚至融入日常生活當中。請問：小雲老師的旅遊地點最不可能是下列哪個國家？

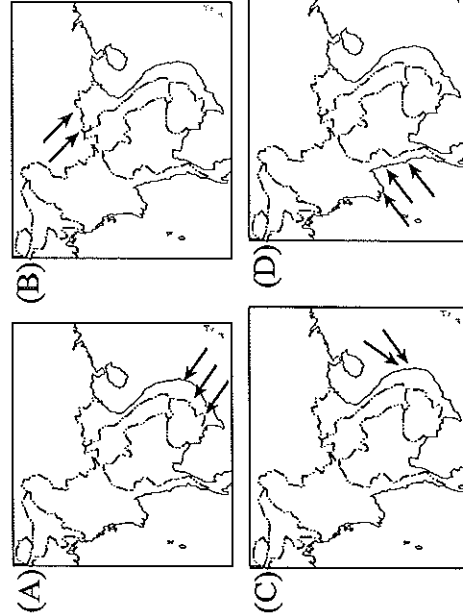
- (A) 菲律賓 (B) 緬甸 (C) 越南 (D) 泰國



( ) 25. 東南亞國協成立於 1967 年，其宗旨為加速此區的經濟、社會與文化發展，近年來也積極與周邊國家合作，如 2010 年與下列哪一個國家成立自由貿易區，在亞洲經濟板塊扮演舉足輕重的角色？

- (A) 中國 (B) 臺灣 (C) 印度 (D) 澳大利亞

( ) 26. 中南半島與臺灣同屬季風亞洲的範圍，下列哪張風向示意圖能正確呈現出中南半島夏季時的季風風向？



( ) 27. 南洋群島地形破碎且多火山、地震，這與哪項地理事實關係最密切？

- (A) 人口集中在沿海平原 (B) 位在板塊交界處  
(C) 位在颱風路徑上 (D) 地勢高低起伏大

( ) 28. 阿中到東南亞某國旅遊，回國後興奮地對朋友誇耀說：「我從北半球玩到南半球，而且每天出門都腰纏萬貫——因為幣值很低……」從上述研判，阿中最有可能是到下列哪個國家旅遊？

- (A) 印尼 (B) 泰國 (C) 新加坡 (D) 馬來西亞

( ) 29. 阿武的母親日前聘用一位外籍幫傭，她說英語，信奉天主教，來自一個常受颱風侵襲的國家。阿武家的這位外籍幫傭，最可能來自下列哪個國家？

- (A) 柬埔寨 (B) 印尼 (C) 菲律賓 (D) 越南

( ) 30. 亞洲南部三大半島：(甲) 中南半島 (乙) 阿拉伯半島 (丙) 印度半島。由西而東依序排列是：

- (A) 甲丙乙 (B) 乙甲丙 (C) 乙丙甲 (D) 丙乙甲

( ) 31. 附圖是亞洲某城市「全年」每日的天氣變化概況，該地最可能是下列哪個城市？

- (A) 新加坡 (B) 東京 (C) 首爾 (D) 河內

時間	天氣特色
⊕	太陽升起
⊖	氣溫升高
⊖	白霧朵朵
⊖	風雲突變
⊖	雨過天晴
⊕	涼爽宜人

### 題組

※附圖為亞洲分區圖，請根據圖中資訊及代號回答問題。



( ) 32. 因為石油外銷而帶動經濟發展的地區為何？

- (A) 文 (B) 乙 (C) 丙 (D) 丁

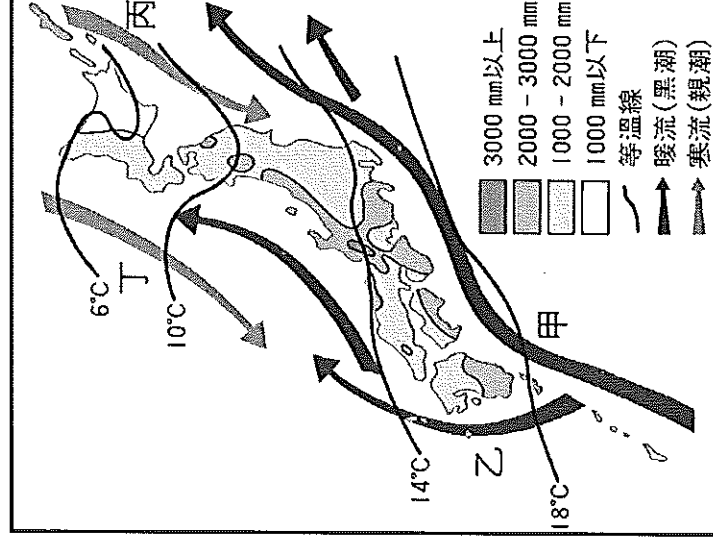
( ) 33. 亞洲地區當前重要的區域經濟組織「ASEAN」，成員大多來自圖中何處？

- (A) 文 (B) 乙 (C) 丙 (D) 丁

( ) 34. 金磚四國為近來經濟發展頗為看好的國家，當中有三個國家位於亞洲地區，分別為中國、印度、俄羅斯。這三個國家分別位於圖中的何處？

- (A) 文、乙、丁 (B) 文、丙、乙 (C) 丁、丙、文  
(D) 丙、乙、文

※日本雖為季風氣候區，但受緯度、季風、洋流影響，較同緯度的中國溫暖溼潤。附圖為日本降水量、溫度及洋流分布圖。請問：



( ) 35. 缺乏農工原料的日本，若從澳洲進口鋁土、鐵礦，則滿載礦產的貨輪，順著圖中哪道洋流最能迅速抵達太平洋沿岸的工業區？

- (A) 甲 (B) 乙 (C) 丙 (D) 丁

( ) 36. 影響日本等溫線大致呈東西向分布，且由南向北遞減的主因為何？

- (A) 緯度位置 (B) 沿岸洋流 (C) 地勢高度 (D) 距海遠近

( ) 37. 日本北海道的雪祭總能吸引許多的觀光客。請問：關於北海道降雪水氣的主要來源。下列哪一位的說法最正確？

- (A) 阿武：「因為有冬季旺盛的對流。」  
(B) 小鐘：「南下流經沿岸親潮的影響。」  
(C) 阿嘉：「越過太平洋的東南季風所引起的。」  
(D) 小優：「經過日本海的西北季風所導致的。」

※寰宇旅行社在暑假推出一系列的東南亞套裝行程，莎莎是負責行程標語的工作人員，但是因為工作繁忙，她把想好的標語和國家名稱弄亂了，請根據下列問題的標語幫她找出正確的國家。

( ) 38. 「整潔乾淨的獅城，位居東南亞交通要道，國土不大，但麻雀雖小，五臟俱全，保證值回票價。」

- (A) 印尼 (B) 東帝汶 (C) 新加坡 (D) 馬來西亞

( ) 39. 「想知道深受印度史詩、神話影響所形成的建築景觀嗎？來一趟吳哥窟，你就能摘下它神祕的面紗。」

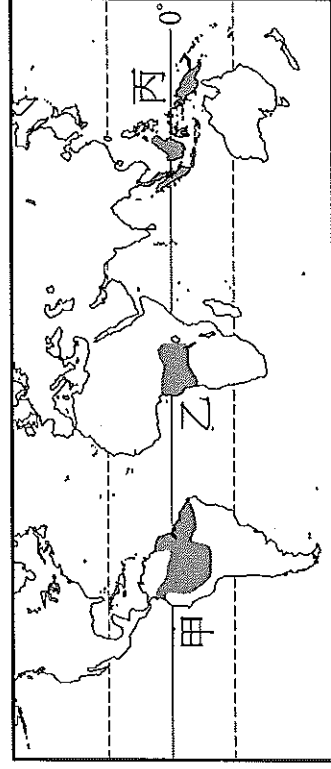
- (A) 柬埔寨 (B) 泰國 (C) 越南 (D) 泰國

( ) 40. 「位於中南半島最西邊的仰光，佛塔林立，如此景觀訴說著佛教在此地的盛行，想一睹濃厚佛教色彩的你，心動不如馬上行動！」

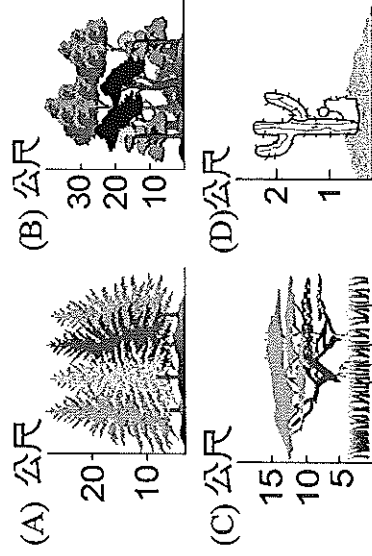
- (A) 緬甸 (B) 泰國 (C) 越南 (D) 菲律賓

【背面尚有試題，請翻頁繼續作答！】

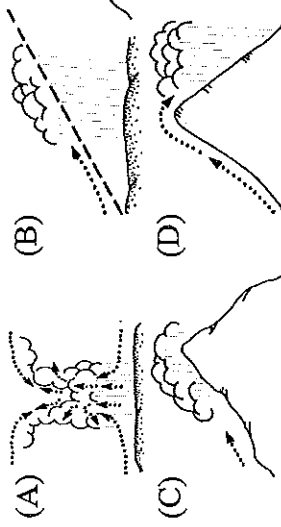
※地理位置的分布影響各地區的氣溫及降水量，形成各種不同的氣候類型。附圖為某地理學者所繪出來的某種氣候分布圖，請根據圖中資料回答下列問題。



- ( ) 41. 請問：此種氣候類型最可能為下列何者？  
 (A) 熱帶莽原氣候 (B) 熱帶季風氣候 (C) 熱帶雨林氣候 (D) 熱帶沙漠氣候
- ( ) 42. 承上題，此種氣候分布區的天然植物類型應為下列何者？

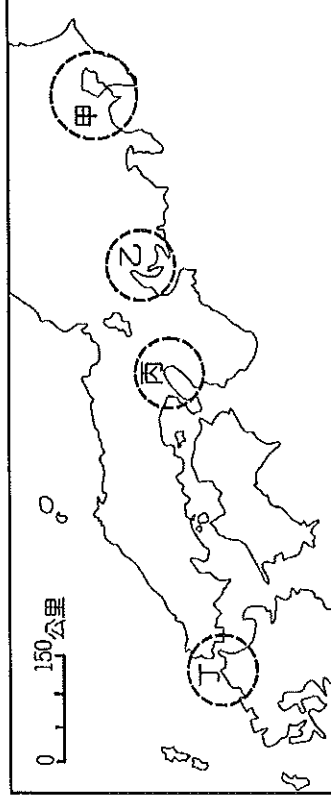


- ( ) 43. 甲、乙、丙三區因降水豐沛，因此孕育出相當豐富的生物景觀，形成當地的特色。請問：該地區的降水類型最接近下列哪張示意圖？



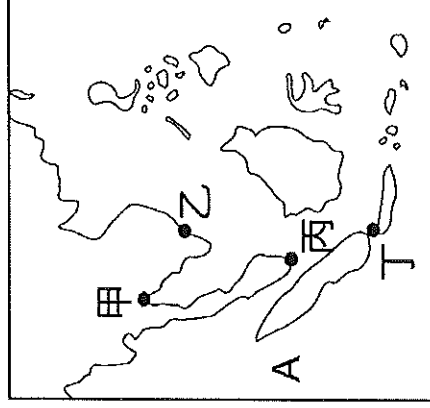
- ( ) 44. 附圖中甲、乙、丙三區的主要涵蓋範圍並不包括下列哪一洲？  
 (A) 非洲 (B) 亞洲 (C) 歐洲 (D) 中南美洲

※附圖為日本主要的工業區分布圖。請問：



- ( ) 45. 圖中的甲區是哪個工業地帶？  
 (A) 名古屋 (B) 京濱 (C) 阪神 (D) 北九州
- ( ) 46. 圖中所呈現的工業區分布狀況，與下列哪項優勢最相關？  
 (A) 充分利用廉價水電 (B) 接近煤礦、鐵礦產區 (C) 便於原料和產品的運輸 (D) 人口集中的都會區

※附圖為東南亞地區簡圖。請問：

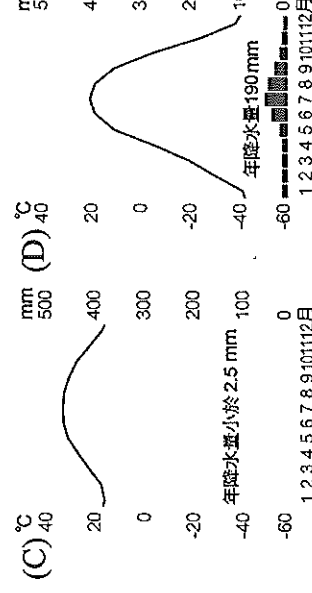
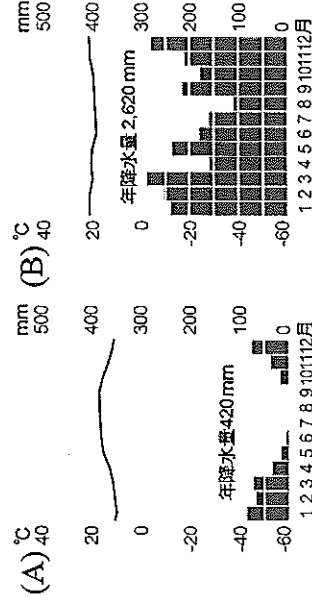


- ( ) 47. 圖中 A 處代表哪個海域？  
 (A) 太平洋 (B) 印度洋 (C) 大西洋 (D) 地中海
- ( ) 48. 圖中哪個城市位居歐、亞、非、澳洲大洋洲航線的要衝，海運地位重要，是東南亞第一大港？  
 (A) 甲 (B) 乙 (C) 丙 (D) 丁

※位於東南亞的印尼，因為政府鼓勵民眾栽植椰子與橡膠樹，並允許農民將林地轉變成農耕地，蘇門答臘及加里曼丹的業者為了方便耕種，非法放火燒林整地，近年來皆導致森林大火、嚴重的空氣汙染，波及了附近的鄰國……」

請問：

- ( ) 49. 椰子與橡膠適合種植在附圖中的哪種氣候區？



- ( ) 50. 近年來東南亞國家的加工出口工業日益興盛，是憑藉著該區哪些優勢？(甲)廉價勞力(乙)便利的交通(丙)技術進步(丁)資金充裕  
 (A) 甲、乙 (B) 甲、丙 (C) 乙、丁 (D) 丙、丁

【試題結束，請再檢查一次！】