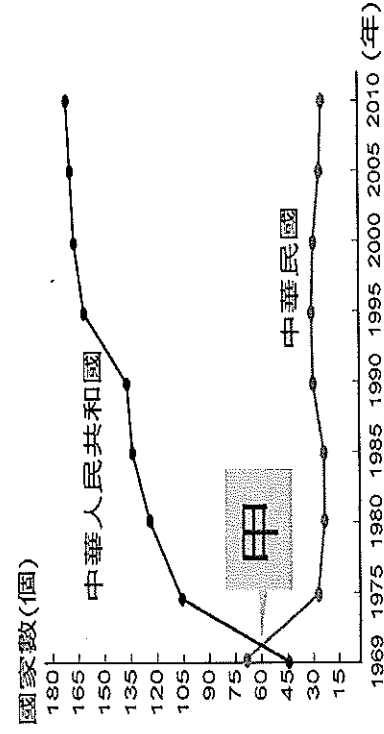


基隆市立武崙國中 105 學年度第 2 學期 7 年級歷史科第 3 次定期考試卷

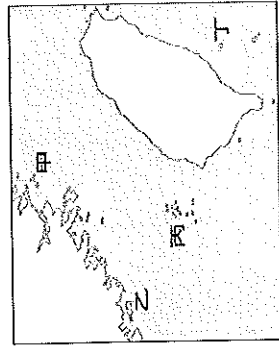
每題 2 分

班級：_____ 座號：_____ 姓名：_____

1. 附表是中華民國與中華人民共和國邦交國變化曲線表。表中兩條曲線相交的甲，發生了何事？(A)台灣與美斷交 (B)韓戰 (C)台灣退出聯合國 (D)兩岸實施小三通。



2. 有關臺、美關係的說明，下列敘述何者正確？(A)韓戰爆發後，臺美關係降至冰點 (B)美國因擴張失利，積極拉攏臺灣以對抗中共 (C)臺美斷交後，雙方以《臺灣關係法》維繫關係 (D)在加入聯合國的議題，美國始終對臺灣表示支。
3. 我國政府面對中共外交的打壓，採取哪種方式來突破中共的外交封鎖？(A)積極拉攏、討好中共 (B)不思努力，任中共宰割 (C)以中國傳統文化為號召，吸引國際關注 (D)以經濟實力做後盾，積極加入各種國際組織
4. 小桃子是六十年代臺灣的國中學生，他可能經歷過下列哪些歷史事件？(甲)我國退出聯合國 (乙)台美斷交(丙)美麗島事件(丁)八二三炮戰 (A)甲乙丙 (B)乙丙丁 (C)甲乙丁 (D)甲丙丁
5. 哪一國家在近日宣布和我國斷交，且立即和中共建交，導致我國陷入更大的外交困境？(A)巴拉圭 (B)尼加拉瓜 (C)巴拿馬 (D)聖多美普林西比。
6. 關於中共的「三通四流」，下列敘述何者錯誤？(A)三通是通商、通郵、通航(B)四流是農業、工業、國防、科技交流 (C)是中共的和平統戰策略 (D)中華民國以「三不政策」做回應。
7. (甲)韓戰爆發 (乙)中美簽定《中美共同防禦條約》 (丙)八二三炮戰 (丁)臺灣退出聯合國；上列史事，依發生先後順序排列應為何？(A)甲乙丙丁 (B)甲丙丁乙 (C)乙丙丁甲 (D)丙甲丁乙。
8. 中共在民國 38 年、47 年曾兩度企圖以武力進犯臺灣，但最後都因國軍奮力抵抗而未能達到目的。這兩次的戰役都發生在同一地區，此地因而以戰役史蹟聞名。請問：這兩次戰役的地點位於附圖中何處？(A)甲 (B)乙 (C)丙 (D)丁。



9. 臺北市的房價極高，年輕人根本無力買房，這種寸土寸金的現象，反映臺灣哪一社會問題？(A)出生率過高 (B)環境汙染嚴重 (C)人口集中都市 (D)能源供應不足。
10. 「Made in Taiwan」表示是臺灣製造的產品，其中有許多「世界第一」的頭銜，如一九六〇年代的鞋子、雨傘、毛衣、自行車等，一直到一九九〇年代的高科技產品，如：滑鼠、鍵盤、電腦等，這和台灣實施哪些發展有密切的關聯？(甲)經濟特區 (乙)高雄加工出口區 (丙)新竹科學園區 (A)甲乙 (B)乙丙 (C)甲丙 (D)甲乙丙
11. 民國 35 年，臺灣人口約 610 萬人，至民國 39 年，增為 750 萬人，造成臺灣在這一段時期人口驟增，最主要的原因為何？(A)因慶祝臺灣光復，鼓勵生育 (B)中國大陸動亂，各省人士遷徙來臺 (C)韓戰結束後，中共軍隊不願返回大陸 (D)美國派軍人來臺加強臺灣國防
12. 下列敘述是臺灣產業每一時期興盛時的描述，請將順序按照年代排序迄今。(甲)花輪的爸爸在中國開辦多家工廠，經常來往於世界各地 (乙)小丸子的爸爸每天在石化工業區工作到很晚，回家時小丸子都睡了(丙)小玉的老公在新竹科學園區工作，有時週末還要加班 (丁)美環是鳳梨罐頭工廠的女工，每天忙著洗鳳梨、切鳳梨、煮鳳梨。正確答案的順序是？(A)甲乙丙丁 (B)甲丙丁乙 (C)丁乙丙甲 (D)乙丁甲丙
13. 兩岸在民間展開交流後，進一步成立民間對話專責機構。下列選項何者正確？(A)台灣—陸委會、中共—海協會 (B)台灣—海基會、中共—國台辦 (C)台灣—海協會、中共—海基會 (D)台灣—海協會、中共—海協會

14. 同學們上歷史課時，在討論有關臺灣教育演進發展。下列同學發表的意見，何者正確？(A)陳同學：「日治時期，臺灣的中等教育就已經相當普及了。」(B)林同學：「政府遷臺初期，即推動九年國民義務教育。」(C)王同學：「政府於民國八十年代，推動多元入學方案。」(D)李同學：「我國已實施十二年國民義務教育多年。」
15. 日治時期曾有「國語模範家庭」的設立，國民政府遷臺後大力推行說「國語運動」，請問：這兩個時期的「國語」指的是哪一種語言？(A)日語、閩南語 (B)日語、北京話 (C)日語、上海話 (D)美語、閩南語
16. 九年國民義務教育實施提高台灣人民教育水準，下列何人最有可能享受到九年義務教育？(A)美國開始援助臺灣那年出生的橘子 (B)韓戰爆發那年出生的柚子 (C)實施耕者有其田那年出生的桃子 (D)八二三炮戰那年出生的櫻桃子
17. 侯大等演想要拍攝一齣描述民國四、五十年代的紀錄片，下列哪個場景比較適合在影片中出現？(A)街頭到處可見「反攻復國、人人有責」的標語 (B)外籍勞工假日聚集在台北車站 (C)原住民掀起正名運動 (D)校園民歌的流行
18. 兩岸關係的發展逐漸從政治對峙到兩岸交流，這與下列哪項政策的推行無關？

(A)開放探親 (B)文化交流 (C)軍事交流 (D)經濟交流。

19. 為了改善國內的投資環境及提升就業機會，展開十大建設，以大型公共投資帶動經濟景氣復甦，請問：在政府推動的十大建設中以哪一項建設為重？(A)交通 (B)農業 (C)國防 (D)工業

20. 鄧小平提出「一國兩制」，他所要表達的「一國兩制」的真意為何？(A)在一個中國的前提下，中國與臺灣各為主權獨立之國家 (B)臺灣成為與中國不同制度的特別行政區 (C)海峽兩岸皆放棄共產主義，實施民主政治 (D)臺灣與中國都是分裂分治的政治實體。

21. 洪醒夫是臺灣民國六十年代的文學作家。他的小說以刻畫農村百姓的生活為主，流露出對小人物的關懷與同情。從上述判斷，洪醒夫應是哪種文學的代表作家？(A)反共文學 (B)鄉土文學 (C)現代文學 (D)懷鄉文學。

22. 「不再堅持中華民國是代表中國的唯一合法政府，強調兩岸是處於分裂分治的對等政治實體。」上述這種理念是下列哪個階段的外交政策？(A)鞏固外交 (B)務實外交 (C)金援外交 (D)彈性外交。

23. 近年來臺灣的電視臺增添了不少族群特色，如：客家電視臺、原住民電視臺的創辦，它們都以使用自身語言為主。請問：這反映了何種現象？(A)臺灣是個多元社會(B)臺灣族群分裂嚴重 (C)臺灣媒體業十分競爭 (D)官方語言增加
24. 附圖是民國五十年代時，我國所外銷的家電和日常用品。這個時期的海外貿易之所以興盛的原因，與政府當時採取下列哪個經濟政策有關？(A)進口替代 (B)出口導向 (C)發展重化工業 (D)提倡高科技產業。



25. 《中美共同防禦條約》之簽訂與廢除，分別與哪兩次事件的發生有關？(A)韓戰、美國與中共建交 (B)八二三炮戰、美國與中共建交 (C)越戰、波斯灣戰爭 (D)韓戰、越戰。

26. 臺灣高鐵已大幅縮短南北之間距離。請問：民國六十年代「十大建設」之一，促進花蓮港發揮吞吐功能和東部蘭陽平原發展的建設為何？(A)鐵路電氣化 (B)基隆港 (C)北迴鐵路 (D)南迴鐵路。

27. 民國六十年代，臺灣的知識分子曾經掀起一股回歸鄉土、關懷社會的熱潮，這是受當時何種事件的影響，而出現的反省與回應？(A)蔣經國總統宣布解嚴 (B)中美斷交與退出聯合國 (C)政府鼓吹反共復國的愛國意識 (D)美麗島事件。
28. 中央政府遷臺以來，我國在外交上的處境日益艱難，尤其是退出聯合國事件的發生，使臺灣的國際地位更形孤立，政府採何種外交政策？(A)鞏固外交 (B)彈性外交 (C)務實外交 (D)金援外交。

29. 民國六十年代後期，工資持續上漲，過去勞力密集的優勢已逐漸消失，臺灣產業面臨發展的瓶頸，在這時候，政府決定推動下列哪項政策？(A)引進外勞 (B)建立出口導向產業 (C)在新竹建立高科技園區 (D)減少進口，自行生產。
30. 附表是關於臺灣自耕地與佃耕地的比例變化。導致此變化的主要原因為何？(A)日本統治結束，土地歸還人民 (B)「二二八事件」後的土地賠償 (C)中央政府遷臺後的土地改革 (D)經濟快速成長後，帶動農業發展。

西元	1948年	1953年	1956年
自耕地	56%	83%	85%
佃耕地	44%	17%	15%

31. 民國六十年代末期，中共提出「三通四流」、「一國兩制」的口號，從此兩岸關係的走向有何改變？(A)武力對峙→政治對峙 (B)政治對峙→武力對峙 (C)政治對峙→兩岸交流 (D)兩岸交流→政治對峙。

32. 以下那些國家，曾經和臺灣同時被譽為「亞洲四小龍之一」。(甲)南韓 (乙)日本 (丙)菲律賓 (丁)新加坡 (戊)香港？(A)甲乙丙 (B)乙丙丁 (C)甲丁戊 (D)丙丁戊

33. 兩岸關係在解嚴後解凍，民間往來日益密切；為了因應此種情勢，在行政院之下所設立的大陸專責機構為何？(A)國家統一委員會 (B)大陸委員會 (C)兩岸交流基金會 (D)海峽交流促進會。

34. 臺灣光復後，實施多項土地改革，包括：(甲)三七五減租 (乙)耕者有其田 (丙)公地放領。如果依照推行時間順序排

列，下列何者是正確的？(A)甲丙乙 (B)乙甲丙 (C)丙甲乙 (D)丙乙甲。
35. 兩岸分裂至今，中華人民共和國對臺灣的態度並非一成不變，隨著兩岸關係的不同，中共對臺政策亦跟著轉變。下列是中共在不同時期的對臺政策，請按照政策推行時間先後順序排列？甲、反分裂國家法；乙、以武力解放臺灣；

丙、一國兩制 (A)甲乙丙 (B)乙甲丙 (C)丙乙甲 (D)乙丙甲。

36. 我國政府在民國五十年代，開始推動家庭計畫，其主要目的為下列何者？(A)為了因應日漸嚴重的少子化問題 (B)為了臺灣邁入高齡社會而實施 (C)為了有效抑制臺灣人口的成長 (D)為了增加農村勞動人口而推動。

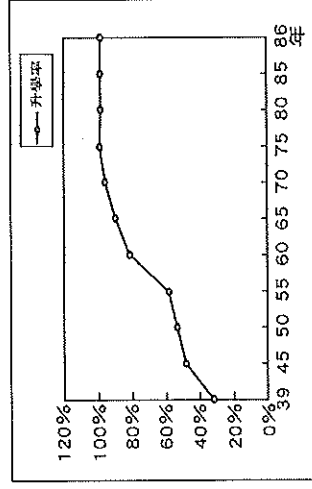
37. 大陸老兵能夠回故鄉探望親人，這是源自蔣經國總統實施的哪項政策？(A)金門與廈門小三通 (B)兩岸直航 (C)開放大陸人士來臺旅遊 (D)解除戒嚴

38. 臺灣是世界上最「以農業發展工業」成功的國家，創造傲人的「經濟奇蹟」，這得歸功於正確的經濟政策。下列哪項經濟政策是錯誤的敘述？(A)實施土地改革，三七五減租、公地放領、耕者有其田等 (B)「新臺幣」是慶祝第一屆民選總統而發行的新幣制，也順便提升臺灣經濟競爭力 (C)設立加工出口區、提供投資環境等 (D)臺灣因而躋身「亞洲

四小龍」之列

39. 某學者想要寫一本《臺灣經濟起飛史》，有如下章節：(甲)渡過世界經濟不景氣的法寶：十大建設 (乙)吸引外商投資的秘技：加工出口區 (丙)安定農民的貼心政策：耕者有其田 (丁)創造世界第一名：竹科的誕生。請問：按照這些政策實施的時間，應如何安排章節的先後？(A)甲乙丙丁 (B)甲乙丁丙 (C)丙乙丁甲 (D)丙乙甲丁。

40. 附圖是臺灣國中學生升學率百分比圖。請問：自民國五十年代中期以後，國中學生升學率大增的原因為何？(A)開始實施九年一貫 (B)開始推動多元入學 (C)開始實施九年國教 (D)開始實施十二年國教。



41. 回顧台灣 30 年來的口號：

50 年代—小家庭、幸福多 60 年代—一個不嫌少，兩個恰恰好 70 年代—適齡結婚，適量生產
90 年代—兩個孩子很幸福，三個孩子更熱鬧 近年—孩子是我們的傳家寶

請問：近年喊出的口號，顯示台灣社會目前所面臨的問題為何？

(A)台灣總人口減少 (B)學子升學壓力過大 (C)台灣生育率降低 (D)教育政策混沌不明

42. 阿富是農業技術團的成員，奉派前往友邦國家協助農業改良，傳授農業知識的工作。可是國際局勢變化莫測，他時常遭遇緊急撤離的情形，有時連隨身物品都來不及攜帶，就得匆匆逃離該國。這反映了我國外交遭遇的困境。小劉前往友邦技術援助，與哪項外交方針有關？(A)金援外交 (B)彈性外交 (C)務實外交 (D)鞏固外交

43. 中國對臺政策，隨著歷史發展而改變，根據時間順序，政策的轉變依序為何？(甲)武力對峙(乙)交流談判(丙)和平統戰 (A)甲丙乙 (B)丙乙甲 (C)乙丙甲 (D)甲乙丙

44. 臺灣在光復初期，經濟受到嚴重破壞，受到日資撤出、物料缺乏等因素的影響而物價飛漲，此時，政府提出來下列哪些政策來因應？(甲)土地改革(乙)發行新臺幣(丙)實施九年義務教育(丁)產業升級 (A)甲乙 (B)乙丙 (C)丙丁(D)甲丁

45. 這個時期政府除了積極提高農業生產外，工業發展的主要目標，以供應國內市場為主，以取代進口，減少外匯的支出。請問：這時期政府採取的經濟策略為何？(A)出口導向的政策 (B)重工業發展 (C)高科技產業 (D)進口替代的策略。

46. 臺北市政府的公共電梯有國語、臺語、客語及原住民語之播報服務，臺北捷運以及鐵路局也有這類語音廣播，有別於過去以國語為準的現象，這是哪種意識形態的表現？(A)深刻思考本土文化，體認鄉土文化的價值 (B)原住民的政治意識提高，無法忽略 (C)選舉因素考量，政治酬庸因素居多 (D)排斥外省籍人士，去除中國化

47. 下列有關於台灣光復後每一階段文化教育發展特色的配對，何者正確？(A)民國 80~90 年代—中華文化復興運動 (B)民國 70 年代—教育改革運動 (C)民國 60 年代—鄉土文學運動 (D) 民國 40~50 年代—重視本土文化。

48. 第二次世界大戰後，美國面對共產勢力的積極擴張，採取圍堵政策，臺灣在哪一個條約簽訂後，正式成為美國在東亞反共防衛體系的一環？(A)戒嚴令 (B)中美共同防禦條約 (C)臺灣關係法 (D)動員戡亂時期臨時條款。

49. 「這項法令限制了地主可以保留水田或旱田的數目，政府以股票、債券補償地主的損失，有助於地主將資金轉投資於工商業有利於當時臺灣工商業的發展，另一方面使佃農擁有耕地，更加用心投入經營，提高農業生產。」請問：對提高臺灣農業生產與促進工商業發展有極大助力的是哪一項政策？(A)市地重劃 (B)公地放領 (C)耕地者有其田 (D)三七五減租。

50. 小明因公事必須從臺北直接到高雄，在交通上他可能會運用到十大建設中的哪兩項建設？(A)中正國際機場、北迴鐵路 (B)中山高速公路、北迴鐵路 (C)蘇澳港、中正國際機場 (D)鐵路電氣化、中山高速公路。