

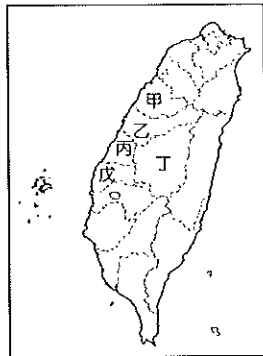
基隆市立武崙國民中學 105 學年度第二學期七年級地理科第三次段考試題卷

《本試題卷合計 4 頁》

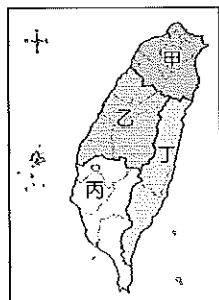
班級：_____ 姓名：_____ 座號：_____

*** 選擇題，請回答第 1~20 題，每題 3 分，共 60 分**

- () 1. 臺灣本島與離島的發展差異大，請問下列哪些是離島地區發展先天不良的因素？(甲)面積較小 (乙)缺乏淡水 (丙)交通不便 (丁)天候惡劣 (戊)文化缺乏
(A)甲、乙、丙 (B)甲、丙、丁 (C)乙、丁、戊 (D)丙、丁、戊
- () 2. 導致臺灣山地青壯年人口大量外移的主要原因為下列哪一項？(A)政府政策鼓勵 (B)缺乏就業機會 (C)對外交通方便 (D)山地氣候多變
- () 3. 臺灣東部地區的哪項指標明顯優於西部？(A)工廠與店鋪數量 (B)醫療院所數目 (C)空氣與用水品質 (D)平均每戶可支配所得



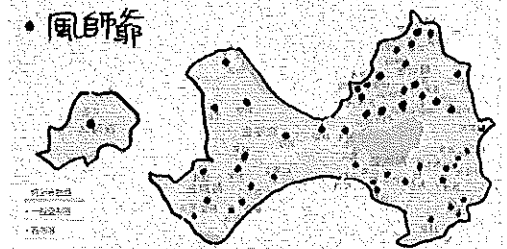
- () 4. 請問右圖哪一個行政區在『平均每戶可支配所得』的指標中數字最高(可支配金額最多)？(A)甲 (B)乙 (C)丙 (D)戊
- () 5. 下列哪些不同行政區的指標可以觀察到臺灣日益擴大的城鄉差異？(甲)降雨日數 (乙)地震發生機率 (丙)社會增加率 (丁)居民年收入 (戊)公共設施數量
(A)甲、乙、丙 (B)乙、丙、丁 (C)乙、丙、戊 (D)丙、丁、戊
- () 6. 臺鐵為配合政府的「國土空間發展策略計劃」將樂活、慢活、養生休閒融入產業曾推出『慢活列車』，請問此列車主要行駛在右圖哪個區域？(A)甲 (B)乙 (C)丙 (D)丁



- () 7. 政府在促進山地、東部與鄉村發展方面，除了推動在地特色、發展觀光，創造就業機會外，下列哪一項是最重要的政策？(A)改善交通運輸條件 (B)補助學

生學雜費 (C)水、電費補助及減免 (D)提供低利率與免抵押物的貸款

- () 8. 下列關於臺灣區域發展差異的描述何者正確？(A)本島南、北差異大 (B)區域內部的差異較小 (C)區域發展和人口分布呈現正向相關 (D)工業化與都市化縮小了區域差異
- () 9. 臺灣的國土空間發展策略計劃將臺灣分成了「三軸、海環、離島」，請問計劃的內涵下列何者敘述正確？(A)離島生態觀光區為創新發展軸，以創意、創新作為城鄉轉型與發展的核心價值 (B)東部以生態保育與原住民文化維護為主 (C)西部為優質生活產業軸，以樂活、慢活及養生休閒等新生活型概念融入產業中 (D)海洋環帶目標為探索各種海洋資源，發揮獨特的海島區位優勢
- () 10. 下圖為金門風獅爺分布圖，圓點處為風獅爺所在位置，請根據此圖判斷為什麼風獅爺多分佈在島嶼的東北側？

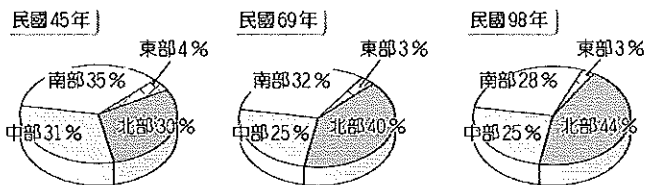


- (A)島嶼各地居民宗教信仰不同
(B)西北側因戰爭導致毀壞嚴重
(C)東北側距離敵對國中國較近
(D)東北側為冬季季風的迎風側
- () 11. 行政院積極推動「國土綜合開發計畫」，請問此計畫的執行最主要是希望達成下列哪一項目的？(A)發展民主與自由精神 (B)減少區域間發展差異 (C)帶動高科技島嶼成型 (D)建立亞太金融貿易中心
- () 12. 下表共有幾個行政區為直轄市層級？

臺北市、臺南市、新北市、花蓮市、新竹市、嘉義市、宜蘭市、桃園市、臺東市、台中市

- (A)3 個 (B)4 個 (C)5 個 (D)6 個

- () 13. 雲林離島式基礎工業區引入石化工業，為當地帶來許多改變，請問此工業區為當地帶來的優勢有哪些？(甲)人口流失加劇 (乙)減緩人口老化 (丙)增加就業機會 (丁)環境品質優化 (戊)增加地方稅收？(A)甲、乙、丙 (B)乙、丙、丁 (C)甲、丙、戊 (D)乙、丙、戊
- () 14. 屏東盛產洋蔥，此地所生產的洋蔥在香氣及甜味方面均優於其他地區，而此現象是受益於強勁的落山風，請問當地落山風的形成是屬於下列哪一種？(A)此地位於夏季颱風的背風坡 (B)此地位於夏季西南季風的迎風坡 (C)此地位於冬季東北季風的背風側 (D)此地面向台灣海峽背靠中央山脈受環山氣流所影響
- () 15. 下圖為臺灣不同年代各區域人口比例圖，請問藉由此圖『無法』判讀出下列哪項資訊？



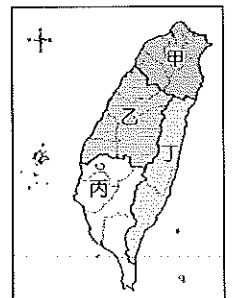
- (A)人口愈漸集中北部
(B)東部環境品質相對惡劣
(C)臺灣區域差異日漸擴大
(D)台灣經濟重心由南向北移轉
- () 16. 臺灣中部平原上原本種植的水稻，後來多轉種售價較高的花卉和蔬果，並和鄰近農家組成產銷班專業化經營，請問促成農作物轉作的重大基礎建設為何？(A)中山高速公路的通車 (B)八堡圳的疏通與強化 (C)台中清泉崗機場的啟用 (D)集集攔河堰及日月潭水庫的興建
- () 17. 下列關於行政區與其特色的配對何者『錯誤』？(A)桃園-台地上埤塘廣布 (B)雲林-臺灣最大蔬菜生產區 (C)新竹-台灣高科技產業重鎮 (D)臺東-大理石與養殖產業發達
- () 18. 請問下列哪一條河川『並非』流經臺北市的淡水河水系支流？(A)基隆河 (B)新店溪 (C)大肚溪 (D)大漢溪

- () 19. 澎湖地區農田常可見以硧砧石砌建的菜宅用以抵擋強勁的東北季風，請問當地風強的主要原因為何？(A)對流旺盛 (B)高壓籠罩 (C)地勢平坦 (D)火山地質
- () 20. 下列哪一項不是金門國家公園所保護的主要建築類型？(A)閩式合院 (B)軍事堡壘 (C)洋樓古厝 (D)傳統地下屋

***題組題，請回答第21~40題，每題2分，共40分**

※題組一：來自台灣各地的四個人一起在臺北讀大學，有緣同寢室的他們正在討論從小生長的家鄉，從對話中彼此發現了小小的臺灣卻存在著這麼大的差異。請回答第21~28題。

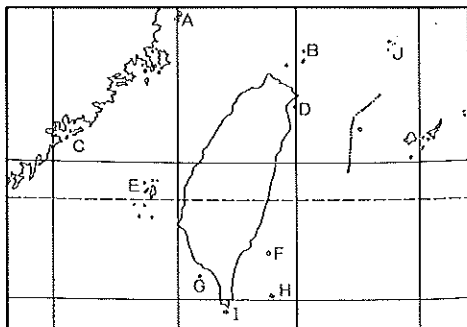
- () 21. 阿義家鄉在廣大的彰化平原，農田和水圳從小伴隨他成長，請問阿義家所處的平原主要由哪條河川沖積形成？(A)淡水河 (B)高屏溪 (C)曾文溪 (D)濁水溪
- () 22. 阿興的家鄉位於景色優美的花東縱谷平原，每次大學放假要回家時總是必須經過危險的清水斷崖，請問清水斷崖所在的高山和深海分別為何？(A)中央山脈、太平洋 (B)海岸山脈、太平洋 (C)海岸山脈、巴士海峽 (D)阿里山山脈、臺灣海峽
- () 23. 阿偉來自臺灣人口最多的行政區，這個行政區幅員廣闊，經濟發展差異大，請問此行政區為何？(A)新北市 (B)臺南市 (C)高雄市 (D)臺東縣
- () 24. 阿文來自港都，這裡擁有臺灣最大的港口，閃閃海面上許多貨櫃輪忙進忙出，請問他來自哪個縣市？(A)基隆市 (B)臺北市 (C)高雄市 (D)臺南市
- () 25. 請問若將四人的家鄉與右圖的分區位置配對，下列何者正確？(A)阿義-甲、阿興-乙、阿偉-丙、阿文-丁 (B)阿義-乙、阿興-丙、阿偉-甲、阿文-丁 (C)阿義-乙、阿興-丁、阿偉-甲、阿文-丙 (D)阿義-丙、阿興-丁、阿偉-乙、阿文-丙



- () 26. 阿義的父親希望他大學畢業後回到家鄉附近的機械或其他傳統產業工廠工作，但阿義知道這些產業外移嚴重急需轉型，請問下列哪家公司的策略不屬於產業轉型？(A)臺中精密機械公司：技術創新，行銷全世界 (B)臺塑六輕公司：石油煉製形成石化產品鏈 (C)雲林興隆毛巾工廠：堅持品質並結合創意與觀光 (D)大村美麗達自行車：創新研發並開創自有品牌
- () 27. 阿文和阿偉兩人計劃畢業後繼續留在臺北市，請問下列哪一項『不是』臺北市吸引兩人留下的原因？(A)都市的就業機會較多且薪資較高 (B)醫療條件及公共設施較多 (C)購物商場和娛樂種類較多樣且方便 (D)盆地地形天然災害較少
- () 28. 阿興想回家鄉花東縱谷定居，然而他卻擔心找不到合適的工作，請問該地工業不發達的最主要原因為何？(A)天候多變、豪雨釀災 (B)地形阻隔、交通不便 (C)板塊交界、地震頻繁 (D)政策錯誤、產業外移

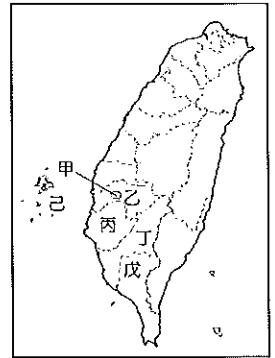
※題組二：明媚寶島旅行社長期深耕臺灣推出許多在地深度旅行。請回答第29~40題。

- () 29. 『菊島夏季花火之旅』此行程主要帶領團員前往離島欣賞壯觀的柱狀玄武岩、體驗箱網養殖並有機會品嚐仙人掌冰淇淋，請問此離島是下圖哪一座？



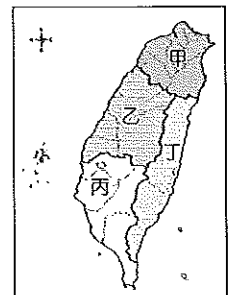
- (A) A島 (B) E島 (C) G島 (D) H島
- () 30. 『戰地風光金門三日遊』此行程包含了前往對岸搭船只要40分鐘的中國都市，請問此中國都市最可能是哪一個？(A)北京 (B)香港 (C)福州 (D)廈門
- () 31. 承上題，前往金門的觀光客若想帶當地著名特產當伴手禮，他們『不可能』購買哪一項商品？(A)貢糖 (B)黑糖糕 (C)高粱酒 (D)砲彈鋼刀

- () 32. 若想前往台灣的「文化首都」，參觀孔廟、億載金城、安平古堡，並品嚐碗粿、虱目魚粥及牛肉湯，要參加哪一個地區的一日遊？(A)乙 (B)丙 (C)丁 (D)戊



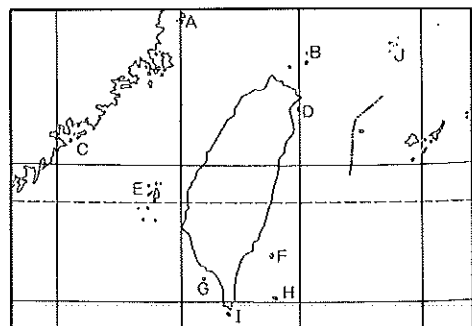
- () 33. 有旅客把購買的特產遺留在回程的交通工具上，這是一罐來自『八八坑道』的高粱酒，酒盒並有芹壁村石頭屋的風景素描，請問這名旅客最可能參加的是下列哪一個行程？(A)旭日溫泉綠島兩日遊 (B)人文國家公園金門四日遊 (C)戰地史蹟文化馬祖三日行 (D)熱帶珊瑚美景琉球嶼一日遊

- () 34. 若想要搭乘竹筏漫遊潟湖、大口品嚐鮮蚶並體驗曬鹽、挑鹽的辛苦，請問參加哪個地區的行程比較能獲得滿足？(A)甲 (B)乙 (C)丙 (D)丁



- () 35. 哪項重要交通建設的興建讓宜蘭觀光產業發達，使得旅行社不斷推出如『精彩蘭陽觀光工廠體驗之旅』這樣的行程？(A)雪山隧道工程 (B)68號快速道路 (C)蘇花高速公路 (D)中山高速公路
- () 36. 請問下列行程是專門為下圖臺灣哪座離島所設計？

南竿機場→牛角聚落→民俗文物館→北海坑道→仁愛鐵堡→津沙聚落

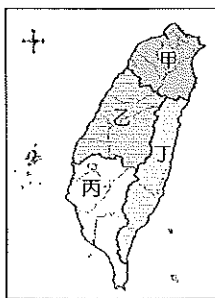


- (A) A島 (B) C島 (C) F島 (D) G島

- () 37. 如欲欣賞太魯閣壯闊的大理石峽谷以及七星潭秀麗的海岸風光，請問要選購哪一個縣市的行程？
 (A)花蓮 (B)臺東
 (C)屏東 (D)宜蘭
- () 38. 旅行社今年提供的周休二日「愛鄉土、遊臺灣」活動行程如下，請問哪些行程規劃是『錯誤』的？

臺北出發南下前往(甲)客家族群集中的苗栗欣賞油桐花並品嚐梅乾扣肉、擂茶等客家料理，下午繼續南下前往(乙)雲林公路花園，租借四輪腳踏車漫遊花海，晚上入住(丙)台中埔里盆地的飯店，享受晚餐、卡拉ok與飯店設施，隔天一大早前往(丁)日月潭水庫遊湖，並參觀邵族部落及品嚐當地出產的紅茶，下午北上前往(戊)有風城之稱的新竹，前往城隍廟附近享用貢丸、炒米粉等臺灣美味小吃。

- (A)甲、乙 (B)乙、丙
 (C)丙、丁 (D)丙、戊
- () 39. 旅行社在規劃行程時，最擔心遇到降雨，請問在冬季的行程安排上哪個區域遇到下雨的機率最高？(A)甲 (B)乙
 (C)丙 (D)丁



- () 40. 承上題，請問此區域冬季降雨日數較多的原因為何？(A)東北季風迎風側的地形雨
 (B)熱力作用產生的對流雨
 (C)冷暖氣團交會的鋒面雨
 (D)高氣壓籠罩的氣旋雨