

基隆市立武崙國民中學一〇七學年度第一學期第二次段考七年級地理科試題卷

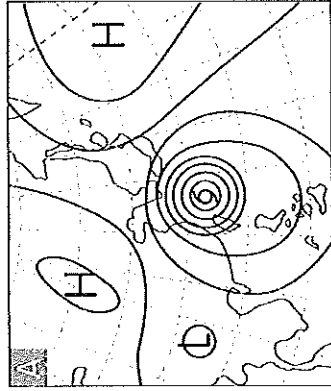
注意事項：

1. 本份試卷共兩大題。第一大題為單選題，每題 2 分，共 47 題，合計 94 分；第二大題為非選擇題，合計 6 分。總分 100 分。
2. 答案卡限用 2B 鉛筆塗記，若畫記錯誤，請擦拭乾淨。分數以電腦讀卡分數為準。
3. 答案卡上的資料欄請確實填寫，若資料欄畫記錯誤導致電腦無法正確判讀，扣總分 10 分。

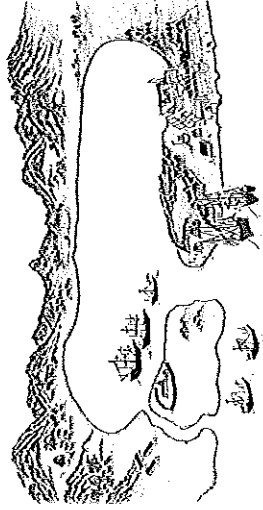
班級：七年 班 座號： 姓名： _____

第一大題

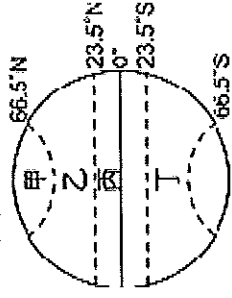
- () 1. 農業是看天吃飯的產業，以往先民根據生活經驗而流傳了許多氣候相關諺語。請問：附圖為下列哪一句諺語所形容的氣候狀態？(A)西北雨落不過田埂 (B)九月颱風無人知 (C)一月寒死龜，二月寒死牛，三月寒死播田夫 (D)四月芒種雨，五月無乾土，六月火燒埔。



- () 2. 臺灣的平原中，何者冬季乾旱現象最不明顯？
 (A)宜蘭平原 (B)嘉南平原 (C)彰化平原 (D)屏東平原。
- () 3. 柏元在翻閱臺南市海岸古地圖時，發現一張荷蘭人統治臺灣時期的「台江內海」手繪地圖。請問：這張地圖呈現出下列何種海岸地形？
 (A)海蝕洞 (B)岬角 (C)斷崖 (D)潟湖。



- () 4. 「適合珊瑚繁殖的環境，需海水溫暖、鹽度適中、無河川注入的潔淨淺海。」根據上文判斷，珊瑚礁島大多分布在附圖中哪個區域？
 (A)甲 (B)乙 (C)丙 (D)丁。



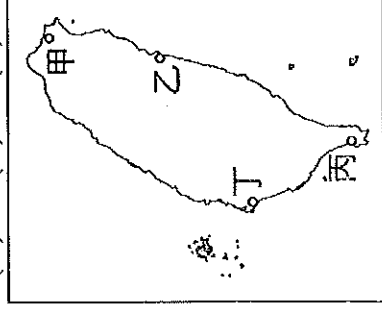
- () 5. 附表是造巖分析臺灣某港口的自然條件，依表中內容判斷，最可能是指下列哪一個港口？
 (A)高雄港 (B)基隆港 (C)臺中港 (D)花蓮港。

自然條件	
優點	1. 形勢良好的灣澳。 2. 少淤積的曲折岩岸。
缺點	1. 丘陵環抱、平地狹小。 2. 雨日較多，影響貨物裝卸。

- () 6. 冠昱整理了一份關於沙岸和岩岸的比較如附表。請問：表中何項說明有誤？

類型	(A)營力	(B)海岸線	(C)海水深度	(D)產業發展
沙岸	堆積作用	較平直	較淺	漁業、海運
岩岸	侵蝕作用	較曲折	較深	鹽業、海水浴場

- () 7. 來自西伯利亞的黑面琵鷺會於冬季時來到臺南七股度冬，為了保護此處沙洲、潟湖、溼地等豐富的生態及人文資源，政府於 98 年 12 月成立台江國家公園。請問：台江國家公園位於附圖中何處？(A)甲 (B)乙 (C)丙 (D)丁。



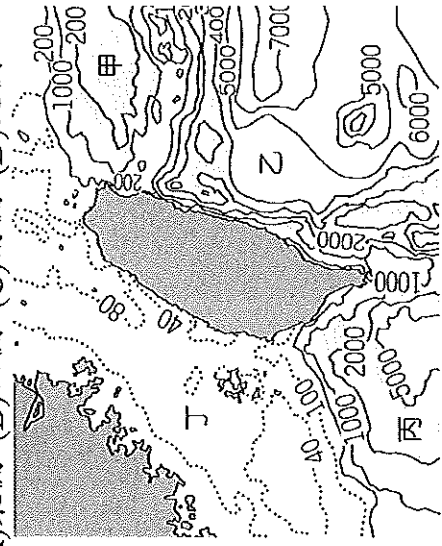
- () 8. 寒假即將來臨，均融打算以野柳地質公園為出發點，順時針前進，完成環臺濱海旅行。依據均融規劃的路線判斷，他依序會經過附表哪些海岸？(A)甲→乙→丙→丁 (B)甲→丁→丙→乙 (C)丁→甲→丙→乙 (D)甲→丙→乙→丁
- | | |
|---|--------------|
| 甲 | 海岸灣澳與岬角相間 |
| 乙 | 有鹽山、養殖漁業 |
| 丙 | 珊瑚礁海岸 |
| 丁 | 沿岸有高聳峭壁，海岸陡直 |
- () 9. 海岸主要可畫分為「岩岸」與「沙岸」兩種類型，請問其分類的主要依據為下列何者？
 (A)沿岸土地利用 (B)海洋水溫高低 (C)海岸構成物質 (D)海岸曲直形態。
- () 10. 下表為某地的簡介，依內容判斷，其應為臺灣哪一個離島？(A)金門 (B)琉球嶼 (C)澎湖 (D)釣魚臺列嶼。

歷史概況	元代時設官治理，納入版圖。
景觀特色	1. 自然：火山噴發所形成的柱狀玄武岩
	2. 人文：臺灣最古老的天后宫 (媽祖廟)

- () 11. 臺灣離島的居民，大多以何種經濟活動維生？(A)採礦業 (B)工業 (C)漁業 (D)畜牧業。
- () 12. 「西北雨，落不過田埂」的諺語中，「落不過田埂」是指「西北雨」的哪一種降水特徵？
 (A)雨時長 (B)雨勢弱 (C)降水量少 (D)雨區小。

() 13. 附圖為臺灣周圍海域等深線圖。由圖中可以發現，臺灣哪一側的海水深度相對較淺？

(A) 東側 (B) 西側 (C) 南側 (D) 北側。



() 14. 承上題，中油公司為了尋找石油與天然氣資源，決定在臺灣四周的大陸棚進行探勘。請問：根據附圖，若不考慮其他因素，何處會是中油公司最先考量的地點？(A) 甲 (B) 乙 (C) 丙 (D) 丁。

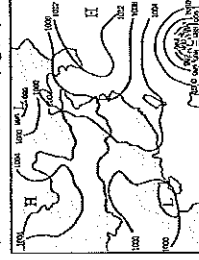
() 15. 如果想要了解某地當天的天氣狀況，可利用附圖中哪些資料去判斷？

(A) 甲乙 (B) 甲丁 (C) 乙丙 (D) 乙丁。

甲：年降水量圖 乙：衛星雲圖

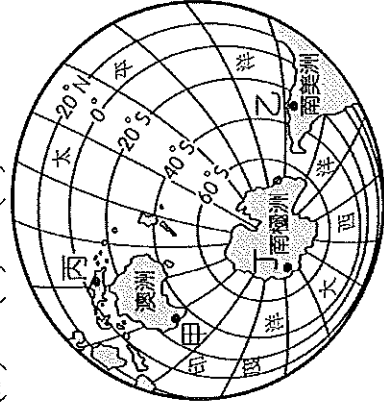


丁：地面天氣圖



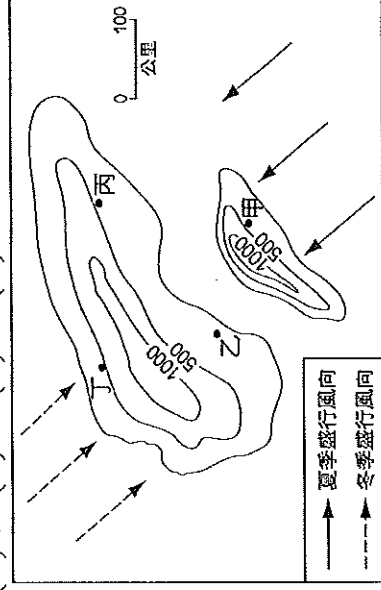
() 16. 住在基隆的庭逸想在暑假出國旅遊並享受當地的熱帶風情，請問，以下哪一個地點最合適？

(A) 甲 (B) 乙 (C) 丙 (D) 丁。




() 17. 附圖是兩個島嶼的相對位置和等高線圖。根據附圖判斷，何地的年降水量可能最少？

(A) 甲 (B) 乙 (C) 丙 (D) 丁。




() 18. 地理老師在課堂上講解臺灣的某種降水特徵，並展示如附圖的示意圖，以方便同學了解其成因。請問：這種降水類型最常出現在哪一季節？(A) 春季 (B) 夏季 (C) 秋季 (D) 冬季。

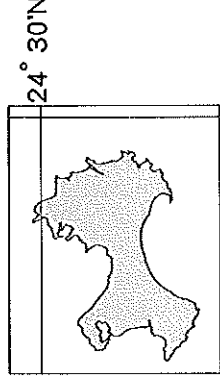


() 19. 氣壓的變化反映出一地當時的大氣狀況，請問：氣壓差異主要是受到下列哪些因素影響？(A) 氣溫、風向 (B) 高度、雨量 (C) 氣溫、雨量 (D) 氣溫、高度。

() 20. 在地面氣象觀測站，常看到如附圖的風向計裝置。請問：由附圖中的風向計可知此時風向為何？(A) 北風 (B) 西風 (C) 南風 (D) 東風。



() 21. 下文是一則旅遊報導：「翟山坑道位於某離島，為一 A 字型戰備水道，總長約 357 公尺。民國 52 年為因應戰爭所需而開挖，戰時供運補小艇補給使用，現在已成為該地的觀光景點。」附圖為「翟山坑道」所在離島位置，請問：依據圖中資料判斷，應為下列哪個島嶼？(A) 澎湖 (B) 馬祖 (C) 金門 (D) 太平島。

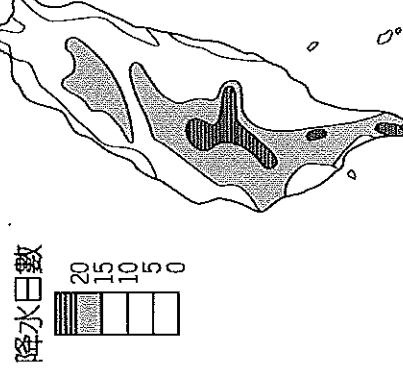


118° 30'E

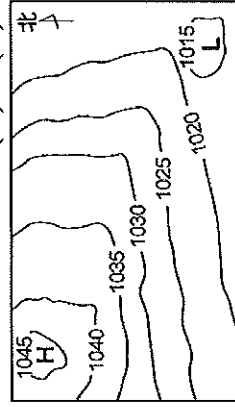
() 22. 地面天氣圖中的英文字母「H」、「L」、「L」分別代表的意義，附表中何者敘述錯誤？

	H	L	L
(A)	高氣壓	低氣壓	低氣壓
(B)	空氣下沉	空氣上升	空氣上升
(C)	氣溫相對較低	氣溫相對較高	氣溫相對較高
(D)	降水機率較大	降水機率較小	降水機率較小

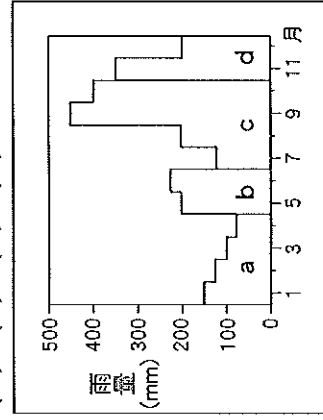
() 23. 附圖為臺灣本島某年七月分降水日數分布圖，影響圖中七月降水日等值線分布的最主要因素為何？(A) 季風、緯度 (B) 經度、地形 (C) 季風、地形 (D) 緯度、距海遠近。



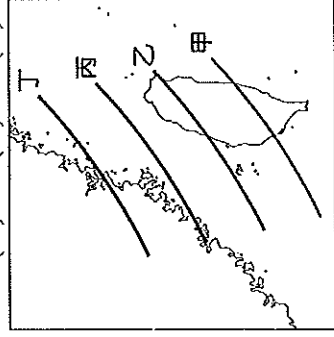
- () 24. 參考附圖，依據氣壓高低影響氣流方向的原則，風向應為下列何者？(A)↘(B)↗(C)↖(D)↙。



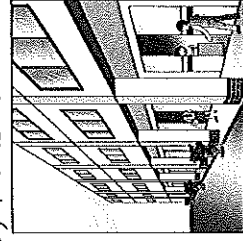
- () 25. 附圖為臺灣東部年降水量分布圖，依月份分為四個時期。請問：哪個時期的降水與颱風風較相關？(A)a (B)b (C)c (D)d。



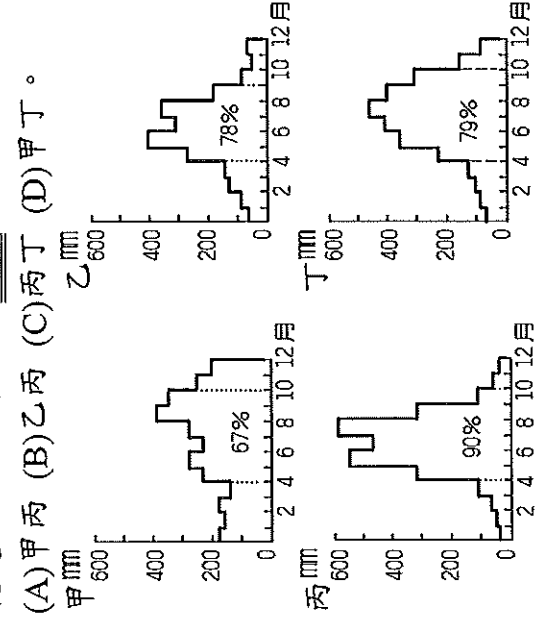
- () 26. 附圖中四條線代表臺灣及中國東南一帶梅雨發生的時間順序。請問：發生最早的梅雨鋒面應該是哪條？(A)甲 (B)乙 (C)丙 (D)丁。



- () 27. 騎樓是臺灣地區常見的市街建築，居民常將一樓接鄰馬路的部分當做通道，二樓以上住人。請問，這種建築特色顯示臺灣的氣候具有下列何項特色？(A)兩日較長 (B)颱風頻繁 (C)夏雨冬乾 (D)年溫差小。



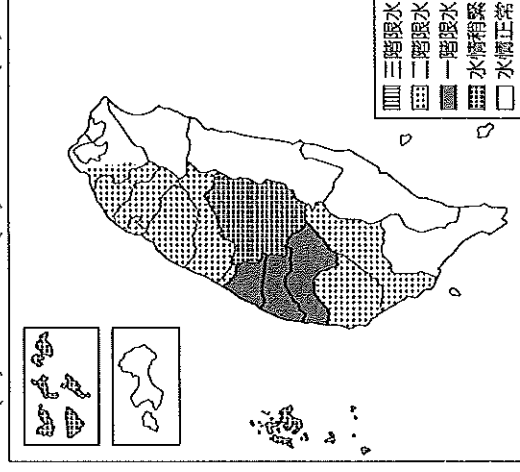
- () 28. 附圖為淡水、花蓮、臺中、恆春四個城市的雨量圖。請問：考量臺灣的降水特徵，淡水和花蓮地區的雨量應分別為下列哪兩張圖？



(A)甲 丙 (B)乙 丙 (C)丙 丁 (D)甲 丁。

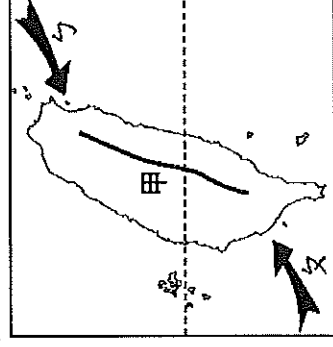
- () 29. 新竹別稱「風城」，名產如米粉、柿餅的製作過程皆仰賴當地強勁的季風風向為何？(A)東北季風 (B)西北季風 (C)東南季風 (D)西南季風。
- () 30. 「春節期間，臺灣西南沿海有大批養殖的虱目魚死亡，這種天然災害，造成業者損失慘重。」請問：文中「天然災害」應為下列何者？

- (A)乾旱 (B)土石流 (C)寒害 (D)沙塵暴。
- () 31. 經濟部水利署成立抗旱專區網站，提供民眾最新水情與抗旱情報。網站可看到附圖中的臺灣供水情勢（枯旱預警）通報示意圖，由圖可推知，這最可能是哪一時期的供水情勢？

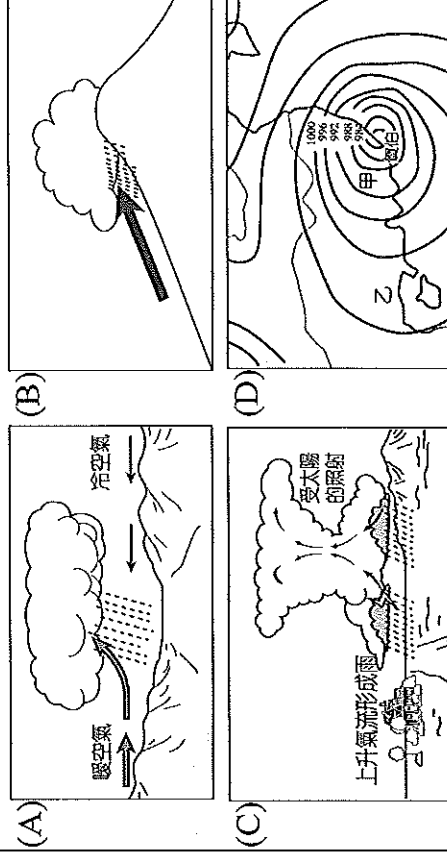


- (A)二月底 (B)五月底 (C)七月中 (D)十月初。

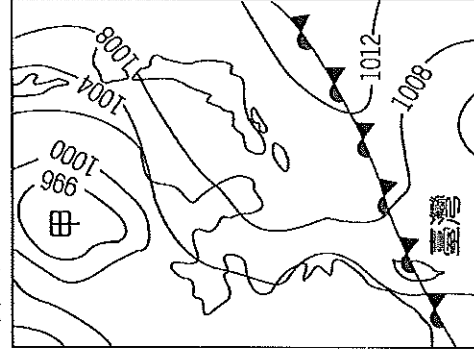
※附圖為臺灣季風風向示意圖。請問：




- () 32. 圖中虛線所代表的是哪條緯線？(A)赤道 (B)本初經線 (C)北回歸線 (D)北極圈。
- () 33. 圖中甲區屬於哪種氣候類型？
- (A)熱帶季風氣候 (B)副熱帶季風氣候。
- () 34. 臺灣冬季的盛行風向為圖中何者？
- (A)↘ (B)↙。
- () 35. 承上題，請問此時臺灣北部地區主要的降水類型為下列何者？

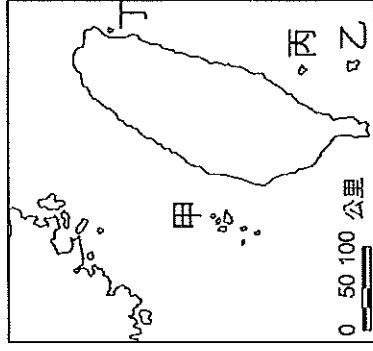


※請依據附圖中資料，回答下列問題：



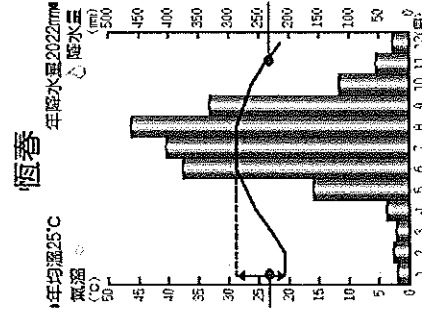
- () 36. 圖中的「甲地」應為下列何者？(A)低氣壓中心
(B)高氣壓中心 (C)冷氣團中心 (D)颱風中心。
- () 37. 臺灣每年5、6月間的天氣圖常出現如附圖的現象，請問：圖中「」所指為何？
(A)冷鋒 (B)暖鋒 (C)滯留鋒 (D)囚錮鋒。
- () 38. 承上題，請問此時臺灣會出現怎樣的天氣現象？(A)陰雨綿綿 (B)晴空萬里 (C)乾旱缺水 (D)氣溫驟降。

※附圖中甲、乙、丙、丁為臺灣的四個離島。請問：



- () 39. 這四個離島在島嶼分類上都屬於什麼島？
(A)火山島 (B)大陸島 (C)珊瑚礁島 (D)沙洲島。
- () 40. 「某島嶼位於恆春東方海域，島上住有達悟族，俗稱『飛魚的故鄉』。」請問：上述內容是指附圖哪座島嶼？(A)甲 (B)乙 (C)丙 (D)丁。

※附圖為恆春氣候圖，附表為恆春氣候統計表，請問：



	1月	2月	3月	4月	5月	6月	7月	8月	9月	10月	11月	12月
氣溫(°C)	21	21	23	25	27	28	28	28	27	26	24	22
雨量(mm)	18	25	21	36	158	374	402	461	331	116	54	26

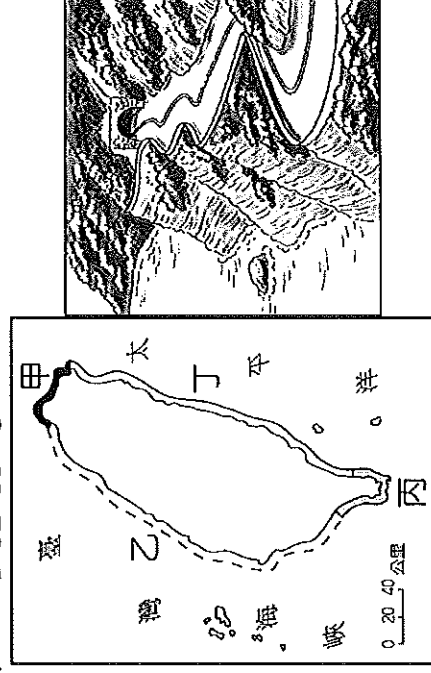
- () 41. 請問恆春的年溫差為多少？(A)4°C (B)5°C
(C)6°C (D)7°C。
- () 42. 請問恆春的降水特徵為下列何者？(A)終年多雨 (B)夏雨冬乾 (C)夏乾冬雨 (D)終年少雨。

※下表是臺灣四地(臺南、屏東、宜蘭、阿里山)觀測站的氣候統計資料：

	1月均溫(°C)	7月均溫(°C)	年降水量(mm)
甲	15.8	28.1	2740.1
乙	18.1	28.3	1738.5
丙	20.4	27.9	2162.1
丁	5.6	14.1	3060.5

- () 43. 請問，造成甲乙丙三地1月氣溫差異的主因為下列何者？(A)緯度 (B)地形 (C)季風 (D)距海遠近。
- () 44. 請問，造成「丁區」7月氣溫較低的原因應為下列何者？(A)緯度 (B)地形 (C)季風 (D)距海遠近。
- () 45. 根據附表判斷，「臺南、屏東、宜蘭、阿里山」觀測站依序應為？(A)甲乙丙丁 (B)乙丙甲丁 (C)甲丙乙丁 (D)丙甲乙丁。

※圖(一)為臺灣海岸地形的分布圖，請參考下列兩張附圖，回答32~33題：



▲圖(一)



▲圖(二)

- () 46. 圖(二)為臺灣某處海岸示意圖，附圖中高山深灣相鄰，形成陡峭的斷層海岸。請問：此處海岸應位於圖(一)中何處？(A)甲岸 (B)乙岸 (C)丙岸 (D)丁岸。
- () 47. 睦恩為研究臺灣海岸的特徵，特別實地走訪調查。請問：睦恩在「甲」海岸最不可能看到下列哪個景觀？(A)野柳女王頭 (B)富貴角燈塔 (C)基隆港貨櫃起降 (D)外傘頂洲。

※還有非選擇題唷！請再仔細檢查有沒有遺漏之處，預祝每位同學都能得到理想成績！

七年 班 座號： _____

姓名： _____

單選題得分	非選擇題得分	總分

◆第二大題：非選擇題，每格 1 分，合計 6 分。(請以黑色或藍色原子筆書寫，違者不予計分)

※臺灣是由大大小小的島嶼所組成，本島以外的島嶼一般通稱為離島。

1. 離島依形成原因可以分為

A 火山島

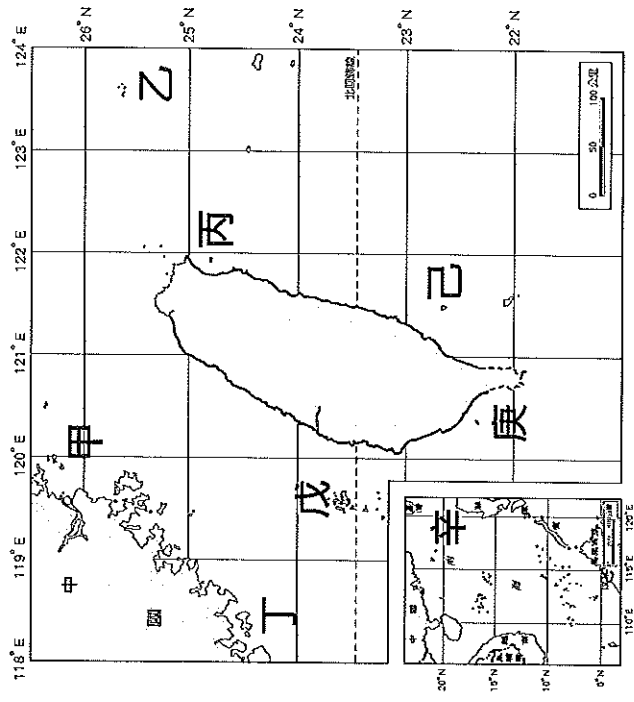
B 大陸島

C 珊瑚礁島

請將代號 A~C 分別填入

「島嶼類型」對應的表格中。

2. 右圖為臺灣離島位置圖，請依據附圖位置判斷各代號所代表的離島，將代號甲~辛分別填入「代表島嶼」對應的表格中，**該格全對才給分**。




島嶼類型
請填代號 A~C

島嶼成因示意圖

代表島嶼
請填代號甲~辛

說明：沿海丘陵因海平面相對上升而沒入水中。



說明：海底岩漿湧出形成火山，露出海面形成島嶼。



說明：海底的珊瑚礁露出海面所形成的島嶼。

