

一、選擇題：1~50 題，每題 2 分，滿 100 分。

試題共 4 頁。

▣ 附圖為荷治時期的臺灣形勢圖。請回答 1~2 題：

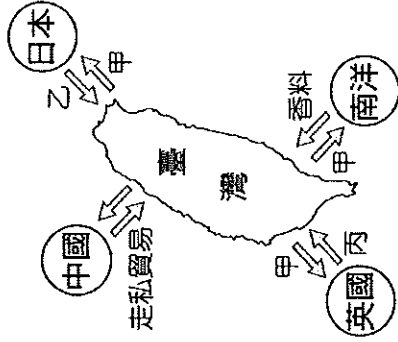


1. () 鄭成功在攻下臺灣之前曾以何地為根據地？
 (A) 金門、廈門
 (B) 金門、馬祖
 (C) 廈門、澎湖 (D) 澎湖、海南島
2. () 鄭成功最後決定由圖中的何地登陸，達成逐退荷蘭人的目的？(A) 甲 滬尾
 (B) 乙 雞籠 (C) 丙 鹿耳門 (D) 丁 打狗
3. () 『唐山過臺灣，心肝結歸丸』此諺語描述的是漢人渡臺時糾結的心情，請問諺語中的『唐山』所指的是下列哪項？
 (A) 早期中國大陸沿海一帶的地名
 (B) 早期中國東南省份山脈的名稱
 (C) 早期居住於閩粵一帶的族群名稱
 (D) 早期閩粵移民海外者對原鄉的通稱
4. () 荷蘭海牙國家圖書館有一份極為珍貴關於此事件的文獻記載，由於荷蘭被擊退，遂決議退出臺灣市場，返回巴達維亞。請問此文獻應該記載於西元何年？
 (A) 1524 年 (B) 1624 年
 (C) 1662 年 (D) 1783 年
5. () 鄭成功在臺灣已經變成了一個神話了的人物，下列哪個尊號不屬於鄭成功所擁有的？(A) 國姓爺 (B) 開臺聖王
 (C) 鴨母王 (D) 延平郡王
6. () 鄭氏家族經營臺灣主要是在等待時機完成下列哪一項理想？
 (A) 稱霸南洋 (B) 反清復明
 (C) 壟斷海權 (D) 獨立建國
7. () 在鄭經時期終於等到一個好時機，希望能離理想近一些，因此趁著這個機會出

兵中國。請問這個時機為何？

- (A) 三藩之亂 (B) 康熙駕崩
 (C) 歐洲入侵 (D) 倭寇侵擾
8. () 鄭氏治臺時期，哪位統治者在良臣的輔佐之下積極對臺治理與經營，將漢官、漢學等漢文化及典章制度引入臺灣，對臺灣帶來巨大的貢獻？(A) 鄭經
 (B) 鄭成功 (C) 鄭克塽 (D) 鄭克臧
9. () 承上題，該名輔佐的良臣又有『鄭氏諸葛』之稱，請問他最可能是下列何者？
 (A) 何斌 (B) 陳永華
 (C) 施琅 (D) 郭懷一
10. () 請問鄭氏家族在臺灣的經營結束在哪一位統治者手上，而當時代表清廷出兵擊敗明鄭政權的又是哪位？
 (A) 鄭經，施琅 (B) 鄭克塽，陳永華
 (C) 鄭克塽，施琅 (D) 鄭芝龍，施世榜
11. () 承上題，當時鄭氏軍隊與清軍大戰的地點位於何處？(A) 金門 (B) 馬祖
 (C) 安平 (D) 澎湖
12. () 請問明鄭時期臺灣的『選才任官』制度為下列何種？
 (A) 委任制度 (B) 科舉制度
 (C) 選舉制度 (D) 世襲制度
13. () 清廷為了打擊在臺灣鄭氏政權的經濟，曾實施許多策略，請問下列哪項策略並非清廷採用來打擊鄭氏政權商業活動的方法？(A) 嚴格實施海禁政策
 (B) 沿海居民遷徙內地
 (C) 沿海設置軍事要塞
 (D) 聯合倭寇壟斷貿易
14. () 鄭氏時期非常重視土地的拓墾，請問是為了解決下列哪項問題？
 (A) 貿易商品缺乏 (B) 增加土地稅收
 (C) 軍民糧食不足 (D) 連年饑荒歉收

15. () 附圖為鄭氏時期臺灣對外貿易圖，請問圖中的甲、乙分別代表何物？



- ① 蔗糖 ② 鹿皮
③ 茶葉 ④ 樟腦
⑤ 軍用物資

- (A) 甲~①②；乙~⑤
(B) 甲~①③；乙~⑤
(C) 甲~③④；乙~②
(D) 甲~⑤；乙~①②

16. () 清朝統治臺灣的二百多年分為前期和後期，請問劃分的依據與下列哪個事件關係最密切？

- (A) 臺灣設省 (B) 朱一貴事件
(C) 中日馬關條約 (D) 臺灣開港通商
17. () 赤崁國中的校外教學計劃參訪鄭氏時期興建的著名建築，承辦旅行社規劃的參訪地點如下，請問哪一項比較符合赤崁國中的需求？

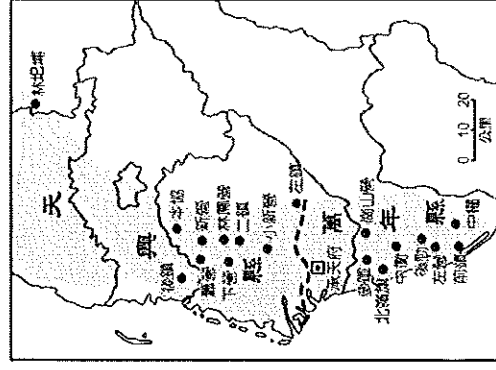
- (A) 繁榮一時的商業重鎮普羅民遮城
(B) 有「全臺首學」之稱的臺南孔廟
(C) 高居山丘俯視河口的「紅毛城」
(D) 有全臺第一座西式炮台的億載金城
18. () 張鵬是明鄭時期生活在天興州的農夫，他耕作的土地是政府直接占有荷蘭時期已經墾殖的王田。每日辛勤工作就是希望兒子能接受教育，請問關於他當時的生活下列何者最不可能出現？
(A) 臺灣在當時被稱為『東寧』
(B) 用『科舉制度』來選才任官
(C) 能在孔廟大成殿看到祭孔儀式
(D) 到承天府最快的方式是搭火車

19. () 下列哪一項不屬於鄭氏治臺時期的土地拓墾方式？
(A) 民墾 (B) 官墾 (C) 奴墾 (D) 軍屯

20. () 下列哪一項不是在臺灣的明鄭政權維持財政的方式？

- (A) 對外拓展海上的貿易
(B) 拓墾土地以發展農業
(C) 與大陸進行走私交易
(D) 引進西方的採礦技術

21. () 育鈞參觀臺南孔廟發現有一『明倫堂』的建築，請問此建築在當時的作用是屬於什麼空間？(A)廟宇 (B)教室 (C)辦公室 (D)圖書館



育鈞在歷史雜誌上看到右側這張地圖，根據地圖顯示的資訊請回答第22~24題：

22. () 請問該地圖為明鄭政權哪個時期的地圖？
(A) 鄭芝龍

(B) 鄭成功 (C) 鄭克塽 (D) 鄭經
23. () 請問此時期的臺灣被當時的統治者稱為什麼？

(A) 臺灣 (B) 東都 (C) 東寧 (D) 東夷
24. () 由於該地圖缺乏圖名，你認為下列哪個圖名與此地圖呈現的內容最為相關？

- (A) 鄭氏政權軍屯地點分布圖
(B) 明鄭時期文教設施分布圖
(C) 鄭成功對臺灣軍事部署圖
(D) 鄭經時期臺灣商業市鎮圖
25. () 在臺北石牌捷運站，有一座「漢番界碑」，這座界碑正說明了清朝對於原住民是採取何種措施？

- (A) 劃定界限的隔離措施
(B) 武力征討後間接統治
(C) 以番治番的懷柔策略
(D) 立法治理的保護政策

26. () 「勸君切莫過臺灣，臺灣恰似鬼門關。千個人去無人轉，知生知死誰都難……。」上文為《渡臺悲歌》中的一段，請問下列哪項不是當時渡臺可能會面對的風險？
- (A)黑水溝遇船難 (B)水土不服病死
(C)遇械鬥被打死 (D)被荷蘭人俘虜
27. () 地理老師曾分享在臺中攀爬土堆與深溝的『土牛溝』踏察經驗，請問土牛溝遺址可以見證臺灣哪一項歷史？
- (A)鄭氏的土地拓墾方針
(B)荷治時期的王田分界
(C)清領初期的漢番衝突
(D)避免分類械鬥的策略
28. () 臺灣在荷治時期、鄭氏時期與清領前期，這三個不同政權統治期間，向外共同輸出的主要商品為下列何者？
- (A)稻米 (B)蔗糖 (C)鹿皮 (D)小麥
29. () 下列哪一項敘述，與「有唐山公，無唐山媽」的諺語有密切關係？
- (A)政府規定男子單身渡臺
(B)當時臺灣女子死亡率高
(C)漢人女性只能短期居留
(D)臺灣男嬰出生比例較高
30. () 張順發在清領前期來臺灣開墾田地，依當時的規定，他無法用哪種方式獲得土地？(A)承租原住民的土地 (B)向政府申請開墾證照 (C)與原住民通婚後繼承 (D)向軍隊購買開墾完成的土地
31. () 下列關於『郊』的功能何者錯誤？
- (A)控制商品價格 (B)調解同業糾紛
(C)避免惡性競爭 (D)接待外國商人
32. () 請將下列事件發生的先後順序加以排列？甲、清廷將臺灣納入版圖 乙、鄭成功攻打荷蘭人 丙、鄭經積極治理臺灣 丁、民變朱一貴事件爆發
- (A)甲→乙→丙→丁 (B)乙→丙→丁→甲
(C)乙→丙→甲→丁 (D)丁→乙→丙→甲

班級：_____ 姓名：_____ 座號：_____

33. () 大體而言，清領前期臺灣對中國貿易主要輸出品及輸入品為何？
- (A)輸出農產品，輸入軍用品
(B)輸出農產品，輸入日用品
(C)輸出軍用品，輸入農產品
(D)輸出日用品，輸入農產品
34. () 下列有關清領前期臺灣土地拓墾與農業發展的概況，何者錯誤？
- (A)漢人可以向原住民承租土地
(B)漢人需向政府申請開墾執照
(C)多採用集資合股的方式開墾
(D)仰賴水利建設興建嘉南大圳
35. () 沈光文有『開臺文化祖師』之美譽，請問他對臺灣的貢獻與下列何者關係最密切？(A)移入漢人典章制度
(B)發展民間文教活動
(C)引進科舉選賢制度
(D)推行寓兵於農政策
36. () 臺灣俗諺「一府二鹿三鯤鯓」，這句話顯示臺灣早期的開發方向為何？
- (A)由南而北 (B)由北而南
(C)由東而西 (D)由西而東
37. () 李添財是清領前期臺南一帶的米商，他經常將米賣到中國福建、廣東。為了自己的商業利益，他決定加入公會組織，請問他適合加入下列哪兩種？
- (甲)米郊 (乙)油郊 (丙)南郊 (丁)北郊
(A)甲、乙 (B)甲、丙
(C)乙、丙 (D)乙、丁
38. () 清廷取得臺灣後，朝中大臣曾經對臺灣棄留的問題進行辯論，你認為下列哪項屬於施琅對臺灣論點？
- (A)位置重要，影響東南沿海安全
(B)土地貧瘠，糧產無法滿足島民
(C)面積狹小，投資浪費朝廷心力
(D)缺乏文化，島民難以接受教化

39. () 陳永華在鄭氏政權的重要功績與下列哪一項關係最密切？

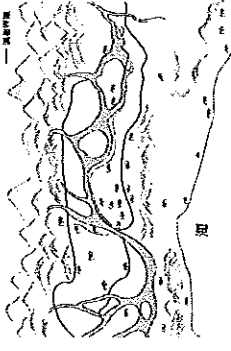
- (A) 拓展海外貿易增加鄭成功財富
 - (B) 助鄭成功攻打荷蘭人奪取臺灣
 - (C) 移入漢人典章制度助鄭經治臺
 - (D) 追隨鄭克塽出兵中國擴大版圖
40. () 清朝治臺初期為什麼漢人需要用偷渡的方式來臺？(A) 船票價格過於昂貴
(B) 可以規避身家調查 (C) 政府採取限額制度 (D) 政府實施渡臺禁令

41. () 承上題，當時清廷的治臺策略為下列何者？(A) 積極經營成海上貿易站

(B) 態度消極為防臺而治臺

(C) 因地制宜以漢人治漢人

(D) 延續明朝時期治臺策略



42. () 附圖是清領時期臺灣番界變遷圖，從圖中可以發現：漢番的界線從原本

接近海口不斷的往內山後退。請問造成此現象的原因為下列何者？

- (A) 清廷派兵將原住民驅逐入山
 - (B) 臺灣山區資源較為豐富多樣
 - (C) 漢人越界開墾侵占原住民土地
 - (D) 原住民為躲避清廷統治而入山
43. () 清領初期，清廷最早開放哪個港口與中國大陸貿易？另外，因為貿易日漸繁盛，陸續開放哪兩個合法的港口？

(甲) 鹿港 (乙) 艋舺 (丙) 雞籠 (丁) 打狗

(戊) 八里坌 (己) 鹿耳門

(A) 甲；乙與丙 (B) 乙；甲與丁
(C) 戊；乙與己 (D) 己；甲與戊

回清領時期，水利建設為土地拓墾的重要關鍵，請根據附圖回答第44~45題。

44. () 由施世榜興建，引濁水

溪灌溉彰化平原，為臺灣當時規模最大的水圳，請問是下列哪一個水圳？

(A) 乙，貓霧揀圳 (B) 乙，八堡圳

(C) 丙，曹公圳 (D) 丙，八堡圳

45. () 請問當時臺灣哪一個水圳是以水權與當地原住民交換土地而開墾成功的？

(A) 甲，曹公圳 (B) 乙，嘉南大圳

(C) 丙，貓霧揀圳 (D) 丁，瑠公圳

回附圖為清領初期不同時期的臺灣行政區圖，請回答第46~50題：



(甲)



(乙)



(丙)

46. () 請將甲、乙、丙三圖依出現時間的先後順序排列？

(A) 甲→乙→丙 (B) 乙→甲→丙

(C) 甲→丙→乙 (D) 乙→丙→甲

47. () 請問乙圖為哪一位皇帝在位時期的臺灣行政區圖？

(A) 康熙 (B) 雍正 (C) 乾隆 (D) 嘉慶

48. () 『嘉義縣』此名稱的出現與下列哪一個事件關係最密切？

(A) 林爽文事件 (B) 朱一貴事件

(C) 戴潮春事件 (D) 陳永華事件

49. () 噶瑪蘭廳的設置與漢人的積極開發有關，請問當土地開墾的主要領導人物有『開蘭第一人』之稱的為下列何者？

(A) 施琅 (B) 曹謹 (C) 吳沙 (D) 張達京

50. () 臺灣行政區的一再轉變與下列哪項因素較無關係？(A) 民變頻繁 (B) 人口增加 (C) 積極拓墾 (D) 列強入侵

【第4頁，共4頁，試題結束！】

