

基隆市立武崙國中 107 學年度第一學期 第二次段考 八年級社會科試卷—歷史科

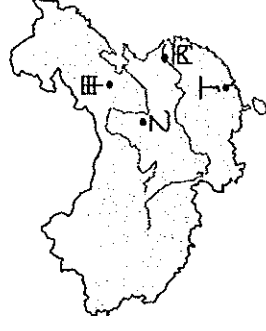
電腦讀卡，請使用 2B 鉛筆，並依據題號在答案卡上作答，答案卡無法判斷身分者，扣總分 10 分

範圍：第三冊 L.3~L.4 (4-2)

班級：_____ 座號：_____ 姓名：_____

一、選擇題：每題 2 分，共 70 分

1. 魏晉南北朝是中國少數的長期分裂時代。請問，此段時間的起迄為何？
(A)赤壁之戰到八王之亂 (B)永嘉之禍到隋朝的建立 (C)五胡亂華到玄武門之變 (D)曹魏立國到南朝陳的滅亡
2. 三國時代魏國人稽康，其文章雄壯清麗，其人行俠仗義，並且喜歡與人談論老莊之學，崇尚虛無理論、輕視禮儀法規，且每日縱情飲酒、不問政事。請問，稽康最有可能是下列哪一個派別的代表人物？
(A)儒學 (B)佛學 (C)玄學 (D)法學
3. 西晉末年，北方出現了世家大族南遷避亂的狂潮，但也有人只是想暫時躲避戰亂，再伺機重返北方恢復被異族蹂躪的家園，祖逖就是其中一位，他不甘故國傾覆，常懷振興恢復故國之志，因而有「聞雞起舞」的千古佳話。請問，祖逖最有可能向何人請纓要求領兵北伐呢？ (A)司馬睿 (B)司馬炎 (C)司馬遷 (D)司馬昭
4. 電視劇《隋唐英雄傳》劇中的「瓦崗寨」是隋朝末年，為了反抗統治者的組織。該組織之所以反隋，主要原因應為下列何者？ (A)隋文帝興建渠道 (B)隋煬帝篡奪北周 (C)隋煬帝暴虐無道 (D)隋文帝推動坊市分離
5. 武則天為中國歷史上唯一的女皇帝，雖然後代史家對她有些不好的看法，但其任內曾經實施下列哪項政策，使得階級得以流動？ (A)實施察舉制度 (B)實施九品官人法 (C)利用科舉提拔人才 (D)首創八股取士方式
6. 唐玄宗開元年間，朝廷在邊境地區設置十個節度使；然而某「事件」之後，節度使的數量大為增加，幾乎遍及全國。上述的「事件」應為何者？ (A)安史之亂 (B)黃巾之亂 (C)黃巢之亂 (D)管蔡之亂
7. 歷史老師在上課時利用地圖解說，希望同學能對空間有更好的概念。
如右圖所示，六朝都是建都在圖中何處？
(A)甲 (B)乙 (C)丙 (D)丁



8. 冠竹蒐集張陵的生平資料以作為撰寫歷史報告的參考。其報告主題與下列何者較相關？
(A)屬於中國本土宗教 (B)外來宗教在中國的傳播 (C)是位中國僧侶並曾西行求取經典 (D)曾於東漢末帶領信徒綁黃巾發動叛亂
9. 曹魏之前的世家大族，其形成原因和下列哪項因素最相關？ (A)秦始皇廢封建、行郡縣制度 (B)漢武帝的察舉制度 (C)東漢光武帝優禮士人制度 (D)漢武帝的經學取士制度
10. 梁武帝曾大修佛寺、佛塔，獎助佛經翻譯，甚至自己還出家當和尚，因而被稱為「菩薩皇帝」。請問，依上述內容，此事發生於下列哪個時期？ (A)南北朝 (B)東晉末年 (C)西漢初年 (D)隋朝
11. 思宇在黑板上寫下秦朝與隋朝的比較表格。請問，表中哪一項欄位是正確的？

項目	秦	隋
(甲)建國者	秦始皇	隋煬帝
(乙)重要性	統一六國，結束戰國時代	結束南北朝中國分裂局勢
(丙)重要工程	長城、石窟	運河
(丁)繼起政權	西漢	西晉

- (A)甲 (B)乙 (C)丙 (D)丁
12. 隋唐之後的五代十國，地方上呈現分裂的局面。五代為黃河流域政權，十國則為長江流域之並立的政權。請問，造成這種局勢的主因是為下列何者？ (A)匈奴入侵，皇帝被俘 (B)藩鎮割據，佔地為王 (C)君子好佛，不務正事 (D)外戚奪權，另立新朝

朝代帝王	入侵外族
西周幽王	犬戎入侵
西晉懷帝	甲

27. 若慈整理了中國史上被外族入侵而亡國的表格，如右圖。請問，表格中的「甲」應為下列何者？ (A)鮮卑起兵 (B)匈奴入侵 (C)羯族入侵 (D)突厥攻陷

28. 均庭在歷史課本上看到一段資料：「在位期間，勤於政事，崇尚節儉，節省政府開支，國家因而富足，史稱『開皇之治』。」請問，上文是在讚揚哪位皇帝的政績？

(A)隋文帝 (B)隋煬帝 (C)唐太宗 (D)唐玄宗

29. 風靡一時的電視劇「蘭陵王」，劇中主角是北齊有戰神之稱的武將高長恭，為了抵擋北周的人侵，多次出入戰場。劇情不但呈現兩國之間的恩怨，也刻劃出當時政治上的黑暗面。根據上述，「蘭陵王」這部電視劇應該是以下列哪一時代的歷史作為背景？ (A)東晉 (B)東漢 (C)五代十國 (D)南北朝

30. 804 班的同學們正在互相討論一位中國皇帝在位時的相關事蹟：

原富：「他力排眾議將首都從平城遷到洛陽。」

妍君：「他要求官員上朝時須使用漢語交談。」

新程：「他規定本族人禁穿胡服，改穿漢服。」

依三位同學討論的內容來看，他們可能是在討論哪一位皇帝呢？

(A)隋文帝 (B)晉武帝 (C)唐玄宗 (D)北魏孝文帝

31. **承上題**，根據新程所述，「他規定本族人禁穿胡服，改穿漢服。」其中，「本族」指的是下列哪一族群呢？

(A)匈奴 (B)鮮卑 (C)羌 (D)突厥

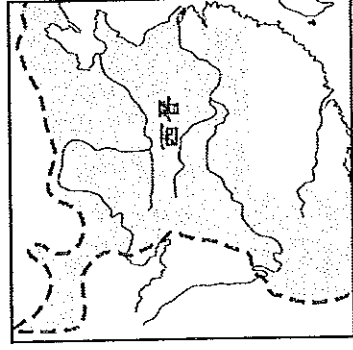
32. 以下為佳得整理安史之亂與黃巢之亂的比較表格。請問，**正確**欄位是為下列何者？

項目	安史之亂	黃巢之亂
(甲)時間	唐太宗在位時期	唐朝後期
(乙)性質	民變	民變
(丙)為亂區域	遍及黃河與長江流域	黃河流域一帶
(丁)影響	地方割據形成	導致唐朝滅亡

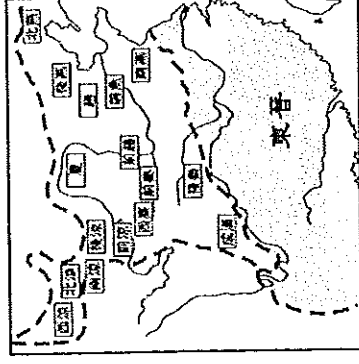
(A)甲 (B)乙 (C)丙 (D)丁

33. 南朝時，出身寒微的羯族將領侯景請求梁武帝為其作媒，向王姓、謝姓家族求婚，皇帝聽了回答：「王、謝門高非偶，可從朱、張以下訪之」，意指王、謝兩家不是侯景能夠高攀的起。請問，皇帝為何要勸說侯景不要向王、謝兩家族求婚呢？ (A)王、謝兩家的兵力比侯景還強 (B)侯景學識尚且不足，無法受到王、謝兩家的青睞 (C)王、謝兩家貴為世族勢力龐大，連皇帝也無力干涉 (D)侯景與王、謝兩家的宗教信仰不同

34. 下為魏晉南北朝時期的歷史發展圖。由圖(一)發展到圖(二)，與哪件史事有關？



(圖一)



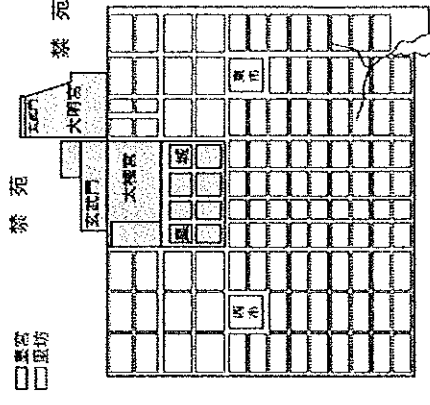
(圖二)

(A)玄武門之變 (B)八王之亂 (C)安史之亂 (D)永嘉之禍

35. 魏晉南北朝時代，孫吳、東晉和南朝四代對中國經濟有何歷史貢獻？ (A)促進胡漢融合 (B)加速江南的開發

(C)發展清談風氣 (D)維護世族地位

背面尚有題目



13. 君盛在中國史書上看到一張長安城古地圖，如右圖所示。地圖中的長安城是中國第一個按都市計畫興建的都市。請問，此型式的長安城最早是由哪位帝王所興建？ (A)晉武帝 (B)隋文帝 (C)唐高祖 (D)北魏孝文帝

14. 有一史書對於某一時期的敘述如下：「……政權一直是由世族所掌控，形成典型的門閥政治，如當時的王導、謝安及其家族，在政治上的權利與影響，遠在皇帝之上，這現象在中國歷史上可說是絕無僅有。」根據上述，此現象最有可能發生在下列哪一個朝代？ (A)東漢 (B)東晉 (C)隋 (D)唐

15. 生於北魏的工匠承哲，由於當時朝廷需要大量工匠到各地進行龐大工程，而承哲由於精於雕刻造像而備受重用。請問，承哲極有可能正在進行下列何項工程？ (A)建造長城 (B)興築運河 (C)營建大興城 (D)開鑿石窟

16. 立得在課本中讀到這段話：「……今曹操擁有百萬軍隊，挾天子以令諸侯，……。」請問，曹操所挾持的天子

是為何人？ (A)漢高祖 (B)漢武帝 (C)漢光武帝 (D)漢獻帝

17. 歷史老師請同學回答白板上的歷史人物(如右圖所示)有何共同的事蹟，哪位同學的回答最正確？ (A)篡位稱帝 (B)推行漢化 (C)統一中國南北分裂局勢 (D)大封宗室為王

18. 杜甫被唐朝中期某動亂的叛軍俘虜時寫下《月夜》這首詩：「今夜鄜州月，閨中只獨看。遙憐小兒女，未解憶長安。香霧鬢鬢濕，清輝玉臂寒。何時倚虛幌，雙照淚痕乾。」杜甫寫這首詩的背景應為下列何者？ (A)安史之亂 (B)玄武門之變 (C)永嘉之禍 (D)黃巢之亂


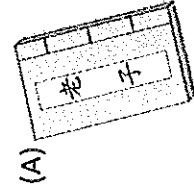
19. 資料一：中央有宦官亂政及牛李黨爭。資料二：地方上則是藩鎮割據，中央無力節制。請問，綜合資料一與資料二的現象是出現在下列哪個朝代？ (A)秦朝 (B)漢朝 (C)隋朝 (D)唐朝

20. 有一位史家曾在他的著作中指出：「這一條動脈的暢通與停滯，足以決定唐、宋國運的盛衰興替。其關係的密切簡直有如真正的動脈之於身體那樣。」他所說的「動脈」應是指下列何者？ (A)戰國的長城 (B)秦代的馳道 (C)漢代的絲路 (D)隋代的運河

21. 嬴政創建的朝代與司馬炎創建的朝代，在中國歷史發展上都同樣具有下列哪項特徵？

(A)大學分封宗室為王 (B)結束多國並立的局面 (C)建立平民稱帝的典範 (D)造成南北政權的對立

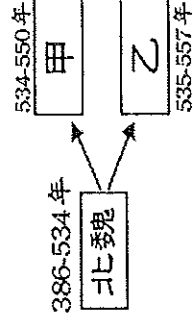
22. 歷史老師要求同學到圖書館翻閱「三玄」的相關資料，下列哪本書籍較沒幫助？



23. 「○○○」亡後，先後建立的宋、齊、梁、陳等政權，因繼續偏安南方，合稱為南朝。」上文中缺漏的部分應為何者？ (A)東晉 (B)孫吳 (C)曹魏 (D)西晉

24. 孟曄被社會科老師指派報告關於某地的資料簡介，其主題包含：「一、隋煬帝時出兵討伐，二、甲午戰爭的引爆地，三、有東亞橋梁之稱，四、金正恩、文在寅微笑握手互跨北緯 38 度線」。請問，孟曄所要報告的是以下哪個地區呢？ (A)中國大陸 (B)馬來半島 (C)朝鮮半島 (D)日本群島

25. 北魏因推行漢化政策，增進了胡漢的融合，卻也造成境內部分貴族的不滿而致使國家分裂，如右圖所示。圖中的甲和乙分別為下列何者？



(A)北齊、北周 (B)曹魏、北周 (C)南魏、北魏 (D)東魏、西魏

26. 「西晉立國以後，有鑑於曹魏宗室孤立無援，給予權臣可趁之機，因而採取某項政策，卻導致宗室相殘的慘劇」，上文中提及的政策應為下列何者？ (A)廢除丞相制度 (B)重文輕武 (C)廢封建 (D)分封宗室為王

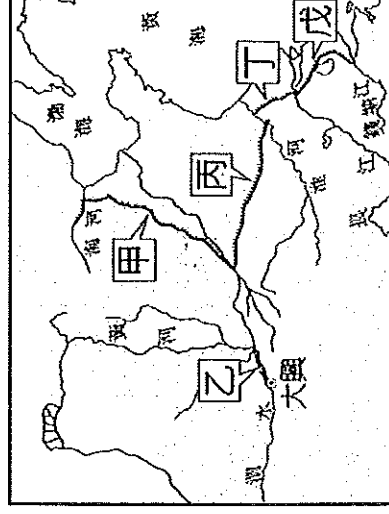
二、題組：每題3分，共30分

(一)請依照文章內容，回答第36~39題：

歷史老師在課堂上播放歌手林俊傑的著名歌曲，由於歌詞與歷史相關，因此更加深了學生對於三國時期的歷史印象。其歌詞如下：「不是英雄，不讀三國，若是英雄，怎麼能不懂寂寞，獨自走下長板坡，月光太溫柔，□□不囉唆 一心要拿荊州，用陰謀陽謀，明說暗毒的摸。○○末年分三國，烽火連天不休，兒女情長，被亂世左右，誰來煮酒。」請問：

36. 歌詞中提到的□□在某場戰役吃了敗仗，使競爭對手各據一方。請問，□□指的是何人？
(A)劉備 (B)曹操 (C)孫權 (D)諸葛亮
37. **承上題**，「□□在某場戰役吃了敗仗，使競爭對手各據一方」，請問，此戰役是為下列何者？
(A)黃巢之亂 (B)永嘉之禍 (C)安史之亂 (D)赤壁之戰
38. 歌詞中提到「○○末年分三國，烽火連天不休」，請問，○○指的是以下哪個朝代？
(A)西漢 (B)東漢 (C)西晉 (D)唐
39. 有關三國歷史的說法，下列何者正確？
(A)曹魏被蜀漢所滅 (B)蜀漢最晚亡國 (C)孫吳被西晉所滅 (D)曹魏定都於建業

(二)右圖是隋代運河圖。依圖中內容回答第40~41題：



40. 隋文帝首先開鑿運河，他開鑿的是圖中的哪條運河？
(A)甲 (B)乙 (C)丙 (D)丁
41. 隋代為遠征高麗而興建哪條運河作為補給線？
(A)永濟渠 (B)廣通渠 (C)通濟渠 (D)江南河

(三)請依照文章內容，回答第36~39題：

武崙電視台即將推出年度古裝大戲——大唐帝國，該劇男主角為大唐第二任皇帝，父親是唐高祖李淵。唐朝建立後，他被受封為秦王，之後晉封為秦王，是位優秀的軍事家，在唐朝建立與統一中國的過程中立下赫赫戰功。而即位為皇帝的他對唐朝在經濟、文化、軍事、政治發展等皆有很大的貢獻。請問：

42. 男主角所扮演的角色會經歷下列何事？ (A)安史之亂 (B)牛李黨爭 (C)黃巢之亂 (D)玄武門之變
43. 劇中有一幕是西北各族歸順唐朝後，向男主角奉上天可汗的尊號。這與當時平定哪支民族有關？
(A)匈奴 (B)鮮卑 (C)突厥 (D)高麗
44. 男主角扮演的角色在在位時期，國勢蒸蒸日上，締造了大唐盛世，史學家稱之為下列何者？
(A)開皇之治 (B)貞觀之治 (C)開元之治 (D)光武中興
45. 大唐帝國的國都位於下列何處？ (A)洛陽 (B)建康 (C)長安 (D)平城

試題結束，請再三檢查