

基隆市立武崙國中 107 學年度第一學期第二次段考八年級地理科試卷

(請用 2B 鉛筆依序在答案卡上作答)

班級：

座號：

姓名：

一、單選題 (每題兩分)

- ( ) 1. 2016 年中國的幼年人口性別比是 117，此項資料可以顯示下列哪項事實？  
(A) 男性幼年人口較多 (B) 女性幼年人口較多 (C) 男性平均壽命較長 (D) 女性平均壽命較長。
- ( ) 2. 中國最大的內流河為塔里木河，河水量受到下列哪項因素關係最密切？  
(A) 乾燥地區風力的強弱 (B) 氣溫的高低落差 (C) 高山融雪量多寡 (D) 雨季的長短。
- ( ) 3. 中國淡水湖與鹹水湖的分布，主要受下列哪項因素影響？ (A) 緯度高低 (B) 地勢高低 (C) 降水量多寡 (D) 產業發展。
- ( ) 4. 中國西部的人口主要分布在綠洲與河谷地帶，與下列哪項因素最為相關？  
(A) 地形較平坦 (B) 水源較充足 (C) 交通較便利 (D) 土壤較肥沃。
- ( ) 5. 每年 6、7 月，中國南部水災頻繁，主要與下列哪種降水類型關係最密切？  
(A) 梅雨 (B) 地形雨 (C) 颱風雨 (D) 對流雨。
- ( ) 6. 中國於 2015 年宣布結束「一胎化政策」不再限制只能生育一胎子女。此政策的轉變，有助於紓解的人口問題為何？  
(A) 人口分布不均 (B) 人口素質低 (C) 人口總數多，增長快 (D) 人口高齡化。
- ( ) 7. 中國冬季時南北溫差大，主要是受下列哪項因素影響？ (A) 緯度 (B) 地形 (C) 季風 (D) 距海遠近。
- ( ) 8. 「身體強壯、矯健，在大雪中能爬坡，在湍急的河流中可以游水渡河，在崎嶇的岩石、高峻的險坡上行走如同平地，牠們成了藏胞最佳的運輸和交通工具，這就是「高原之舟」。請問：上文所敘述的交通工具是指下列何者？

(A) 犛牛



(B) 路駝



(C) 馬



(D) 豬



( ) 9. 秦嶺—淮河是中國一條重要的地理分界線，下列分界線與它大致相符的有哪些？

- 甲、熱帶與副熱帶分界線；  
乙、一月均溫 0°C 等溫線；  
丙、年降水量 750 毫米等雨量線；  
丁、季風氣候與乾燥氣候分界線。  
(A) 甲乙 (B) 乙丙 (C) 丙丁 (D) 甲丁。

( ) 10. 中國的高地氣候，主要分布在哪兩種地形？ (A) 平原、丘陵 (B) 山地、盆地 (C) 平原、高原 (D) 高原、山地。

( ) 11. 中國實施計畫生育以來，每年仍然增加很多人人口，最根本的原因是：  
(A) 出生率高 (B) 死亡率率低 (C) 人口總數多 (D) 自然增加率高。

( ) 12. 福特汽車公司在中國的銷售量屢創新高，顯示中國對企業具有下列何種優勢？  
(A) 市場廣大 (B) 工資低廉 (C) 原料充足 (D) 技術進步。

( ) 13. 「中國有 94% 的人口聚居在總面積 43% 的土地上。」以上對中國人口的敘述，主要在說明下列哪個事實？  
(A) 人口結構老化 (B) 人口分布不均 (C) 人口數量龐大 (D) 性別比例失衡。

( ) 14. 中國西南地區雲南、貴州一帶有高達二十多個少數民族，成為中國少數民族分布較複雜的地區，這種現象與下列何者有關？ (A) 地形崎嶇 (B) 鄰國複雜 (C) 戰爭頻繁 (D) 氣候濕熱。

( ) 15. 中國的夏季普遍高溫，唯獨西南一帶低於 20°C 以下。請問：這可能是什麼因素所造成？ (A) 地勢較高 (B) 距海較遠 (C) 大陸冷高壓中心 (D) 高山阻擋季風帶來暖溼的氣流。

( ) 16. 中國為數眾多的淡水湖，對人類經濟的開發有重要的幫助，下列何者不是淡水湖的主要功能？ (A) 觀光旅遊 (B) 漁業養殖 (C) 農業灌溉 (D) 生產湖鹽。

( ) 17. 北京市冬季時風沙大，造成當地居民的困擾。該地區的冬季季風風向為下列何者？ (A) ↘ (B) ↙ (C) ↗ (D) ↖。

- ( ) 18. 中國若要提高整體人口素質，其根本方法為何？(A)改善環境品質 (B)提高教育水準 (C)宣導晚婚晚育 (D)規劃老人安養福利。

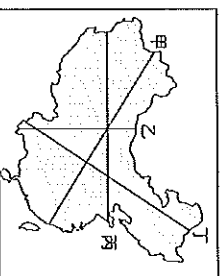
- ( ) 19. 西藏地區的僧侶服飾，夏季午間常將外袍的袖子繫在腰間，袒出右臂或雙臂，如圖所示。請問：從這種穿著方式，可以反映出當地夏季具有下列哪一項氣候特色？(A)雨量稀少 (B)日溫差大 (C)風力強勁 (D)空氣稀薄。



- ( ) 20. 「季風」是一種獨特的氣候現象，造成風向隨著季節改變的主要原因為何？  
(A)地球繞太陽運行 (B)曲折多彎的海岸  
(C)海陸吸、散熱的速度不一致 (D)冬季太陽照射角度不一。

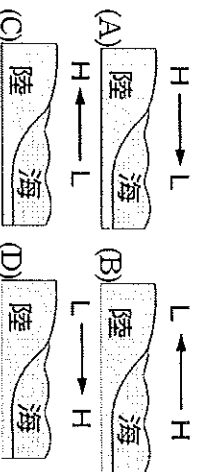
- ( ) 21. 中國某個地區居民的飲食習慣，三餐都離不開奶與肉。以奶類為原料的食品，當地人稱為白食，以肉類為原料的食品，則稱為紅食。根據飲食習慣，請問上述居民位於中國哪個地區？  
(A)東北平原 (B)雲貴高原 (C)蒙古高原  
(D)黃土高原。

- ( ) 22. 在中國地圖上，黑河騰衝的連線是研究中國人口分布時，最常被引用的分布界線，請問這條連線大致符合圖中哪一條連線？  
(A)甲 (B)乙 (C)丙 (D)丁。



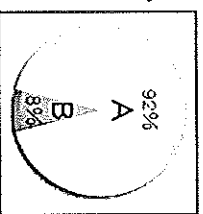
- ( ) 23. 「此地區因地處邊疆，鄰國眾多，使族群多元且複雜。」以上敘述最可能是哪個地形區的民族特色？(A)柴達木盆地 (B)準噶爾盆地 (C)內蒙古高原 (D)青藏高原。

- ( ) 24. 亞洲在瀕臨印度洋和太平洋的地區，是地表季風氣候最發達的地區，下列哪張是夏季季風成因的示意圖？



- ( ) 25. 中國熱帶季風氣候與副熱帶季風氣候的界線為何？(A)赤道 (B)長城 (C)北回歸線 (D)秦嶺、淮河。

- ( ) 26. 下圖為中國民族比例圖。圖中的「A」指的應為哪個民族？  
(A)漢族 (B)蒙古族  
(C)壯族 (D)回族。

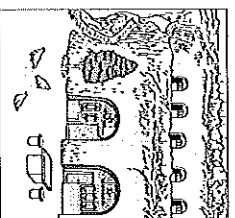


- ( ) 27. 中國年降水量分佈不均，大致由東南向內陸遞減，造成此差異的原因與下列何者關係最大？(A)緯度 (B)地形 (C)季節 (D)距海遠近。

- ( ) 28. 中國是由 55 個民族組成的多元民族國家，其中少數民族人口數最多的是下列哪一個民族？  
(A)滿族 (B)藏族 (C)回族 (D)壯族。

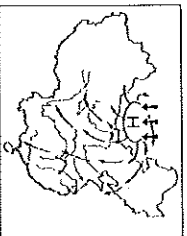
- ( ) 29. 中國氣候由東南沿海向西北內陸前進，多項氣候資料的數值會呈現遞減的現象，但下列哪項數值卻是增加的？  
(A)年降水量 (B)年均溫 (C)年溫差 (D)一月均溫。

- ( ) 30. 凡均在暑假回到中國的外婆家探親，發現當地的住屋景觀如右圖，請問他在外婆家生活最可能有下列哪一種體驗？  
(A)在騎樓下躲避大雷雨  
(B)搭船運遊歷各風景區  
(C)到水稻田幫忙插秧  
(D)協助外婆收割小麥田



- ( ) 31. 中國某一地區具備右表內打「V」的兩項條件，請問此地的氣候屬於何種類型？  
(A)溫帶草原氣候 (B)熱帶季風氣候  
(C)溫帶沙漠氣候 (D)溫帶季風氣候。

區分	標準		
	最冷月均溫	>18°C	
氣溫	最冷月均溫	0°C~18°C	
	最冷月均溫	<0°C	V
年降水量	>500 毫米		
	250~500 毫米		V
高度	<250 毫米		
	高山峻嶺地區		



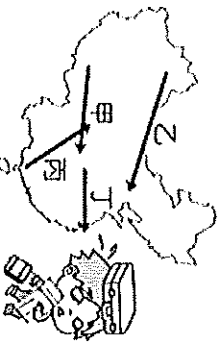
- ( ) 32. 右圖顯示該季節的盛行風來自於中國北方，圖中的高壓中心，位於下列哪個鄰國之中？  
 (A) 北韓 (B) 印度  
 (C) 蒙古 (D) 哈薩克。
- ( ) 33. 目前中國人口數近 14 億人，約占世界人口數的五分之一，請問：中國人口眾多的好處為何？(A) 人口素質提升 (B) 勞動力充足 (C) 教育機會均等 (D) 糧食消耗增加。

二、題組題 (每題兩分)

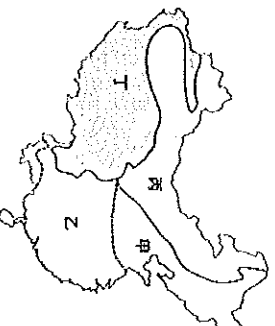
- 下列為黃明志與王力宏合作的飄向北方的歌詞，請問：

飄向北方 別問我家鄉  
 高聳古老的城牆 擋不住憂傷  
 我飄向北方 家人是否無恙  
 肩下沉重的行囊 盛滿了惆悵  
 有人說他在老家欠了一堆錢 需要避避風頭  
 有人說他練就了一身武藝卻沒機會施展  
 有人失去了自我 手足無措四處漂流  
 有人為了夢想為了三餐為養家餬口  
 他住在燕郊區 殘破的求職公寓  
 擁擠的大樓裡 堆滿陌生人都來自外地  
 ……

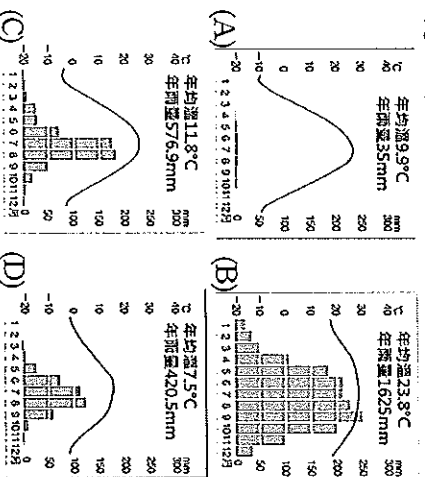
- ( ) 34. 從歌詞中得知，中國流動人口問題相當嚴重。請問：下列何者「並非」大量人口從鄉村移動到都市的拉力？(A) 沿海經濟改革開放 (B) 政府推出「居住證制度」(C) 都市就業機會多 (D) 鄉村收入增加。
- ( ) 35. 中國每年春節返鄉人潮眾多，號稱是世界上最規模的人口移動，廣州、上海等沿海大都市，大量來自內地的民工，搭乘火車、汽車返鄉過年，使當地的返鄉人潮陷入一片混亂。請問：中國春節的返鄉人潮主要移動路線應為下圖中何者？  
 (A) 甲 (B) 乙 (C) 丙 (D) 丁。



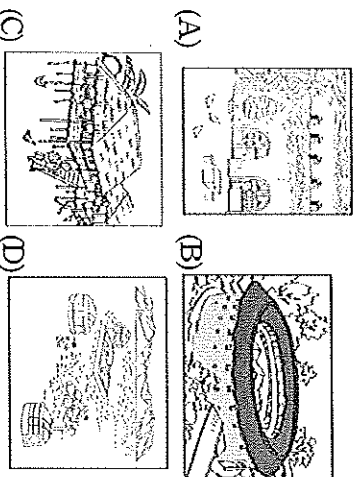
■ 中國的疆域面積廣大，因此境內各地區的自然環境複雜，更因為自然環境條件的差異形成多元的區域特色與人文現象。附圖為中國氣候分區圖。請問：



- ( ) 36. 哪個氣候區溫暖多雨，適合水稻生長，居民以米為主食？  
 (A) 甲 (B) 乙 (C) 丙 (D) 丁。
- ( ) 37. 請問甲、乙兩個氣候區，分類的依據為何？(A) 年降水量 500 毫米 (B) 最暖月均溫 20°C (C) 年降水量 250 毫米 (D) 最冷月均溫 0°C。
- ( ) 38. 下列選項中哪一個氣候圖為「甲」區的氣候圖？



- ( ) 39. 建築的地方風格，因地理環境和生活習慣影響，在形式上有很大差異，訴說著當地的傳統文化，生於斯長於斯，「家」對周遭環境濃濃的感情，是居民的印象與記憶。請問：「丙」區的居民大多居住在哪一種建築中？



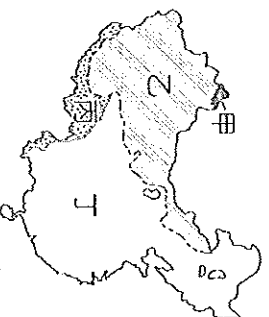
- 中國知名節目『爸爸去哪兒第一季』，由五位明星父親與自己的子女一起過夜旅行。以下為節目中製作單位所選取的三個錄製地點。請問：



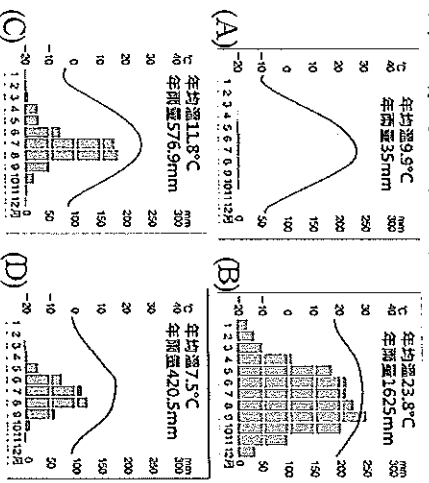
站點	地點介紹
第一站	來到清朝時期的龍脈所在，參觀盛京故宮後進行堆雪人比賽，獲勝組可以獲得食材與高級住所
第二站	騎馬在一望無盡的草原上縱橫，分組搭野營帳篷後生火烤肉，充分感受大漠兒女的豪情
第三站	在寧夏回族自治區境內騰格里沙漠體驗騎駱駝，在沙丘玩滑沙遊戲並欣賞當地的民族舞蹈

- ( ) 40. 在活動剛開始時，孩子們常因為不習慣與他人分享，常發生小衝突。在中國常有因平時受到父母細心照顧，卻因此恃寵而驕的兒童，被戲稱為「小皇帝」，這種小皇帝的出現，是主要因為中國施行哪項政策所帶來的問題？  
 (A) 計畫生育 (B) 民族融合 (C) 共產制度 (D) 義務教育
- ( ) 41. 請問行程中哪一天成員會因為當地宗教因素而吃不到豬肉？  
 (A) 第一站 (B) 第二站 (C) 第三站
- ( ) 42. 曾建立中國最後一個帝國「清朝」的少數民族為下列何者？(A) 壯族 (B) 苗族 (C) 藏族 (D) 滿族
- ( ) 43. 來到第二站時，剛好遇到當地少數民族的「那達慕」大會，成員們也分組進行競賽，請問他們是參加了哪個民族的盛會呢？(A) 蒙古族 (B) 維吾爾族 (C) 漢族 (D) 哈薩克族
- ( ) 44. 在第三站的騰格里沙漠中，他們體驗騎乘雙峰駱駝的活動。雙峰駱駝每年可以長出7公斤的毛，請問：雙峰駱駝長毛的特色是為了適應沙漠氣候的哪種特徵呢？(A) 年降水量少 (B) 年日溫差大 (C) 植被稀少 (D) 空氣稀薄

- 中國的水文依其特性而分成四個不同的區域，下圖為中國水文分區圖。請問：



- ( ) 45. 內流河分布區域和下列哪一個氣候區的分佈範圍最為相近？(A) 季風氣候 (B) 乾燥氣候 (C) 高地氣候
- ( ) 46. 流經甲區域的河川最可能為下列何者？  
 (A) 黑龍江 (B) 黃河 (C) 額爾濟斯河 (D) 塔里木河
- ( ) 47. 飄飄想要考察中國境內最大的鹹水湖，她應該前往圖中哪區的哪一個湖泊進行研究？(A) 甲區-洞庭湖 (B) 乙區-青海湖 (C) 丙區-鄱陽湖 (D) 丁區-納木錯湖
- ( ) 48. 太平洋外流區為中國三大外流區中最主要的外流區域。此分布現象和下列哪一項因素的關係最大？(A) 地勢起伏 (B) 季風風向 (C) 緯度高低 (D) 氣溫變化
- ( ) 49. 雅魯藏布江為西藏地區重要河川，該條河川的水氣主要來自下列何者？  
 (A) 北極海北風 (B) 太平洋東南季風 (C) 印度洋西南季風 (D) 印度洋東南季風
- ( ) 50. 承上題，下列為中國某四個地方的氣候圖，請問：何者為西藏地區的氣候圖？



『試題到此結束，請再次檢查！』