

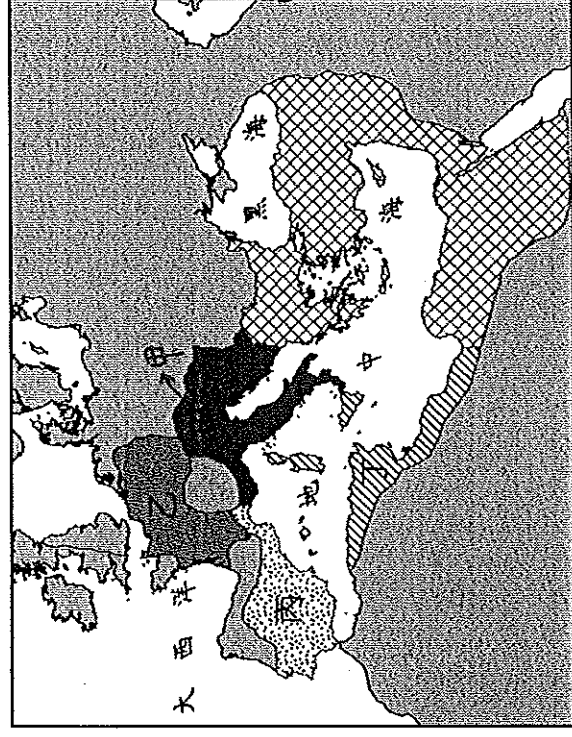
基隆市立武崙國中 107 學年度第一學期第二次段考九年級社會試卷歷史科

範圍：第五冊 L.3~L.4

班級：_____ 座號：_____ 姓名：_____

一、單選題：(每題2分，共80分)

1. () 中西歷史時常交互影響。中國在東漢時打败匈奴人，匈奴西逃，壓縮到日耳曼民族的生存空間，迫使其遷徙，導致哪一帝國的滅亡？(A)波斯帝國 (B)亞歷山大帝國 (C)西羅馬帝國 (D)阿拉伯帝國。
2. () 中世紀時代，日耳曼民族建立了許多國家，其中在今北非一帶的是哪一國家？
(A)盎格魯撒克遜王國 (B)汪達爾王國 (C)東哥德王國 (D)法蘭克王國。
3. () 日耳曼人南遷後，在建立的許多國家中，以繼承西羅馬帝國自居，積極推廣基督教、使用拉丁文，實力最強、成就最大的是位於附圖中哪一區？



(A)甲 (B)乙 (C)丙 (D)丁。

4. () 有一位著名作家，經常徵引古希臘、羅馬的論述，來反思、探索人的問題，強調每個人都可以創造自己的命運。這位作家代表哪一種思潮的精神？(A)文藝復興 (B)專制王權 (C)宗教改革 (D)工業革命。
5. () 文藝復興運動在哪些方面是最顯著的成就？(甲)文學(乙)藝術(丙)科學(丁)政治思想
(A)甲乙丙 (B)乙丙丁 (C)甲乙丁 (D)甲丙丁。
6. () 整理歷史人物的特色，下列哪些人物的成就配對錯誤？(甲)但丁——經濟學家(乙)馬基維利——教育家(丙)穆罕默德——科學家(丁)達文西——藝術家(A)甲乙丙 (B)甲乙丁 (C)甲丙丁 (D)乙丙丁。
7. () 在中世紀後期，歐洲最重要的社會變化為何？(A)封建制度盛行 (B)市民階級的興起 (C)莊園經濟發達 (D)工業革命的興起。
8. () 中世紀時期，日耳曼人紛紛南遷並建立國家，下列關於其配對何者正確？
(A)北非→東哥德王國(B)義大利半島→西哥德王國(C)法國北部→法蘭克王國(D)伊比利半島→汪達爾王國。
9. () 西周與中世紀西歐均曾實施過封建制度，兩者的主要差別在於下列哪一方面？(A)西周封建制度是周王室親族力量的向外擴張；中世紀歐洲的封建則主要建立在領主與附庸的契約關係上 (B)西周的封建包含有好幾層的貴族，逐層往下分封；中世紀歐洲的封建有領主與附庸兩層關係，領主是貴族，附庸是平民 (C)西周封建制度的農民耕種貴族土地；中世紀歐洲封建制度下的農民則以自耕農為主 (D)西周在封建制度下，農業發展出三田制；中世紀歐洲在封建制度下，農業發展出井田制。
10. () 盛行於現今世界各地的宗教如下：(甲)基督教(乙)伊斯蘭教(丙)猶太教(丁)佛教。有何共同的特色？(A)均起源於亞洲 (B)均屬一神信仰 (C)均有死而復活的觀念 (D)均有輪迴的觀念。

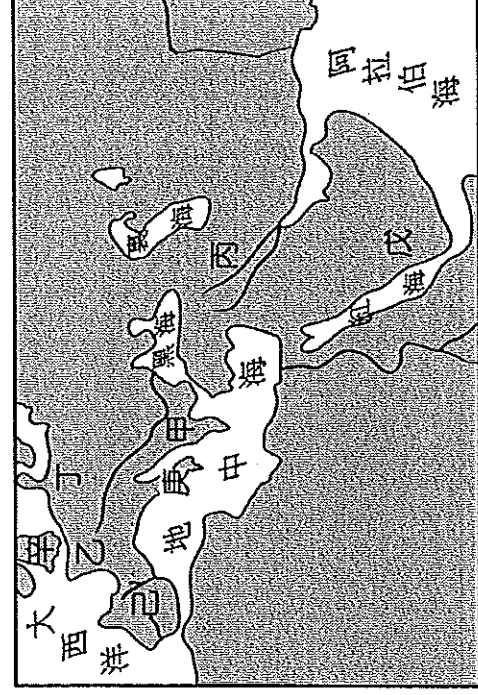
11. () 11世紀後，土耳其人勢力崛起，在發展過程中，曾「先後」引發哪些事件，影響後來的歐洲歷史？(A)封建制度崩解、民族國家的興起 (B)壟斷東西貿易、拜占庭帝國滅亡 (C)查理曼帝國分裂、神聖羅馬帝國建立 (D)日耳曼民族大遷徙、西羅馬帝國滅亡。
12. () 中世紀西歐莊園中的農民過著：(甲)除了耕種土地以外，還要服勞役(乙)農民可以自由離開莊園(丙)當時農業發展出「三田制」(丁)須為領主出征的義務。以上符合有那些？(A)甲乙 (B)甲丙 (C)甲丁 (D)丙丁。
13. () 中世紀後期，商業逐漸復甦，城市陸續出現，下列哪些城市興起於中世紀後期？(甲)威尼斯(乙)羅馬(丙)巴黎(丁)佛羅倫斯。(A)甲乙 (B)乙丙 (C)丙丁 (D)甲丁。
14. () 英法百年戰爭是世界上最長的戰爭之一，這場戰爭帶來的重要結果為何？(A)促成宗教戰爭後的宗教寬容 (B)英國失敗後取得與西班牙的聯盟，仍得以在歐陸發揮影響 (C)英、法發展成王權專制的民族國家(D)法國勝利後奠定民主政治的基礎
15. () 西班牙位處歐洲與非洲的交界，自古以來就一直受外來勢力的控制，一直到15世紀才統一成為一個國家。下列何事奠定了西班牙統一的基礎？(A)將英法兩國勢力逐出伊比利半島 (B)英法百年戰爭的結束 (C)哥倫布發現新大陸 () 卡斯提爾與亞拉岡兩國的聯姻
16. () 歐洲文藝復興時期，下列敘述何者與此時期無關？(A)義大利商人對古典文化的熱愛 (B)中國造紙術和印刷術的傳入 (C)蘇格拉底與柏拉圖是此時有名的哲學家 (D)可以看到米開朗基羅的《大衛像》和達文西的《蒙娜麗莎》畫像。
17. () 歸納文藝復興時期的史事，下列何者不正確？(A)時間：14~16世紀 (B)首先發生地點：義大利 (C)意義：是古典文化及創造力的復興 (D)傳播：東傳到亞洲各地。
18. () (甲)鄭和(乙)狄亞士(丙)哥倫布(丁)麥哲倫(戊)達伽馬。請依照這些探險家向外航行的時間，照時間先後順序排列？(A)甲乙丙丁戊 (B)甲乙丙戊丁 (C)丙甲乙戊丁 (D)戊丁丙乙甲。
19. () 有關中世紀時期西歐封建社會的情形，下列何者敘述錯誤？(A)信仰基督教的世界 (B)地方上的權力在於地方的貴族 (C)過著工商業發達的城市生活 (D)騎士是封建社會的一大特色。
20. () 下列有關中世紀時期西歐日耳曼人生活地區的敘述，哪些是正確的？(甲)基督教信仰是他們的生活重心(乙)西歐的農民在莊園制度下，必須辛苦耕種，繳納穀物(丙)在政教合一，國王可掌管宗教事務(丁)到教會附設的學校學習希臘文。(A)甲乙 (B)乙丙 (C)丙丁 (D)甲丁。
21. () 把「希臘、西亞、埃及」等文明融為一體的帝國和「希臘、羅馬、基督教文化」成為一體的帝國，各是下列何者？(A)巴比倫帝國、亞述帝國(B)亞述帝國、加爾底亞帝國(C)羅馬帝國、波斯帝國(D)亞歷山大帝國、拜占庭帝國。
22. () 比較中世紀西歐及拜占庭帝國的社會變遷，下列敘述何者正確？(A)兩者皆盛行封建制度 (B)自給自足的莊園是兩者共有的特色 (C)宗教方面，兩者皆受羅馬教廷的管轄 (D)拜占庭帝國的社會秩序遠較西歐各國安定。
23. () 小陸撰寫有關地理大發現的報告，蒐集的資料內容如下：(甲)抵達美洲(乙)首先繞航地球一周(丙)首先開始尋找新航線(丁)發現好望角。請問：下列哪些是西班牙海外拓殖的內容？(A)丙丁 (B)甲丁 (C)甲乙 (D)甲丙。
24. () 小如和幾位同學正在討論有關伊斯蘭教的相關議題，下列何者的說明正確？(A)伊斯蘭教的經典為《古蘭經》 (B)穆斯林的原意為「歸順穆罕默德的人」 (C)伊斯蘭的原意是「誦讀」 (D)伊斯蘭教以耶和華為唯一真神。
25. () 中世紀時，伊斯蘭政權積極向外擴張，歐洲「先後」有那些地區落入伊斯蘭世界的領域內？(A)東歐、不列顛地區 (B)伊比利半島、巴爾幹半島 (C)義大利半島、東歐(D)巴爾幹半島、義大利半島。

26. ()耶路撒冷是著名的宗教聖地，下列哪些宗教皆視它為聖地？(甲)基督教(乙)祆教(丙)伊斯蘭教(丁)猶太教。(A)甲乙丙 (B)乙丙丁 (C)甲丙丁 (D)甲乙丁。
27. ()15世紀歐洲人遠航的動機有哪些？(甲)對亞洲香料、絲綢等貨物的需要(乙)貿易路線被鄂圖曼土耳其人所掌控(丙)藉機傳播伊斯蘭教。(A)甲乙 (B)乙丙 (C)甲丙 (D)甲乙丙
28. ()下列哪一項不是馬丁路德的思想或主張？(A)譴責教會出售贖罪券 (B)提出預選說，力倡勤儉 (C)強調藉由閱讀《聖經》，就可直接與上帝溝通 (D)否定教宗的權威。
29. ()基督教發展如附表，其中何者錯誤？

比較項目	基督教的發展
(甲)創立時地	1世紀——巴勒斯坦
(乙)正式合法傳教	3世紀——查理曼帝國定為國教
(丙)第一次分裂	11世紀——羅馬公教與希臘正教
(丁)第二次分裂	16世紀——舊教與新教

(A)甲 (B)乙 (C)丙 (D)丁。

30. ()如果想了解伊斯蘭教文化在歐洲所留下的遺蹟，可以前往附圖中的哪些地區？



(A)乙丙 (B)戊辛 (C)丁庚 (D)甲己。

31. ()市民階級因其社會地位處在上層貴族和下層農奴之間，而又稱為「中產階級」。這個階級最主要包括哪些身分的民眾？(A)擁有土地的自耕農(B)行俠仗義的騎士(C)商人和有錢的工匠(D)教會神職人員。
32. ()如果想看「辛巴達航海記」、「阿里巴巴與四十大盜」或「神燈」等故事，了解巴格達地區的古代民情風俗，可以參閱下列哪一本書？(A)《歷史》(B)《伊里亞德》(C)《天方夜譚》(D)《西遊記》。
33. ()文藝復興運動促成近代歐洲文化的形成，開啓了歐洲歷史的新紀元。此運動的主要內涵是什麼？(A)提倡科學方法，建立科學宇宙觀(B)闡明教義，重新領會基督教精神(C)以人為本，肯定人生現世的價值(D)應用科學精神，以解決社會問題。
34. ()下列哪些人是文藝復興時期的文學家？(甲)馬基維利(乙)薄伽丘(丙)蘇格拉底(丁)荷馬(戊)莎士比亞。(A)甲丙(乙)戊(C)丙丁(D)甲丁。
35. ()西方槍炮的發明與中國火藥的傳入有關。請問：中國火藥最早在何時西傳？(A)十字軍東征(B)蒙古西征 (C)鄭和下西洋(D)地理大發現。
36. ()聖索菲亞大教堂現今是座博物館，此建築為哪兩個政權的統治作見證？(A)羅馬帝國、阿拉伯帝國(B)西羅馬帝國、東羅馬帝國(C)拜占庭帝國、鄂圖曼土耳其帝國(D)神聖羅馬帝國、鄂圖曼土耳其帝國。
37. ()西元6世紀時，某一法典保留了羅馬的法律觀念，成為今日西歐各國法學之重要淵源。請問：上文所述的法典為何？(A)《漢摩拉比法典》(B)《十二銅表法》(C)《查士丁尼法典》(D)《易經》。
38. ()促使歐洲發生宗教改革最主要的原因為何？(A)教宗欲革除教會的陋規 (B)大眾對教會的腐敗感到不滿 (C)政治領袖藉機打擊教會 (D)伊斯蘭教勢力的擴張。

39. () 呈第38題，宗教改革最後產生了下列何種結果？
 (A) 基督教成為歐洲世界唯一的正統 (B) 各國政府紛紛制訂嚴苛的宗教法，並確立國教 (C) 發生了多次的宗教戰爭 (D) 宗教改革阻礙了教育的發展。
40. () 「長老教會」應是屬於下列哪一個宗教教派的一支？(A) 喀爾文教派 (B) 路德教派 (C) 英格蘭國教派 (D) 耶穌會

二、題組：(每題2分，共20分)

- 隨著歐洲城市的復甦和人文主義的發展，傳統基督教信仰的內涵和羅馬教會的威望，愈來愈不能滿足社會大眾的需求，終於發生了宗教改革運動。請問：
41. () 基督教第一次分裂成哪兩大教派？
 (A) 伊斯蘭教、道教 (B) 佛教、伊斯蘭教 (C) 羅馬公教、希臘正教 (D) 路德教派、喀爾文教派。
42. () 基督教第二次再分裂於哪一世紀？
 (A) 14世紀 (B) 15世紀 (C) 16世紀 (D) 17世紀。
43. () 面對新教的攻擊，舊教也開始改革，因而創立了耶穌會，替舊教爭取到不少信徒。請問：創立者是誰？
 (A) 馬丁路德 (B) 喀爾文 (C) 亨利八世 (D) 羅耀拉。
44. () 宗教改革繼續展開，不同教派也相互迫害，但在多次衝突後，對於各國產生哪種影響？(A) 引起更多次的宗教戰爭 (B) 英法百年戰爭 (C) 逐漸制定宗教寬容的法律，宗教信仰走向自由 (D) 地理大發現。

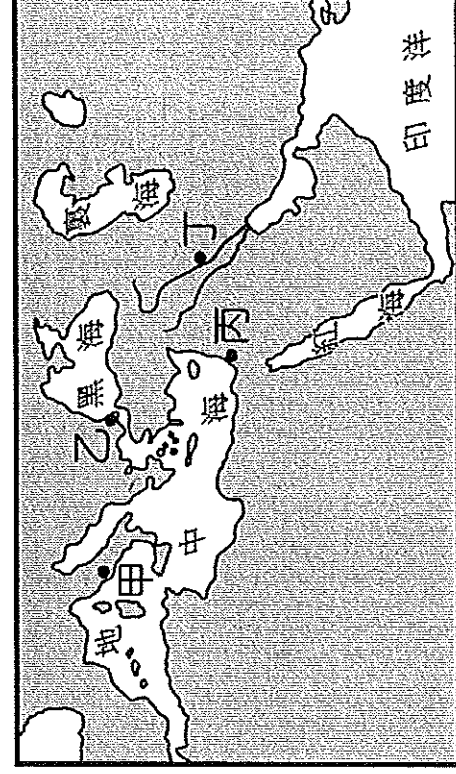
- 下列為16世紀宗教改革中兩位重要人物的主張。請問：

甲說：「曾經有人說教宗、主教與教士是屬於靈界的，君主、工匠、農民都屬於俗世的，其實這是謊言與偽善的虛構。」
 「由於對《聖經》的領會和承認只能靠信仰，無法靠任何工作，那麼靈魂的獲得釋罪只需要《聖經》。」

乙說：「所有人的命運並不一樣，但上帝事前決定有些人得永生，另一些人將會得到懲罰；上帝的意志是最高的判斷準則，必然是被認為最公正的。」

45. () 甲與乙分別是代表宗教改革中的哪兩位重要人物？
 (A) 甲：喀爾文，乙：羅耀拉 (B) 甲：馬丁路德，乙：馬基維利 (C) 甲：亨利八世，乙：喀爾文 (D) 甲：馬丁路德，乙：喀爾文。
46. () 由甲的主張可推測，下列哪一敘述最能表達甲在宗教發展史上的貢獻？
 (A) 首度提出上帝預先決定信徒是否得救的主張 (B) 首度公開批評羅馬公教教會的腐敗 (C) 首度公開支持國王也可掌管宗教事務 (D) 首度確立羅馬公教與希臘正教正式分裂。
- 約翰是神聖羅馬帝國的一位騎士，他自幼接受騎馬和戰鬥訓練，是當時帝國作戰的主力。請問：
47. () 約翰平日處理莊園內的事務，此外他也是位虔誠的宗教信徒。請問：他所信仰的宗教是何者？
 (A) 希臘正教 (B) 羅馬公教 (C) 佛教 (D) 伊斯蘭教。

48. () 某一天，約翰響應號召，準備跟隨其他的騎士，到東方攻打異教徒，收復「聖地」。請問：這個「聖地」指的是下圖何地？



(A)甲 (B)乙 (C)丙 (D)丁。

49. () 約翰所參與的這項軍事行動，最後以失敗告終，但卻意外的促成下列哪一情形？

(A)中國印刷術的西傳 (B)拜占庭帝國的滅亡 (C)東西文化的交流 (D)阿拉伯帝國的衰落。

50. () 約翰所參與的這項軍事行動，其最初發起人為何？

(A)東羅馬帝國皇帝 (B)羅馬教宗 (C)查理曼大帝 (D)神聖羅馬帝國皇帝。