

題型：單選共 50 題，請用 2B 鉛筆依題號在電腦卡上作答，電腦讀卡時無法判斷身分者，扣總分 10 分。

範圍：第五冊 L.2 南歐~第五冊 L.4 東歐 (P.23~P.45)

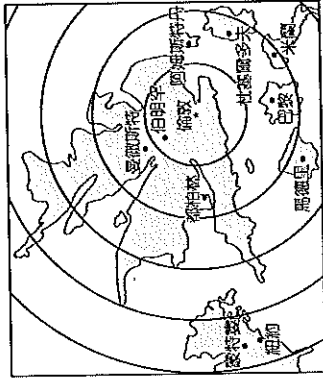
班級：_____ 座號：_____ 姓名：_____

一、單選擇題：(總共 100 分)

- () 歐洲各國的工業發展均相當進步，目前歐洲國家內，哪一個國家的經濟產值最高？ (A) 法國 (B) 德國 (C) 義大利 (D) 英國。
- () 第二次世界大戰結束後，形成反共、共產兩大陣營的對抗，當時共產成員國在歐洲成立華沙公約組織，與反共的北大西洋公約組織對抗。請問：當時有關「華沙公約組織」成員國的社會與經濟特色，下列何者正確？ (A) 國民所得較高 (B) 經濟成長快速 (C) 實施計畫經濟 (D) 產業發展均衡。
- () 進入 21 世紀後，人口結構對於各國的發展影響漸大，因此受到全球重視。請問：北歐各國類以為傲的社會福利政策目前備受考驗，是受到哪一人口問題的影響？ (A) 幼兒出生率居高不下 (B) 社會增加率大幅上升 (C) 人口性別比不平均 (D) 人口組成漸趨高齡化。
- () 下列為某投資公司的廣告，請根據文中資料判斷，這應位於哪一個地區？

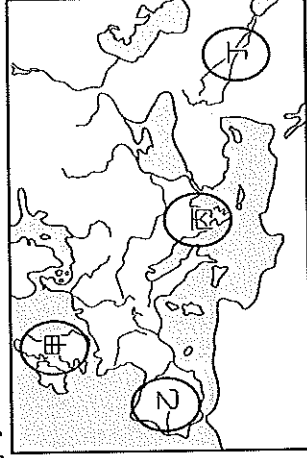
20 世紀後期隨著對外的那扇門開啟後，沉睡中的獅子醒了。優質的人力和較為低廉的工資成為吸引西方企業的優勢，文化相似的優勢更有助於該地區快速融入歐盟經濟體，成為 21 世紀最受矚目的投資天堂。

- () 中國 (B) 東歐 (C) 印度 (D) 西歐。
- () 老虎旅行社在行程出發前告知團員，此時威尼斯正值雨季，由於當地地勢低窪，相當容易積水，所以提醒團員須做好準備。請問：該旅行團出發的日期最可能為下列何者？ (A) 5 月 8 日 (B) 7 月 19 日 (C) 8 月 30 日 (D) 12 月 6 日
- () 附圖是利用平均旅行時間作為比例尺，而以英國倫敦為中心所繪製的地圖。請問：若依圖中位置判斷，倫敦至蒙特婁的交通必須經過下列哪一個海洋？



- (A) 大西洋 (B) 太平洋 (C) 印度洋 (D) 北海。

- () 近年來，北歐的企業、高收入者遷移至國外情況日漸嚴重，這和何種制度的實施關係最為密切？ (A) 共產主義 (B) 資本主義 (C) 自由經濟 (D) 社會福利。
- () 諾貝爾獎每年均會在斯德哥爾摩進行頒發典禮，2012 年榮獲諾貝爾文學獎的中國大陸作家莫言曾前往領獎，必須先申請哪一個國家的簽證？ (A) 瑞典 (B) 挪威 (C) 丹麥 (D) 冰島。
- () 臺灣的造船工業相當發達，若相關工程人員欲前往歐洲重要的造船國家進行技術交流，則前往下列何者最為適合？ (A) 瑞典 (B) 丹麥 (C) 挪威 (D) 芬蘭。
- () 十八世紀末以來，工業革命逐漸向外傳布，影響遍及全世界。當時最早是以附圖何處為中心向外傳播？

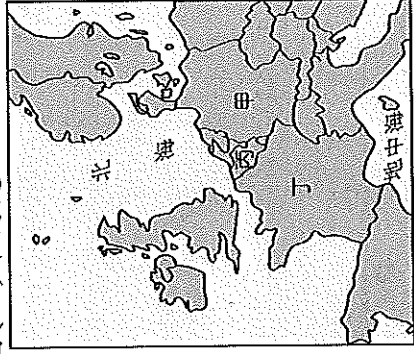



- (A) 甲 (B) 乙 (C) 丙 (D) 丁。
- () 法國的葡萄酒相當著名，成為當地的文化特色，果酒莊更成為觀光景點。請問：下列有關該國葡萄酒的相關敘述，何者最為正確？ (A) 生長於溫帶大陸性氣候區 (B) 以大規模機械化方式經營 (C) 以物美價廉的方式行銷全球 (D) 為附加價值高的精緻農業。
- () 北歐的冰河地形相當發達，影響當地的發展。造成北歐冬季氣候嚴寒的主要原因中，不包括下列何者？ (A) 地處高緯 (B) 高山分布 (C) 寒流經過 (D) 太陽斜射。
- () 英國為工業革命的先驅，初期是從紡織工業的改良開始，但由於英國當地氣候不利於棉花的種植，因此由美國南部的殖民地進口棉花來加工製造。請問：當時棉花的運送會經過哪一海域？ (A) 太平洋 (B) 大西洋 (C) 印度洋 (D) 地中海。
- () 歐、亞、非三洲接觸地帶的戰略位置相當重要，也促成了文化交流。請問：最靠近此接觸帶的歐洲地形區為下列何者？ (A) 歐洲大平原 (B) 阿爾卑斯山 (C) 巴爾幹半島 (D) 伊比利半島。

15. ()法國和德國皆為歐洲工業大國，其發展和境內自然資源的豐富關係甚大。附表有關這兩國自然資源的分布狀況，何者正確？

| | 甲 | 乙 | 丙 | 丁 |
|----|----|----|----|-----|
| 德國 | 石油 | 水力 | 煤礦 | 風力 |
| 法國 | 鐵礦 | 煤礦 | 鐵礦 | 太陽能 |

- (A)甲 (B)乙 (C)丙 (D)丁。
16. ()西班牙位於地中海地區，和南方的非洲隔著下列哪一個海峽相望？ (A)麻六甲海峽 (B)英吉利海峽 (C)松德海峽 (D)直布羅陀海峽。
17. ()東歐最南端的巴爾幹半島，為相當重要的地理區。請問：下列有關該地區的敘述，何者錯誤？ (A)濱臨地中海 (B)石灰岩地形 (C)歐洲火藥庫 (D)社會福利佳。
18. ()電影《格但斯克大罷工》主要敘述波蘭格但斯克的○○工人面臨剝削壓榨時，組成工會來爭取權益的故事。故事中背景的城市為歐洲最重要的○○基地之一，請問：該都市以何種工業為主？ (A)鋼鐵業 (B)造船業 (C)家具業 (D)造紙業。
19. ()北歐受到地形因素的影響而不利農業活動。下列有關該地區地形特色的敘述，何者正確？ (A)平原為主、冰河地形 (B)高原分布、火山地形 (C)山丘遍布、石灰岩層 (D)高山分布、冰河地形。
20. ()圖(一)為西歐某國的風車景觀。早期利用風車葉片轉動可以用來排水，以便進行酪農業的開發。請問：這個國家應位於圖(二)中何處？



▲圖(一)

▲圖(二)


- (A)甲 (B)乙 (C)丙 (D)丁。
21. ()附圖為哥本哈根的美人魚銅像，當地也是知名作家安徒生的故鄉。請問：這個國家為何？



- (A)英國 (B)德國 (C)丹麥 (D)芬蘭。
22. ()「2016年3月22日歐盟總部遭到恐怖攻擊，造成多人死傷。」上述新聞發生的城市及國家為何？ (A)比利時—布魯塞爾 (B)德國—柏林 (C)西班牙—馬德里 (D)丹麥—哥本哈根。

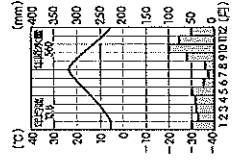
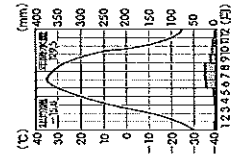
23. ()東歐的地形較西歐複雜許多，北部是自西歐延伸過來的歐洲大平原，南部則為山地與平原交錯，破碎的地形也影響到人文的發展。東歐地形以下列哪座山脈區分為南、北兩大部分？ (A)阿爾卑斯山 (B)喀爾巴阡山 (C)斯堪地那維亞山 (D)庇里牛斯山。

24. ()附圖為法國知名的博物館，每年都吸引許多來自世界各地的旅客前往參觀。請問：該博物館位於哪一個都市？



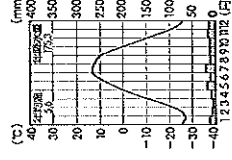
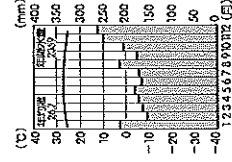
- (A)尼斯 (B)里昂 (C)波爾多 (D)巴黎。
25. ()荷蘭和臺灣一樣同為面積狹小的國家，缺乏天然資源，大部分皆依賴進口，所以國際貿易發達。請問：荷蘭發展國際貿易，可藉由流經境內的哪一條河川運往西歐各國？ (A)多瑙河 (B)塞納河 (C)波河 (D)萊茵河。
26. ()瑞典的家具業 (IKEA)舉世聞名，為該國重要的產業活動。該國發展家具業和下列何者的關係最為密切？ (A)針葉林廣 (B)鐵礦開採 (C)航運便利 (D)人口眾多。
27. ()烏克蘭的農業相當發達。請問：下列有利該國農作發展的因素中，何者和緯度較低的關係最大？ (A)土壤肥沃 (B)氣候溫暖 (C)水源充足 (D)地形平坦。
28. ()英國在發展工業活動的條件相當優越，該國在哪一個地區發現石油礦產，有利於經濟活動的發展？ (A)本寧山 (B)北海 (C)英吉利海峽 (D)大西洋。
29. ()臺糖近年來積極拓展蘭花外銷，該公司若欲參考外國花卉產業的運作過程，應該前往何國取經較有收穫？ (A)德國 (B)法國 (C)英國 (D)荷蘭。
30. ()德國的河運相當發達，由運河連結的水運串聯至各主要工業區。請問：德國的運河方向多為下列何者？ (A)東西向 (B)南北向 (C)向心狀 (D)放射狀。
31. ()奧地利山地廣布，景色秀麗，因此吸引無數觀光客前往旅遊。請問：橫互該國的主要山脈為下列何者？ (A)庇里牛斯山 (B)斯堪地那維亞山脈 (C)阿爾卑斯山 (D)本寧山。
32. ()王總裁欲將個人資產交由歐洲的銀行加以管理，下列哪一個國家的金融業向以制度健全、信譽卓著聞名，因此最為適合？ (A)瑞典 (B)冰島 (C)英國 (D)瑞士。
33. ()北歐的冰島位於大西洋上，受到自然環境的影響，當地利用豐富地熱所從事的活動不包括下列何者？ (A)發電能源 (B)探勘石油 (C)溫室農業 (D)煉鋁工業。

34. ()希臘在得天獨厚的氣候下，利用當地柳橙、葡萄等果園養蜂，生產蜂蜜和花粉，並用於美容產品研發，在歐洲市場上大受歡迎。請問：希臘的氣候環境主要為下列何種類型？
(A) (B) (C) (D)



(C)

(D)



35. ()王先生一家人到歐洲旅行，搭乘了通過英吉利海峽的歐洲之星列車，體驗跨國旅行經驗。請問：其票上的起訖地點標示應該為下列何者？

(A)

| | |
|---------|------------|
| 歐洲之星 | 歐洲之星 |
| 起點 | 終點 |
| 倫敦 | 米蘭 |
| 票價 1204 | 票價 5 位 6 A |

(B)

| | |
|---------|------------|
| 歐洲之星 | 歐洲之星 |
| 起點 | 終點 |
| 柏林 | 羅馬 |
| 票價 1204 | 票價 5 位 6 A |

(C)

(D)

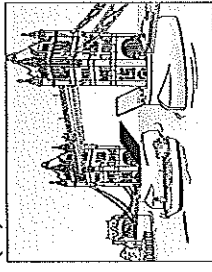
(C)

| | |
|---------|------------|
| 歐洲之星 | 歐洲之星 |
| 起點 | 終點 |
| 巴黎 | 倫敦 |
| 票價 1204 | 票價 5 位 6 A |

36. ()「該國火山活動頻繁，冰河地形發達，漁產為其最大宗的出口貨品；除了海洋漁業外，居民也充分利用地熱和溫泉等資源，從事養殖漁業。」上文所指的國家最可能是下列何者？ (A)日本 (B)挪威 (C)冰島 (D)義大利。

37. ()盧森堡的金融業相當發達，吸引了世界各國資金。該國發展金融業的有利因素為何？ (A)世界三大金融中心 (B)低稅率的金融政策 (C)歐洲聯盟總部所在 (D)港口貿易發達。

38. ()下圖中的景觀稱為「塔橋」，位於某國的首都。該國是工業革命的發源地；該橋也經常出現在很多好萊塢電影的畫面中。請問：此塔橋所在的城市名稱及橋下的河流名稱何者正確？ (A)巴黎：塞納河 (B)維也納：多瑙河 (C)柏林：萊茵河 (D)倫敦：泰晤士河。

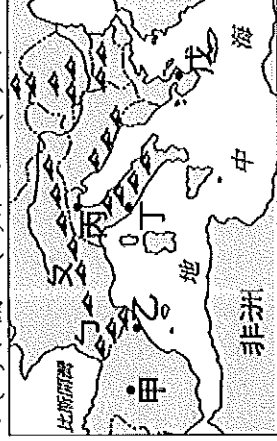


39. ()小球在西歐某國旅遊時，他順著多瑙河行走抵達某國家，發現該國除了首都以「音樂之都」享譽盛名外，切工精美的「施華洛世奇」水晶，公司總部也設立在此國。請問：他到訪的是下列何處？ (A)德國 (B)瑞士 (C)比利時 (D)奧地利。

40. ()歐元的正面都是相同的，標示硬幣的幣值，但背面的圖案則是由各個國家自行設計。附圖為某國發行的歐元，硬幣上表現出奧林匹亞運動會對該國的意義。請問：此硬幣最可能由哪個國家所發行的？ (A)義大利 (B)西班牙 (C)葡萄牙 (D)希臘。



41. ()「下圖中丙城市建立在海邊淺灘上，是由188個小島組成，長短、寬窄各異的水道，構成這個城市的街道，居民利用橋樑和貢多拉船，聯繫各島之間往來，而有『水都』之稱。」上述為哪個城市？ (A)米蘭 (B)羅馬 (C)威尼斯 (D)佛羅倫斯。



42. ()在西元2011年以前，NOKIA是世界最大的手機製造商，為母國創造五分之一以上的出口額，如今卻因其智慧型手機銷售量不佳，不僅把王座讓與，還得不斷裁員。NOKIA的發展危機對下列哪個國家的影響最直接？ (A)冰島 (B)挪威 (C)芬蘭 (D)瑞典。

43. ()南歐的某個國家，在時尚產業與汽車產業上表現突出，且盛產大理石，生產的法拉利跑車舉世聞名。該國指的是下列何者？ (A)希臘 (B)義大利 (C)西班牙 (D)葡萄牙。

44. ()武崙旅行社的廣告文宣寫著「覺得臺灣的夏日太熱難耐嗎？和我們一起到『世界公園』避暑吧！同時帶著世界名錶給親人，不論是勞力士錶 (ROLEX)或斯沃其錶 (SWATCH)都可以滿足你」，這是要吸引遊客到哪個國家旅遊的廣告文宣？

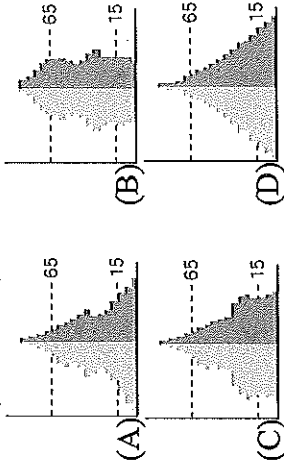
45. ()李小姐要前往歐洲旅行，體驗布拉格的人文氣息。請問：她應到哪個國家去？ (A)捷克 (B)奧地利 (C)匈牙利 (D)義大利。

46. ()西元79年，維蘇威火山的爆發將龐貝古城掩埋，而半島西南側西西里島上的埃特納火山在二十世紀也不斷噴發，這些現象和下列何者關係最密切？ (A)冰河地形發達 (B)石灰岩遍布 (C)板塊擠壓碰撞 (D)河川侵蝕劇烈。

47. ()巴黎左岸咖啡舉世聞名。請問：坐在左岸啜飲香醇咖啡的同時，可欣賞哪一條河的景色？ (A)泰晤士河 (B)萊茵河 (C)多瑙河 (D)塞納河。

48. () 「在湖畔的小木屋內享受高溫蒸氣，以樹枝輕輕拍打並按摩身體，然後跑出屋外躍入湖中，利用湖水冷冽的特性收縮肌膚。」請問：這種沐浴方式所需要的自然條件，在下列哪個國家最常見？
 (A)法國 (B)芬蘭 (C)希臘 (D)義大利。

49. () 北歐各國經濟發達，國民所得水準極高，其人口結構應呈現哪種人口金字塔型？



50. () 下列哪個國家因北極圈經過，氣候相當嚴寒，在一片雪白世界中被視為聖誕老人的故鄉，每年均有大批的孩子夢想寄往該國？
 (A)法國 (B)德國 (C)芬蘭 (D)丹麥。

~試題結束~

湯裡有蒼蠅

在餐廳用餐時，發現侍者端上來的湯裡有一隻蒼蠅，不同國家的人各會有什麼反應呢？

德國人：冷靜地判斷「這湯很燙，相信已經充分殺菌了」，然後取出湯匙享用他的湯。

法國人：用湯匙把蒼蠅壓碎，擠出精華和在湯裡一起喝下。

中國人：絲毫不以為意，連蒼蠅一起祭五臟廟。

英國人：放下湯匙，說幾句挖苦的話，然後走出餐廳。

俄羅斯人：早就喝得醉醺醺，根本沒注意到有蒼蠅。

美國人：把侍者、廚師、經理都叫來，最後還是決定告他們。

日本人：看看四周，確定只有自己的湯裡有蒼蠅，然後小小聲地「請」侍者過來處理。

韓國人：大聲抗議湯裡有蒼蠅都是日本人的錯，然後拿出日本國旗出來燒毀。