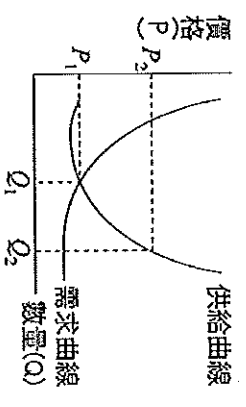


一、選擇題：(每題2分)

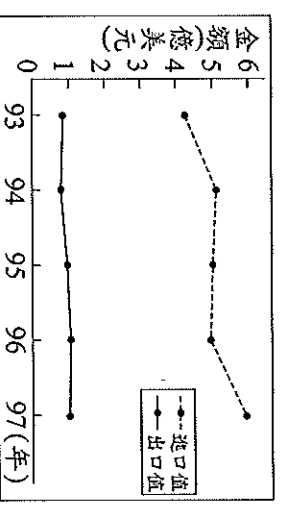
- () 1. 美美看到網路上的廣告：「高級鍋具三件組每組 2,000 元，限量 5 組」，有點心動想要購買。上述廣告最能顯現貨幣的哪項功能？ (A) 價值衡量 (B) 交易媒介 (C) 債務清償 (D) 價值儲存。
- () 2. 知名藝人開演唱會時，常有許多人搶著買票，買不到票的民眾甚至用較高的價格去購買「黄牛票」。在其他條件不變下，上述現象代表該演唱會門票市場，呈現下列何種情況？ (A) 票價低於均衡價格，導致供過於求 (B) 票價低於均衡價格，導致供不應求 (C) 票價高於均衡價格，導致供過於求 (D) 票價高於均衡價格，導致供不應求。
- () 3. 在我國，中央銀行是負責發行新台幣的政府機關，下列相關敘述何者錯誤？ (甲) 必須維持物價的穩定 (乙) 又稱為銀行中的銀行 (丙) 必須控制貨幣的發行數量 (丁) 其主要的往來對象是一般民眾。
- (A) 甲乙丙 (B) 乙丙丁 (C) 甲丙丁 (D) 甲乙丁。
- () 4. 喜悅國的稻米生產與消費，是由政府預估全國稻米的總需求量，然後推算需要多少耕地、調查那些地方適合種植，以確定稻米的生產總量；稻米收成後則由政府統一決定如何分配。上述經濟體制應屬於下列何種類型？ (A) 統制經濟制度 (B) 自由經濟制度 (C) 市場經濟制度 (D) 混合經濟制度。
- () 5. 世界各國普遍使用「紙鈔」作為通行的貨幣，主要原因有 (甲) 紙鈔本身具有高價值 (乙) 紙鈔可以發帳使用 (丙) 政府透過法令強制其具有價值 (丁) 紙鈔方便攜帶 (A) 甲乙 (B) 乙丙 (C) 丙丁 (D) 甲丁。
- () 6. 每當颱風季節來臨，政府相關部會均預先擬妥政策，避免風災導致蔬果價格暴漲，以下哪些是可採行的方法？ (甲) 自外國進口價格較低之蔬果 (乙) 鼓勵消費者購買冷凍蔬菜 (丙) 消費者事先搶購大量蔬果囤積 (丁) 鼓勵消費者改買價格未波動的其他種類蔬果 (A) 甲乙丙 (B) 乙丙丁 (C) 甲丙丁 (D) 甲乙丁。
- () 7. 以下是報紙的一段敘述：「我國加入 WTO 後，公賣局所製造的紅標米酒將由原本的 22 元調漲到 130 元，此消息傳出後，造成民眾瘋狂搶購米酒。」請問：造成民眾恐慌而提早購買米酒存放的原因為何？ (A) 物價上漲，一般民眾收入增加 (B) 物價上漲，貨幣購買力降低 (C) 物價上漲，人民生活水準提升 (D) 物價上漲，民眾儲蓄意願升高。

- () 8. 下列有關於「消費支出」的敘述，何者錯誤？ (A) 屬於生產成本的费用 (B) 成為生產者的銷貨收入 (C) 消費者將所得用於購買商品的費用 (D) 消費者到商品市場購買商品所支付的費用。
- () 9. 在日常生活中，每一件物品都有其不一樣的價格。請問：右圖中當產品價格在 P_2 時，會呈現下列何種狀況？ (A) 供需均衡 (B) 供過於求 (C) 供不應求 (D) 產品缺貨。
- () 10. 公民老師請同學發表對於「國際貿易」的看法，下列何種看法正確？ (A) 小白：「比較利益的存在是國際貿易的基礎。」 (B) 小藍：「每個國家的自然環境、人力資源與資本都差不多。」 (C) 小橘：「各國依據負擔能力原則生產成品。」 (D) 小紅：「經由國際貿易，各國消費者的選擇減少。」



- () 11. 根據供需法則，當其他條件不變的情況，下列敘述何者正確？ (A) 需求增加或供給減少，造成供過於求，價格上漲 (B) 需求減少或供給增加，造成供不應求，價格上漲 (C) 需求增加或供給減少，造成供不應求，價格上漲 (D) 需求減少或供給增加，造成供過於求，價格上漲。
- () 12. 經濟活動的循環，主要在說明市場經濟裡，需求者和供給者的消費行為和生產活動的關係。下列關於經濟活動循環中消費者和生產者的關係，何者敘述正確？ (A) 生產者就是商品市場的需求者 (B) 消費者就是生產要素市場的供給者 (C) 生產者的銷貨收入會形成消費者的所得 (D) 消費者的所得會形成生產者的銷貨收入。
- () 13. 福利國新聞報導：「由於房價持續上漲，貴得離譜，許多民眾根本買不起，政府決定實施豪宅稅，針對高價位的房子課徵較高的房屋稅，希望藉此抑制一路飆漲的房價。」下列關於福利國的敘述，何者正確？ (A) 房屋價格由政府決定 (B) 福利國實施統制經濟體制 (C) 房價上漲是因為供給量大於需求 (D) 房屋價格是透過市場機制來調整的。

- () 14. 臺灣目前正面臨低利率的時代。請問：當銀行利率持續降低時，對於民眾的理財會有什麼影響？ (A) 民眾紛紛將錢存入銀行 (B) 民眾將外幣兌換為臺幣 (C) 降低民眾的消費欲望 (D) 提高企業的投資意願。
- () 15. 右圖是民國 93 年至 97 年，我國水果類農產品的國際貿易概況。根據圖中內容，可觀察出下列何種現象？ (A) 我國生產水果具絕對利益 (B) 我國生產水果具比較利益 (C) 水果類貿易呈現入超狀態 (D) 水果類貿易呈現出超狀態。
- () 16. 小英到幸福國旅遊的第一天，在咖啡店喝了一杯定價 150 元的爪哇咖啡，第二天要離開時又到同一家店，卻發現同樣的爪哇咖啡，每杯定價已變成 400 元，請問：幸福國可能正面臨何種經濟問題？ (A) 生產過剩 (B) 通貨緊縮 (C) 通貨膨脹 (D) 惡性競爭。



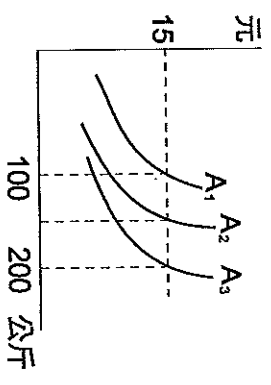
基隆市立武崙國民中學一〇七學年度第一學期第二次段考公民科試題

班級：九年

班座號：

姓名：

- () 17. 目前全球貿易趨勢傾向於共同合作，如世界貿易組織(WTO)、歐洲聯盟等。以我國為例，加入世貿組織後，必須開放國內市場，此項開放政策，對臺灣的經濟發展有何影響？(甲)貿易自由化使國內產業遭受低價產品競爭(乙)消費者能夠買到的商品將更低廉，且種類更多(丙)我國農產品價格低廉所以可大量外銷到國外(丁)有助於各國分工合作，將較多資源投入在擅長發展的產業 (A)甲乙丙 (B)甲乙丁 (C)甲丙丁 (D)乙丙丁。
- () 18. 台日貿易關係密切，但自50年代中期以來，台灣對日本的出口總額始終少於進口總額，且差距不斷擴大。請問：上述顯示台灣對日貿易長期處於何種狀態？ (A)出超(B)貿易順差(C)貿易逆差(D)貿易盈餘。
- () 19. 近日國際油價因美國與伊朗關係緊繃，導致油價持續飆漲，加深了人們對「通貨膨脹」之隱憂，請問「通貨膨脹」會造成哪些現象？ (甲)貨幣貶值，物價不斷上漲(乙)領月退休的人生活水準提升(丙)人們喜歡囤積商品(丁)國民整體儲蓄會提高(戊)黃金、地價會上漲。 (A)甲丙戊(B)乙丙戊(C)甲乙丙(D)甲乙戊。
- () 20. 小李是自助餐廳的老闆，為了提供客人新鮮的菜色，他每天一大早到果菜批發市場挑選，請問此時的果菜批發市場和下列哪一市場屬性相同？(A)媽媽買菜的菜市場 (B)妹妹購買早餐的速食店 (C)哥哥參加的就業博覽會 (D)爸爸買賣股票的股票市場。
- () 21. 右圖 A_2 為自助餐店平時的供給曲線。今日因颱風來襲，蔬菜產量減少，使得自助餐店的生產成本增加，在不調整價格的情況下，其供給曲線會有怎樣的變化？
 (A) A_2 移至 A_1 (B) A_2 移至 A_3 (C) A_2 移至 A_0 再移至 A_1 (D) 不變。
- () 22. 行政院公布消費券的發放方案，農曆年前，全國不分男女老少、不分貧富，每人都可以獲得3600元的消費券，用於購買各種零售商品，或是用於餐飲消費。下列有關消費券的敘述，何者有誤？ (A)發放消費券可以刺激景氣回升(B)發放消費券可以提高人民的購買力(C)發放消費券會使政府的負債增加(D)發放消費券會使政府的稅收減少。
- () 23. 好喫茶飲所屬的臺北店及高雄店，依據市場供需狀況而調整店內珍珠奶茶的價格，其中臺北店調漲，而高雄店調降。若以「○」代表500杯商品數量，則這兩家店於價格調整前的珍珠奶茶供需情況，最可能為下列何者？



(A)

	需求	供給
臺北店	○	○○
高雄店	○	○○

(B)

	需求	供給
臺北店	○○	○○
高雄店	○○	○○

(C)

	需求	供給
臺北店	○	○○
高雄店	○○	○○

(D)

	需求	供給
臺北店	○○	○○
高雄店	○	○○

- () 24. 我國在西元2010年與中國簽訂了《兩岸經濟合作架構協議》(ECFA)，其主要內容是達成哪方面的協議？
 (A)自由貿易 (B)文化交流 (C)打擊犯罪 (D)綠色消費。
- () 25. 在經濟循環中，若以商品市場來看，生產者與消費者的供需行為是由一隻「無形的手」是指？而價格是由誰決定？
 (A)市場價格、供給者 (B)政府、供需雙方 (C)市場價格、供需雙方 (D)政府、需求者。
- () 26. 今年冬天柳丁盛產，價格便宜。明美和瓊瑤各買了10斤柳丁，明美打算榨柳丁汁供家人食用；瓊瑤則打算在自己經營的泡沫紅茶店，增售柳丁汁，以提升銷售業績，請問：下列敘述何者正確？(甲)明美購買的柳丁屬於商品(乙)瓊瑤購買的柳丁屬於商品(丙)瓊瑤購買的柳丁屬於生產要素(丁)明美購買的柳丁屬於生產要素。(A)甲乙 (B)甲丙 (C)乙丁 (D)丙丁。
- () 27. 新聞報導：「連日豪雨造成中南部菜田受損，收成短缺。」請問：蔬菜收成短缺，可能會造成何種現象？
 (甲)蔬菜供過於求 (乙)蔬菜價格上漲 (丙)消費者改買其他較便宜的商品 (丁)生產者因蔬菜有利可圖，可能轉種蔬菜 (A)甲乙丙 (B)乙丙丁 (C)甲乙丁 (D)甲乙丙丁。
- () 28. 甲農夫每年可收成100公斤橘子或300公斤柳丁，乙農夫每年可收成200公斤橘子或300公斤柳丁。下列敘述何者錯誤？ (A)乙農夫在橘子的生產上具絕對利益及比較利益(B)兩農夫的柳丁生產力相同(C)甲農夫生產橘子的機會成本是乙農夫的两倍(D)甲農夫應生產橘子，乙農夫應生產柳丁。
- () 29. 有關「新台幣貶值」的敘述，下列何者正確？(A)有助於廠商進口貨物(B)進口外國商品將變得便宜(C)外國貨幣可兌換的新台幣變少(D)有助於增加我國的對外貿易量。
- () 30. 維尼造紙工廠供應書商用紙，近來國際紙漿原料價格大漲，若依經濟活動循環判斷，維尼造紙工廠購買紙漿，會使其下列何者增加？ (A)消費支出 (B)銷售收入 (C)生產成本 (D)所得。
- () 31. 對於「信用卡」的敘述，下列敘述何者正確？(A)是貨幣的一種，又稱為塑膠貨幣(B)是一種延期支付的交易型態(C)可以完全取代現金交易(D)分期攤還帳款，毋須付利息。

- () 32. 各國政府都非常努力將貨幣的數量控制在一定的適當範圍，下列何者是主要目的？ (A)節省印鈔票的成本 (B)維持商品數量的穩定 (C)維持物價水準的穩定 (D)不想花費太多成本在製造或閉上。
- () 33. 進口商茂盛公司去年簽約進口一批 5 億美元的設備，約定好今年付款，右表是今年 1-3 月新台幣兌美元的匯率。請問：茂盛公司應選擇幾月兌換美元來付款最為有利？

	新台幣	美元
1月	30.85	1
2月	30.72	1
3月	30.79	1
- () 34. 台灣向美國購買 F-16 戰鬥機，向日本購買蘋果；美國則向台灣購買電腦，日本則向台灣購買豬肉。上述中的貿易是依循何種原理所進行的？ (A)比較利益 (B)分散風險 (C)供需法則 (D)受益原則。

- () 35. 下列有關「市場」的敘述，何者正確？ (A)股票市場是有形的市場 (B)同樣的商品在不同的市場標價是相同的 (C)所有的交易行為都是在市場中完成 (D)商品價格是由公平交易委員會決定的。

二、整合題 (每題 3 分)

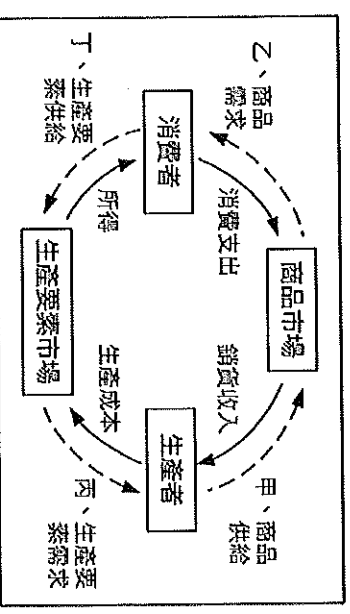
1. 阿倫和小蘭是做麵食的師傅，右表是他們一個小時所完成的包子和饅頭的數量。請問

	包子	饅頭
阿倫	3	4
小蘭	2	5

- () 36. 阿倫生產一個饅頭的機會成本為何？ (A) $\frac{3}{4}$ 包子 (B) $\frac{2}{3}$ 包子 (C) $\frac{3}{2}$ 包子 (D) $\frac{4}{3}$ 包子。
- () 37. 如果想要做出更多的包子和饅頭，兩人應該如何進行分工？ (A)兩人同時生產饅頭 (B)兩人同時生產包子 (C)阿倫生產饅頭，小蘭生產包子 (D)阿倫生產包子，小蘭生產饅頭。

2. 修華開了一家悅來海鮮餐廳，每天上午五點鐘修華開著貨車到坎仔頂的順發魚行，去購買當天餐廳所需的材料。貨款採月結制，每月的最後一天修華須付清帳款。週六、週日餐廳生意高朋滿座，修華從 104 人力網站找來海洋大學的學生到餐廳打工幫忙。請問：

- () 38. 順發魚行因缺錢向台灣銀行融通資金，順發魚行的做法是屬於經濟活動循環中的哪一項？ (A)甲 (B)乙 (C)丙 (D)丁。
- () 39. 海洋大學學生所領的工讀費是屬於經濟活動循環中的哪一項所獲得？ (A)甲 (B)乙 (C)丙 (D)丁。



- () 40. 每月的最後一天修華須付給順發魚行的帳款是屬於經濟活動循環中的哪一項所支付？ (A)甲 (B)乙 (C)丙 (D)丁。
- () 41. 因標榜漁港直送品質新鮮，用餐時間吸引許多消費者在悅來海鮮餐廳外排隊等候，是屬於經濟活動循環中的哪一項？ (A)甲 (B)乙 (C)丙 (D)丁。
- () 42. 104 人力網站與下列哪一市場屬於同一種類型？ (A)7-11 便利商店 (B)東森購物 (C)遠東百貨 (D)家樂福量販店。

3. 天使國與幸福國各自生產一輛自行車與一台電腦所需花費的時間，如右表所示。請回答下列問題：

	天使國	幸福國
電腦	9 小時	4 小時
自行車	7 小時	5 小時

- () 43. 幸福國生產一輛自行車的機會成本為何？ (A) $\frac{5}{7}$ 電腦 (B) $\frac{7}{5}$ 電腦 (C) $\frac{4}{5}$ 電腦 (D) $\frac{5}{4}$ 電腦。
- () 44. 在不考慮其他因素的情況下，由表中資料判斷，下列的敘述，何者錯誤？ (A)天使國生產自行車具有絕對利益 (B)幸福國生產電腦具有比較利益 (C)天使國生產一台電腦的機會成本為 $\frac{9}{7}$ 自行車 (D)幸福國生產電腦的機會成本比較高。

- () 45. 依據比較利益原則，透過國際貿易分工，天使國與幸福國應分別採取哪一種策略較為適當？ (A)天使國進口電腦，幸福國進口自行車 (B)天使國生產電腦，幸福國生產自行車 (C)天使國生產電腦的機會成本較低 (D)幸福國生產電腦與自行車的機會成本相同。