

# 基隆市立武崙國民中學一〇七學年度第一學期第三次段考七年級歷史科試題卷

注意事項：

1. 本份試卷為單選題，每題 2 分，共 50 題，總分 100 分。
2. 答案卡限用 2B 鉛筆畫記，若畫記錯誤，請擦拭乾淨。分數以電腦讀卡分數為準。
3. 答案卡上的資料欄請確實填寫，若資料欄畫記錯誤導致電腦無法正確判讀，扣總分 10 分。

班級：七年 班座號： 姓名：

- ( ) 1. 附表是清領後期某段時期臺灣進出口值統計表。請問：表中哪一年開始，反映出臺灣對外貿易由入超轉變為出超？(A)1868~1869 (B)1870~1874 (C)1875~1879 (D)1890~1894。

期間	出口		進口	
	年平均值	年平均值	年平均值	年平均值
1868~1869	93.0	124.5	124.5	174.4
1870~1874	172.0	272.0	272.0	318.8
1875~1879	282.3	318.8	318.8	361.8
1880~1884	427.3	361.8	361.8	431.0
1885~1889	435.7	431.0	431.0	
1890~1894	570.7			

- ( ) 2. 下文是描寫清領時期某一民變的歌謠：「頭戴明朝帽，身穿清朝衣；五月稱永和，六月還康熙」。依內容判斷，此歌謠所描述的民變事件為何？(A)郭懷一事件 (B)朱一貴事件 (C)林爽文事件 (D)戴潮春事件。

- ( ) 3. 清領時期臺灣民間大規模的械鬥很多，其中以閩、粵械鬥與漳、泉械鬥較為頻繁。請問：造成此種械鬥的原因為何？(A)職業 (B)祖籍 (C)姓氏 (D)宗教。

- ( ) 4. 臺灣俗語「少年若無一擺懸(懸)，路邊哪有有應公。」此句話的背景與清領時期哪一宗教現象最有關連？(A)供奉原鄉的守護神 (B)供奉來臺的第一代祖先 (C)祭祀械鬥下的無主孤魂 (D)祭祀原鄉的同姓祖先。

- ( ) 5. (甲)朱一貴事件(乙)戴潮春事件(丙)郭懷一事件(丁)林爽文事件，上列為反荷、反清事件，若按事件發生的先後順序排列應該為下列何者？(A)甲丙丁乙 (B)丙甲乙丁 (C)丙甲丁乙 (D)丁丙甲乙。

- ( ) 6. 臺灣民變為數不少，故有「三年一小反、五年一大亂」的說法。請問：造成此種現象的原因不包括下列何者？(A)祕密結盟盛行 (B)人口過多謀生不易 (C)會黨林立 (D)吏治不良。

- ( ) 7. 咸豐 3 年，艋舺地區發生「頂(泉郊)下(廈郊)郊拚」，來自泉州的三邑人和同安人在艋舺碼頭，為爭奪地盤和經濟利益而發生衝突。下列敘述何者正確？(A)外國商人在港口開設的商行稱為「郊」(B)頂(泉郊)、下(廈郊)的區分是由於兩者貿易的商品不同 (C)艋舺商業繁榮的現象最早出現在鄭氏時期 (D)頂下郊拚屬於械鬥。

- ( ) 8. 清代的渡臺禁令中，不准攜眷的規定造成哪些現象？(甲)臺灣人口組成異常，男女比例懸殊 (乙)單身來臺，異地謀生急需互助，結拜風氣盛行 (丙)羅漢腳易滋生社會問題(丁)漢番通婚，漢人與原住民血統混合(戊)禁令實行嚴格，成功抑制漢人來臺 (A)甲乙丙戊 (B)乙丙丁戊 (C)甲丙丁戊 (D)甲乙丙丁。

- ( ) 9. 姍晴將清領時期臺灣的宗族組織整理如附表。不過似乎只有一處是正確的。請問：正確的是？

宗族組織	唐山祖	開臺祖
組成分子	(A)同姓，未必有血緣關係	(B)同姓，未必有血緣關係
祭祀對象	(C)中國大陸原鄉的異姓祖先	(D)中國大陸原鄉的同姓祖先

- ( ) 10. 清領時期，臺灣的宗族組織由祭祀唐山祖逐漸轉為祭祀開臺祖，請問：上述轉變所代表的意義為何？(A)移民日久，認同臺灣鄉土意識 (B)因漢番通婚，與原住民信仰結合 (C)渡臺禁令解除，閩粵移民增加 (D)受西方傳教士影響。

- ( ) 11. 臺灣四面環海，早期居民們多半靠海維生，先民們渡海來臺時，必須經過大海無情的考驗，因此祭祀媽祖的廟宇非常普遍。請問：下列哪一間是臺灣歷史最久的媽祖廟？(A)臺南大天后宮 (B)澎湖天后宮 (C)鹿港天后宮 (D)北港朝天宮。

- ( ) 12. 張湄〈番俗詩〉：「鵝筒慣寫紅夷字，缺舌能通先聖書；何物兒童真拔俗，琅琅音韻誦關雎。」此詩描述平埔族孩童受教育的景況。請問：關於此詩的分析，下列何者正確？(A)紅夷字應指新港文，為西班牙人教原住民以羅馬字母拼寫的文字 (B)社學教育的成果使平埔族孩童能背誦漢人詩詞 (C)漢人若要學習原住民文化必須要進入社學就讀 (D)平埔族子弟熱衷進入書院參加科舉。

- ( ) 13. 王小龍是清朝統治後期的臺灣茶農，下列哪一段敘述不可能是他的生活經歷？(A)他在北部丘陵地區種茶 (B)他的茶葉主要由打狗出口外銷 (C)他的茶葉主要銷往美國 (D)他的茶葉以大稻埕為加工及集散地。

- ( ) 14. 清領後期，臺灣的糖主要是銷往哪些地區？(甲)中國大陸(乙)日本(丙)英國(丁)南洋 (A)甲乙 (B)甲丁 (C)乙丙 (D)乙丁。

( )15. 目前臺北市僅存的三級古蹟書院建築一學海書院，創建於清道光17年，同治6年設立的艋舺學與光緒5年開辦的淡水縣儒學也附設於此地，可說是清領時期臺北地區的教育文化中心。關於上述教育機構的敘述，何者錯誤？  
 (A)清領時期臺灣的書院全由民間興辦 (B)書院學風較自由，可補儒學之不足 (C)艋舺義學的性質是以教育貧寒學童為主 (D)淡水縣儒學是官方設置的教育機構。

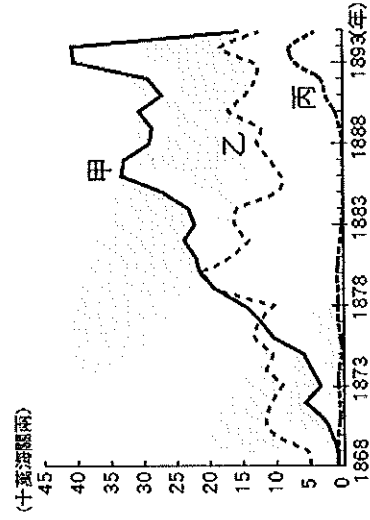
( )16. 附表是臺灣三個不同時期對外貿易的主要進出口貨物，依所處時代先後順序排列應為下列何者？ (A)乙丙甲 (B)乙甲丙 (C)丙甲乙 (D)丙乙甲。

時代	出口商品	進口商品
甲	稻米、蔗糖	藥材、紡織品
乙	糖、樟腦、茶	紡織品、鴉片
丙	蔗糖、鹿皮	軍用物資、布料

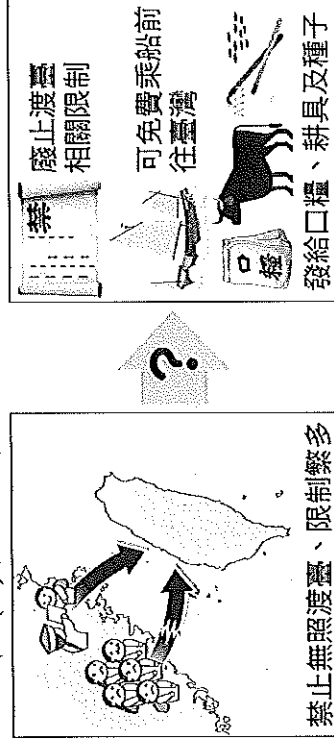
( )17. 朱古力是劉銘傳治臺時期來臺的英國洋商，在臺停留期間他不可能有下列何種生活經驗？  
 (A)從臺北搭火車到臺南 (B)到打狗英國領事館請求商務協助 (C)到臺北府城觀看臺灣最早的電燈 (D)前往淡水聽馬偕傳播基督教福音。

( )18. 清領後期安平人鄧小朋至省城考試，第一次遠赴福州，結果落榜，第二次卻可留在臺灣應試。請問：這兩次考試地點的改變與下列哪一事件相關？ (A)中法戰爭 (B)臺灣開港通商 (C)牡丹社事件 (D)英法聯軍。

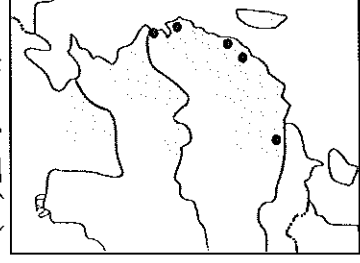
( )19. 附圖為清領後期臺灣重要出口商品的統計表，請問：「乙」所代表的商品應為下列何者？  
 (A)茶葉 (B)樟腦 (C)蔗糖 (D)鴉片。



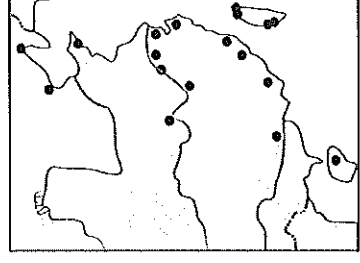
( )20. 下圖呈現某一歷史事件前後，清朝治臺措施的差異。從圖中內容判斷，此一事件應是下列何者？ (A)甲午戰爭 (B)中法戰爭 (C)英法聯軍 (D)牡丹社事件。



( )21. 圖(一)及圖(二)是清末兩個時期開放通商口岸的地圖。請問：由圖(一)演變成圖(二)的關鍵為何？ (A)英法聯軍 (B)牡丹社事件 (C)中法戰爭 (D)臺灣設省。

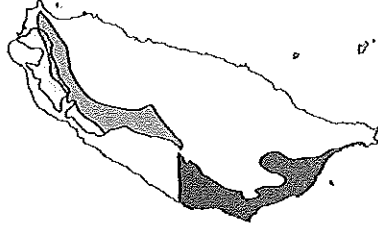


▲圖(一)



▲圖(二)

( )22. 附圖是清代臺灣開港後某一現象的分布示意圖，請依據圖中的資訊判斷，此圖的標題應是下列何者？ (A)閩粵移民來臺分布圖 (B)臺灣行政區圖 (C)軍屯地點分布圖 (D)臺灣產業分布圖。



( )23. 臺南新樓醫院成立已經一百多年，這由「臺灣醫療宣教之父」所創立的西醫院，為臺灣帶來西方先進的醫療技術。新樓醫院在慶祝生日的同時，也會特別追念當年這位貢獻良多的醫師。請問：這位醫師是指下列何者？ (A)馬偕 (B)陳永華 (C)沈光文 (D)馬雅各。

( )24. 台灣女性文化地標為文化總會於2005年邀集多位相關領域的女性座談後所規劃的案內，初步規劃20個地標，其中第一個地標為臺灣第一所女子學校。請問：該學校位於何處？  
 (A)安平 (B)打狗 (C)淡水 (D)雞籠。

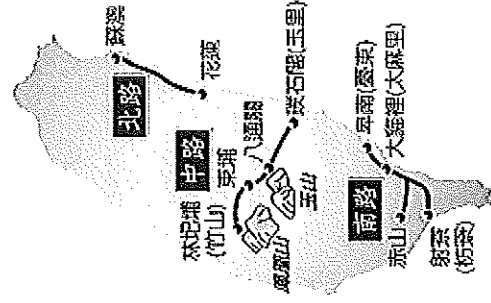
( )25. 清領前期臺灣的文教風氣愈來愈興盛。請問：臺灣文教風氣日漸發達的主要原因為何？  
 (A)實施國民義務教育 (B)臺灣逐漸開發，人民經濟生活改善 (C)傳教士引進新式教育 (D)西學堂、電報學堂等新式學校培育人才。

( )26. (甲)臺灣建省(乙)施琅攻臺(丙)中法戰爭(丁)臺灣開港通商(戊)牡丹社事件。有關上述臺灣歷史大事，若按照先後順序排列，下列何者正確？ (A)甲乙丙丁戊 (B)乙戊丁甲丙 (C)乙丁丙甲戊 (D)乙丁戊丙甲。

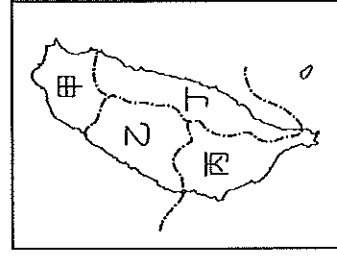
( )27. 以下哪一位官員以福建巡撫的身分來臺巡查，嚴懲貪官汙吏，架設臺灣最早的電報線？  
 (A)丁日昌 (B)沈葆楨 (C)劉銘傳 (D)邵友濂。

( )28. 吳稚想研究清領後期臺灣的建設，於是找到了一張臺灣建設示意圖，如附圖。由圖中的內容判斷，當時實施此建設的目的為何？

(A)加強對原住民的管理 (B)促進西部交通的順暢 (C)強化臺灣的軍事防務 (D)增加在臺的財政收入。



( )29. 附圖是臺灣設置三府一直隸州的行政簡圖。請問：「臺灣府」位於圖中何處？(A)甲 (B)乙 (C)丙 (D)丁。



( )30. 臺灣建省後的各項現代化建設中，影響最大的是交通建設。請問：當時推動完成的交通建設有哪些？(甲)興建基隆到新竹的鐵路(乙)設立郵政總局(丙)修築北、中、南三條通往後山的道路(丁)架設安平至媽宮的電報線(戊)購置輪船  
(A)甲乙丁戊 (B)甲乙丙戊 (C)甲丙丁戊 (D)乙丙丁戊。


( )31. 武崙傳播公司正企畫製作一系列「臺灣古蹟巡禮」專題報導，藉以回顧臺灣的開發歷程。請問：如要製作「臺南古蹟巡禮」，下列古蹟的介紹，依時間先後應如何排列才符合史實的演變？(甲)臺南孔廟(乙)德記洋行(丙)熱蘭遮城(丁)億載金城 (A)甲丙丁乙 (B)甲丁乙丙 (C)丙甲乙丁 (D)丙丁甲乙。

( )32. 歷史課後，同學們討論沈葆楨與劉銘傳對臺灣的建設，請問：下列何者說法有誤？  
(A)蚺臺：兩人都加強對原住民的管理。  
(B)蚺延：兩人都調整臺灣的行政區。  
(C)承恩：兩人都因戰爭抵臺籌辦防務。  
(D)家維：兩人都丈量田地，重訂賦稅。

( )33. 基隆二沙灣的「海門天險」為一處古戰場，現仍保有劉銘傳重整修建的炮臺。請問：此遺址可見證下列哪一場戰役？(A)甲午戰爭 (B)英法聯軍 (C)牡丹社事件 (D)中法戰爭。

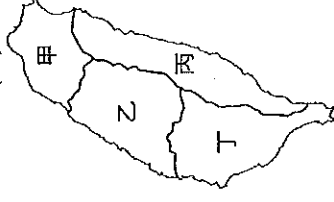
( )34. 十九世紀中葉，法國企圖將勢力深入□□，與清廷發生衝突，戰場擴大到中國東南沿海，臺灣亦受到波及。上文中的□□指的是現今哪個國家？(A)琉球 (B)越南 (C)朝鮮 (D)緬甸。

( )35. 附圖是關於基隆獅球嶺隧道的一幅漫畫，為臺灣第一條鐵路隧道，隧道口題有「曠宇天開」四字。此隧道興建於何人治臺時期？  
(A)沈葆楨 (B)丁日昌 (C)劉銘傳 (D)邵友濂。



( )36. 依據附圖判斷，若將臺灣開發的次序依照時間先後順序排列，則下列哪個選項正確？

(A)丁→乙→甲→丙 (B)丁→丙→甲→乙  
(C)丁→甲→丙→乙 (D)丁→丙→乙→甲。



( )37. 臺北市芝山岩地區現存清領時期建造的隘門古蹟，這個管制人員出入的「隘門」，當時作用為何？(A)為臺北城城牆 (B)防止移民偷渡上岸 (C)囚禁犯人處所 (D)保護同鄉住所。

( )38. 歷史老師於課堂上提問：「清領前期的臺灣常發生械鬥，原因有哪些？」以下哪一位同學說法是錯誤的？

(A)昱翔：因語言不同產生隔閡。  
(B)煥杰：為爭奪水源與田地而發生爭執。  
(C)翺帆：因宗教信仰不同而大打出手。  
(D)俊宇：為爭奪商業利益而發生械鬥。

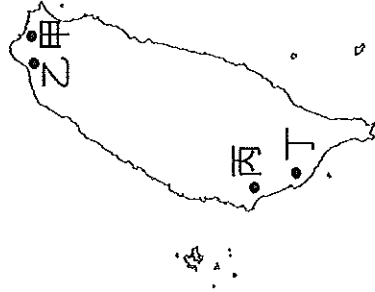
( )39. 身為客家人的小劉與同學聊天時提到：「我們的祖先早期來臺時，多聚居於丘陵地帶，信仰的神明是三山國王，據說當時廟裡的神像還是從大陸的家鄉帶來的。」請問：小劉的祖先可能來自下列何地？(A)福州 (B)泉州 (C)漳州 (D)潮州。

( )40. 臺北市大龍峒保安宮香火鼎盛，供奉的是俗稱「大道公」的醫神，也是泉州同安人的守護神。請問：其所祭祀的神明為下列何者？  
(A)保生大帝 (B)開漳聖王 (C)福德正神 (D)媽祖。

※茶樹是清代臺灣相當重要的經濟作物，非常適合栽種在臺灣潮溼多雨、日照量充足的山坡地上。沿著中央山脈的丘陵，是臺灣種植茶樹的精華地帶。臺灣茶的歷史儘管不長，但品質優良，獨樹一格，深受歐美海外市場的歡迎。

( )41. 清領初期，臺灣對外貿易是以中國市場為重，19世紀中葉後，歐美市場卻成為臺灣茶的主要貿易對象。請問原因為何？(A)中國市場規模較小 (B)兩岸貿易逐漸沒落 (C)臺灣被迫開港通商 (D)外國勢力攻占臺灣。

( )42. 臺灣茶葉大量銷往海外，「福爾摩沙茶」成為世界知名的物產。請問：「福爾摩沙茶」主要由附圖中的哪個港口輸出？(A)甲 (B)乙 (C)丙 (D)丁。



※志明、春嬌二人在討論清末某一事件之對話如下，請根據他們的論述，回答下列問題：

志明：「日本國這次的行動，清朝居然承認是保民義舉的行為。」

春嬌：「對於此次事件遇害難民的家屬，清朝事後都有給予撫卹銀兩，而且針對這次日本出兵的相关費用，清朝也都給予補償。」

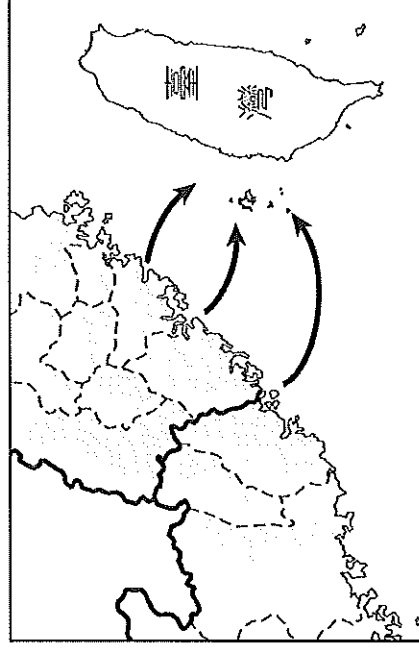
( )43. 志明跟春嬌所討論的事件，發生於清朝哪一位皇帝在位時？(A)乾隆 (B)嘉慶 (C)咸豐 (D)同治。

( )44. 根據志明所說的「清朝承認日本此舉是『保民義舉』的行為」，所謂的「保民」是指哪一地方的人民？(A)琉球 (B)澎湖 (C)越南 (D)臺灣。

( )45. 此事件發生於臺灣何處？(A)雞籠 (B)淡水 (C)澎湖 (D)恆春。

( )46. 請問：下列何者不是此次日本犯臺行動所導致的影響？(A)廢除渡臺禁令 (B)實施畫界封山 (C)推動開山撫番 (D)開始積極治臺。

※附圖為清代漢人移民來臺示意圖，請依據此圖回答下列問題：



( )47. 當時漢人移民至臺灣的原因為何？

- (A)東南沿海倭寇猖獗，清廷實施海禁政策
- (B)中國各地戰亂頻繁，人民流離失所
- (C)原鄉山多田少，人口過多，謀生不易
- (D)全球暖化，沿海地區海水倒灌。

( )48. 從圖可知，臺灣的移民主要來自中國哪兩個省分？(A)浙江、江西 (B)福建、廣東 (C)廣東、廣西 (D)湖南、湖北。

( )49. 唐山移民冒險橫渡有「黑水溝」之稱的臺灣海峽，可以說充滿風險。下列哪一個俗諺可以反映當時移民的艱辛？(A)有唐山公，無唐山媽 (B)一個某卡贏三個天公祖 (C)紅柿上樹頭，羅漢腳仔目屎流 (D)唐山過臺灣，心肝結歸丸。

( )50. 林爽文是漳州平和縣人，十八歲那年隨父親來臺，成為天地會領袖後，會眾遍布臺灣西部。關於此人的敘述，下列何項推論較為正確？

- (A)他是廣東人 (B)他講的家鄉話是客家話
- (C)他應該有加入會黨 (D)林爽文事件為臺灣歷時最久的民變。

【作答結束，請再檢查一次！】