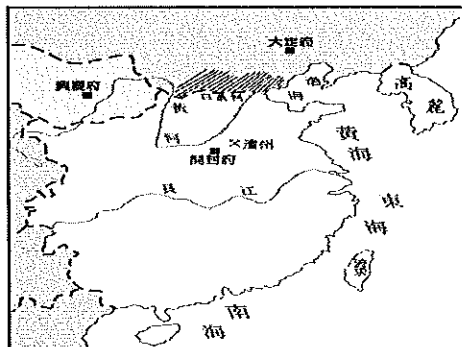


武崙國民中學 107 學年度八年級上學期歷史科第三次段考試題

一、選擇題：一題 2 分

- 市舶司類似今日的海關，負責對外貿易，宋、元時期在何處設置市舶司？
(A) 汴京、大都 (B) 長安、洛陽 (C) 杭州、福州 (D) 廣州、泉州
- 小明的歷史報告想以「唐代文物藝術」為主題，請問：下列哪一項作品不適合放在報告中？
(A) 王維的詩集 (B) 顏真卿的多寶塔碑 (C) 范寬谿山行旅圖 (D) 唐三彩胡人俑
- 右圖為北宋時期北方形勢圖，因圖中斜線的部份為別國所控制，導致宋朝北方門戶大開，請問這個地方是下列何者？
(A) 燕雲十六州 (B) 泉州 (C) 杭州 (D) 北京
- 同右圖，從後晉時期便控制這塊區域的國家是下列何者？
(A) 西夏 (B) 遼 (C) 大理 (D) 吐蕃
- 宋太祖建國後，將兵權收歸中央，禮遇文人，以強幹弱枝、重文輕武為基本國策，請問造成這些政策規劃的背景原因，是為了解決從唐朝中期以來的何種現象？
(A) 藩鎮割據 (B) 外戚掌權 (C) 宦官專權 (D) 官員黨爭
- 請閱讀下列資料，然後回答問題：「他的改革措施大多能切中時弊，但是過於自信，又不肯接受他人的意見，加上用人不當，造成改革無法成功。」，造成朝廷形成支持變法和反對變法的兩大陣營，請問文中所說的他的改革是指何人？而兩大黨派造成什麼歷史事件？選出正確配對。
(A) 朱元璋—廢除宰相 (B) 王安石—新舊黨爭
(C) 張居正—東林黨爭 (D) 范仲淹—牛李黨爭
- 關於右圖使用者的敘述，下列何者正確？
(A) 此機構由明成祖成立 (B) 職責類似唐代節度使
(C) 直屬皇帝的特務組織 (D) 與東廠一樣，均由宦官組成
- 下列科學家與其發明的配對，何者正確？
(A) 李時珍—本草綱目 (B) 沈括—活字版印刷術
(C) 宋應星—夢溪筆談 (D) 畢昇—改良指南針與羅盤
- 王明是個北宋人，請問：他的日常生活中應該吃喝不到下列哪種作物做成的菜色？
(A) 葡萄 (B) 小麥 (C) 早熟稻 (D) 馬鈴薯
- 小華要以明清時期外國傳教士為對象整理了一篇表格，只是他搞錯太多配對的選項了，請你找出表格中唯一正確的選項。



(A)	徐光啟與利瑪竇合作完成皇輿全覽圖	(B)	康熙皇帝整理完成《天工開物》一書
(C)	最早與中國接觸的歐洲人是西班牙人	(D)	利瑪竇是天主教耶穌會的傳教士

- 張某人是明代的一個讀書人，請問下列關於他的敘述中，何者正確？
(A) 他自幼聰穎，十二歲以生員身分入書院就讀 (B) 十六歲時參加會試考上舉人
(C) 二十三歲參加殿試後高中進士 (D) 自此，他成為士紳階級，子孫皆可當官。
- 王老師熱衷於宋元歷史研究，前幾天讀了一篇宋元時期的論文，與授課內容有關，因此在課堂上分享此篇論文，並希望學生進行討論並做筆記，可是收回筆記後他發現有位同學的筆記出錯了。請你從下列選項中找出錯誤的那份報告？

(A)	丁丁：宋朝儒者提出「理學」，結合基督教、道教與儒家思想，強調個人品德修養	(B)	迪西：北宋的司馬光撰寫《資治通鑑》，是紀傳體通史
(C)	拉拉：忽必烈建立元朝，定都大都，並採種族歧視，漢人與南人地位最低	(D)	小波：北宋因為長期與遼國、西夏發生戰爭，只能用財物換取和平，對內則有冗兵、冗官，嚴重造成財政負擔

13、李大嘴是個北宋時住在四川的讀書人，多次參加科舉都落榜，請問：下列關於他的生活敘述，何者是正確的？

- (A)早起後一邊喝茶，一邊背誦四書集註 (B)中午拿著交子到小吃店吃飯
(C)下午開始練習以八股文寫文章 (D)晚上到夜市買了幾根玉米解決了晚餐

14、六花為了某位人物的歷史報告找到了兩項資料，稍作整理後。沒寫上人名就去休息了，請你從她找出的資料判斷這是哪位人物的事蹟，並幫她把題目從下列選項中找出並補上。

題目：

資料一：泰國北柳的三寶公佛寺門上的對聯是：三保七次震西洋，偉績勳功明代；寶筏一航威鄰國，大顯神威南疆。

資料二：今非洲東岸肯亞地區的部落，發現可能有中國人的後裔。

- (A)鄭經 (B)馬可波羅 (C)鄭和 (D)玄奘

15、「靖康恥，猶未雪。臣子恨，何時滅！駕長車，踏破賀蘭山缺。壯志飢餐胡虜肉，笑談渴飲匈奴血。待從頭，收拾舊山河，朝天闕。」這首著名的宋朝詞作「滿江紅」，請問：詞中的「靖康恥，猶未雪」是指哪一個民族入侵造成的災難？

- (A)契丹 (B)女真 (C)蒙古 (D)党項

16、高老師在整理明清時代的歷史時有感而發，此時的讀書人好可憐，常因為寫文章觸犯禁忌，就被以使用不當文字而定罪被殺，或牽連許多人被抓坐牢，請問：這是因為實施以下那一政策的結果？

- (A)文字獄 (B)廷杖 (C)薙髮留辮 (D)大鳴大放

17、小茜在閱讀中國歷史時，發現中國有一個朝代對外貿易有局限性，只限被中國冊封的國家如朝鮮、琉球、越南等國可至北京進行商業活動，無被冊封的國家如十六、十七世紀抵華的葡萄牙、西班牙及荷蘭卻無法享有這項待遇。請問：這是中國哪一個朝代推行的那一項外交政策？

- (A)明代：朝貢貿易 (B)清代：走私貿易
(C)宋代：關稅貿易 (D)元代：隔離貿易

18、麗華看電視劇演著男帥女美的清宮劇，一邊看著無趣的歷史課本寫重點，她寫著『大清帝國就是在清朝三位皇帝勤政下打造的基礎，達到文治武功強盛的地步，故史稱「***盛世」，可是麗華卻把皇帝的順序搞錯了，請把這三個皇帝在位的順序，以正確的組何排列出來。

- (A)清世宗、清聖祖、清高宗 (B)清聖祖、清世宗、清高宗
(C)清高宗、清聖祖、清世宗 (D)清聖祖、清高宗、清世宗

19、西洋傳教士以豐富的學術贏得中國士大夫之心時，清廷卻下令全面禁教，請問：清廷禁教的最主要原因是下列何者？

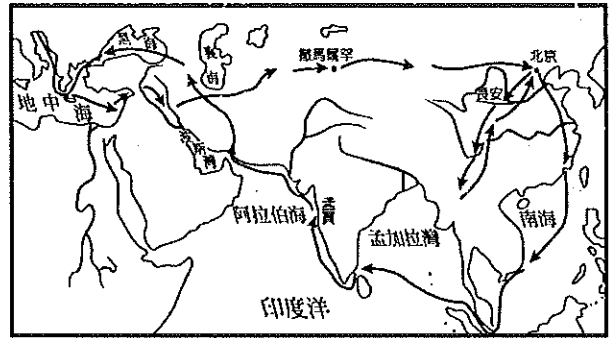
- (A)傳教士把中國的園林建築，瓷器帶回歐洲 (B)雍正皇帝即位前後，傳教士涉及宮廷政爭
(C)雍正崇信佛教，視基督教為邪說異端 (D)傳教士在各地興建教堂，引發民亂

20、河南湯陰一座廟宇的對聯上書：「千秋冤獄莫須有，百戰忠魂歸去來」，依史實判斷此廟應是祭祀何人？

- (A)秦檜 (B)宋高宗 (C)岳飛 (D)王安石

21、附圖是某一位曾經促成東西文化交流的歷史人物所走的路線圖。請由此圖判斷，這位人物應該可以從下列選項中的哪一本著作知道他的事蹟？

- (A)西遊記 (B)大唐西域記
(C)水滸傳 (D)馬可波羅遊記



22、承上題，這人應該屬於元代哪一種階級？

- (A)元人 (B)色目人 (C)漢人 (D)南人

23、明朝中期之後，出現嚴重的財政危機，官僚、豪強、地主憑藉特權得以優免，賦役大部分由民戶負擔，使得階級矛盾更加激化。為了穩定統治，政府推行賦稅改革，實施「一條鞭法」。請問：下列有關「一條鞭法」的敘述，哪一項是正確的？

- (A)為張居正變法的重要政策之一 (B)提倡軍功，鼓勵耕織，奠定明代強盛的基础
(C)鼓勵人民開墾荒地，三年免稅 (D)將田賦與勞役合併徵稅，按照人口數收稅

24、阿克雅到西藏旅遊參觀小昭寺，導遊說從前寺中所供奉的釋迦牟尼等身佛像是西藏最早的佛像，來自中原地區，對西藏的文化發展有很大的貢獻。請問：這尊古佛像應該是由何人所攜入西藏的？

- (A)玄奘 (B)唐太宗 (C)文成公主 (D)吳道子

25、阿蓮在《中國歷史漫畫》中看到如附圖的漫畫，這張漫畫的內容是在描述何事？

- (A)清兵入關 (B)三藩之亂
(C)流寇之禍 (D)靖難之變



26、承上，請問這場亂事的前因及產生的後果，與下列選項中的何者較「無」關聯？

- (A)起因是清兵入關時以漢人平定漢人的政策結果。
(B)三王之中是以平西王為首。
(C)可以看成中央政府平定割據勢力的努力。
(D)亂事結束後，清兵順勢南下攻滅鄭經勢力，完成統一。

27、歷史老師請悠悠在黑板上整理唐至明代文學主流比較表，結果她出了大錯，只寫對了其中一格。

請問：表格中只有哪一項是正確的？

- (A)甲 (B)乙 (C)丙 (D)丁

朝代	文學主流	代表人物
(甲)唐	詩	李白、杜甫
(乙)宋	曲	蘇軾、李清照
(丙)元	曲	關漢卿、辛棄疾
(丁)明	小說	羅貫中、曹雪芹

28、「在過去一千年中，大部分時間中國的糧食狀況要比歐洲好得多。這正是因為有更充足的糧食供給，到了17世紀以後甚至突破了四億。」請問：促使17世紀中國人口暴增的基本原因有可能是當時引進了哪一種外來作物？

- (A)早熟稻 (B)番薯 (C)西瓜 (D)葡萄

- 29、小智撰寫有關蒙古為主題的報告被老師評為不及格，你能在其報告的內容中，找出唯一一項正確的部分嗎？
- (A)成吉思汗建立元朝，首都為大都 (B)蒙古曾發動三次西征，最遠抵達歐洲
(C)促成造紙術西傳至歐洲，開啟文化革新 (D)帶回歐洲的火藥技術，攻滅南宋
- 30、明清兩代經濟繁榮，手工業發達，商人地位提高。請問：康熙年間的商人，可能比宋代的商人擁有哪一項優越的條件？
- (A)可以使用紙鈔 (B)可以進行海外貿易
(C)到國內其他地方時可以居住在會館中 (D)夜間可以營業
- 31、清朝入關後，統治中國二百六十八年之久，統治成功的關鍵在於何者？
- (A)四民平等，充分尊重漢人的政治地位 (B)以黃老治術治理天下，達到無為而治的境界
(C)善於運用懷柔與高壓並濟的治術 (D)徹底高壓統治，肆意屠殺，使漢人不敢反抗
- 32、中國自何時起，白銀大量輸入，銅幣與紙鈔被白銀慢慢取代？
- (A)宋 (B)元 (C)明 (D)清
- 33、現今華僑在東南亞穩固的社會經濟基礎是奠基於哪一個朝代向海外發展的結果？
- (A)唐代開展的東西方海上貿易 (B)宋朝安定大量的國際貿易
(C)明代鄭和七下西洋的基礎 (D)明末鄭家在東南亞的勢力
- 34、宋代隨著社會經濟的恢復，農業和手工業逐漸發展，尤其是因為下列哪一項史實的發生，使糧食生產充足，出現了「蘇常熟，天下足」的說法？
- (A)玉米從美洲傳入中國 (B)引進來自占城的早熟稻
(C)大規模水利建設使可耕地增加 (D)政府獎勵耕織與上戰場殺敵
- 35、北宋真宗初年，國家歲收為2,200萬緡，扣除支出後還有大半剩餘。到王安石變法時，每年歲收高達11,000萬緡，歲用仍不足1,500萬緡，導致民貧乏食，叛亂四起。請問：造成這種現象的原因可能與下列何者「無關」？(註：緡(巾一乚ノ)為古代計量單位，代表10串銅錢。)
- (A)冗官過多，官員薪水支出大 (B)冗兵造成國防經費的龐大壓力
(C)長期對外歲幣支出，積少成多 (D)連年災荒導致國家支出增加
- 36、西晉與明朝都曾因為下列哪一項開國後的政策導致大型戰爭？
- (A)分封皇帝的兒子到各地擔任諸侯王 (B)忽視北方防禦導致外族南侵
(C)外族入侵後導致國家偏安江南 (D)長期災荒於是民亂四起最終亡國
- 37、宋太祖趙匡胤建國後，面對唐末以來藩鎮割據及禁軍將領專權等問題，他最後用了什麼方法避免這些問題再次發生？
- (A)收回將領兵權，以文人治理國家及地方 (B)分封諸子，鎮守各地重要據點
(C)廢除宰相制度，將國家權力集中在皇帝 (D)眾建諸侯，讓地方勢力自然消滅
- 38、有一位史學家黃仁宇認為：「從物質生活講，十二世紀的中國，無疑的已領先世界。」這主要是針對宋代哪一項特色而提出的看法？
- (A)大規模的公賣制度讓國家財政健全 (B)強大的武力能從四周國家中奪取利益
(C)社會安定、科技發達、商業繁榮 (D)高度集權能徹底管控到社會的每一個人
- 39、學校舉辦唐詩朗讀比賽，朗讀的是李白《少年行》：「五陵年少金市東，銀鞍白馬度春風。落花踏盡遊何處？笑入胡姬酒肆中。」請問：這段唐詩描寫的情境，「不」包含下列何者？
- (A)唐代社會貧富差距下的紙醉金迷 (B)唐代社會的開放與融合
(C)盛唐時期社會上的繁華景象 (D)唐朝胡漢融合，四海一家的活力

40、中國歷史上，有些朝代在立國之初，分封同姓宗室鎮守全國重要地區，用以抵禦外患及捍衛王室。後因封建諸王勢力擴大，皇帝進行削藩，引發藩王反抗，雙方爆發戰爭。下列何者即屬於這種類型的動亂？

(A)周代的管蔡之亂 (B)明代的靖難 (C)唐代的安史之亂 (D)清代的三藩之亂

41、右圖為張擇端的以十年時間才完成的《清明上河圖》，是寫實風俗畫的傑作，成功地描繪出汴京城內及近郊在清明時節社會上各階層的生活景象，對人物、建築物、交通工具、樹木、水流之間的相互關係的處理，非常巧妙，具有極大的研究價值。請問：《清明上河圖》所呈現的社會風貌主要為下列何者？



(A)宋代社會兼容各種民族文化的特色，而呈現多元文化色彩
(B)宋代商業經濟十分發達，城市生活風貌多彩多姿
(C)來自不同文化的商品，豐富的宋代民生經濟的面貌
(D)宋朝打通西北絲路，促進歐亞之間貿易的流通

42、外國友人到臺北遊覽觀光，大多喜歡到「士林夜市」品嚐美味的臺灣小吃。在中國歷史上，夜市的興起與下列何者的發展最有關係？

(A)市舶司的設立 (B)紙幣的發明與流通 (C)重商制度的確立 (D)坊市制度的廢除

43、歷史老師要同學們尋找明太祖的資料，結果志明找出了附圖中兩種完全不同形象的明太祖像，會出現這兩種截然不同的面貌，可能是由於明太祖曾實施哪一措施留下負面影響？



民間版本



宮廷版本

(A)設立特務機關 (B)取消宰相制度
(C)減輕民間賦稅 (D)重用宮廷宦官

44、金元晴明是位西元八世紀時的日本學者，他接到命令要求他準備好要出國留學，請問：他的目的地最有可能是下列何處？

(A)新羅 (B)唐朝 (C)吐蕃 (D)越南

45、如月在書上看到下列敘述：「當時私營工廠首推印書廠，由於士人準備科舉考試，因考試格式固定，供他參考的書籍，汗牛充棟。印刷廠效率很高，有的竟以月刊的形式出現。印刷及造紙業都很發達，有些書店還自營造紙工廠。」這種因科舉需要，印刷工廠蓬勃發展的盛況最早出現於何時？

(A)唐代 (B)宋代 (C)元代 (D)明代

46、人民只要通過科舉後，在地方上就具有影響力，雖然不能直接插手地方行政，但地方官員常要和他們共商公共事務，他們也代表民間向政府表達意見，此外他們常要組織百姓，訂定行為規範，要大家共同遵守，官府並容許他們依此懲罰百姓，這些人最可能是下列何者？

(A)周代的貴族 (B)唐代的軍閥 (C)明代的士紳 (D)清代的旗人

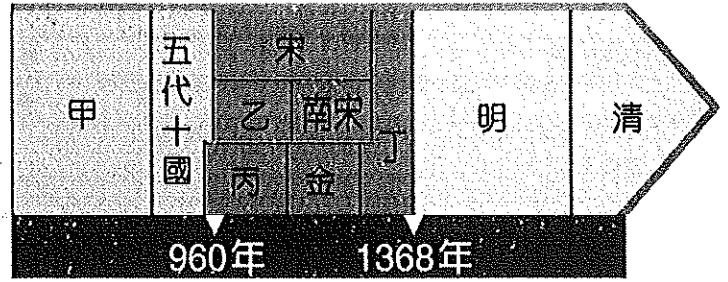
47、一部關於中國社會史的著作寫道：「在北宋初年，從很多名臣的實例來看，婦女改嫁情形屢見，守寡之風並不盛行……到了北宋末，婦女守寡、重視貞操觀念深植社會，成為風習。」這種社會風氣改變的關鍵在於當時的哪一社會現況？

(A)理學盛行 (B)胡漢融合 (C)門閥政治 (D)重視法治

48、宋代海上貿易呈現前所未有的繁榮。請問：促成此一繁榮景象的原因可能與下列何者「無關」？

(A)指南針、羅盤的運用有助於海上航行 (B)國內商業繁榮帶動國際貿易興盛
(C)政府鼓勵海上冒險發展與美洲的貿易 (D)陸上交通被遊牧民族控制，難以聯絡

49、小花讀到：「當時由於坊市制度的廢除、商業經濟的發達，首都汴京成為人口突破百萬的大型城市，富華甲天下。城市街道上，人潮擁擠，到處都有酒樓、茶館，非常熱鬧。」上述的社會現況應是右圖歷史年表中的哪一時期？



(A)甲 (B)乙 (C)丙 (D)丁

50、承上題，如果想研究這時期的社會民生，可以從下列哪本著作略窺一二？

(A)資治通鑑 (B)三國演義 (C)水滸傳 (D)紅樓夢