

基隆市立武崙國民中學一〇七學年度第一學期第三次段考八年級地理科試題卷

注意事項：

1. 本份試卷為單選題，每題 2 分，共 50 題，總分 100 分。
2. 答案卡限用 2B 鉛筆畫記，若畫記錯誤，請擦拭乾淨。分數以電腦讀卡分數為準。
3. 答案卡上的資料欄請確實填寫，若資料欄畫記錯誤導致電腦無法正確判讀，扣總分 10 分。

班級：八年 班座號： 姓名：

() 1. 下列哪些生活方式較可能在中國南部地區見到？(甲)水牛耕水田(乙)高粱田收割(丙)採茶姑娘高唱山歌(丁)逐水草而居的游牧民族

(A)甲乙 (B)乙丙 (C)甲丙 (D)丙丁。

() 2. 中國的經濟特區帶動國內經濟發展，主要是吸收國外哪些優勢：(甲)勞工(乙)技術(丙)市場(丁)資金(戊)經營管理經驗

(A)甲丙 (B)乙丁戊 (C)甲乙丁 (D)丙丁戊。

() 3. 中國水土流失最嚴重的是哪個地形區？(A)青藏高原 (B)黃土高原 (C)雲貴高原 (D)內蒙古高原。

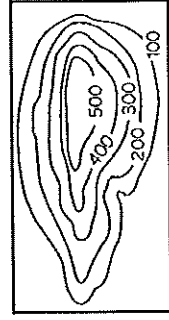
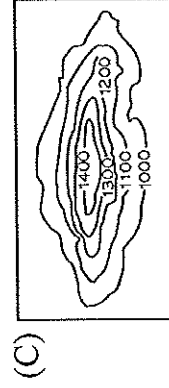
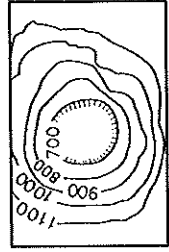
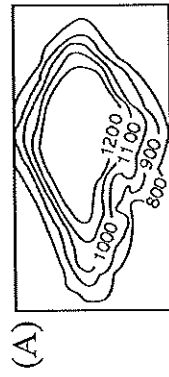
() 4. 近年來，中國高地氣候區的積雪愈來愈少，其原因為何？(A)凍土現象 (B)水土流失 (C)全球暖化 (D)地層下陷。

() 5. 近年來中國為解決水資源不足，進行「南水北調」工程。下列何者不是南水北調帶來的隱憂？(A)北部河川生態改變 (B)北部河川汙染更嚴重 (C)南部河川水位降低，影響用水 (D)南部的工業因此移往北部。

() 6. 生長季是指某地區一年之中作物可以生長的期間。在不考慮其他因素，單就位置判斷，附圖中何處的生長季最長？(A)甲 (B)乙 (C)丙 (D)丁。

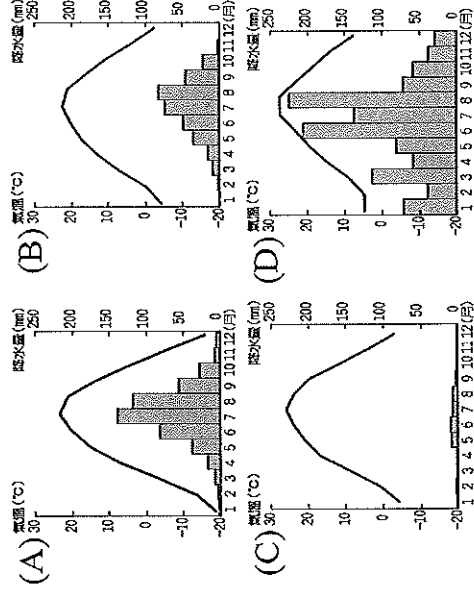


() 7. 茶是中國重要的經濟作物之一，主要產區在長江流域一帶。判讀下列等高線圖，何種地形最適合種植茶樹？

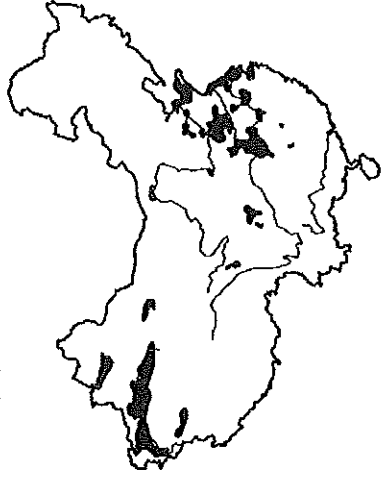


() 8. 中國被譽為「世界工廠」與「世界市場」，與下列哪項因素有關？(A)土地 (B)人口 (C)氣候 (D)原料。

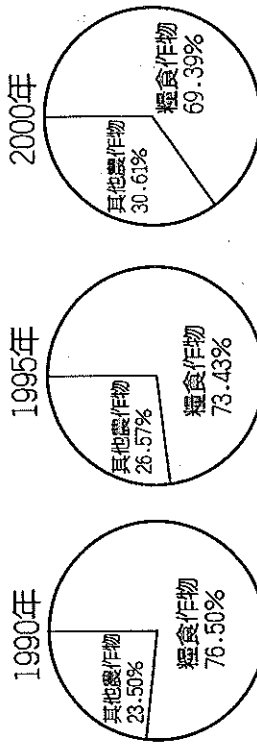
() 9. 「綠洲地區的氣候條件特殊，適合種植瓜果、棉花等經濟作物，已成為當地居民主要的經濟活動之一。」上述的農業活動最有可能出現在下列哪一氣候區？



() 10. 農業活動的分布受到地理條件的影響，附圖為中國某重要農作物分布，依其分布位置判斷，最可能為下列何種農作？(A)甜菜 (B)棉花 (C)甘蔗 (D)茶葉。



() 11. 中國糧食作物種植面積的比例變化如附圖所示。請問：造成比例變化的最主要原因為下列何者？(A)市場需求改變 (B)全球暖化 (C)開放稻米進口 (D)灌溉工程改善。




() 12. 均庭製作一張中國三大經濟帶的比較表，如附表。請問均庭製作的表格中何者錯誤？

項目	東部經濟帶	中部經濟帶	西部經濟帶
(A)經濟特區	5 個	0 個	0 個
(B)勞力狀況	勞力充足	工資較東部低廉	人力缺乏
(C)產值比例	產值最高	產值次之	產值最低
(D)礦產資源	礦產較貧乏	能源礦多	礦產資源豐富

() 13. 柏融在雜誌中看到有關新疆的報導，其內容提及目前新疆的經濟有「黑白雙雄」之稱，「黑」指的是石油，則「白」指的是下列何種經濟作物？(A)甜菜 (B)棉花 (C)甘蔗 (D)茶樹。

() 14. 附圖為中國某牧場購製的設備，從圖中可以看出此牧場經營發展的方向為何？(A)開發休閒牧場，推廣生態教育 (B)企業化經營，提高產量，擴大生產規模 (C)維持傳統畜牧方式，避免傳統文化失傳 (D)發展生物科技產業，研發最新生技產品。

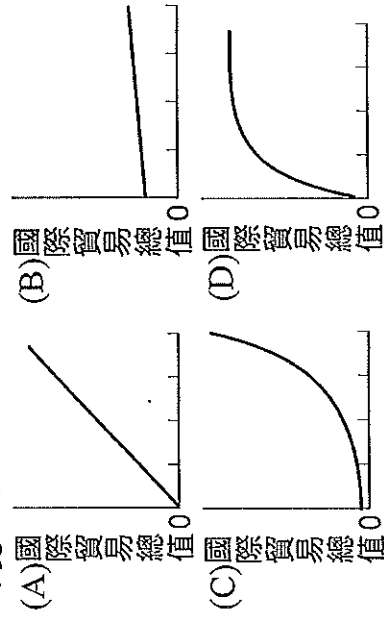


() 15. 中國近年來的經濟發展突飛猛進，東半部的工業發展類型分布如附圖所示，其中華北地區工業類型以鋼鐵汽車產業為主，主要是受到下列何者的影響？(A)勞工多寡 (B)交通設施 (C)礦產資源 (D)市場遠近。



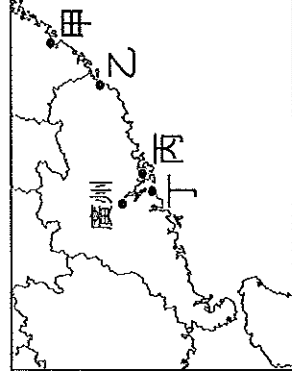
() 16. 中國近年來積極推動「西部大開發」政策，希望加速西部地區的經濟發展，減少區域發展不均的問題。但目前中國西部地區經濟發展面臨最大的挑戰為何？(A)面積狹小 (B)缺乏原料 (C)交通不便 (D)缺乏勞力。

() 17. 中國的國內生產毛額(GDP)位居世界第二，已成為舉足輕重的經濟大國，下列哪張圖最能呈現中國改革開放以來到現在，國際貿易總值的變化？

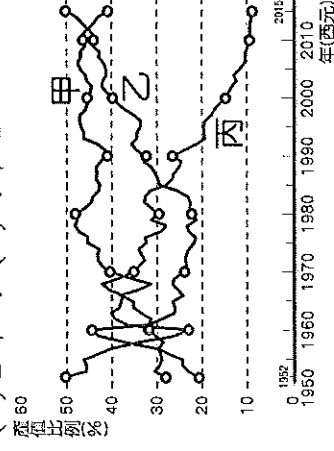


() 18. 臺灣的服務業遠近馳名，近年來紛紛前往中國投資設立據點，如 85°C 及王品集團等。這是由於臺灣服務業看準了中國經濟發展上的哪一項特點？(A)市場廣大 (B)工資低廉 (C)交通便利 (D)技術進步。

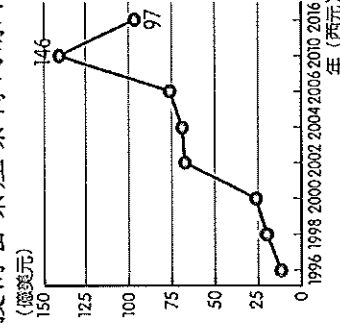
() 19. 中國自 1980 年代起，陸續設立了多個經濟特區，提供各項優惠政策與投資環境，帶動經濟發展。深圳因臨近香港的位置優勢，成為最早設立的經濟特區，請問深圳位於附圖中何處？(A)甲 (B)乙 (C)丙 (D)丁。



() 20. 附圖為中國三級產業產值占 GDP 的比重變化圖，請問：第一級、第二級、第三級產業的 GDP 應分別為附圖的哪條曲線？(A)甲乙丙 (B)甲丙乙 (C)乙甲丙 (D)丙甲乙。



() 21. 附圖為臺灣對中國大陸投資金額的統計圖，從 1996 年至 2010 年，投資金額逐漸增加，且投資的項目出現何種轉變特色？(A)勞力密集產業轉向原料密集產業 (B)動力密集產業轉向資金密集產業 (C)勞力密集產業轉向技術密集產業 (D)技術密集產業轉向原料密集產業。

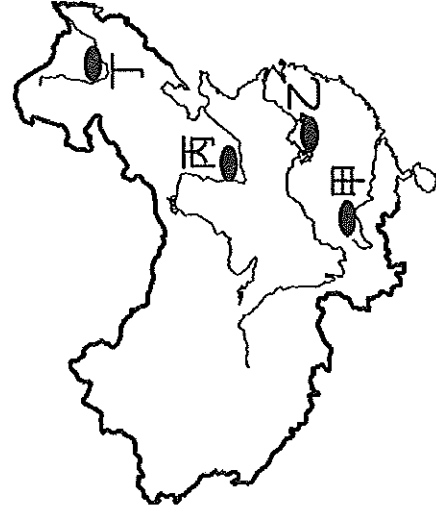


() 22. 承上題，自 2010 年之後，臺商的投資金額快速下滑，請問其主要原因為何？(A)中國工資上漲，低價代工廠轉至東歐國家發展 (B)中國加入 WTO，對臺灣實施關稅壁壘 (C)臺灣工資下滑，臺商轉回國內發展 (D)中資企業興起，臺商競爭力下降。

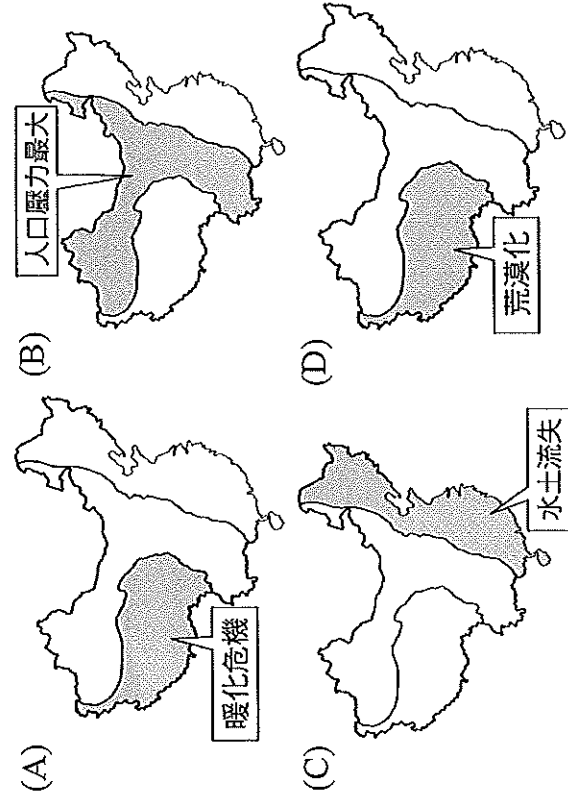
() 23. 附圖為中國四大高原分布圖。圖中哪個地區因人口較多，森林覆蓋率低，土地缺乏植被保護，易被侵蝕，水土流失的問題最為嚴重？(A)甲 (B)乙 (C)丙 (D)丁。



- () 24. 附圖為中國簡圖。圖中哪個地區因「圍湖造田」，造成湖泊面積縮小，對河川流量的調節與蓄洪能力降低，導致水患頻繁？(A)甲 (B)乙 (C)丙 (D)丁。




- () 25. 中國為了擴大區域間的經濟合作，推出「一帶一路」的新政策，根據中國商務部資料顯示僅 2015 年，中國與一帶一路沿線國家進出口貿易總額就達到了 9,950 億美元。請問：一帶一路沿線國家所歸屬的區域中不包括下列何者？(A)歐洲 (B)北美 (C)南亞 (D)非洲。
- () 26. 地理老師拿出中國三級階梯示意掛圖，請同學回答這三區主要的環境問題，下列哪一個答案才是正確的？



- () 27. 中國於西元 2000 年提出「西部大開發」政策後，對於廣大的西部地區帶來莫大的影響。請問：當時中國提出此項政策最主要的目的為何？(A)平衡東西經濟差距 (B)發展中國對外關係 (C)防止外國武力侵犯 (D)加強少數民族文化保存。
- () 28. 承上題，「西部大開發」四大重點工程專案應不包括下列哪項？(A)退田還湖 (B)西電東送 (C)青藏鐵路 (D)西氣東輸。
- () 29. 土地被超限利用後會產生許多環境問題，土地荒漠化就是其中一種。請問：哪些是造成土地荒漠化的原因？(甲)過度砍伐(乙)過度種林地(丙)過度放牧(丁)過度灌溉 (A)甲乙丙 (B)乙丙丁 (C)甲乙丁 (D)甲丙丁。

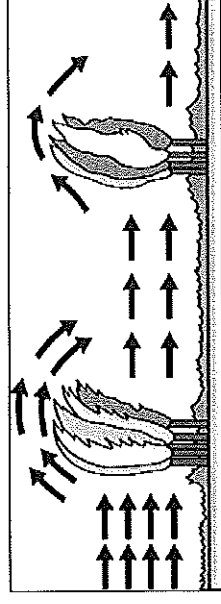
- () 30. 中國的水資源在空間與時間分布上有「南多北少」、「東多西少」及「夏豐冬枯」等特徵，其主要與下列哪項因素關係最密切？(A)地形 (B)季風 (C)產業 (D)緯度。

- () 31. 為減緩水土流失與風沙災害等問題，中國推動「三北防護林」工程，該工程地跨東北、華北和西北地區。一般來說，防風林若要達到最佳的效果，需要和盛行風向呈現垂直的角度，依據該地區的盛行風向判斷，三北防護林的栽植應以何種方向為主？



- () 32. 世界每人平均分配到的水資源為 6,624 立方公尺，而中國的每人平均水資源量卻只有 2,132 立方公尺，主要原因為下列何者？(A)年降水量太少 (B)缺乏河流與湖泊 (C)蒸發量過大 (D)總人口數太多。

- () 33. 地理課堂上張貼一張海報如附圖，箭頭代表風。請問：這張圖裡的措施具有下列何種功能？(A)涵養地下水 (B)防護風沙侵襲 (C)增加降水機率 (D)改善土壤鹽鹼化。



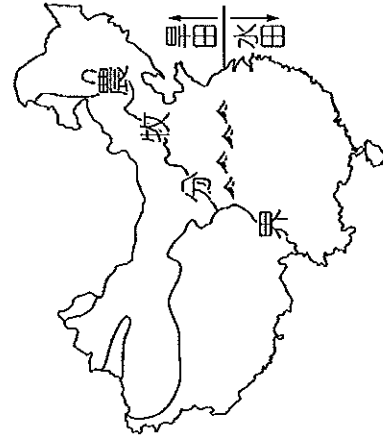
- () 34. 三北防護林、風沙源治理、三峽大壩、以及南水北調，是中國近年實施的四大環境工程，若全部工程順利完工後，受益最大的應是下列哪個城市？(A)北京 (B)上海 (C)重慶 (D)廣州。

※中國為了經濟發展，在特定區域內實行優惠政策，陸續於東南沿海設立深圳、珠海等經濟特區。請問：

- () 35. 這些經濟特區具有哪些共同特色？(甲)鄰近勞工眾多地區(乙)盛產能源礦產(丙)周圍鄰國接壤(丁)近海海運方便。(A)甲乙 (B)乙丙 (C)丙丁 (D)甲丁。

- () 36. 1980 年代，臺灣有許多工廠遷往中國設廠，這些工廠多是因為臺灣哪一項工業生產條件的變化而遷移？(A)礦藏挖掘殆盡 (B)海運交通受阻 (C)勞工工資上漲 (D)生產技術落後。

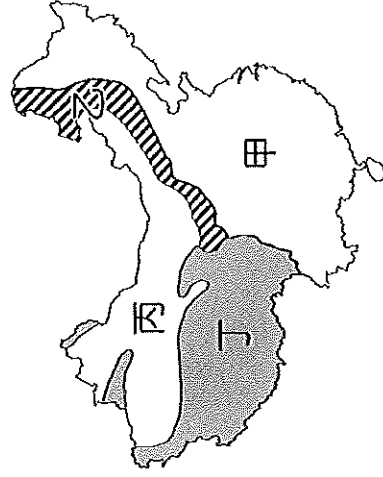
※附圖是中國農牧業分區簡圖，請問：



- () 37. 中國農牧分界線，大致與何線相似？(A)一月均溫 0°C 等溫線 (B)年降水量 250 毫米等雨量線 (C)年降水量 500 毫米等雨量線 (D)年降水量 750 毫米等雨量線。
- () 38. 水田旱田耕作分界線，大致與下表哪兩條線相似？(A)甲丙 (B)甲戊 (C)乙丁 (D)乙戊。

甲	一月均溫 0°C 等溫線
乙	七月均溫 0°C 等溫線
丙	年降水量 250 毫米等雨量線
丁	年降水量 500 毫米等雨量線
戊	年降水量 750 毫米等雨量線

※附圖是中國畜牧分區簡圖，請問：

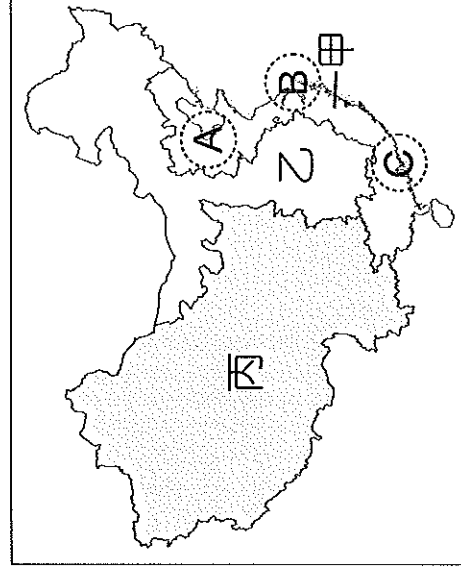


- () 39. 各區的主要畜牧類型配對，下列何者正確？
(A)甲：欄牧 (B)乙：水平游牧 (C)丙：山牧季移 (D)丁：放牧。
- () 40. 丙、丁兩地畜牧方式不同，主要是受到下列哪項因素影響？(A)地形 (B)氣候 (C)土壤 (D)緯度。
- () 41. 附圖中的動物為某地重要的牲畜及食物來源，被稱為「高原之舟」。請問：附圖中動物主要分布於附圖哪一區？(A)甲 (B)乙 (C)丙 (D)丁。



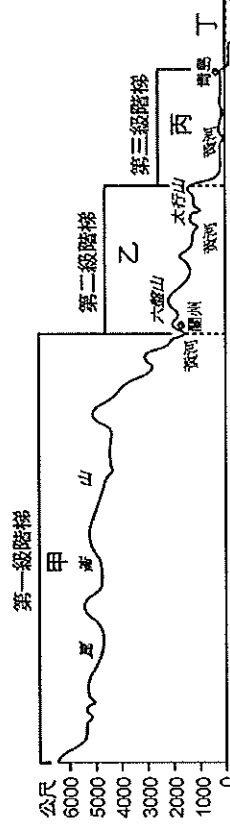
- () 42. 「山牧季移」是高山草原盛行的游牧方式，請問：牧民通常在哪一個季節驅趕牛羊上山？
(A)春 (B)夏 (C)秋 (D)冬。

※下圖中的甲乙丙是中國三大經濟地帶，ABC是中國三大經濟圈的分佈位置。請問：



- () 43. 此三區的對外貿易額大小為何？
(A)甲 $>$ 乙 $>$ 丙 (B)甲 $>$ 丙 $>$ 乙
(C)乙 $>$ 丙 $>$ 甲 (D)丙 $>$ 乙 $>$ 甲。
- () 44. 東部經濟帶包含「環渤海」、「長三角」、「珠三角」三大工業地帶，是中國經濟核心地區。雖擁有眾多的工業區位優勢，但卻缺乏下列哪項區位條件？(A)勞力 (B)資金 (C)市場 (D)原料。
- () 45. ABC三大經濟圈各有代表城市，請問：關於經濟圈與代表城市的配對，何者正確？
(A)「A」：北京、天津 (B)「B」：上海、武漢
(C)「C」：廣州、重慶 (D)「C」：深圳、海南。
- () 46. 以地理位置判斷，下列哪個城市是中國發展西部經濟帶的重點城市？(A)上海 (B)武漢 (C)重慶 (D)廣州。

※下圖為中國三級階梯示意圖，請依圖回答



- () 47. 附圖哪一區因凍土面積大而導致生態環境脆弱、不適合開發？(A)甲 (B)乙 (C)丙 (D)丁。
- () 48. 河川下游地區於乾季出現斷流現象，造成嚴重的環境汙染及用水短缺。請問，上述現象主要發生於圖中何處？(A)甲 (B)乙 (C)丙 (D)丁。

※南水北調是中國重大水利工程，共有三條調水路線。請問：

- () 49. 南水北調的東線工程已於 2002 年開工，此工程主要藉由哪個水利設施來擔負調水重任？
(A)三峽大壩 (B)京杭大運河 (C)丹江口水庫 (D)黃河大堤。
- () 50. 南水北調工程是要將哪個流域的水調往北方，以改善北部區域的缺水問題？(A)黑龍江 (B)珠江 (C)黃河 (D)長江。