

基隆市立武崙國民中學一〇六學年度第一學期第一次段考公民科試題

班級：七年

班

座號：

姓名：

一、選擇題：(1~30 每題 3 分；31~35 每題 2 分)

- ( ) 1. 美珍和美玲是雙胞胎，但兩位的個性完全不同；美珍比較獨立，美玲則愛撒嬌。請問：兩位個性迥異的雙胞胎應該以何種態度來面對自己的生命？(A)尊重萬物的生命 (B)延續生命的價值 (C)面對挑戰、珍惜生命 (D)接納自己、欣賞生命。
- ( ) 2. 國中或高中時期常會出現對某些同學被稱呼「男人婆」、「娘娘腔」等不雅的綽號，代表這個階段的學生常有什麼樣的錯誤觀念或行為？(A)對異性充滿好奇 (B)以攻擊同學為樂 (C)性別刻板印象 (D)不瞭解友愛同學
- ( ) 3. 劉克襄帶著學生到宜蘭拜訪老樹，為罹患樹癌的 210 歲榕樹打氣，鼓勵老樹要活下來。請問：透過對老樹的關懷，可以教導學生面對生命的態度為何？(A)延續生命價值 (B)欣賞生命的獨特性 (C)接納生命的不完美 (D)愛惜生命與尊重生命。
- ( ) 4. 「性別」，不只是單純的「生理性別」，還有「社會性別」，下列哪一項代表的是社會性別？(A)男兒有淚不輕彈 (B)男生的肩膀比較寬厚 (C)女生會有月經 (D)男生會有喉結。
- ( ) 5. 下列哪一句諺語的涵義符合社會的正確價值觀？(A)人不為己，天誅地滅 (B)君子愛財，取之有道 (C)以眼還眼，以牙還牙 (D)人為財死，鳥為食亡。
- ( ) 6. 媒體曾報導過一則新聞：一起跳樓自殺事件，除當事人受重傷之外，還壓死一名路過的賣肉粽小販。其實每個人的生命都是無法取代的，如果我們懂得珍惜、尊重自己和他人的生命，那麼就不會發生如此令人惋惜的事情。請問：下列何人的作法卻缺乏對生命的尊重？(A)珍古德博士推廣關懷環境、動物和社區的行動 (B)因為搬家的緣故，耀欽將家裡養的小狗帶到山上去放生 (C)家美與保育人士共同發起保育海豚的行動 (D)敬凱捲起袖子響應捐血一袋、救人一命的公益活動
- ( ) 7. 下列哪些福利或設施有助於改善婦女工作上可能遇到的窘境？(甲)托育機構的設立 (乙)減免健保費 (丙)設置哺乳室 (丁)婦女福利政策 (A)甲丙丁 (B)乙丙丁 (C)甲乙丙 (D)甲丁
- ( ) 8. 一種自己本身所具備的能力，但是還沒有表現出來，我們稱為什麼？(A)本能 (B)潛能 (C)熱能 (D)動能。
- ( ) 9. 用生命跳舞的許芳宜。從小她只是中段班的學生，十一歲那年第一次參加民俗舞蹈比賽，讓許芳宜發現自己的「天才」，也慢慢愛上舞蹈，經過多年的努力成為國際知名的舞蹈家。請問：許芳宜的表現展現出多元智慧理論中的哪種智能？(A)語文智慧 (B)內省智慧 (C)空間智慧 (D)肢體動覺智慧。
- ( ) 10. 需求層次理論中提到並不是所有的需求都能獲得滿足，當有一些需求無法獲得滿足時，對一個人可能會造成什麼影響？(A)腦力智商受損 (B)得憂鬱症的機率提高 (C)對人生感到絕望 (D)個人的身心發展受到影響。
- ( ) 11. 下列哪些制度與性別平等有關？(甲)同工不同酬 (乙)雇主不得因性別而有差別待遇 (丙)女性受僱者，每月可請生理假一天 (丁)女性員工如果懷孕就應被解僱 (A)甲乙 (B)乙丁 (C)乙丙 (D)甲丁。
- ( ) 12. 社會性別是指社會對於男性或女性，應各自表現出何種行為，所抱持的標準和期望。下列有關社會性別的敘述，何者正確？(A)社會性別是天生的 (B)社會性別又稱為生理性別 (C)社會性別會受到傳統觀念影響 (D)社會性別不受性別刻板印象的塑造。
- ( ) 13. 月梅知道自己已經是癌症末期後，她決定住進醫院的「安寧病房」走完生命的最後旅程。請問：醫院設置「安寧病房」的主要目的為何？(A)增加醫院的收入 (B)做為醫院醫學研究之用 (C)停止一切活動，迎接死神的來臨 (D)尊重個人的生命尊嚴。
- ( ) 14. 下列有關兩性的敘述，何者不符合平等的原則？(A)男女在體能上是有差別的 (B)男女的數理邏輯能力是不分上下的 (C)男女若起衝突，應冷靜，不可因性別判斷雙方的對錯 (D)航海系招生簡章，限男性報考。
- ( ) 15. 以下哪些事件說明生命的無常？(甲)辛樂克颱風風造成的災害 (乙)南亞大海嘯死傷慘重 (丙)網路之狼事件 (丁)四川大地震 (A)甲乙丁 (B)乙丙丁 (C)甲乙丙 (D)甲乙丙丁
- ( ) 16. 教育部發文給各級學校，內容：為保障懷孕女學生受教權，校方應依照規定，包括提供舒適課桌椅、補救教學以及請假或休學等相關措施。依內容判斷，教育部的指示應與下列哪一項法律有關？(A)民法 (B)國民教育法 (C)性別工作平等法 (D)性別平等教育法。
- ( ) 17. 有學者認為廣告若傳達不適當的訊息，可能產生強化性別刻板印象的效果。下列廣告臺詞中，何者最能會產生上述效果？(A)男女需求大不同，營養補充各取所需 (B)健康活靈芝，孝順父母親的最佳選擇 (C)體貼老婆的第一選擇，清淨牌洗衣機 (D)安康保全，守護全家人的平安與幸福。
- ( ) 18. 武崙國中畢業的學長從小雙眼失明，卻能克服人生低潮，勇敢走出戶外，在音樂的領域中找到自我肯定。從上述的例子中，可以帶給我們什麼樣的啟示？(A)欣賞生命、寄託來世 (B)肯定生命、接納不足 (C)尊重生命、無奈接受 (D)享受生命、盡情玩樂。
- ( ) 19. 性別角色或性別刻板印象都是透過學習途徑形成，孩童最早接觸性別角色的場所是下列何處？(A)學校 (B)家庭 (C)公司 (D)傳播媒體。

基隆市立武崙國民中學一〇六學年度第一學期第一次段考公民科試題

班級：七年

班

座號：

姓名：

- ( ) 20. 目前有許多殯儀社公司，開辦「生命教育」課程，提倡「生前契約」，若就「認識生命」來說，它具有何種意義？ (A)以正確的喪葬儀式，能庇蔭後代子孫 (B)讓我們進一步認識死亡，由消極接受轉而積極面對 (C)應用宗教法力，學習延長生命的方法 (D)這只是因應人迷信風水的心理，不值得相信。
- ( ) 21. 台灣超級馬拉松女子紀錄保持人邱淑容，參加為期十八天的法國一一五〇公里超級馬拉松大賽，卻因腳底破皮感染，在第十六天賽程即感右腳極度不適，她堅持忍痛跑完全程，十八天跑完全程後送醫截肢。她堅持跑完全程，希望能跑出最好的成績，她已經達成馬斯洛需求理論中的哪一個需求層次？ (A)生理需求 (B)自我實現需求 (C)安全需求 (D)愛與歸屬需求。
- ( ) 22. 有關《性別工作平等法》的相關規定，下列哪一項敘述是正確的？ (A)禁止雇主在僱用員工時有任何的性別歧視 (B)雇主可以規定女性員工，在懷孕後應自行離職 (C)女性員工有產假八星期，而男性無陪产假 (D)員工可以申請育嬰假，但只限女性可以申請。
- ( ) 23. 嘉義縣長張花冠到警局報案，控告立委陳明文緊緊勾攬她的肩膀，她一直要他手拿開，但並未受到尊重，此舉讓她覺得極為不舒服。上述立委的行為可能涉及下列何種議題？ (A)性侵害 (B)性騷擾 (C)性別混淆 (D)性別角色。
- ( ) 24. 正安的儿子因為車禍導致腦死，他決定化小愛為大愛，將兒子可用的器官捐出來，移植給需要的病人。請問：正安捐贈兒子器官救人的做法是屬於何種生命的特性？ (A)獨特性 (B)有限性 (C)延續性 (D)無常性。
- ( ) 25. 媒體走在時代的前端，然而在文字、圖片與影像的表達過程中，仍不免有性別的刻板印象，下列何者可能會使觀眾產生特定的性別角色形象？ (A)報導男性保母的新聞 (B)報導女性計程車司機的新聞 (C)漫畫書中的美少女總是長髮、大眼、修長雙腿 (D)報導優秀女機師的生平故事。
- ( ) 26. 在認識自我時，應該要注意自己是否有過於自大或自卑的問題，而這就是下列何者所強調的？ (A)自我覺察 (B)安自菲薄 (C)自我實現 (D)自我滿足。
- ( ) 27. 下列關於「個人需求理論」的論述，何者是錯誤的？ (A)個人需求可以分為五個層次，各種需求並無先後順序與高低層次之分 (B)社會需求是指在團體中被接納，能獲得關愛與歸屬感 (C)其中最高的層次是自我實現層次，為人生價值的最高境界 (D)各需求層次中最基本的需求是生理需求。
- ( ) 28. 臺灣在學生自殺的案例中，貧優生也占不少比例，根據案例分析，許多貧優生因為無法調適自己以面對挫敗，常使用很偏激的方式來解決。請問：讓他們選擇走上不歸路是因為哪一種能力的不足？ (A)是非判斷 (B)主動學習 (C)人際溝通 (D)挫折忍耐力。
- ( ) 29. 小董剛進入國中就讀，同學們一一在課堂上自我介紹，下列哪一位同學在自我認識方面需再加強？ (A)大雄：活潑外向、愛打抱不平是我的優點 (B)浩瀚：我最擅長打籃球，希望能參加校隊 (C)建平：我今年十三歲，我的星座是魔羯座 (D)美莉：我的缺點是太內向，也容易自卑。
- ( ) 30. 小英的媽媽鑑於最近性暴力案件頻傳，告訴小英要留意周圍的人，妳認為下列四句話，哪一項是不正確的？ (A)施虐者都是社會低階層的人 (B)親戚也有可能施虐者 (C)施虐者不見得是上年紀的人，有時候同學、朋友也有可能 (D)施虐者的長相未必讓人一看就覺得醜陋、凶狠，有施虐傾向
- ( ) 31. 大雄擅長家政烹飪、小清則擅長數學自然、吉剛擅長體能項目，從上述說明可以印證下列哪一個事實？ (A)有所得必有所失 (B)船到橋頭自然直 (C)天生我才必有用 (D)長江後浪推前浪。
- ( ) 32. 宥綸平時和外婆一起住，父母親在大陸工作，半年才回家一次。雖然居住環境不錯，衣食也無缺，但是他覺得十分寂寞，總是覺得生活缺少什麼。請問：宥綸所無法滿足的是哪一個需求層次？ (A)安全需求 (B)社會需求 (C)尊重需求 (D)自我實現需求。
- ( ) 33. 甲、乙、丙、丁四名同學在課餘時，談論每個人的人生態度時，下列哪些表現是對人生負責與積極的做法？ (甲)追悔過去、幻想未來 (乙)時時反省、不斷學習 (丙)把握生命、活在當下 (丁)認識自我、確立目標 (戊)實現自我、開創人生 (A)甲乙丙丁 (B)甲乙丁戊 (C)乙丙丁戊 (D)甲乙丙丁戊。
- ( ) 34. 不論男性或女性，都應受到平等的對待，享有同等的權利和保障。請問：下列哪一作法違反此種精神？ (A)同工不同酬 (B)女性、男性均可育嬰留職停薪 (C)女性可請產假，男性可請陪產假 (D)具有同等升遷機會。
- ( ) 35. 兩性平權的時代來臨，因性騷擾而遭到法律處分的案件也日益增多，面對性騷擾時應有怎樣的正確態度？ (A)只小心陌生人，熟人毋須提防 (B)穿著清涼的辣妹才會被性騷擾 (C)只有女性才會受到性騷擾 (D)對方的語言或肢體動作讓自己不舒服時，就要開口拒絕。

基隆市立武崙國中 106 學年度第一學期 第一次段考 七年級社會試卷—地理科

本試卷全為單選題，共 45 題。1-10 題每題 3 分，11-45 題每題 2 分，總分 100 分。

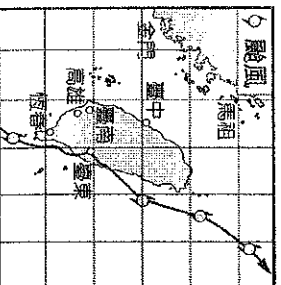
請用 2B 鉛筆依題號在電腦卡上作答，電腦讀卡時無法判斷身分者，扣總分 10 分。

範圍：第一冊到 L.1-2

班級：\_\_\_\_\_ 座號：\_\_\_\_\_ 姓名：\_\_\_\_\_

一、單選題：

- ( ) 1. 下為某颱風路徑圖，圖上颱風在行經臺灣後，它的路線是往哪個方向前進？

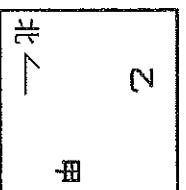


- (A) 東北方 (B) 東南方 (C) 西北方 (D) 西南方

- ( ) 2. 2017 年在臺北舉辦世大運，主辦單位可以如何告知與會的選手臺灣的相對位置？

- (A) 位在東半球、北半球 (B) 位在歐亞大陸東南方，東濱太平洋 (C) 位在東經 120~122 度，北緯 22~25 度 (D) 位在日本與菲律賓南方

- ( ) 3. 下圖中，乙位於甲的哪個方向？



- (A) 東北方 (B) 西北方 (C) 東南方 (D) 西南方

- ( ) 4. (西經 75 度，南緯 20 度) 我們為了使用方便，可以標示成下列哪種形式？

- (A) (75W, 20S) (B) (75E, 20S) (C) (75W, 20N) (D) (75E, 20N)

- ( ) 5. 通過英國格林威治天文臺的經線是下列何者？

- (A) 180 度經線 (B) 東經 90 度 (C) 西經 90 度 (D) 0 度經線

- ( ) 6. 緯度 66.5 度之假想線我們稱之為什麼？

- (A) 赤道 (B) 極圈 (C) 子午線 (D) 本初經線

- ( ) 7. 凱凱是一位在臺南科學園區工作的工程師，有一天他開車經國道到彰化出差，請問以最短的路徑而言，他一定會經過哪一個縣市？

- (A) 苗栗縣 (B) 雲林縣 (C) 台中市 (D) 高雄市

- ( ) 8. 賀伯颱風位置北緯 10 度，東經 125 度，它位於臺灣 (東經 120~122 度，北緯 22~25 度) 的哪個方向？

- (A) 西北方 (B) 東南方 (C) 西南方 (D) 東北方

- ( ) 9. 對於經緯線的描述，下列何者是正確的？

- (A) 每一條經線都是相互平行的 (B) 緯線的長度變化隨著緯度增加而縮短 (C) 經度 0 度的線將地球分為南、北兩半球 (D) 經線的起點度數為 0 度，最大度數 90 度

- ( ) 10. 臺灣職棒選手到日本東京 (140°E) 參加友誼賽，為了配合當地作息，選手們應把手錶做下列哪項調整？

- (A) 撥快 1 小時 (B) 撥慢 1 小時 (C) 撥快 2 小時 (D) 撥慢 2 小時

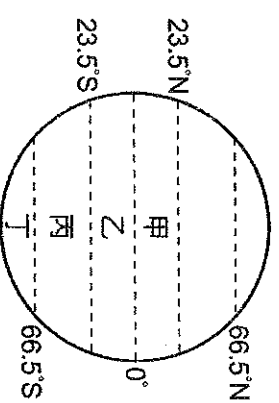
- ( ) 11. 下表為四座島嶼的經緯度位置。請依表中四個地區的經緯度判斷，哪些選項正確？

- (甲) 霍爾島最早迎接日出  
(乙) 白龍島屬於溫帶氣候  
(丙) 千尋島離臺灣最近  
(丁) 娜美島一月是寒冷的冬天

地區	白龍島	千尋島	霍爾島	娜美島
經度	39°E	124°W	175°E	106°W
緯度	42°N	68°S	15°N	34°S

- (A) 甲丙 (B) 甲乙 (C) 乙丙 (D) 乙丁

- ( ) 12. 地表上的中緯度國家，大部分地區因氣候溫和適合人居，請問下圖中何區是屬於此範圍？



- (A) 甲 (B) 乙 (C) 丙 (D) 丁

- ( ) 13. 小花代表臺灣要到巴西里約參加四年一度的奧運比賽，他 83 從臺灣 (東經 120°) 早上 8:00 搭飛機，前往里約 (西經 43°)，到該地是當地 83 早上 10:00。請問阿花在空中飛行多少時間？

- (A) 11 (B) 12 (C) 13 (D) 14 小時

- ( ) 14. 下列哪種形式的地圖因便於結合 GPS 功能，並能應用於行車導航，因而於近年來廣為流行？

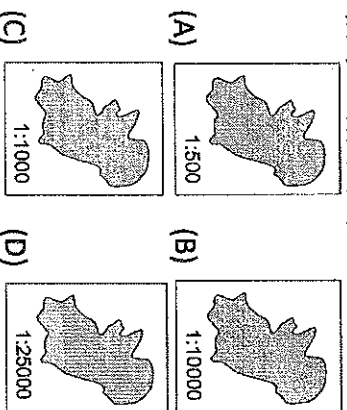
- (A) 方位標 (B) 地球儀 (C) 紙張地圖 (D) 數位電子地圖

- ( ) 15. 為了讓讀者更了解地圖所呈現出來的內容，通常在某些地圖上可看到幾種地圖要素。請問下列圖中表示為何種地圖要素？

- (A) 圖名 (B) 圖例 (C) 方向標 (D) 比例尺

(背後尚有試題)

- ( ) 16. 燴燴到甲乙丙丁四島分別挑戰路跑海岸線一圈(下圖圖片大小皆相等), 假設跑步每小時時速皆相等, 請問燴燴在哪一個島需要花最久的時間?



- ( ) 17. 「旅行, 就從地圖開始。首先找一張世界地圖, 看看所要到的地方, 先找到它的(甲)經度, 了解目的地和臺灣的時差, 再看(乙)緯度初步推測當地的氣候特色。接著閱讀(丙)小比例尺的街道圖, 如果地圖中找不到方位, 則以地圖的(丁)上方表示北方。最後以車站為中心, 依據預定的旅遊時間, 劃定一個區域, 選定旅遊景點。」上列敘述中, 畫線部分哪些是正確的?

- ( ) 18. 在騎自行車環島的行程中, 小瑛的自行車壞了想請人幫忙, 看著手上五十萬分之一的地圖, 發現距離最近的村落是 3 公分。他到該村落的實際距離應是幾公里?

(A) 0.15 公里 (B) 1.5 公里 (C) 15 公里  
(D) 25 公里

- ( ) 19. 下列事件中, 哪些屬於「內營力」作用所造成的?  
(甲)八八風災(乙)冰島艾雅法拉火山噴發(丙)中國西南五省大乾旱(丁)青海玉樹地震

- ( ) 20. 小光在地理課後, 將山地與丘陵兩種地形的特徵加以比較, 但有一部分是錯誤的。曉娟哪個部分寫錯了?

選項	(A)	(B)	(C)	(D)
山地	起伏大	高度高	坡度較大	主要由外營力構成
丘陵	起伏小	高度低	坡度較小	主要由內營力構成

- ( ) 21. 臺灣地表類型中, 沒有下列哪種地形?  
(A) 丘陵 (B) 臺地 (C) 高原 (D) 盆地

- ( ) 22. 分層設色圖是以顏色做為區分, 不同的顏色是代表哪種地理現象的數值範圍?

- ( ) 23. 小布和好朋友出外遊玩時, 不小心發生車禍, 被救護車緊急送往附近的林口長庚醫院。快到達醫院時, 車子先開上一小段山坡, 接著就看到一片開闊平坦的平地, 一眼望去醫院就在不遠處。依上文判斷, 林口長庚醫院最有可能位於哪種地形區上?

(A) 盆地 (B) 丘陵 (C) 臺地 (D) 高原

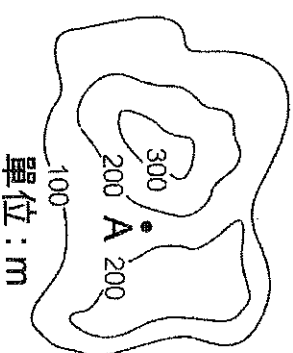
- ( ) 24. 阿誠在某幅等高線地形圖中, 發現某處的等高線是重疊在一起的, 此地可能是哪種地形?

(A) 山脈地形 (B) 高原地形 (C) 懸崖峭壁  
(D) 平原地形

- ( ) 25. 哪種地形的表現方式可用來即時記錄地表資訊、觀測土地利用及變遷的情形?

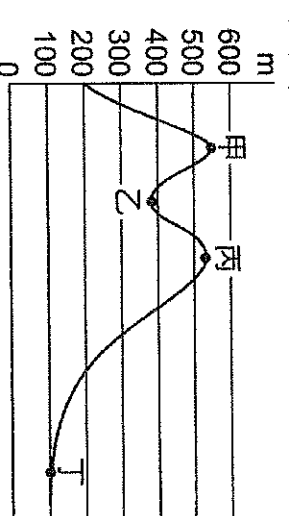
(A) 地形剖面圖 (B) 衛星影像圖 (C) 立體模型圖 (D) 分層設色圖

- ( ) 26. 下圖為某地的等高線地形圖。圖中 A 點高度最有可能為下列何者?



單位: m  
(A) 50m (B) 150m (C) 200m (D) 250m

- ( ) 27. 下圖為某地的地形剖面圖, 請問圖中哪兩地的相對高度最大?

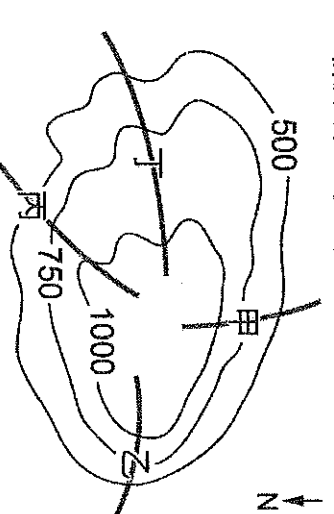


(A) 甲乙 (B) 甲丙 (C) 乙丙 (D) 丙丁

- ( ) 28. 2010 年八八風災造成嚴重走山, 自此順向坡造成大規模山崩才受到重視。另外除了小林村旁的獻肚山之外, 九份, 霧社與梨山亦為臺灣三大深層滑動走山區。請問若發生大規模山崩, 可藉由下列何種工具, 快速知道篩山崩的面積與範圍?

(A) 衛星影像圖 (B) 等高線圖 (C) 地形剖面圖 (D) 分層設色圖

- ( ) 29. 嘸嘸帶奶奶去爬山, 他想選擇甲乙丙丁中最平緩的步道帶奶奶爬到山頂, 請問建議他走下圖中哪一條路線, 最不費力?



(A) 甲 (B) 乙 (C) 丙 (D) 丁

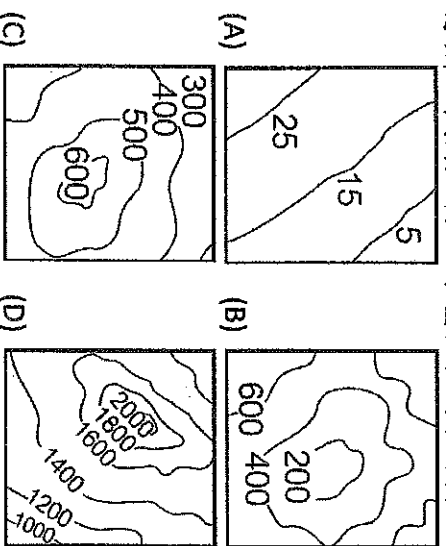
- ( ) 30. 好漢坡的坡度很陡, 若用等高線地圖來表示, 會發現等高線呈現哪種特色?

(A) 等高線分布很稀疏 (B) 等高線呈現很緊密  
(C) 等高線呈現等距的分布 (D) 等高線呈現內密外疏

- ( ) 31. 下列哪項不是臺灣的地形特徵?

(A) 山多坡度陡 (B) 地震、火山多 (C) 風化侵蝕地形多 (D) 本島形狀南北窄東西長

- ( ) 32. 小郁從美國回到臺灣，自桃園搭高鐵回到臺南的家鄉，高鐵一路上不會經過下列哪種地形？



- ( ) 33. 小涵量了一下地圖比例尺，發現從臺中市到花蓮市直線距離大約只有 150 公里，但實際往來兩地卻需要半天的時間，主要是陸上交通受到哪種限制？

- (A) 森林濃密 (B) 河川難渡 (C) 山脈阻隔  
(D) 沼澤難行

- ( ) 34. 花東縱谷為花東地區重要的稻米產地，以地形分類而言為下列何者？

- (A) 山地 (B) 臺地 (C) 盆地 (D) 平原

- ( ) 35. 在臺灣的地形中，所占面積最大的地形為何？

- (A) 山地 (B) 臺地 (C) 高原 (D) 丘陵

- ( ) 36. 臺灣島多高山，地震也很頻繁，主要是哪兩大板塊交互作用所造成的？

- (A) 歐亞板塊、印度——澳洲板塊 (B) 歐亞板塊、菲律賓海板塊 (C) 菲律賓海板塊、太平洋板塊 (D) 太平洋板塊、印度——澳洲板塊

- ( ) 37. 下列哪種地形不是堆積作用所形成的？

- (A) 峽谷 (B) 平原 (C) 沖積扇 (D) 三角洲

- ( ) 38. 臺灣的哪座山脈，其主峰高達 3,952 公尺，是臺灣最高峰？

- (A) 海岸山脈 (B) 中央山脈 (C) 玉山山脈  
(D) 阿里山山脈

- ( ) 39. 臺灣地區面積比較大的嘉南平原與蘭陽平原，大多分布在河川的下游。這些平原是怎麼形成的？

- (A) 河流侵蝕 (B) 海洋侵蝕 (C) 河流堆積  
(D) 河流搬運

- ( ) 40. 國道 5 號壅塞情形，長久以來都是台北接往宜蘭的交通難題。近日除妥善運用「差價分流」來疏通國道擁塞問題外，也有人提出沿著隧道旁再蓋一條北宜直鐵的想法，讓鐵路成為真正的大眾運輸。請問北宜直鐵若興建會貫穿哪一座山脈？

- (A) 中央山脈 (B) 雪山山脈 (C) 阿里山山脈  
(D) 玉山山脈

- ( ) 41. 造成臺灣東部河流短而急促、落差大的主要原因為何？

- (A) 氣候較乾冷 (B) 火山常爆發 (C) 中央山脈偏東 (D) 受東北季風吹拂

- ( ) 42. 河流的作用力是多樣地貌的成因之一。因向下侵蝕強烈而形成的峽谷地形，常在哪個河段中發生？

- (A) 上游 (B) 中游 (C) 下游 (D) 出海口

- ( ) 43. 臺灣高鐵自通車後，有效縮減臺灣南北交通的往來時間，為臺灣民眾帶來更便利的生活。在高鐵的沿線中，看不到下列哪個地理區？

- (A) 桃園臺地 (B) 宜蘭平原 (C) 臺中盆地  
(D) 嘉南平原

- ( ) 44. 下列哪種現象可做為臺灣位於板塊接觸帶的證據？

- (A) 多河流 (B) 多沙灘 (C) 多颱風  
(D) 多地震

- ( ) 45. 請比較沖積扇與三角洲最大的差異為何？

- (A) 沖積扇形成於山麓，三角洲形成於河口 (B) 沖積扇為侵蝕作用，三角洲為堆積作用 (C) 沖積扇土石會依序沉降，三角洲則否 (D) 沖積扇不宜人居，三角洲則人口聚集

(試題結束)

# 基隆市立武崙國中 106 學年度第一學期 第一次段考 七年級社會科試卷——歷史科


電腦讀卡，請使用 2B 鉛筆，並依據題號在答案卡上作答，答案卡無法判斷身分者，扣總分 10 分

範圍：第一冊 L.1-L.2 本試卷共 45 題 共 4 面

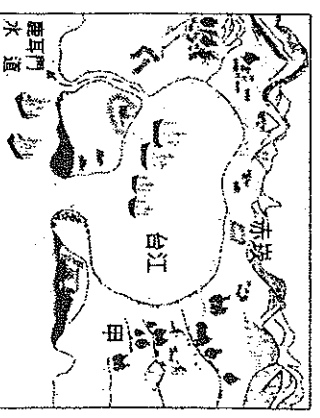
班級：\_\_\_\_\_ 座號：\_\_\_\_\_ 姓名：\_\_\_\_\_

## \*單選題 (第 1-35 題，每題 2 分；第 36-45 題，每題 3 分)

1. 臺灣雖然只有三萬六千平方公里，但卻有豐富的史前文化，如長濱文化、圓山文化、卑南文化。這些文化的命名標準為何？ (A)發現時間的先後 (B)發現人員的名字 (C)發現地點的名稱 (D)依考古命名循環使用
2. 臺灣大約在五萬年前就有人類活動的蹤跡，在推斷臺灣史前時代文化演進過程時，考古學家一般是以下列哪項出土資料作為分期的標準？ (A)人類使用的工具 (B)人類的遺骨多寡 (C)遺址發現的地點 (D)考古遺址的地質
3. 漫畫臺灣史出現右圖漫畫。請問，這兩位同學是在談論以下哪位歷史人物？  
(A)鄭成功 (B)沈有容 (C)鄭芝龍 (D)郭懷一
4. 西拉雅族的信仰有一特殊的儀式，他們會祭祀裝有清水的壺罐，並且插上草葉，象徵對祖靈的崇拜。請問，此舉與下列何者有關？ (A)矮靈信仰 (B)漁團組織 (C)祀壺信仰 (D)豐年祭
5. 十七世紀前期，日本規定其人民不得出海貿易，除了特定國家人士，可到日本貿易經商之外，嚴格禁止其他國家人士到日本，這主要是因為日本實施的何項政策所致？ (A)睦鄰政策 (B)姑息政策 (C)南進政策 (D)鎖國政策



6. 承上題，此政策頒行期間可到日本經商的特定國家，指的是下列何國？  
(A)西班牙、葡萄牙 (B)葡萄牙、荷蘭 (C)荷蘭、中國 (D)中國、英國
7. 右圖是某展覽的簡介，根據內容判斷，此次展覽的主題最可能是下列何者？  
(A)南島語族與臺灣原住民 (B)亞洲大陸及其各種語系 (C)全球化下的語言同化現象 (D)帝國殖民統治的語言政策
8. 臺灣位於哪一海域的南北航線交會之處，因此大航海時代東來的歐洲各國商旅多會行經此處？ (A)西太平洋 (B)東太平洋 (C)大西洋 (D)印度洋
9. 十四世紀中葉，明朝政府實施海禁政策的主要原因是為防範以下何者？ (A)倭寇 (B)荷蘭人 (C)葡萄牙人 (D)西班牙人
10. 巴斯跟家人利用暑假一起到臺灣各地遊玩，順便進行一場歷史之旅，他們參觀了臺東都蘭山邊的史前遺跡，在這裡曾出土了大型石板棺、陶器以及玉器等。這應是下列哪個遺址？ (A)長濱文化 (B)卑南文化 (C)牛罵頭文化 (D)圓山文化
11. Kavalan 在當地原住民語中的意思為「住在平原上的人」，西班牙人以此稱呼當地原住民。後來，由族名轉變為當地地名蛤仔難。十九世紀以後，改譯為下列哪個稱呼？ (A)西拉雅 (B)噶瑪蘭 (C)凱達格蘭 (D)泰雅
12. 于皓在歷史課本上看到一張於西元 1626 年所繪製的古地圖如右圖所示。圖中的「甲」畫的是下列哪一座城堡？  
(A)紅毛城 (B)普羅民遮城 (C)熱蘭遮城 (D)聖多明哥城
13. 承上題，此城在當時所發揮的作用是為下列何者？  
(A)西班牙在台灣行政中心 (B)西班牙在台灣商業市鎮 (C)荷蘭在台灣行政中心 (D)荷蘭在台灣商業市鎮





校面代表我成年囉！

14. 荷治時期，臺灣和日本間的貿易，使得荷蘭人獲利相當豐盛。當時臺灣的主要出口產品以下列何者為主？ (A)茶葉、樟腦 (B)蔗糖、鹿皮 (C)蔗糖、瓷器 (D)絲織品、瓷器
15. 心樂在一本歷史漫畫上看到一張圖片如右。請問，圖中的婦女應該是台灣原住民族群中的哪一族人？ (A)阿美族 (B)卑南族 (C)賽夏族 (D)泰雅族

選項	甲	乙	丙	丁
北部	十三行文化	網形文化	大坌坑文化	圓山文化
中部	萬松文化	—	牛罵頭文化	卑南文化
東部	靜浦文化	長濱文化		

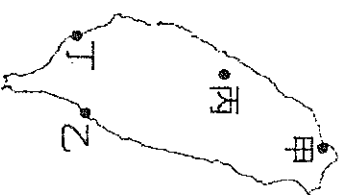
16. 某外國統治者於1593年派遣使者，攜帶一封「高山國招諭書」要求台灣的「高山國王」臣服，但後來因為找不到交涉者，只好原件帶回。此國為下列何者？ (A)葡萄牙 (B)西班牙 (C)荷蘭 (D)日本
17. 胡迪將臺灣史前的重要文化整理出表格如右，若依發展的時間順序排列，下列何者正確？ (A)甲乙丙丁 (B)乙丙丁甲 (C)丙乙甲丁 (D)丁乙甲丙
18. 十六世紀中葉，明朝政府為了維護海上安全，派兵進駐何地，部分走私商人因而轉移到臺灣活動？ (A)金門 (B)廈門 (C)馬祖 (D)澎湖
19. 十三世紀(相當時中國元朝)時，臺灣已有政府設立的官方機構。請問：這是指哪一個機構？ (A)市舶司 (B)巡檢司 (C)承天府 (D)海巡署

20. 台灣原住民族群的傳統信仰為泛靈崇拜，相信世上萬物都有神靈，下列何者是人與神靈溝通的媒介，並且主持著各種祭典？ (A)長老 (B)酋長 (C)巫師 (D)頭目

21. 「臺灣原住民族由於長年生活環境的影響，故與山的關係反而遠比海洋密切，唯一真正屬於海洋民族者，為一離島民族，族人也因而開發出獨樹一幟的文化。這個臺灣離島應位於何處？ (A)澎湖 (B)綠島 (C)金門 (D)蘭嶼。



22. 臺灣在十七世紀時被歐洲人稱讚是一頭好乳牛如右圖所示，其主要原因為何？ (A)富貿易之利 (B)適合養殖乳牛 (C)輸出許多乳製品 (D)進口數量龐大的牛群



23. 延宇：「我星期天去參觀臺灣首座考古博物館喔。」于翔：「哦！我知道，那裡可是臺灣金屬器文化的遺址所在地呢！」這兩位同學所說的地方，應位於右圖中的何處？ (A)甲 (B)乙 (C)丙 (D)丁
24. 承上題，考古學家根據此文化的遺物推論，下列哪一族群的祖先有可能與此文化息息相關？ (A)西拉雅族 (B)噶瑪蘭族 (C)凱達格蘭族 (D)阿美族
25. 荷蘭人在探知西班牙人裁減臺灣北部的駐兵後，於西元1642年出兵，將西班牙人逐出臺灣，獨占全臺。當時西班牙人大量減少駐臺守軍的原因與下列哪件事有關？ (A)西班牙本國遭外患入侵 (B)日本實行鎖國政策 (C)臺灣發生郭懷一事件 (D)原住民強悍難以治理

26. 人類史上的史前時代時間相當的長遠，而歷史時代只有短短幾千年的歷史。劃分史前時代與歷史時代的標準為何？ (A)石器的有無 (B)陶器的有無 (C)是否使用火 (D)文字的有無
27. 世堯到圖書館借了一本臺灣史回家觀看，卻發現有一個地方的人名被少繪塗掉了如右圖。文中缺漏的部分應為何者？ (A)郭懷一 (B)鄭成功 (C)顏思齊 (D)鄭芝龍

1652年9月7日，邀請附近村莊的好友和村長，到家裡商討舉行起義，驅逐荷蘭人的事。他們計劃在9月17日，也就是中秋節的晚上，由邀請荷蘭官吏赴宴，乘機在席間殺死他們。

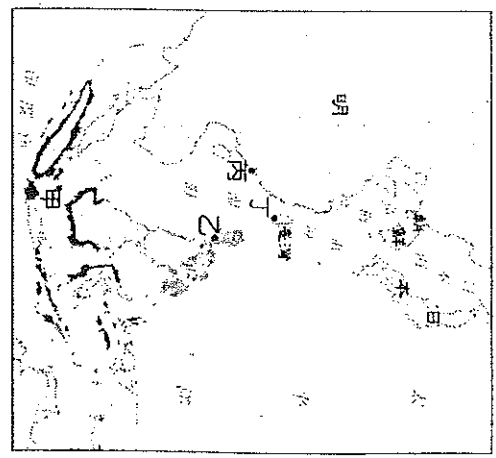
28. 承祐是一名考古系的學生，他隨著老師到田野去挖掘，某天，意外發現許多石器與骨角器，從製作方式來判斷，這些石器幾乎都是敲打而成。請問：承祐發現的石器，應該與下列哪個史前文化最為類似？ (A)卑南文化 (B)長濱文化 (C)大坌坑文化 (D)圓山文化。



29. [右圖]是十七世紀出版的《新約聖經》，其中，右欄的文字是以羅馬字母拼寫臺灣原住民的語言。關於這本《新約聖經》，下列解讀何者正確？ (A)圖中兩種文字分別是英文和荷蘭文 (B)是英國人傳教給當地原住民所設計而成 (C)當時主要是西拉雅族原住民所使用 (D)荷蘭人離台後即無人使用此種文字
30. 承上題，當時教導原住民研讀《新約聖經》的主要是下列何者？ (A)漢人的知識分子 (B)教會的傳教士 (C)各社的長老 (D)政府官員
31. 荷治時期，荷蘭人除了利用臺灣進行貿易活動，他們也曾在臺灣實施經濟措施來獲取利益。關於這些措施，下列敘述何者錯誤？ (A)招募漢人來臺開墾土地 (B)土地全歸東印度公司所有 (C)將臺灣生產的番茄、香料等農作物外銷 (D)漢人必須繳稅才能夠耕種
32. 幾位同學正在討論某個史前文化，[右圖]為其所歸納出該文化的特徵。該史前文化最有可能為下列何者？ (A)長濱文化 (B)大坌坑文化 (C)圓山文化 (D)牛罵頭文化
33. 「原分布於東北部平原，因受到漢人拓墾的影響，不得不往花東海岸一帶遷移，是現今臺灣原住民族群中，唯一的平埔族族群。」請問，老師正在介紹下列哪一族人？

甲、距今約 6,500 至 4,500 年前。  
乙、以狩獵、漁撈、採集為主要的生產活動。  
丙、已經知道種植根莖類作物。  
丁、製造粗繩紋陶器。

- (A)西拉雅族 (B)阿美族 (C)卑南族 (D)噶瑪蘭族
34. 16~17 世紀，歐洲國家紛紛來到亞洲進行貿易，其中，西班牙人來到亞洲之後，便以[右圖]中的何處為根據地，與中國進行貿易？ (A)甲 (B)乙 (C)丙 (D)丁
35. 承上題，哪個國家的商隊曾占領澎湖，但後來卻遭到逼退轉而進占右圖中的丁點？ (A)日本 (B)荷蘭 (C)葡萄牙 (D)西班牙



**題組**

(一)請閱讀以下短文，並回答第 36~38 題

**拉阿魯哇族——聖貝祭**

相傳拉阿魯哇族曾與小矮人共同生活，相處非常融洽，但隨著族人愈來愈多，祖先決定遷居，小矮人很難過，於是就在族人離開時，贈予最珍貴的寶物「貝神」，從此就成為族中之神，並舉行祭典，祈求平安豐收。

貝神共有 12 個，各有不同神力，像是狩獵神保佑族人狩獵時都能獵到獵物、狀元神保佑族人出入頭地、驅癩神能使族人遠離懶惰等。而祭典最重要的是「聖貝薦酒」儀式，將聖貝浸在酒裡，觀察顏色變化，如果變成紅色就表示貝神很開心、喝醉了，意味祭典圓滿成功。

改寫自中國時報 2016/02/20 黃佳琳報導

36. 請問，拉阿魯哇族的居住地位於下列何處？  
(A)南投 (B)高雄 (C)花蓮 (D)台東
37. 拉阿魯哇族於 2014 年 6 月被政府核准承認為台灣原住民族群之一，請問，是為台灣原住民族群的第幾族？  
(A)9 (B)10 (C)13 (D)15
38. 請問拉阿魯哇族的聖貝祭其祭典特性與下列哪一祭典不同？  
(A)矮靈祭 (B)猴祭 (C)飛魚祭 (D)豐年祭



(二)請閱讀以下短文，並回答第39~42題

i u giugi senasena i

今年暑假最振奋人心的莫過於「2017台北世大運——我們的主場」，這是台灣首次舉辦世界大學運動會，中華台北隊也贏得了總牌數第三的好佳績。而世大運主題曲《擁抱世界擁抱你》則是讓國外選手直喊：「太洗腦了！都想跟著一起跳舞了。」尤其是副歌「i u giugi senasena i」更是這些來自世界各地的選手最琅琅上口的一句。這首歌結合原住民歌謠及當今最流行的電音元素，是排灣族人舞炯恩花了兩周作詞作曲的，歌詞為中文結合排灣族語，最夯的這句「i u giugi senasena i」則是「一起來唱歌跳舞」之意。

39. 我們若是想要了解排灣族語，可以跟著舞炯恩造訪他的故鄉。請問，排灣族位處在右圖中的哪一個位置？ (A)A (B)B (C)C (D)D

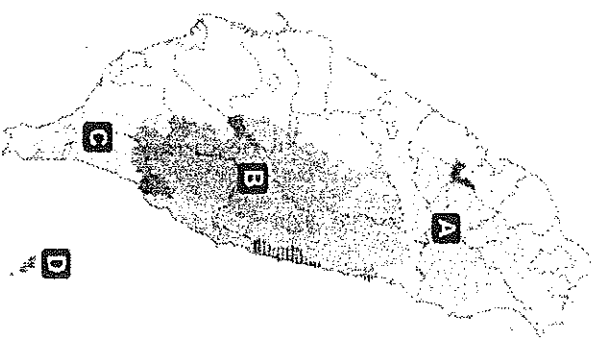
40. 下列有關排灣族的敘述，何者正確？ (A)其社會組織為母系社會 (B)頭目為貴族組織之首 (C)已被考古學家確認為長濱文化人的後代 (D)每年舉行猴祭來培養少年的膽識和殺敵氣概

41. 台灣舉重選手郭婞淳奪得世大運 58 公斤級舉重金牌，挺舉 142 公斤打破大會紀錄與世界紀錄。出身於阿美族的地，結束世大運賽程後，回到家鄉，參加一年一度的原住民傳統競技運動會，擔任運動員宣誓代表。請問，有關阿美族的敘述，下列何者正確？

(A)位處在花東地區 (B)矮靈祭是其一年一度的重要慶典 (C)家族產業由男性優先繼承 (D)十三行文化人有可能是其祖先

42. 有關排灣族與阿美族的敘述，下列何者正確？

(A)兩者在清領時期皆需要向政府繳稅及服勞役 (B)兩者在日治時期皆屬於高砂族 (C)兩者的地理位置皆位於台灣中部 (D)兩者的社會組織型態皆屬於母系社會



(三)請閱讀以下短文，並回答第43~45題

基隆 聖薩爾瓦多城

聖薩爾瓦多城 (Fort San Salvador)，或作聖救主城。於 1626 年開始修築，位置在台灣北部基隆社寮地區之和平島上。1642 年發生雞籠之戰，★軍隊攻打聖薩爾多城，經過激烈砲擊後，該城僅剩西邊稜堡。

聖薩爾瓦多城今日已完全不復見，原址目前為中國造船公司的船塢，日治時期日本學者村上直次郎曾鼓吹保護殘餘堡基，但在二次大戰盟軍轟炸及日軍多次軍港建設，目前認定應該無剩餘任何遺跡。但依據歐式城堡建築都有地下室及地基的慣例，及船塢不需地基，部分學者認為更深的地底仍存部分遺址。

改寫自 維基百科

43. 由文中推論，聖薩爾瓦多城是為哪一國於 1626 年選址於基隆和平島之處開始修築？

(A)荷蘭 (B)葡萄牙 (C)西班牙 (D)英國

44. 文中「1642 年發生雞籠之戰，★軍隊攻打聖薩爾多城，經過激烈砲擊後，該城僅剩西邊稜堡。」請問，★為哪一國？ (A)荷蘭 (B)葡萄牙 (C)西班牙 (D)英國

45. 聖薩爾瓦多城 (Fort San Salvador) 其命名由來與哪一宗教有關？ (A)基督教 (B)天主教 (C)佛教 (D)道教

作答結束後，請再三檢查